

CAREERS 360

PREPARATION **Series**

CBSE Class 12Th

Economics

Previous Year Question Papers

Content

Question Papers for Examination 2025 3

➤ Series: XY1ZW

- Set 1
- Set 2
- Set 3

Question Papers for Examination 2024 72

➤ Series: R1PQS/1

- Set 1
- Set 2
- Set 3

Question Papers for Examination 2023 153

➤ Series: HFG1E/1

- Set 1
- Set 2
- Set 3

Question Papers for Examination 2022 234

➤ Series: AABB3/1

- Set 1
- Set 2
- Set 3

Series : XY1ZW



SET ~ 1



रोल नं.

Roll No.



प्रश्न-पत्र कोड
Q.P. Code

58/1/1

परीक्षार्थी प्रश्न-पत्र कोड को उत्तर-पुस्तिका के मुख-पृष्ठ पर अवश्य लिखें।

Candidates must write the Q.P. Code on the title page of the answer-book.

नोट

- (I) कृपया जाँच कर लें कि इस प्रश्न-पत्र में मुद्रित पृष्ठ 23 हैं।
- (II) कृपया जाँच कर लें कि इस प्रश्न-पत्र में 34 प्रश्न हैं।
- (III) प्रश्न-पत्र में दाहिने हाथ की ओर दिए गए प्रश्न-पत्र कोड को परीक्षार्थी उत्तर-पुस्तिका के मुख-पृष्ठ पर लिखें।
- (IV) कृपया प्रश्न का उत्तर लिखना शुरू करने से पहले, उत्तर-पुस्तिका में यथा स्थान पर प्रश्न का क्रमांक अवश्य लिखें।
- (V) इस प्रश्न-पत्र को पढ़ने के लिए 15 मिनट का समय दिया गया है। प्रश्न-पत्र का वितरण पूर्वाह्न में 10.15 बजे किया जाएगा। 10.15 बजे से 10.30 बजे तक परीक्षार्थी केवल प्रश्न-पत्र को पढ़ेंगे और इस अवधि के दौरान वे उत्तर-पुस्तिका पर कोई उत्तर नहीं लिखेंगे।

NOTE

- (I) Please check that this question paper contains 23 printed pages.
- (II) Please check that this question paper contains 34 questions.
- (III) Q.P. Code given on the right hand side of the question paper should be written on the title page of the answer-book by the candidate.
- (IV) Please write down the serial number of the question in the answer-book at the given place before attempting it.
- (V) 15 minute time has been allotted to read this question paper. The question paper will be distributed at 10.15 a.m. From 10.15 a.m. to 10.30 a.m., the candidates will read the question paper only and will not write any answer on the answer-book during this period.



अर्थशास्त्र
ECONOMICS



निर्धारित समय : 3 घण्टे

Time allowed : 3 hours

अधिकतम अंक : 80

Maximum Marks : 80



• • •

सामान्य निर्देश :

निम्नलिखित निर्देशों को ध्यानपूर्वक पढ़िए और उनका पालन कीजिए :

- (i) इस प्रश्न-पत्र में 34 प्रश्न हैं। सभी प्रश्न अनिवार्य हैं।
- (ii) यह प्रश्न-पत्र दो खण्डों में विभाजित है :
खण्ड-क : समष्टि अर्थशास्त्र
खण्ड-ख : भारतीय आर्थिक विकास
- (iii) इस प्रश्न-पत्र में 20 बहुविकल्पीय प्रकार के प्रश्न हैं। प्रत्येक प्रश्न 1 अंक का है।
- (iv) इस प्रश्न-पत्र में 4 लघु-उत्तरीय प्रकार-I के प्रश्न हैं। प्रत्येक प्रश्न 3 अंकों का है। इन प्रश्नों के उत्तर 60 से 80 शब्दों में लिखे जाने चाहिए।
- (v) इस प्रश्न-पत्र में 6 लघु-उत्तरीय प्रकार-II के प्रश्न हैं। प्रत्येक प्रश्न 4 अंकों का है। इन प्रश्नों के उत्तर 80 से 100 शब्दों में लिखे जाने चाहिए।
- (vi) इस प्रश्न-पत्र में 4 दीर्घ-उत्तरीय प्रकार के प्रश्न हैं। प्रत्येक प्रश्न 6 अंकों का है। इन प्रश्नों के उत्तर 100 से 150 शब्दों में लिखे जाने चाहिए।
- (vii) प्रत्येक प्रश्न के सभी भागों के उत्तर एक साथ लिखे जाने चाहिए।
- (viii) इसके अतिरिक्त, ध्यान दें कि दृष्टिबाधित परीक्षार्थियों के लिए चित्र तथा मानचित्र आदि आधारित प्रश्नों के स्थान पर एक अन्य प्रश्न दिया गया है। इन प्रश्नों के उत्तर केवल दृष्टिबाधित परीक्षार्थी ही लिखें।
- (ix) प्रश्न-पत्र में कोई समग्र विकल्प नहीं है। यद्यपि कुछ प्रश्नों में आंतरिक विकल्प का प्रावधान दिया गया है। इन प्रश्नों में से केवल एक ही प्रश्न का उत्तर लिखा जाए।

खण्ड – क

(समष्टि अर्थशास्त्र)

1. भुगतान संतुलन के चालू खाते लेनदेन के संदर्भ में, निम्नलिखित में से असत्य कथन की पहचान करें : 1

(सही विकल्प का चयन करें)

विकल्प :

- (A) वस्तुओं और सेवाओं के निर्यात को क्रेडिट मदों के रूप में दर्ज किया जाता है।
- (B) वस्तुओं और सेवाओं के आयात को डेबिट मदों के रूप में दर्ज किया जाता है।
- (C) सभी हस्तांतरण भुगतान डेबिट मदों के रूप में दर्ज किए जाते हैं।
- (D) सभी हस्तांतरण प्राप्तियाँ डेबिट मदों के रूप में दर्ज की जाती हैं।



• • •

General Instructions :

Read the following instructions carefully and follow them :

- (i) *This question paper contains **34** questions. **All** questions are **compulsory**.*
- (ii) *This question paper contains **two** sections :*
Section – A : Macro Economics
Section – B : Indian Economic Development
- (iii) *This Question paper contains **20** Multiple Choice type questions. Each question carries **1** mark.*
- (iv) *This Question paper contains **4** Short Answer Type-I questions. Each question carries **3** marks. Answer these questions in **60** to **80** words.*
- (v) *This Question paper contains **6** Short Answer Type-II questions. Each question carries **4** marks. Answer these questions in **80** to **100** words.*
- (vi) *This Question paper contains **4** Long Answer type questions. Each question carries **6** marks. Answer these questions in **100** to **150** words.*
- (vii) *Attempt **all** parts of a question together.*
- (viii) *In addition to this, NOTE that a separate question has been provided for Visually Impaired candidates in lieu of questions having visual inputs, map etc. Such questions are to be attempted by Visually Impaired candidates only.*
- (ix) *There is no overall choice in the question paper. However, an internal choice has been provided in few questions. Only one of the choices in such questions has to be attempted.*

SECTION – A
(Macro Economics)

1. In the context of Current Account transactions of Balance of Payment, identify the incorrect statement from the following : **1**
- (Choose the correct option)

Options :

- (A) Export of goods and services are recorded as credit items.
- (B) Import of goods and services are recorded as debit items.
- (C) All transfer payments are recorded as debit items.
- (D) All transfer receipts are recorded as debit items.



• • •

2. कॉलम-I व कॉलम-II में दी गई मदों में से सही युग्म का चयन कीजिए : 1

कॉलम-I

कॉलम-II

- | | |
|---------------------------|---|
| (a) संपत्ति से आय | (i) वृद्धावस्था पेंशन |
| (b) उद्यमशीलता से आय | (ii) लाभ |
| (c) मिश्रित आय | (iii) नियोक्ता द्वारा प्रदत्त किराया मुक्त आवास |
| (d) कर्मचारियों का मुआवजा | (iv) पूँजी पर ब्याज |

विकल्प :

- | | |
|-----------------|----------------|
| (A) (a) – (i) | (B) (b) – (ii) |
| (C) (c) – (iii) | (D) (d) – (iv) |

3. निम्नलिखित कथनों का ध्यानपूर्वक अध्ययन करें : 1

कथन 1 : प्रबंधित तिरती विनिमय दर प्रणाली स्थिर व नम्य विनिमय दर प्रणाली का एक समामेलन है ।

कथन 2 : प्रबंधित तिरती विनिमय दर प्रणाली को 'हाईब्रिड प्रणाली' के रूप में भी जाना जाता है ।

दिए गए कथनों के आलोक में, निम्नलिखित में से सही विकल्प का चयन कीजिए :

- (A) कथन 1 सत्य है और कथन 2 असत्य है ।
 (B) कथन 1 असत्य है और कथन 2 सत्य है ।
 (C) कथन 1 और 2 दोनों सत्य हैं ।
 (D) कथन 1 और 2 दोनों असत्य हैं ।

4. “इरफान (एक छात्र) ने अपनी कॉलेज की फीस के लिए ₹ 80,000 का ऋण लिया है । वह स्नातक होने के छह माह बाद ऋण चुकाना प्रारंभ करने की योजना बना रहा है, जिसे वह 10 वर्ष की अवधि में चुकाएगा ।”

उपरोक्त गद्य के आधार पर मुद्रा के निर्दिष्ट कार्य की पहचान करें । (सही विकल्प का चयन करें) 1

विकल्प :

- | | |
|---------------------------|------------------|
| (A) विनिमय का माध्यम | (B) खाते की इकाई |
| (C) स्थगित भुगतान का मानक | (D) मूल्य संचय |

5. मान लीजिए, किसी अर्थव्यवस्था का बचत वक्र ₹ 50 करोड़ के ऋणात्मक मूल्य पर अवरोध (intercept) बनता है । अर्थव्यवस्था में, आय में वृद्धि का 20% बचत के रूप में रखा जाता है ।

उपरोक्त संदर्भ के आलोक में, निवेश गुणक (K) के मूल्य की पहचान करें । 1

विकल्प :

- | | |
|--------|---------------------|
| (A) 2 | (B) 5 |
| (C) 10 | (D) (∞) अनंत |



• • •

2. From the items given in Column-I and Column-II, choose the correct pair. 1

Column-I

Column-II

- | | |
|----------------------------------|--|
| (a) Income from Property | (i) Old age pension |
| (b) Income from Entrepreneurship | (ii) Profit |
| (c) Mixed Income | (iii) Rent free accommodation from an employer |
| (d) Compensation of Employees | (iv) Interest from capital |

Options :

- | | |
|-----------------|----------------|
| (A) (a) – (i) | (B) (b) – (ii) |
| (C) (c) – (iii) | (D) (d) – (iv) |

3. Read the following statements carefully : 1

Statement-1 : Managed floating exchange rate system is an amalgamation of fixed and flexible exchange rate system.

Statement-2 : Managed floating exchange rate system is also known as 'hybrid system'.

In the light of the given statements, choose the correct option from the following :

- (A) Statement 1 is true and Statement 2 is false.
(B) Statement 1 is false and Statement 2 is true.
(C) Both Statements 1 and 2 are true.
(D) Both Statements 1 and 2 are false.

4. "Irfaan (a student) borrows ₹ 80,000 to finance his college fee. He plans to begin repaying the loan six months after his graduation, making payments over a span of ten years."

Based on above text, identify the indicated function of money.

(Choose the correct option) 1

Options :

- | | |
|-----------------------------------|---------------------|
| (A) Medium of Exchange | (B) Unit of Account |
| (C) Standard of Deferred Payments | (D) Store of Value |

5. Suppose, the saving curve of an economy makes an intercept at a negative value of ₹ 50 crores. In the economy, 20% of an increase in income is saved.

In the light of above context, identify the value of investment multiplier (K). 1

Options :

- | | |
|--------|-------------------------|
| (A) 2 | (B) 5 |
| (C) 10 | (D) ∞ (infinite) |



• • •

6. निम्नलिखित कथनों-अभिकथन (A) व कारण (R) का अध्ययन करें। नीचे दिए गए विकल्पों में से सही विकल्प का चयन करें :

1

अभिकथन (A) : सार्वजनिक वस्तुएँ वे वस्तुएँ हैं, जिनका उपभोग जनता द्वारा सामूहिक रूप से किया जाता है।

कारण (R) : सार्वजनिक वस्तुएँ बहिष्कृत एवं प्रतिद्वन्द्वात्मक प्रकृति की होती हैं।

विकल्प :

- (A) अभिकथन (A) व कारण (R) दोनों सत्य हैं तथा कारण (R), अभिकथन (A) की सही व्याख्या है।
(B) अभिकथन (A) व कारण (R) दोनों सत्य हैं, लेकिन कारण (R), अभिकथन (A) की सही व्याख्या नहीं करता है।
(C) अभिकथन (A) सत्य है, लेकिन कारण (R) असत्य है।
(D) अभिकथन (A) असत्य है, लेकिन कारण (R) सत्य है।

7. मान लीजिए, औसत उपभोग प्रवृत्ति (APC) का मूल्य 0.8 है तथा राष्ट्रीय आय ₹ 4,000 करोड़ है, तो बचत का मूल्य ₹ _____ करोड़ होगा। (सही विकल्प द्वारा रिक्त स्थान की पूर्ति करें।)

1

विकल्प :

- (A) 100 (B) 200
(C) 500 (D) 800

8. वाणिज्यिक बैंकों के संदर्भ में, निम्नलिखित में से कौन से कथन सत्य हैं ?

1

(सही विकल्प का चयन करें।)

- (I) बैंकों के लिए जमाएँ देनदारियाँ होती हैं।
(II) वे अर्थव्यवस्था में साख सृजक होते हैं।
(III) वे आम जनता से जमा स्वीकार करते हैं।
(IV) वे भारतीय रिज़र्व बैंक की ओर से जमा स्वीकार करते हैं।

विकल्प :

- (A) (I), (II) व (III) (B) (II) व (III)
(C) (I) व (II) (D) (I) व (IV)

9. यदि कोई राष्ट्र ₹ 600 करोड़ का माल निर्यात करता है तथा ₹ 450 करोड़ का माल आयात करता है, तो राष्ट्र के व्यापार संतुलन का मूल्य ₹ _____ करोड़ का _____ होगा।

1

- (A) 150, घाटा (B) 150, अधिशेष
(C) 1,050, घाटा (D) 1,050, अधिशेष



• • •

6. Read the following statements : Assertion (A) and Reason (R). Choose the correct option from those given below : 1

Assertion (A) : Public goods are those goods that are collectively consumed by the public.

Reason (R) : Public goods are excludable and rivalrous in nature.

Options :

- (A) Both Assertion (A) and Reason (R) are true and Reason (R) is the correct explanation of Assertion (A).
(B) Both Assertion (A) and Reason (R) are true, but Reason (R) is not the correct explanation of Assertion (A).
(C) Assertion (A) is true, but Reason (R) is false.
(D) Assertion (A) is false, but Reason (R) is true.
7. Suppose, the value of Average Propensity to Consume (APC) is 0.8 and National Income is ₹ 4,000 crores, the value of saving would be ₹ _____ crores. (Choose the correct option to fill up the blank) 1

Options :

- (A) 100 (B) 200
(C) 500 (D) 800
8. In the context of the Commercial Banks, which of the following statements are correct ? (Choose the correct option) 1
- (I) Deposits received are liabilities for Commercial Banks.
(II) They are creator of credit in the economy.
(III) They accept deposits from general public.
(IV) They accept deposits on behalf of Reserve Bank of India.

Options :

- (A) (I), (II) and (III) (B) (II) and (III)
(C) (I) and (II) (D) (I) and (IV)
9. If a country exports goods worth of ₹ 600 crores and imports goods worth of ₹ 450 crores, the value of Balance of Trade of the country would be _____ of ₹ _____ crores. 1
- (A) deficit, 150 (B) surplus, 150
(C) deficit, 1,050 (D) surplus, 1,050



• • •

10. कॉलम-I व कॉलम-II में दिए गए पदों के समूह में से सही युग्म का चयन करें :

1

कॉलम-I

कॉलम-II

- | | |
|-------------------|---------------------------------|
| (a) गैर-कर राजस्व | (i) वस्तु व सेवा कर |
| (b) अप्रत्यक्ष कर | (ii) मुफ्त खोर (Free-rider) |
| (c) पूँजीगत व्यय | (iii) ऋण |
| (d) निजी वस्तुएँ | (iv) प्रतिद्वंद्वतात्मक प्रकृति |

विकल्प :

- | | |
|-----------------|----------------|
| (A) (a) – (i) | (B) (b) – (ii) |
| (C) (c) – (iii) | (D) (d) – (iv) |

11. (a) साधन लागत पर शुद्ध मूल्य वृद्धि (NVA_{FC}) के मूल्य की गणना करें :

3

क्रम सं.	मर्दे	राशि (₹ करोड़ में)
(i)	परिचालन अधिशेष	3,740
(ii)	रहतिता (unsold stock) में वृद्धि	600
(iii)	बिक्री	10,625
(iv)	कच्चे माल का क्रय	2,625
(v)	स्थायी पूँजी का उपभोग	500
(vi)	उपदान	400
(vii)	अप्रत्यक्ष कर	1,200

अथवा

(b) विदेशों से प्राप्त शुद्ध साधन आय (NFIA) तथा शुद्ध निर्यात ($X - M$) के मध्य अंतर स्पष्ट करें ।

3

12. “सरकार ने देश के विभिन्न भागों में पर्यटन को प्रोत्साहित करने के लिए ‘अतुल्य भारत’ अभियान प्रारंभ किया था ।”

उपरोक्त अभियान के भारतीय विदेशी मुद्रा भंडार तथा भुगतान संतुलन पर पड़ने वाले प्रभावों को विस्तार से उल्लेखित करें ।

3

13. “आयुष्मान भारत योजना के अंतर्गत सरकार समाज के निर्धन वर्ग को निःशुल्क चिकित्सा उपचार उपलब्ध कराती हैं ।”

उपरोक्त कथन में इंगित बजट व्यय की प्रकृति व उसके उद्देश्य की पहचान व व्याख्या करें ।

4

14. मान लीजिए, किसी अर्थव्यवस्था में प्राथमिक जमा ₹ 500 है, यदि आरक्षित अनुपात 25% है । बैंकिंग प्रणाली द्वारा सृजित कुल जमा राशियों तथा कुल उधार (ऋण) का अनुमान लगाएँ ।

4



• • •

10. From the set of terms given in Column-I and Column-II, choose the correct pair :

1

Column-I

Column-II

- | | |
|-------------------------|----------------------------|
| (a) Non-tax Revenue | (i) Goods and Services Tax |
| (b) Indirect Tax | (ii) Free-rider |
| (c) Capital expenditure | (iii) Borrowings |
| (d) Private goods | (iv) Rivalrous in nature |

Options :

- | | |
|-----------------|----------------|
| (A) (a) – (i) | (B) (b) – (ii) |
| (C) (c) – (iii) | (D) (d) – (iv) |

11. (a) Calculate the value of Net Value Added at Factor Cost (NVA_{FC}) :

3

S. No.	Particulars	Amount (In ₹ crore)
(i)	Operating Surplus	3,740
(ii)	Increase in unsold stock	600
(iii)	Sales	10,625
(iv)	Purchase of raw materials	2,625
(v)	Consumption of fixed capital	500
(vi)	Subsidies	400
(vii)	Indirect taxes	1,200

OR

- (b) Distinguish between Net Factor Income from Abroad (NFIA) and Net Exports ($X - M$).

3

12. “The Government had launched Incredible India Campaign to promote tourism in various parts of the country.”

Elaborate the impact of this campaign on foreign exchange reserves and Balance of Payment of India.

3

13. “Under the Ayushman Bharat Scheme, the government provides free medical treatment to the poorer section of the society.”

Identify and explain the nature of budget expenditure and its objective, indicated in the given statement.

4

14. Suppose in an economy, primary deposits are ₹ 500, if the Reserve Ratio is 25%. Estimate the total deposits created and the total lending by the banking system.

4



• • •

15. (a) एक अर्थव्यवस्था में; $C = 200 + 0.75 Y$ (जहाँ C = उपभोग व्यय है, तथा Y = राष्ट्रीय आय है) 4
निवेश व्यय = ₹ 4,000 करोड़ है।
निम्नलिखित की गणना करें :
(i) आय का संतुलन स्तर
(ii) आय के संतुलन स्तर पर कुल उपभोग व्यय

अथवा

(b) प्रत्याक्षित बचत के प्रत्याक्षित निवेश से अधिक होने की स्थिति में समायोजन तंत्र की व्याख्या करें। 4
16. निम्नलिखित गद्य का ध्यानपूर्वक अध्ययन करें :
केन्द्रीय खाद्य व उपभोक्ता मामले के मंत्री ने कहा कि, सरकार ने खाद्य वस्तुओं की खुदरा (retail) कीमतों को नियंत्रित करने के लिए विगत वर्षों में कई सक्रिय कदम उठाए हैं। उन्होंने कहा कि, सरकार का लक्ष्य राष्ट्र की आर्थिक वृद्धि से समझौता किए बिना मुद्रास्फीति को नियंत्रण में रखना है। नवंबर 2023 में खुदरा मुद्रास्फीति 5.55% के तीन माह के उच्चतम स्तर पर पहुँच गई, जो कि खाद्य पदार्थों की बढ़ती कीमतों के कारण है। अगस्त 2023 में मुद्रास्फीति में गिरावट आयी थी, जब यह 6.83% पर पहुँच गई थी। आवश्यक वस्तुओं की थोक (wholesale) व खुदरा (retail) मूल्यों पर कड़ी निगरानी रखने हेतु केन्द्र सरकार ने 140 नए मूल्य निगरानी केन्द्र स्थापित किए हैं।
सरकार ने गेहूँ, टूटे चावल, गैर-बासमती सफेद चावल, प्याज आदि कई खाद्य पदार्थों के निर्यात पर प्रतिबंध लगा दिया है। घरेलू आपूर्ति को प्रोत्साहित करने के लिए तथा मूल्य वृद्धि को नियंत्रित करने के लिए सरकार ने तिलहन व दलहन पर आयात शुल्क भी कम कर दिया है।
उपरोक्त गद्य व सामान्य ज्ञान के आधार पर निम्नलिखित प्रश्नों के उत्तर दें :
(a) सरकार द्वारा स्थापित नए मूल्य निगरानी केन्द्रों की संख्या बताएँ। 1
(b) घरेलू आपूर्ति को प्रोत्साहित करने व मूल्यों में कमी लाने के लिए सरकार द्वारा उठाए गए किन्हीं दो सक्रिय उपायों का उल्लेख करें। 2
(c) मुद्रास्फीति को नियंत्रित करने के लिए प्रयुक्त किसी एक मौद्रिक उपाय की व्याख्या करें। 3
17. (a) (i) व्यय विधि द्वारा राष्ट्रीय आय की गणना करते समय अपनाई जाने वाली किन्हीं दो सावधानियों की व्याख्या करें। 3
(ii) “उच्च सकल घरेलू उत्पाद (GDP) का अर्थ सदैव अर्थव्यवस्था में वस्तुओं की प्रति व्यक्ति अधि-उपलब्धता होता है।” 3
उपरोक्त कथन का उस देश के लोगों के कल्याण के सूचकांक के रूप में समर्थन अथवा खंडन करें।

अथवा

(b) (i) उपयुक्त उदाहरणों द्वारा, स्टॉक व प्रवाह चरों में अंतर स्पष्ट करें। 3
(ii) राष्ट्रीय आय (NNP_{FC}) का अनुमान लगाने की आय विधि के अनुसार ‘लाभ’ के घटकों की व्याख्या करें। 3



• • •

15. (a) In an economy ; $C = 200 + 0.75 Y$ (where C is consumption expenditure and Y is National Income). Investment expenditure is ₹ 4,000 Crore. 4
Calculate the following :
(i) Equilibrium level of income.
(ii) Total consumption expenditure at equilibrium income level.

OR

- (b) Explain the adjustment mechanism in case ex-ante savings are greater than ex-ante investments. 4

16. Read the following text carefully :

Union Food and Consumer Affairs Minister said that the Central Government has taken many proactive steps in the past few years to control retail prices of food items. He said that the government aims to keep inflation under control without compromising the country's economic growth. Retail inflation inched up to a three-month high of 5.55% in November 2023 driven by higher food prices. Inflation has been declining since August 2023, when it touched 6.83%. 140 new price monitoring centres had been set up by the Central Government to keep a close watch on wholesale and retail prices of essential commodities.

The Government has banned the export of many food items like wheat, broken rice, non-basmati white rice, onions etc. It has also reduced import duties on edible oils and pulses to boost domestic supply and control price rise.

On the basis of the given text and common understanding, answer the following questions :

- (a) Mention the number of new price monitoring centres set up by government. 1
(b) State any two proactive measures taken by government to boost domestic supply and reduction in prices. 2
(c) Explain any one monetary measure used to control inflation. 3
17. (a) (i) Explain any two precautions to be adopted while estimating National Income by Expenditure method. 3
(ii) "Higher Gross Domestic Product (GDP) always means higher per capita availability of goods in the economy." 3
Defend or refute the given statement as the index of welfare of the people of that country.
- OR**
- (b) (i) Distinguish between Stock and flow variables, using suitable examples. 3
(ii) Explain the components of 'Profit' as per Income Method of estimating National Income (NNP_{FC}). 3



• • •

खण्ड – ख

(भारतीय आर्थिक विकास)

18. चीन में ग्रेट लीप फॉरवर्ड का प्राथमिक केन्द्र _____ क्षेत्रक था । 1
(सही विकल्प द्वारा रिक्त स्थान की पूर्ति करें ।)

विकल्प :

- | | |
|-------------|--------------|
| (A) कर | (B) औद्योगिक |
| (C) वित्तीय | (D) शिक्षण |

19. निम्नलिखित चित्र का अध्ययन करें : 1



उन विगत घटनाओं की पहचान व चयन करें, जिनमें संसाधनों की माँग उनकी आपूर्ति से अधिक हो गई है ।

विकल्प :

- | | |
|-------------------|----------------------|
| (A) आर्थिक विकास | (B) पर्यावरणीय संकट |
| (C) तकनीकी उन्नति | (D) सांस्कृतिक विकास |

नोट : निम्नलिखित प्रश्न केवल दृष्टिबाधित परीक्षार्थियों के लिए प्रश्न संख्या 19 के स्थान पर है ।

पहचान करें, निम्नलिखित में से कौन सी धारणीय विकास की रणनीतियों में से एक नहीं है ।

विकल्प :

- | |
|--|
| (A) ऊर्जा के गैर-परंपरागत स्रोतों का उपयोग |
| (B) परिवहन के लिए जीवाश्म ईंधन का उपयोग |
| (C) पारंपरिक ज्ञान का उपयोग |
| (D) जैविक कम्पोस्ट खाद का उपयोग |



• • •

SECTION – B
(Indian Economic Development)

18. _____ sector was the primary focus of the Great Leap Forward in China. 1

(Fill up the blank with correct option)

Options :

- | | |
|---------------|-----------------|
| (A) Tax | (B) Industrial |
| (C) Financial | (D) Educational |

19. Study the following picture : 1



Identify and select, the recent phenomenon in which demand for resources surpasses their supply.

Options :

- | | |
|-------------------------------|--------------------------|
| (A) Economic growth | (B) Environmental crisis |
| (C) Technological advancement | (D) Cultural evolution |

Note : The following question is for the visually impaired candidates only, in lieu of Q. No. 19.

Identify, which of the following is NOT one of the strategies for Sustainable Development. 1

Options :

- (A) Use of non-conventional sources of energy
- (B) Use of fossil fuel for transportation
- (C) Use of traditional knowledge
- (D) Use of organic compost manure



• • •

20. निम्नलिखित कथनों का ध्यानपूर्वक अध्ययन करें : 1

कथन-1 : कार्यरत व्यक्ति नियमित वेतनभोगी कर्मचारी या आकस्मिक कर्मचारी हो सकते हैं ।

कथन-2 : भारत के ग्रामीण क्षेत्रों में नियमित वेतनभोगी रोजगारी रोजगार का एक प्रमुख स्रोत है ।

दिए गए कथनों के आलोक में, निम्नलिखित में से सही विकल्प का चयन कीजिए :

(A) कथन 1 सत्य है और कथन 2 असत्य है ।

(B) कथन 1 असत्य है और कथन 2 सत्य है ।

(C) कथन 1 और 2 दोनों सत्य हैं ।

(D) कथन 1 और 2 दोनों असत्य हैं ।

21. नीचे दिए गए कॉलम-I व कॉलम-II में दिए गए पदों में से सही युग्म का चयन करें : 1

कॉलम-I

कॉलम-II

- | | |
|--|---|
| (i) उपदान | (a) आयात की जा सकने वाली वस्तुओं की अधिकतम सीमा |
| (ii) भूमि सीमा निर्धारण | (b) IPR 1956 का तत्त्व |
| (iii) लघु उद्योग | (c) जुताई करने वालों के लिए भूमि |
| (iv) पंचवर्षीय योजना के उद्देश्य के रूप में आधुनिकीकरण | (d) सामाजिक दृष्टिकोण में परिवर्तन |

विकल्प :

(A) (i) – (a)

(B) (ii) – (b)

(C) (iii) – (c)

(D) (iv) – (d)

22. 'यह अल्पकालिक बेरोजगारी है, जो लोगों के एक नौकरी से दूसरी नौकरी में जाने के कारण उत्पन्न होती है ।' दी गई परिभाषा के आधार पर इंगित बेरोजगारी के प्रकार की पहचान कीजिए । (सही विकल्प का चयन करें) 1

विकल्प :

(A) प्रच्छन्न बेरोजगारी

(B) मौसमी बेरोजगारी

(C) खुली बेरोजगारी

(D) घर्षणात्मक बेरोजगारी



• • •

20. Read the following statements carefully : 1

Statement-1 : Hired workers may be regular salaried workers or casual workers.

Statement-2 : Regular salaried employment is a major source of employment in rural areas in India.

In the light of the given statements, choose the correct option from the following :

- (A) Statement 1 is true and Statement 2 is false.
(B) Statement 1 is false and Statement 2 is true.
(C) Both Statements 1 and 2 are true.
(D) Both Statements 1 and 2 are false.
21. From the terms given below in Column-I and Column-II, choose the correct pair of statements : 1

Column-I

Column-II

- | | |
|--|--|
| (i) Subsidies | (a) Maximum quantity of goods that can be imported |
| (ii) Land ceiling | (b) Element of IPR 1956 |
| (iii) Small Scale Industries | (c) Land to the tiller |
| (iv) Modernisation as a goal of five year plan | (d) Change in social outlook |

Options :

- (A) (i) – (a) (B) (ii) – (b)
(C) (iii) – (c) (D) (iv) – (d)
22. “It is short-term unemployment occurring, as people transit between jobs.”
On the basis of given definition, identify the type of unemployment indicated. (Choose the correct option) 1

Options :

- (A) Disguised Unemployment
(B) Seasonal Unemployment
(C) Open Unemployment
(D) Frictional Unemployment



• • •

23. निम्नलिखित कथनों-अभिकथन (A) व कारण (R) का ध्यानपूर्वक अध्ययन करें। नीचे दिए गए विकल्पों में से सही विकल्प का चयन करें :

1

अभिकथन (A) : आर्थिक सुधारों से पूर्व, चीन द्वारा सामाजिक संरचना पर सार्वजनिक निवेश के परिणामस्वरूप बेहतर मानव विकास संकेतक (HDI) प्राप्त हुए थे।

कारण (R) : चीन कई मानव विकास संकेतकों (HDI) में भारत व पाकिस्तान से आगे है।

विकल्प :

- (A) अभिकथन (A) व कारण (R) दोनों सत्य हैं तथा कारण (R), अभिकथन (A) की सही व्याख्या है।
 (B) अभिकथन (A) व कारण (R) दोनों सत्य हैं, लेकिन कारण (R), अभिकथन (A) की सही व्याख्या नहीं करता है।
 (C) अभिकथन (A) सत्य है, लेकिन कारण (R) असत्य है।
 (D) अभिकथन (A) असत्य है, लेकिन कारण (R) सत्य है।

24. निम्नलिखित चित्र का ध्यानपूर्वक अध्ययन करें :

1



उस व्यापार पद्धति की पहचान करें, जिसने विदेशी वस्तुओं को घरेलू उत्पादन से सफलतापूर्वक प्रतिस्थापित कर दिया है।

विकल्प :

- (A) निर्यात संवर्धन (B) निर्यात प्रतिस्थापन
 (C) आयात प्रसार (D) आयात प्रतिस्थापन

नोट : निम्नलिखित प्रश्न केवल दृष्टिबाधित परीक्षार्थियों के लिए प्रश्न संख्या 24 के स्थान पर है।

_____ उस व्यापार नीति को संदर्भित करता है, जिसका उद्देश्य वस्तुओं के घरेलू उत्पादन को प्रोत्साहित करके आयातित वस्तुओं पर निर्भरता को कम करना है।

1

विकल्प :

- (A) निर्यात संवर्धन (B) निर्यात प्रतिस्थापन
 (C) आयात प्रतिस्थापन (D) आयात प्रसार



• • •

23. Read the following statements carefully : Assertion (A) and Reason (R).
Choose the correct option from those given below :

1

Assertion (A) : Prior to economic reforms, public investment in social infrastructure by China resulted in better Human Development Indicators (HDI).


Reason (R) : China is ahead of India and Pakistan on many Human Development Indicators (HDI).

Options :

- (A) Both Assertion (A) and Reason (R) are true and Reason (R) is the correct explanation of Assertion (A).
(B) Both Assertion (A) and Reason (R) are true, but Reason (R) is not the correct explanation of Assertion (A).
(C) Assertion (A) is true, but Reason (R) is false.
(D) Assertion (A) is false, but Reason (R) is true.

24. Study the following image carefully :

1



Identify, the trade practice that has successfully replaced foreign goods with domestic production.

Options :

- (A) Export Promotion (B) Export Substitution
(C) Import Proliferation (D) Import Substitution

Note : The following question is for the visually impaired candidates only, in lieu of Q. No. 24.

_____ refers to a trade policy aimed at reducing reliance on imported goods by encouraging domestic production.

1

Options :

- (A) Export Promotion (B) Export Substitution
(C) Import Substitution (D) Import Proliferation



• • •

25. कॉलम-I में दिए गए निम्नलिखित पदों का कॉलम-II में दिए गए अर्थ से मिलान करें :

1

कॉलम-I

कॉलम-II

- | | |
|--------------------------|--|
| (a) मानव विकास संकेतक | (i) कानून का शासन |
| (b) जनसांख्यिकीय संकेतक | (ii) संवैधानिक संरक्षण |
| (c) विशेष आर्थिक क्षेत्र | (iii) अतिरिक्त आर्थिक गतिविधियों का सृजन |
| (d) कम्यून प्रणाली | (iv) सामूहिक औद्योगीकरण |

विकल्प :

- | | |
|-----------------|----------------|
| (A) (a) – (i) | (B) (b) – (ii) |
| (C) (c) – (iii) | (D) (d) – (iv) |

26. निम्नलिखित कथनों-अभिकथन (A) व कारण (R) का ध्यानपूर्वक अध्ययन करें। नीचे दिए गए विकल्पों में से सही विकल्प का चयन करें :

1

अभिकथन (A) : मानव पूँजी निर्माण आर्थिक गतिविधियों में जनसंख्या की भागीदारी दर में वृद्धि करता है तथा आर्थिक विकास को प्रोत्साहित करता है।

कारण (R) : भागीदारी दर किसी राष्ट्र की उत्पादन प्रक्रिया में संलग्न व्यक्तियों के प्रतिशत को संदर्भित करती है।

विकल्प :

- (A) अभिकथन (A) व कारण (R) दोनों सत्य हैं तथा कारण (R), अभिकथन (A) की सही व्याख्या है।
- (B) अभिकथन (A) व कारण (R) दोनों सत्य हैं, लेकिन कारण (R), अभिकथन (A) की सही व्याख्या नहीं करता है।
- (C) अभिकथन (A) सत्य है, लेकिन कारण (R) असत्य है।
- (D) अभिकथन (A) असत्य है, लेकिन कारण (R) सत्य है।

27. भारत निम्नलिखित में से किस क्षेत्रीय/वैश्विक आर्थिक समूह का सदस्य नहीं है ?

1

- | | |
|---------------------|-------------------|
| (A) ब्रिक्स (BRICS) | (B) सार्क (SAARC) |
| (C) G-20 | (D) G-7 |



• • •

25. From the following terms given in Column-I, match the correct pair of meaning given in Column-II :

1

Column-I

Column-II

- | | |
|---------------------------------|--|
| (a) Human Development Indicator | (i) Rule of Law |
| (b) Demographic Indicator | (ii) Constitutional Protection |
| (c) Special Economic Zone | (iii) Generation of additional economic activities |
| (d) Commune System | (iv) Collective industrialisation |

Options :

- | | |
|-----------------|----------------|
| (A) (a) – (i) | (B) (b) – (ii) |
| (C) (c) – (iii) | (D) (d) – (iv) |

26. Read the following statements carefully : Assertion (A) and Reason (R). Choose the correct option from those given below :

1

Assertion (A) : Human capital formation increases the rate of participation of population to economic activities and leads to economic growth.

Reason (R) : Rate of participation of people refers to the percentage of people engaged in production process of a country.

Options :

- (A) Both Assertion (A) and Reason (R) are true and Reason (R) is the correct explanation of Assertion (A).
- (B) Both Assertion (A) and Reason (R) are true, but Reason (R) is not the correct explanation of Assertion (A).
- (C) Assertion (A) is true, but Reason (R) is false.
- (D) Assertion (A) is false, but Reason (R) is true.

27. India is NOT a member of which of the following regional/global economic grouping ?

1

- | | |
|-----------|-----------|
| (A) BRICS | (B) SAARC |
| (C) G-20 | (D) G-7 |



• • •

28. (a) “विगत समयावधि में सहकारी समितियों को झटका लगा है।”
उपरोक्त कथन का वैध स्पष्टीकरण द्वारा औचित्य सिद्ध करें। 3

अथवा

- (b) शहरी क्षेत्रों की तुलना में ग्रामीण क्षेत्रों में नियमित वेतनभोगी कर्मचारियों की कम संख्या के पीछे के कारणों की व्याख्या करें। 3
29. मानव पूँजी व आर्थिक विकास के मध्य संबंध स्थापित करें। 3

30. (a) “जैव कीटनाशक हरित क्रांति के मृदा व जल निकायों पर दुष्प्रभावों को सीमित करने में सहायता करते हैं तथा धारणीय विकास को प्रोत्साहित करते हैं।”
उपरोक्त कथन का वैध स्पष्टीकरण द्वारा औचित्य सिद्ध करें। 3
- (b) अवशोषण क्षमता को परिभाषित करें। 1

31. (a) भारतीय अर्थव्यवस्था के योजना उद्देश्य के रूप में ‘आत्म-निर्भरता’ के चयन के पीछे के तर्कों का संक्षिप्त वर्णन करें। 4

अथवा

- (b) व्याख्या करें कि, किस प्रकार वस्तु व सेवा कर (GST) ने वस्तुओं व सेवाओं पर करों की बहुलता को सरल बना दिया है। 4
32. पाकिस्तान द्वारा अपने आर्थिक विकास पथ के लिए उठाए गए विकासात्मक कदमों का वर्णन करें। 4

33. (a) मान्य कारणों द्वारा उल्लेखित करें कि, निम्नलिखित कथन सत्य है अथवा असत्य : $2 \times 3 = 6$
- (i) औपनिवेशिक शासन में भारत में असंतुलित विकास हुआ था।
- (ii) 1950 से 1990 के मध्य भारत में लागू की गई आर्थिक नीतियों का उद्देश्य क्षेत्रीय समानता को प्रोत्साहित करना था।
- (iii) 1991 के उपरांत की अवधि में भारत बाह्य प्रापण (outsourcing) के लिए एक अनुकूल स्थान बन गया।

अथवा



• • •

28. (a) “Cooperatives have received a setback during the recent past.”
Justify the given statement with valid explanation. **3**

OR

- (b) Explain the reasons behind less number of regular salaried employees in rural areas as compared to urban areas. **3**
29. Trace the relationship between Human capital and Economic growth. **3**
30. (a) “Bio-pesticides help to reduce the ill-impacts of green revolution on soil and water bodies while promoting sustainable development.”
Justify the given statement with valid explanation. **3**
- (b) Define Absorptive capacity. **1**
31. (a) Describe briefly a rationale behind choosing ‘Self-reliance’ as a planning objective for the Indian economy. **4**

OR

- (b) Explain how, Goods and Services Tax (GST) has simplified the multiplicity of taxes on goods and services. **4**
32. Describe the path of developmental initiatives taken by Pakistan for its economic development. **4**
33. (a) Giving valid reasons, state whether the following statements are true or false. **2 × 3 = 6**
- (i) India followed unbalanced growth during the colonial rule.
- (ii) The economic policies implemented in India between 1950 – 1990’s sought to promote regional equality.
- (iii) India has become a favourable destination of outsourcing, in post 1991 period.

OR



• • •

(b) (i) अंतर स्पष्ट करें : 3

(1) प्रशुल्क व अप्रशुल्क अवरोधक

(2) द्विपक्षीय व बहुपक्षीय व्यापार

(ii) “लघु उद्योगों को बड़े उद्योगों के विरुद्ध एक सुरक्षा कवच की आवश्यकता है।” 3

उपरोक्त कथन के आलोक में, इस दिशा में सरकार द्वारा उठाए गए कदमों को विस्तार से समझाएँ।

34. निम्नलिखित गद्य का ध्यानपूर्वक अध्ययन करें :

कृषि-स्टार्टअप व ग्रामीण उद्यम भारत में ग्रामीण विकास के लिए तीव्रता से महत्वपूर्ण होते जा रहे हैं। वे भारत में ग्रामीण क्षेत्र में आने वाली गंभीर चुनौतियों का समाधान प्रस्तुत करते हैं। ये उद्यम उन्नत कृषि, IT-आधारित निगरानी प्रणाली व डेटा आधारित निर्णय लेने वाले उपकरण जैसे तकनीकी नवाचार लाते हैं, जो उत्पादकता व संसाधन दक्षता में वृद्धि करते हैं।

आपूर्ति शृंखलाओं को सुव्यवस्थित करके व प्रत्यक्ष बाजार से संपर्क स्थापित करके वे कृषकों के लिए उचित मूल्य निर्धारण सुनिश्चित करते हैं तथा पारंपरिक बिचौलियों पर निर्भरता भी कम करते हैं। ऐसे उद्यम ग्रामीण क्षेत्रों में रोजगार सृजन में सक्रिय रूप से योगदान प्रदान करते हैं। सरकार ने RKVY-RAFTAAR, कृषि अवसंरचना कोष तथा Agri-SURE आदि विभिन्न कार्यक्रमों के माध्यम से कृषि स्टार्टअपों व उद्यमियों के लिए निरंतर नीति व वित्तीय सहायता का प्रदर्शन किया है।

उपरोक्त गद्य व सामान्य ज्ञान के आधार पर निम्नलिखित प्रश्नों के उत्तर दें :

(a) उल्लेख करें कि किस प्रकार कृषि-स्टार्टअप कृषि क्षेत्र में आने वाली गंभीर चुनौतियों का समाधान प्रस्तुत करते हैं। 4

(b) भारत में कृषि स्टार्टअपों व उद्यमियों को समर्थन देने में सरकार की भूमिका पर टिप्पणी करें। 2



• • •

- (b) (i) Distinguish between : 3
- (1) Tariff and non-tariff barriers
- (2) Bilateral and multilateral trade
- (ii) “Small-Scale Industries require a shield against large scale industries.” 3
- In the light of given statement, elaborate the steps initiated by the government in this direction.

34. Read the following text carefully :

Agro-startups and rural enterprises are becoming increasingly vital for rural development in India. They address the critical challenges faced by rural sector in India. These ventures bring in technological innovations such as precision farming, IT-based monitoring system and data-driven decision making tools that enhance productivity and resource efficiency.

By streamlining supply chains and creating direct market linkages, they ensure better pricing for farmers and reduce dependency on traditional intermediaries. Such enterprises contribute actively to employment generation in the rural areas. The government has demonstrated a continuous policy and financial support for agri-startups and entrepreneurs through various programs like RKVY-RAFTAAR, the Agri-infrastructure fund and Agri-SURE.

On the basis of given text and common understanding, answer the following questions :

- (a) Explain, how agro-startups address the critical challenges faced by the agricultural sector. 4
- (b) Comment on the role of government in supporting agro-startups and entrepreneurs in India. 2



Series : XY1ZW



SET ~ 2



रोल नं.

Roll No.



प्रश्न-पत्र कोड
Q.P. Code

58/1/2

परीक्षार्थी प्रश्न-पत्र कोड को उत्तर-पुस्तिका के मुख-पृष्ठ पर अवश्य लिखें।

Candidates must write the Q.P. Code on the title page of the answer-book.

नोट

- (I) कृपया जाँच कर लें कि इस प्रश्न-पत्र में मुद्रित पृष्ठ 23 हैं।
- (II) कृपया जाँच कर लें कि इस प्रश्न-पत्र में 34 प्रश्न हैं।
- (III) प्रश्न-पत्र में दाहिने हाथ की ओर दिए गए प्रश्न-पत्र कोड को परीक्षार्थी उत्तर-पुस्तिका के मुख-पृष्ठ पर लिखें।
- (IV) कृपया प्रश्न का उत्तर लिखना शुरू करने से पहले, उत्तर-पुस्तिका में यथा स्थान पर प्रश्न का क्रमांक अवश्य लिखें।
- (V) इस प्रश्न-पत्र को पढ़ने के लिए 15 मिनट का समय दिया गया है। प्रश्न-पत्र का वितरण पूर्वाह्न में 10.15 बजे किया जाएगा। 10.15 बजे से 10.30 बजे तक परीक्षार्थी केवल प्रश्न-पत्र को पढ़ेंगे और इस अवधि के दौरान वे उत्तर-पुस्तिका पर कोई उत्तर नहीं लिखेंगे।

NOTE

- (I) Please check that this question paper contains 23 printed pages.
- (II) Please check that this question paper contains 34 questions.
- (III) Q.P. Code given on the right hand side of the question paper should be written on the title page of the answer-book by the candidate.
- (IV) Please write down the serial number of the question in the answer-book at the given place before attempting it.
- (V) 15 minute time has been allotted to read this question paper. The question paper will be distributed at 10.15 a.m. From 10.15 a.m. to 10.30 a.m., the candidates will read the question paper only and will not write any answer on the answer-book during this period.



अर्थशास्त्र
ECONOMICS



निर्धारित समय : 3 घण्टे

Time allowed : 3 hours

अधिकतम अंक : 80

Maximum Marks : 80



• • •

सामान्य निर्देश :

निम्नलिखित निर्देशों को ध्यानपूर्वक पढ़िए और उनका पालन कीजिए :

- (i) इस प्रश्न-पत्र में 34 प्रश्न हैं। सभी प्रश्न अनिवार्य हैं।
- (ii) यह प्रश्न-पत्र दो खण्डों में विभाजित है :
खण्ड-क : समष्टि अर्थशास्त्र
खण्ड-ख : भारतीय आर्थिक विकास
- (iii) इस प्रश्न-पत्र में 20 बहुविकल्पीय प्रकार के प्रश्न हैं। प्रत्येक प्रश्न 1 अंक का है।
- (iv) इस प्रश्न-पत्र में 4 लघु-उत्तरीय प्रकार-I के प्रश्न हैं। प्रत्येक प्रश्न 3 अंकों का है। इन प्रश्नों के उत्तर 60 से 80 शब्दों में लिखे जाने चाहिए।
- (v) इस प्रश्न-पत्र में 6 लघु-उत्तरीय प्रकार-II के प्रश्न हैं। प्रत्येक प्रश्न 4 अंकों का है। इन प्रश्नों के उत्तर 80 से 100 शब्दों में लिखे जाने चाहिए।
- (vi) इस प्रश्न-पत्र में 4 दीर्घ-उत्तरीय प्रकार के प्रश्न हैं। प्रत्येक प्रश्न 6 अंकों का है। इन प्रश्नों के उत्तर 100 से 150 शब्दों में लिखे जाने चाहिए।
- (vii) प्रत्येक प्रश्न के सभी भागों के उत्तर एक साथ लिखे जाने चाहिए।
- (viii) इसके अतिरिक्त, ध्यान दें कि दृष्टिबाधित परीक्षार्थियों के लिए चित्र तथा मानचित्र आदि आधारित प्रश्नों के स्थान पर एक अन्य प्रश्न दिया गया है। इन प्रश्नों के उत्तर केवल दृष्टिबाधित परीक्षार्थी ही लिखें।
- (ix) प्रश्न-पत्र में कोई समग्र विकल्प नहीं है। यद्यपि कुछ प्रश्नों में आंतरिक विकल्प का प्रावधान दिया गया है। इन प्रश्नों में से केवल एक ही प्रश्न का उत्तर लिखा जाए।

खण्ड – क

(समष्टि अर्थशास्त्र)

1. कॉलम-I व कॉलम-II में दिए गए पदों के समूह में से सही युग्म का चयन करें :

1

कॉलम-I

कॉलम-II

- | | |
|-------------------|---------------------------------|
| (a) गैर-कर राजस्व | (i) वस्तु व सेवा कर |
| (b) अप्रत्यक्ष कर | (ii) मुफ्त खोर (Free-rider) |
| (c) पूँजीगत व्यय | (iii) ऋण |
| (d) निजी वस्तुएँ | (iv) प्रतिद्वंद्वतात्मक प्रकृति |

विकल्प :

- | | |
|-----------------|----------------|
| (A) (a) – (i) | (B) (b) – (ii) |
| (C) (c) – (iii) | (D) (d) – (iv) |



• • •

General Instructions :

Read the following instructions carefully and follow them :

- (i) This question paper contains **34** questions. **All** questions are **compulsory**.
- (ii) This question paper contains **two** sections :
Section – **A** : Macro Economics
Section – **B** : Indian Economic Development
- (iii) This Question paper contains **20** Multiple Choice type questions. Each question carries **1** mark.
- (iv) This Question paper contains **4** Short Answer Type-I questions. Each question carries **3** marks. Answer these questions in **60** to **80** words.
- (v) This Question paper contains **6** Short Answer Type-II questions. Each question carries **4** marks. Answer these questions in **80** to **100** words.
- (vi) This Question paper contains **4** Long Answer type questions. Each question carries **6** marks. Answer these questions in **100** to **150** words.
- (vii) Attempt **all** parts of a question together.
- (viii) In addition to this, **NOTE** that a separate question has been provided for Visually Impaired candidates in lieu of questions having visual inputs, map etc. Such questions are to be attempted by Visually Impaired candidates only.
- (ix) There is no overall choice in the question paper. However, an internal choice has been provided in few questions. Only one of the choices in such questions has to be attempted.

SECTION – A
(Macro Economics)

1. From the set of terms given in Column-I and Column-II, choose the correct pair :

1

Column-I

Column-II

- | | |
|-------------------------|----------------------------|
| (a) Non-tax Revenue | (i) Goods and Services Tax |
| (b) Indirect Tax | (ii) Free-rider |
| (c) Capital expenditure | (iii) Borrowings |
| (d) Private goods | (iv) Rivalrous in nature |

Options :

- | | |
|-----------------|----------------|
| (A) (a) – (i) | (B) (b) – (ii) |
| (C) (c) – (iii) | (D) (d) – (iv) |



• • •

2. यदि कोई राष्ट्र ₹ 600 करोड़ का माल निर्यात करता है तथा ₹ 450 करोड़ का माल आयात करता है, तो राष्ट्र के व्यापार संतुलन का मूल्य ₹ _____ करोड़ का _____ होगा । 1
- (A) 150, घटा (B) 150, अधिशेष
(C) 1,050, घटा (D) 1,050, अधिशेष
3. वाणिज्यिक बैंकों के संदर्भ में, निम्नलिखित में से कौन से कथन सत्य हैं ? 1
- (सही विकल्प का चयन करें ।)
- (I) बैंकों के लिए जमाएँ देनदारियाँ होती हैं ।
(II) वे अर्थव्यवस्था में साख सृजक होते हैं ।
(III) वे आम जनता से जमा स्वीकार करते हैं ।
(IV) वे भारतीय रिज़र्व बैंक की ओर से जमा स्वीकार करते हैं ।
- विकल्प :**
- (A) (I), (II) व (III) (B) (II) व (III)
(C) (I) व (II) (D) (I) व (IV)
4. मान लीजिए, औसत उपभोग प्रवृत्ति (APC) का मूल्य 0.8 है तथा राष्ट्रीय आय ₹ 4,000 करोड़ है, तो बचत का मूल्य ₹ _____ करोड़ होगा । (सही विकल्प द्वारा रिक्त स्थान की पूर्ति करें ।) 1
- विकल्प :**
- (A) 100 (B) 200
(C) 500 (D) 800
5. निम्नलिखित कथनों-अभिकथन (A) व कारण (R) का अध्ययन करें । नीचे दिए गए विकल्पों में से सही विकल्प का चयन करें : 1
- अभिकथन (A) :** सार्वजनिक वस्तुएँ वे वस्तुएँ हैं, जिनका उपभोग जनता द्वारा सामूहिक रूप से किया जाता है ।
- कारण (R) :** सार्वजनिक वस्तुएँ बहिष्कृत एवं प्रतिद्वन्द्वात्मक प्रकृति की होती हैं ।
- विकल्प :**
- (A) अभिकथन (A) व कारण (R) दोनों सत्य हैं तथा कारण (R), अभिकथन (A) की सही व्याख्या है ।
(B) अभिकथन (A) व कारण (R) दोनों सत्य हैं, लेकिन कारण (R), अभिकथन (A) की सही व्याख्या नहीं करता है ।
(C) अभिकथन (A) सत्य है, लेकिन कारण (R) असत्य है ।
(D) अभिकथन (A) असत्य है, लेकिन कारण (R) सत्य है ।



• • •

2. If a country exports goods worth of ₹ 600 crores and imports goods worth of ₹ 450 crores, the value of Balance of Trade of the country would be _____ of ₹ _____ crores. 1
- (A) deficit, 150 (B) surplus, 150
(C) deficit, 1,050 (D) surplus, 1,050
3. In the context of the Commercial Banks, which of the following statements are correct ? (Choose the correct option) 1
- (I) Deposits received are liabilities for Commercial Banks.
(II) They are creator of credit in the economy.
(III) They accept deposits from general public.
(IV) They accept deposits on behalf of Reserve Bank of India.
- Options :**
- (A) (I), (II) and (III) (B) (II) and (III)
(C) (I) and (II) (D) (I) and (IV)
4. Suppose, the value of Average Propensity to Consume (APC) is 0.8 and National Income is ₹ 4,000 crores, the value of saving would be ₹ _____ crores. (Choose the correct option to fill up the blank) 1
- Options :**
- (A) 100 (B) 200
(C) 500 (D) 800
5. Read the following statements : Assertion (A) and Reason (R). Choose the correct option from those given below : 1
- Assertion (A) :** Public goods are those goods that are collectively consumed by the public.
- Reason (R) :** Public goods are excludable and rivalrous in nature.
- Options :**
- (A) Both Assertion (A) and Reason (R) are true and Reason (R) is the correct explanation of Assertion (A).
(B) Both Assertion (A) and Reason (R) are true, but Reason (R) is not the correct explanation of Assertion (A).
(C) Assertion (A) is true, but Reason (R) is false.
(D) Assertion (A) is false, but Reason (R) is true.



• • •

6. मान लीजिए, किसी अर्थव्यवस्था का बचत वक्र ₹ 50 करोड़ के ऋणात्मक मूल्य पर अवरोध (intercept) बनता है। अर्थव्यवस्था में, आय में वृद्धि का 20% बचत के रूप में रखा जाता है। उपरोक्त संदर्भ के आलोक में, निवेश गुणक (K) के मूल्य की पहचान करें।

1

विकल्प :

- | | |
|--------|---------------------|
| (A) 2 | (B) 5 |
| (C) 10 | (D) (∞) अनंत |

7. “इरफान (एक छात्र) ने अपनी कॉलेज की फीस के लिए ₹ 80,000 का ऋण लिया है। वह स्नातक होने के छह माह बाद ऋण चुकाना प्रारंभ करने की योजना बना रहा है, जिसे वह 10 वर्ष की अवधि में चुकाएगा।”

उपरोक्त गद्य के आधार पर मुद्रा के निर्दिष्ट कार्य की पहचान करें। (सही विकल्प का चयन करें)

1

विकल्प :

- | | |
|---------------------------|------------------|
| (A) विनिमय का माध्यम | (B) खाते की इकाई |
| (C) स्थगित भुगतान का मानक | (D) मूल्य संचय |

8. निम्नलिखित कथनों का ध्यानपूर्वक अध्ययन करें :

1

कथन 1 : प्रबंधित तिरती विनिमय दर प्रणाली स्थिर व नम्य विनिमय दर प्रणाली का एक सम्मेलन है।

कथन 2 : प्रबंधित तिरती विनिमय दर प्रणाली को ‘हाईब्रिड प्रणाली’ के रूप में भी जाना जाता है।

दिए गए कथनों के आलोक में, निम्नलिखित में से सही विकल्प का चयन कीजिए :

- (A) कथन 1 सत्य है और कथन 2 असत्य है।
 (B) कथन 1 असत्य है और कथन 2 सत्य है।
 (C) कथन 1 और 2 दोनों सत्य हैं।
 (D) कथन 1 और 2 दोनों असत्य हैं।

9. कॉलम-I व कॉलम-II में दी गई मदों में से सही युग्म का चयन कीजिए :

1

कॉलम-I

कॉलम-II

- | | |
|---------------------------|---|
| (a) संपत्ति से आय | (i) वृद्धावस्था पेंशन |
| (b) उद्यमशीलता से आय | (ii) लाभ |
| (c) मिश्रित आय | (iii) नियोक्ता द्वारा प्रदत्त किराया मुक्त आवास |
| (d) कर्मचारियों का मुआवजा | (iv) पूँजी पर ब्याज |

विकल्प :

- | | |
|-----------------|----------------|
| (A) (a) – (i) | (B) (b) – (ii) |
| (C) (c) – (iii) | (D) (d) – (iv) |



• • •

6. Suppose, the saving curve of an economy makes an intercept at a negative value of ₹ 50 crores. In the economy, 20% of an increase in income is saved.

In the light of above context, identify the value of investment multiplier (K).

1

Options :

- (A) 2 (B) 5
(C) 10 (D) ∞ (infinite)

7. “Irfaan (a student) borrows ₹ 80,000 to finance his college fee. He plans to begin repaying the loan six months after his graduation, making payments over a span of ten years.”

Based on above text, identify the indicated function of money.

(Choose the correct option)

1

Options :

- (A) Medium of Exchange (B) Unit of Account
(C) Standard of Deferred Payments (D) Store of Value

8. Read the following statements carefully :

1

Statement-1 : Managed floating exchange rate system is an amalgamation of fixed and flexible exchange rate system.

Statement-2 : Managed floating exchange rate system is also known as ‘hybrid system’.

In the light of the given statements, choose the correct option from the following :

- (A) Statement 1 is true and Statement 2 is false.
(B) Statement 1 is false and Statement 2 is true.
(C) Both Statements 1 and 2 are true.
(D) Both Statements 1 and 2 are false.

9. From the items given in Column-I and Column-II, choose the correct pair.

1

Column-I

Column-II

- | | |
|----------------------------------|--|
| (a) Income from Property | (i) Old age pension |
| (b) Income from Entrepreneurship | (ii) Profit |
| (c) Mixed Income | (iii) Rent free accommodation from an employer |
| (d) Compensation of Employees | (iv) Interest from capital |

Options :

- (A) (a) – (i) (B) (b) – (ii)
(C) (c) – (iii) (D) (d) – (iv)



• • •

10. भुगतान संतुलन के चालू खाते लेनदेन के संदर्भ में, निम्नलिखित में से असत्य कथन की पहचान करें : 1
(सही विकल्प का चयन करें)

विकल्प :

- (A) वस्तुओं और सेवाओं के निर्यात को क्रेडिट मदों के रूप में दर्ज किया जाता है ।
(B) वस्तुओं और सेवाओं के आयात को डेबिट मदों के रूप में दर्ज किया जाता है ।
(C) सभी हस्तांतरण भुगतान डेबिट मदों के रूप में दर्ज किए जाते हैं ।
(D) सभी हस्तांतरण प्राप्तियाँ डेबिट मदों के रूप में दर्ज की जाती हैं ।
11. “सरकार ने देश के विभिन्न भागों में पर्यटन को प्रोत्साहित करने के लिए ‘अतुल्य भारत’ अभियान प्रारंभ किया था ।”
उपरोक्त अभियान के भारतीय विदेशी मुद्रा भंडार तथा भुगतान संतुलन पर पड़ने वाले प्रभावों को विस्तार से उल्लेखित करें । 3
12. (a) “सक्षम के पास एक विनिर्माण सुविधा है, जहाँ माइक्रोचिप्स का उपयोग कम्प्यूटर व स्मार्टफोन सहित इलेक्ट्रॉनिक उपकरणों के उत्पादन में किया जाता है ।”
उपरोक्त गद्य से पहचान करें कि, यह कथन मध्यवर्ती वस्तुओं को संदर्भित करता है अथवा अंतिम वस्तुओं को । अपने उत्तर के समर्थन में वैध कारण दें । 3

अथवा

- (b) साधन लागत पर शुद्ध मूल्य वृद्धि (NVA_{FC}) के मूल्य की गणना करें : 3

क्रम सं.	मर्दे	राशि (₹ करोड़ में)
(i)	परिचालन अधिशेष	3,740
(ii)	रहितिया (unsold stock) में वृद्धि	600
(iii)	बिक्री	10,625
(iv)	कच्चे माल का क्रय	2,625
(v)	स्थायी पूँजी का उपभोग	500
(vi)	उपदान	400
(vii)	अप्रत्यक्ष कर	1,200

13. ‘वर्ष 2023-24 के लिए केन्द्र सरकार के राजकोषीय विवरण में उर्वरकों पर उपदान एक महत्वपूर्ण घटक था ।’
उपरोक्त सरकारी व्यय की प्रकृति व उसके उद्देश्य की पहचान करें । 4
14. (a) एक अर्थव्यवस्था में; $C = 200 + 0.75 Y$ (जहाँ C = उपभोग व्यय है, तथा Y = राष्ट्रीय आय है)
निवेश व्यय = ₹ 4,000 करोड़ है ।
निम्नलिखित की गणना करें : 4
(i) आय का संतुलन स्तर
(ii) आय के संतुलन स्तर पर कुल उपभोग व्यय

अथवा

- (b) प्रत्याक्षित बचत के प्रत्याक्षित निवेश से अधिक होने की स्थिति में समायोजन तंत्र की व्याख्या करें । 4



• • •

10. In the context of Current Account transactions of Balance of Payment, identify the incorrect statement from the following : 1
(Choose the correct option)

Options :

- (A) Export of goods and services are recorded as credit items.
(B) Import of goods and services are recorded as debit items.
(C) All transfer payments are recorded as debit items.
(D) All transfer receipts are recorded as debit items.
11. “The Government had launched Incredible India Campaign to promote tourism in various parts of the country.”
Elaborate the impact of this campaign on foreign exchange reserves and Balance of Payment of India. 3
12. (a) “Saksham owns a manufacturing facility where microchips are utilized in the production of electronic devices, including computers and smartphones.”
From the above text, identify whether the given statement refers to an intermediate goods or final goods. Give valid reason in support of your answer. 3

OR

- (b) Calculate the value of Net Value Added at Factor Cost (NVA_{FC}) : 3

S. No.	Particulars	Amount (In ₹ crore)
(i)	Operating Surplus	3,740
(ii)	Increase in unsold stock	600
(iii)	Sales	10,625
(iv)	Purchase of raw materials	2,625
(v)	Consumption of fixed capital	500
(vi)	Subsidies	400
(vii)	Indirect taxes	1,200

13. “A significant proportion of subsidies on fertilizer was a key component of the fiscal statement of the Central Government for year 2023-24.”
Identify the nature of government expenditure and its objective. 4
14. (a) In an economy ; $C = 200 + 0.75 Y$ (where C is consumption expenditure and Y is National Income). Investment expenditure is ₹ 4,000 Crore.
Calculate the following : 4
(i) Equilibrium level of income.
(ii) Total consumption expenditure at equilibrium income level.

OR

- (b) Explain the adjustment mechanism in case ex-ante savings are greater than ex-ante investments. 4



• • •

15. मान लीजिए, किसी अर्थव्यवस्था में प्राथमिक जमा ₹ 500 है, यदि आरक्षित अनुपात 25% है। बैंकिंग प्रणाली द्वारा सृजित कुल जमा राशियों तथा कुल उधार (ऋण) का अनुमान लगाएँ।

4

16. निम्नलिखित गद्य का ध्यानपूर्वक अध्ययन करें :

केन्द्रीय खाद्य व उपभोक्ता मामले के मंत्री ने कहा कि, सरकार ने खाद्य वस्तुओं की खुदरा (retail) कीमतों को नियंत्रित करने के लिए विगत वर्षों में कई सक्रिय कदम उठाए हैं। उन्होंने कहा कि, सरकार का लक्ष्य राष्ट्र की आर्थिक वृद्धि से समझौता किए बिना मुद्रास्फीति को नियंत्रण में रखना है। नवंबर 2023 में खुदरा मुद्रास्फीति 5.55% के तीन माह के उच्चतम स्तर पर पहुँच गई, जो कि खाद्य पदार्थों की बढ़ती कीमतों के कारण है। अगस्त 2023 में मुद्रास्फीति में गिरावट आयी थी, जब यह 6.83% पर पहुँच गई थी। आवश्यक वस्तुओं की थोक (wholesale) व खुदरा (retail) मूल्यों पर कड़ी निगरानी रखने हेतु केन्द्र सरकार ने 140 नए मूल्य निगरानी केन्द्र स्थापित किए हैं।

सरकार ने गेहूँ, टूटे चावल, गैर-बासमती सफेद चावल, प्याज आदि कई खाद्य पदार्थों के निर्यात पर प्रतिबंध लगा दिया है। घरेलू आपूर्ति को प्रोत्साहित करने के लिए तथा मूल्य वृद्धि को नियंत्रित करने के लिए सरकार ने तिलहन व दलहन पर आयात शुल्क भी कम कर दिया है।

उपरोक्त गद्य व सामान्य ज्ञान के आधार पर निम्नलिखित प्रश्नों के उत्तर दें :

- (a) सरकार द्वारा स्थापित नए मूल्य निगरानी केन्द्रों की संख्या बताएँ। 1
 - (b) घरेलू आपूर्ति को प्रोत्साहित करने व मूल्यों में कमी लाने के लिए सरकार द्वारा उठाए गए किन्हीं दो सक्रिय उपायों का उल्लेख करें। 2
 - (c) मुद्रास्फीति को नियंत्रित करने के लिए प्रयुक्त किसी एक मौद्रिक उपाय की व्याख्या करें। 3
17. (a) (i) आय विधि द्वारा राष्ट्रीय आय का आकलन करते समय अपनाई जाने वाली किन्हीं दो सावधानियों की व्याख्या करें। 3
- (ii) “उच्च सकल घरेलू उत्पाद (GDP) का अर्थ सदैव अर्थव्यवस्था में वस्तुओं की प्रति व्यक्ति अधि-उपलब्धता होता है।” 3
- उपरोक्त कथन का उस देश के लोगों के कल्याण के सूचकांक के रूप में समर्थन अथवा खंडन करें।
- अथवा**
- (b) (i) उपयुक्त उदाहरणों द्वारा, कारक आय तथा हस्तांतरण आय में अंतर स्पष्ट करें। 3
- (ii) राष्ट्रीय आय (NNP_{FC}) का अनुमान लगाने की आय विधि के अनुसार ‘लाभ’ के घटकों की व्याख्या करें। 3



• • •

15. Suppose in an economy, primary deposits are ₹ 500, if the Reserve Ratio is 25%. Estimate the total deposits created and the total lending by the banking system.

4

16. Read the following text carefully :

Union Food and Consumer Affairs Minister said that the Central Government has taken many proactive steps in the past few years to control retail prices of food items. He said that the government aims to keep inflation under control without compromising the country's economic growth. Retail inflation inched up to a three-month high of 5.55% in November 2023 driven by higher food prices. Inflation has been declining since August 2023, when it touched 6.83%. 140 new price monitoring centres had been set up by the Central Government to keep a close watch on wholesale and retail prices of essential commodities.

The Government has banned the export of many food items like wheat, broken rice, non-basmati white rice, onions etc. It has also reduced import duties on edible oils and pulses to boost domestic supply and control price rise.

On the basis of the given text and common understanding, answer the following questions :

- (a) Mention the number of new price monitoring centres set up by government. 1
- (b) State any two proactive measures taken by government to boost domestic supply and reduction in prices. 2
- (c) Explain any one monetary measure used to control inflation. 3
17. (a) (i) Explain any two precautions to be adopted while estimating National income by Income method. 3
- (ii) "Higher Gross Domestic Product (GDP) always means higher per capita availability of goods in the economy." 3
- Defend or refute the given statement as the index of welfare of the people of that country.
- OR**
- (b) (i) Distinguish between factor income and transfer income with suitable examples. 3
- (ii) Explain the components of 'Profit' as per Income Method of estimating National Income (NNP_{FC}). 3



• • •

खण्ड – ख
(भारतीय आर्थिक विकास)

18. भारत निम्नलिखित में से किस क्षेत्रीय/वैश्विक आर्थिक समूह का सदस्य नहीं है ? 1
- (A) ब्रिक्स (BRICS) (B) सार्क (SAARC)
(C) G-20 (D) G-7

19. निम्नलिखित कथनों-अभिकथन (A) व कारण (R) का ध्यानपूर्वक अध्ययन करें। नीचे दिए गए विकल्पों में से सही विकल्प का चयन करें : 1

अभिकथन (A) : मानव पूँजी निर्माण आर्थिक गतिविधियों में जनसंख्या की भागीदारी दर में वृद्धि करता है तथा आर्थिक विकास को प्रोत्साहित करता है।

कारण (R) : भागीदारी दर किसी राष्ट्र की उत्पादन प्रक्रिया में संलग्न व्यक्तियों के प्रतिशत को संदर्भित करती है।

विकल्प :

- (A) अभिकथन (A) व कारण (R) दोनों सत्य हैं तथा कारण (R), अभिकथन (A) की सही व्याख्या है।
- (B) अभिकथन (A) व कारण (R) दोनों सत्य हैं, लेकिन कारण (R), अभिकथन (A) की सही व्याख्या नहीं करता है।
- (C) अभिकथन (A) सत्य है, लेकिन कारण (R) असत्य है।
- (D) अभिकथन (A) असत्य है, लेकिन कारण (R) सत्य है।
20. कॉलम-I में दिए गए निम्नलिखित पदों का कॉलम-II में दिए गए अर्थ से मिलान करें : 1

कॉलम-I

कॉलम-II

- | | |
|--------------------------|--|
| (a) मानव विकास संकेतक | (i) कानून का शासन |
| (b) जनसांख्यिकीय संकेतक | (ii) संवैधानिक संरक्षण |
| (c) विशेष आर्थिक क्षेत्र | (iii) अतिरिक्त आर्थिक गतिविधियों का सृजन |
| (d) कम्यून प्रणाली | (iv) सामूहिक औद्योगीकरण |

विकल्प :

- (A) (a) – (i) (B) (b) – (ii)
(C) (c) – (iii) (D) (d) – (iv)



• • •

SECTION – B
(Indian Economic Development)

18. India is NOT a member of which of the following regional/global economic grouping ? 1
- (A) BRICS (B) SAARC
(C) G-20 (D) G-7

19. Read the following statements carefully : Assertion (A) and Reason (R).
Choose the correct option from those given below : 1

Assertion (A) : Human capital formation increases the rate of participation of population to economic activities and leads to economic growth.

Reason (R) : Rate of participation of people refers to the percentage of people engaged in production process of a country.

Options :

- (A) Both Assertion (A) and Reason (R) are true and Reason (R) is the correct explanation of Assertion (A).
(B) Both Assertion (A) and Reason (R) are true, but Reason (R) is not the correct explanation of Assertion (A).
(C) Assertion (A) is true, but Reason (R) is false.
(D) Assertion (A) is false, but Reason (R) is true.
20. From the following terms given in Column-I, match the correct pair of meaning given in Column-II : 1

Column-I

Column-II

- | | |
|---------------------------------|--|
| (a) Human Development Indicator | (i) Rule of Law |
| (b) Demographic Indicator | (ii) Constitutional Protection |
| (c) Special Economic Zone | (iii) Generation of additional economic activities |
| (d) Commune System | (iv) Collective industrialisation |

Options :


- (A) (a) – (i) (B) (b) – (ii)
(C) (c) – (iii) (D) (d) – (iv)



• • •

21. निम्नलिखित चित्र का ध्यानपूर्वक अध्ययन करें :

1



उस व्यापार पद्धति की पहचान करें, जिसने विदेशी वस्तुओं को घरेलू उत्पादन से सफलतापूर्वक प्रतिस्थापित कर दिया है।

विकल्प :

- | | |
|---------------------|-------------------------|
| (A) निर्यात संवर्धन | (B) निर्यात प्रतिस्थापन |
| (C) आयात प्रसार | (D) आयात प्रतिस्थापन |

नोट : निम्नलिखित प्रश्न केवल दृष्टिबाधित परीक्षार्थियों के लिए प्रश्न संख्या 21 के स्थान पर है।

_____ उस व्यापार नीति को संदर्भित करता है, जिसका उद्देश्य वस्तुओं के घरेलू उत्पादन को प्रोत्साहित करके आयातित वस्तुओं पर निर्भरता को कम करना है।

1

विकल्प :

- | | |
|----------------------|-------------------------|
| (A) निर्यात संवर्धन | (B) निर्यात प्रतिस्थापन |
| (C) आयात प्रतिस्थापन | (D) आयात प्रसार |

22. निम्नलिखित कथनों-अभिकथन (A) व कारण (R) का ध्यानपूर्वक अध्ययन करें। नीचे दिए गए विकल्पों में से सही विकल्प का चयन करें :

1

अभिकथन (A) : आर्थिक सुधारों से पूर्व, चीन द्वारा सामाजिक संरचना पर सार्वजनिक निवेश के परिणामस्वरूप बेहतर मानव विकास संकेतक (HDI) प्राप्त हुए थे।

कारण (R) : चीन कई मानव विकास संकेतकों (HDI) में भारत व पाकिस्तान से आगे है।

विकल्प :


- (A) अभिकथन (A) व कारण (R) दोनों सत्य हैं तथा कारण (R), अभिकथन (A) की सही व्याख्या है।
- (B) अभिकथन (A) व कारण (R) दोनों सत्य हैं, लेकिन कारण (R), अभिकथन (A) की सही व्याख्या नहीं करता है।
- (C) अभिकथन (A) सत्य है, लेकिन कारण (R) असत्य है।
- (D) अभिकथन (A) असत्य है, लेकिन कारण (R) सत्य है।



• • •

21. Study the following image carefully :

1



Identify, the trade practice that has successfully replaced foreign goods with domestic production.

Options :

- | | |
|--------------------------|-------------------------|
| (A) Export Promotion | (B) Export Substitution |
| (C) Import Proliferation | (D) Import Substitution |

Note : The following question is for the visually impaired candidates only, in lieu of Q. No. 21.

_____ refers to a trade policy aimed at reducing reliance on imported goods by encouraging domestic production.

1

Options :

- | | |
|-------------------------|--------------------------|
| (A) Export Promotion | (B) Export Substitution |
| (C) Import Substitution | (D) Import Proliferation |

22. Read the following statements carefully : Assertion (A) and Reason (R).
Choose the correct option from those given below :

1

Assertion (A) : Prior to economic reforms, public investment in social infrastructure by China resulted in better Human Development Indicators (HDI).

Reason (R) : China is ahead of India and Pakistan on many Human Development Indicators (HDI).

Options :

- (A) Both Assertion (A) and Reason (R) are true and Reason (R) is the correct explanation of Assertion (A).
- (B) Both Assertion (A) and Reason (R) are true, but Reason (R) is not the correct explanation of Assertion (A).
- (C) Assertion (A) is true, but Reason (R) is false.
- (D) Assertion (A) is false, but Reason (R) is true.



• • •

23. 'यह अल्पकालिक बेरोज़गारी है, जो लोगों के एक नौकरी से दूसरी नौकरी में जाने के कारण उत्पन्न होती है।' दी गई परिभाषा के आधार पर इंगित बेरोज़गारी के प्रकार की पहचान कीजिए। (सही विकल्प का चयन करें) 1

विकल्प :

- (A) प्रच्छन्न बेरोज़गारी (B) मौसमी बेरोज़गारी
(C) खुली बेरोज़गारी (D) घर्षणात्मक बेरोज़गारी

24. नीचे दिए गए कॉलम-I व कॉलम-II में दिए गए पदों में से सही युग्म का चयन करें : 1

कॉलम-I

कॉलम-II

- | | |
|--|---|
| (i) उपदान | (a) आयात की जा सकने वाली वस्तुओं की अधिकतम सीमा |
| (ii) भूमि सीमा निर्धारण | (b) IPR 1956 का तत्त्व |
| (iii) लघु उद्योग | (c) जुताई करने वालों के लिए भूमि |
| (iv) पंचवर्षीय योजना के उद्देश्य के रूप में आधुनिकीकरण | (d) सामाजिक दृष्टिकोण में परिवर्तन |

विकल्प :

- (A) (i) – (a) (B) (ii) – (b)
(C) (iii) – (c) (D) (iv) – (d)

25. निम्नलिखित कथनों का ध्यानपूर्वक अध्ययन करें : 1

कथन-1 : कार्यरत व्यक्ति नियमित वेतनभोगी कर्मचारी या आकस्मिक कर्मचारी हो सकते हैं।

कथन-2 : भारत के ग्रामीण क्षेत्रों में नियमित वेतनभोगी रोज़गारी रोज़गार का एक प्रमुख स्रोत है।

दिए गए कथनों के आलोक में, निम्नलिखित में से सही विकल्प का चयन कीजिए :

- (A) कथन 1 सत्य है और कथन 2 असत्य है।
(B) कथन 1 असत्य है और कथन 2 सत्य है।
(C) कथन 1 और 2 दोनों सत्य हैं।
(D) कथन 1 और 2 दोनों असत्य हैं।



• • •

23. "It is short-term unemployment occurring, as people transit between jobs."
On the basis of given definition, identify the type of unemployment indicated. (Choose the correct option) 1

Options :

- (A) Disguised Unemployment
- (B) Seasonal Unemployment
- (C) Open Unemployment
- (D) Frictional Unemployment

24. From the terms given below in Column-I and Column-II, choose the correct pair of statements : 1

Column-I

Column-II

- | | |
|--|--|
| (i) Subsidies | (a) Maximum quantity of goods that can be imported |
| (ii) Land ceiling | (b) Element of IPR 1956 |
| (iii) Small Scale Industries | (c) Land to the tiller |
| (iv) Modernisation as a goal of five year plan | (d) Change in social outlook |

Options :

- | | |
|-----------------|----------------|
| (A) (i) – (a) | (B) (ii) – (b) |
| (C) (iii) – (c) | (D) (iv) – (d) |

25. Read the following statements carefully : 1

Statement-1 : Hired workers may be regular salaried workers or casual workers.

Statement-2 : Regular salaried employment is a major source of employment in rural areas in India.

In the light of the given statements, choose the correct option from the following :

- (A) Statement 1 is true and Statement 2 is false.
- (B) Statement 1 is false and Statement 2 is true.
- (C) Both Statements 1 and 2 are true.
- (D) Both Statements 1 and 2 are false.



• • •

26. चीन में ग्रेट लीप फॉरवर्ड का प्राथमिक केन्द्र _____ क्षेत्रक था । 1
(सही विकल्प द्वारा रिक्त स्थान की पूर्ति करें ।)

विकल्प :

- | | |
|-------------|--------------|
| (A) कर | (B) औद्योगिक |
| (C) वित्तीय | (D) शिक्षण |

27. निम्नलिखित चित्र का अध्ययन करें : 1



उन विगत घटनाओं की पहचान व चयन करें, जिनमें संसाधनों की माँग उनकी आपूर्ति से अधिक हो गई है ।

विकल्प :

- | | |
|-------------------|----------------------|
| (A) आर्थिक विकास | (B) पर्यावरणीय संकट |
| (C) तकनीकी उन्नति | (D) सांस्कृतिक विकास |

नोट : निम्नलिखित प्रश्न केवल दृष्टिबाधित परीक्षार्थियों के लिए प्रश्न संख्या 27 के स्थान पर है ।

पहचान करें, निम्नलिखित में से कौन सी धारणीय विकास की रणनीतियों में से एक नहीं है । 1

विकल्प :

- | |
|--|
| (A) ऊर्जा के गैर-परंपरागत स्रोतों का उपयोग |
| (B) परिवहन के लिए जीवाश्म ईंधन का उपयोग |
| (C) पारंपरिक ज्ञान का उपयोग |
| (D) जैविक कम्पोस्ट खाद का उपयोग |



• • •

26. _____ sector was the primary focus of the Great Leap Forward in China. 1
(Fill up the blank with correct option)

Options :

- (A) Tax (B) Industrial
(C) Financial (D) Educational

27. Study the following picture : 1



Identify and select, the recent phenomenon in which demand for resources surpasses their supply.

Options :

- (A) Economic growth (B) Environmental crisis
(C) Technological advancement (D) Cultural evolution

Note : The following question is for the visually impaired candidates only, in lieu of Q. No. 27.

Identify, which of the following is NOT one of the strategies for Sustainable Development. 1

Options :

- (A) Use of non-conventional sources of energy
(B) Use of fossil fuel for transportation
(C) Use of traditional knowledge
(D) Use of organic compost manure



• • •

28. (a) “विगत समयावधि में सहकारी समितियों को झटका लगा है।”

उपरोक्त कथन का वैध स्पष्टीकरण द्वारा औचित्य सिद्ध करें।

3

अथवा

(b) शहरी क्षेत्रों की तुलना में ग्रामीण क्षेत्रों में नियमित वेतनभोगी कर्मचारियों की कम संख्या के पीछे के कारणों की व्याख्या करें।

3

29. मानव पूँजी व आर्थिक विकास के मध्य संबंध स्थापित करें।

3

30. पाकिस्तान द्वारा अपने आर्थिक विकास पथ के लिए उठाए गए विकासात्मक कदमों का वर्णन करें।

4

31. (a) “पहाड़ी क्षेत्रों में लघु जल-विद्युत संयंत्र लागत प्रभावी होने के साथ-साथ पर्यावरण अनुकूल भी साबित होते हैं।”

उपरोक्त कथन को वैध तर्क द्वारा प्रमाणित करें।

3

(b) अवशोषण क्षमता को परिभाषित करें।

1

32. (a) भारतीय अर्थव्यवस्था के योजना उद्देश्य के रूप में ‘आत्म-निर्भरता’ के चयन के पीछे के तर्कों का संक्षिप्त वर्णन करें।

4

अथवा

(b) व्याख्या करें कि, किस प्रकार वस्तु व सेवा कर (GST) ने वस्तुओं व सेवाओं पर करों की बहुलता को सरल बना दिया है।

4



• • •

28. (a) “Cooperatives have received a setback during the recent past.”

Justify the given statement with valid explanation.

3

OR

- (b) Explain the reasons behind less number of regular salaried employees in rural areas as compared to urban areas.

3

29. Trace the relationship between human capital and economic growth.

3

30. Describe the path of developmental initiatives taken by Pakistan for its economic development.

4

31. (a) “In the mountainous regions, mini-hydel plants prove to be cost effective as well as eco-friendly.”

Justify above statement with valid arguments.

3

- (b) Define Absorptive capacity.

1

32. (a) Describe briefly a rationale behind choosing ‘Self-reliance’ as a planning objective for the Indian economy.

4

OR

- (b) Explain how, Goods and Services Tax (GST) has simplified the multiplicity of taxes on goods and services.

4



• • •

33. निम्नलिखित गद्य का ध्यानपूर्वक अध्ययन करें :

कृषि-स्टार्टअप व ग्रामीण उद्यम भारत में ग्रामीण विकास के लिए तीव्रता से महत्वपूर्ण होते जा रहे हैं। वे भारत में ग्रामीण क्षेत्र में आने वाली गंभीर चुनौतियों का समाधान प्रस्तुत करते हैं। ये उद्यम उन्नत कृषि, IT-आधारित निगरानी प्रणाली व डेटा आधारित निर्णय लेने वाले उपकरण जैसे तकनीकी नवाचार लाते हैं, जो उत्पादकता व संसाधन दक्षता में वृद्धि करते हैं।

आपूर्ति शृंखलाओं को सुव्यवस्थित करके व प्रत्यक्ष बाजार से संपर्क स्थापित करके वे कृषकों के लिए उचित मूल्य निर्धारण सुनिश्चित करते हैं तथा पारंपरिक बिचौलियों पर निर्भरता भी कम करते हैं। ऐसे उद्यम ग्रामीण क्षेत्रों में रोजगार सृजन में सक्रिय रूप से योगदान प्रदान करते हैं। सरकार ने RKVY-RAFTAAR, कृषि अवसंरचना कोष तथा Agri-SURE आदि विभिन्न कार्यक्रमों के माध्यम से कृषि स्टार्टअपों व उद्यमियों के लिए निरंतर नीति व वित्तीय सहायता का प्रदर्शन किया है।

उपरोक्त गद्य व सामान्य ज्ञान के आधार पर निम्नलिखित प्रश्नों के उत्तर दें :

- (a) उल्लेख करें कि किस प्रकार कृषि-स्टार्टअप कृषि क्षेत्र में आने वाली गंभीर चुनौतियों का समाधान प्रस्तुत करते हैं। 4
- (b) भारत में कृषि स्टार्टअपों व उद्यमियों को समर्थन देने में सरकार की भूमिका पर टिप्पणी करें। 2

34. (a) मान्य कारणों द्वारा उल्लेखित करें कि, निम्नलिखित कथन सत्य है अथवा असत्य : $2 \times 3 = 6$

- (i) औपनिवेशिक काल के अंतर्गत, खेतीगत कुल क्षेत्रफल के विस्तार के कारण कृषि क्षेत्र में वृद्धि हुई थी।
- (ii) विश्व व्यापार संगठन का उद्देश्य विश्व व्यापार में नियम आधारित व्यवस्था स्थापित करना है।
- (iii) क्षेत्रीय असमानता के साथ आर्थिक विकास भारत में नियोजन का प्रमुख लक्ष्य था।

अथवा

- (b) (i) अंतर स्पष्ट करें : 3
- (1) प्रशुल्क व अप्रशुल्क अवरोधक
- (2) द्विपक्षीय व बहुपक्षीय व्यापार
- (ii) “लघु उद्योगों को बड़े उद्योगों के विरुद्ध एक सुरक्षा कवच की आवश्यकता है।” 3
- उपरोक्त कथन के आलोक में, इस दिशा में सरकार द्वारा उठाए गए कदमों को विस्तार से समझाएँ।



• • •

33. Read the following text carefully :

Agro-startups and rural enterprises are becoming increasingly vital for rural development in India. They address the critical challenges faced by rural sector in India. These ventures bring in technological innovations such as precision farming, IT-based monitoring system and data-driven decision making tools that enhance productivity and resource efficiency.

By streamlining supply chains and creating direct market linkages, they ensure better pricing for farmers and reduce dependency on traditional intermediaries. Such enterprises contribute actively to employment generation in the rural areas. The government has demonstrated a continuous policy and financial support for agri-startups and entrepreneurs through various programs like RKVY-RAFTAAR, the Agri-infrastructure fund and Agri-SURE.

On the basis of given text and common understanding, answer the following questions :

- (a) Explain, how agro-startups address the critical challenges faced by the agricultural sector. 4
- (b) Comment on the role of government in supporting agro-startups and entrepreneurs in India. 2

34. (a) Giving valid reasons, state whether the following statements are true or false. $2 \times 3 = 6$

- (i) There was growth in agricultural sector due to expansion of aggregate area under cultivation, during the colonial era.
- (ii) The objective of World Trade Organisation (WTO) is to establish a rule based regime, in the world trade.
- (iii) Economic growth with regional disparity was the main goal of planning in India.

OR

- (b) (i) Distinguish between : 3
 - (1) Tariff and non-tariff barriers
 - (2) Bilateral and multilateral trade
- (ii) "Small-Scale Industries require a shield against large scale industries." 3

In the light of given statement, elaborate the steps initiated by the government in this direction.



Series : XY1ZW



SET ~ 3



रोल नं.

Roll No.



प्रश्न-पत्र कोड
Q.P. Code

58/1/3

परीक्षार्थी प्रश्न-पत्र कोड को उत्तर-पुस्तिका के मुख-पृष्ठ पर अवश्य लिखें।

Candidates must write the Q.P. Code on the title page of the answer-book.

नोट

- (I) कृपया जाँच कर लें कि इस प्रश्न-पत्र में मुद्रित पृष्ठ 23 हैं।
- (II) कृपया जाँच कर लें कि इस प्रश्न-पत्र में 34 प्रश्न हैं।
- (III) प्रश्न-पत्र में दाहिने हाथ की ओर दिए गए प्रश्न-पत्र कोड को परीक्षार्थी उत्तर-पुस्तिका के मुख-पृष्ठ पर लिखें।
- (IV) कृपया प्रश्न का उत्तर लिखना शुरू करने से पहले, उत्तर-पुस्तिका में यथा स्थान पर प्रश्न का क्रमांक अवश्य लिखें।
- (V) इस प्रश्न-पत्र को पढ़ने के लिए 15 मिनट का समय दिया गया है। प्रश्न-पत्र का वितरण पूर्वाह्न में 10.15 बजे किया जाएगा। 10.15 बजे से 10.30 बजे तक परीक्षार्थी केवल प्रश्न-पत्र को पढ़ेंगे और इस अवधि के दौरान वे उत्तर-पुस्तिका पर कोई उत्तर नहीं लिखेंगे।

NOTE

- (I) Please check that this question paper contains 23 printed pages.
- (II) Please check that this question paper contains 34 questions.
- (III) Q.P. Code given on the right hand side of the question paper should be written on the title page of the answer-book by the candidate.
- (IV) Please write down the serial number of the question in the answer-book at the given place before attempting it.
- (V) 15 minute time has been allotted to read this question paper. The question paper will be distributed at 10.15 a.m. From 10.15 a.m. to 10.30 a.m., the candidates will read the question paper only and will not write any answer on the answer-book during this period.



अर्थशास्त्र
ECONOMICS



निर्धारित समय : 3 घण्टे

Time allowed : 3 hours

अधिकतम अंक : 80

Maximum Marks : 80



• • •

सामान्य निर्देश :

निम्नलिखित निर्देशों को ध्यानपूर्वक पढ़िए और उनका पालन कीजिए :

- (i) इस प्रश्न-पत्र में 34 प्रश्न हैं। सभी प्रश्न अनिवार्य हैं।
- (ii) यह प्रश्न-पत्र दो खण्डों में विभाजित है :
खण्ड-क : समष्टि अर्थशास्त्र
खण्ड-ख : भारतीय आर्थिक विकास
- (iii) इस प्रश्न-पत्र में 20 बहुविकल्पीय प्रकार के प्रश्न हैं। प्रत्येक प्रश्न 1 अंक का है।
- (iv) इस प्रश्न-पत्र में 4 लघु-उत्तरीय प्रकार-I के प्रश्न हैं। प्रत्येक प्रश्न 3 अंकों का है। इन प्रश्नों के उत्तर 60 से 80 शब्दों में लिखे जाने चाहिए।
- (v) इस प्रश्न-पत्र में 6 लघु-उत्तरीय प्रकार-II के प्रश्न हैं। प्रत्येक प्रश्न 4 अंकों का है। इन प्रश्नों के उत्तर 80 से 100 शब्दों में लिखे जाने चाहिए।
- (vi) इस प्रश्न-पत्र में 4 दीर्घ-उत्तरीय प्रकार के प्रश्न हैं। प्रत्येक प्रश्न 6 अंकों का है। इन प्रश्नों के उत्तर 100 से 150 शब्दों में लिखे जाने चाहिए।
- (vii) प्रत्येक प्रश्न के सभी भागों के उत्तर एक साथ लिखे जाने चाहिए।
- (viii) इसके अतिरिक्त, ध्यान दें कि दृष्टिबाधित परीक्षार्थियों के लिए चित्र तथा मानचित्र आदि आधारित प्रश्नों के स्थान पर एक अन्य प्रश्न दिया गया है। इन प्रश्नों के उत्तर केवल दृष्टिबाधित परीक्षार्थी ही लिखें।
- (ix) प्रश्न-पत्र में कोई समग्र विकल्प नहीं है। यद्यपि कुछ प्रश्नों में आंतरिक विकल्प का प्रावधान दिया गया है। इन प्रश्नों में से केवल एक ही प्रश्न का उत्तर लिखा जाए।

खण्ड – क (समष्टि अर्थशास्त्र)

1. मान लीजिए, औसत उपभोग प्रवृत्ति (APC) का मूल्य 0.8 है तथा राष्ट्रीय आय ₹ 4,000 करोड़ है, तो बचत का मूल्य ₹ _____ करोड़ होगा। (सही विकल्प द्वारा रिक्त स्थान की पूर्ति करें।) 1
विकल्प :
(A) 100 (B) 200
(C) 500 (D) 800
2. मान लीजिए, किसी अर्थव्यवस्था का बचत वक्र ₹ 50 करोड़ के ऋणात्मक मूल्य पर अवरोध (intercept) बनता है। अर्थव्यवस्था में, आय में वृद्धि का 20% बचत के रूप में रखा जाता है। उपरोक्त संदर्भ के आलोक में, निवेश गुणक (K) के मूल्य की पहचान करें। 1
विकल्प :
(A) 2 (B) 5
(C) 10 (D) (∞) अनंत



• • •

General Instructions :

Read the following instructions carefully and follow them :

- (i) This question paper contains **34** questions. **All** questions are **compulsory**.
- (ii) This question paper contains **two** sections :
Section – **A** : Macro Economics
Section – **B** : Indian Economic Development
- (iii) This Question paper contains **20** Multiple Choice type questions. Each question carries **1** mark.
- (iv) This Question paper contains **4** Short Answer Type-I questions. Each question carries **3** marks. Answer these questions in **60** to **80** words.
- (v) This Question paper contains **6** Short Answer Type-II questions. Each question carries **4** marks. Answer these questions in **80** to **100** words.
- (vi) This Question paper contains **4** Long Answer type questions. Each question carries **6** marks. Answer these questions in **100** to **150** words.
- (vii) Attempt **all** parts of a question together.
- (viii) In addition to this, **NOTE** that a separate question has been provided for Visually Impaired candidates in lieu of questions having visual inputs, map etc. Such questions are to be attempted by Visually Impaired candidates only.
- (ix) There is no overall choice in the question paper. However, an internal choice has been provided in few questions. Only one of the choices in such questions has to be attempted.

SECTION – A
(Macro Economics)

1. Suppose, the value of Average Propensity to Consume (APC) is 0.8 and National Income is ₹ 4,000 crores, the value of saving would be ₹ _____
crores. (Choose the correct option to fill up the blank) **1**

Options :

- | | |
|---------|---------|
| (A) 100 | (B) 200 |
| (C) 500 | (D) 800 |

2. Suppose, the saving curve of an economy makes an intercept at a negative value of ₹ 50 crores. In the economy, 20% of an increase in income is saved.
In the light of above context, identify the value of investment multiplier (K). **1**

Options :

- | | |
|--------|------------------|
| (A) 2 | (B) 5 |
| (C) 10 | (D) ∞ (infinite) |



• • •

3. वाणिज्यिक बैंकों के संदर्भ में, निम्नलिखित में से कौन से कथन सत्य हैं ? 1
(सही विकल्प का चयन करें।)

- (I) बैंकों के लिए जमाएँ देनदारियाँ होती हैं।
(II) वे अर्थव्यवस्था में साख सृजक होते हैं।
(III) वे आम जनता से जमा स्वीकार करते हैं।
(IV) वे भारतीय रिज़र्व बैंक की ओर से जमा स्वीकार करते हैं।

विकल्प :

- (A) (I), (II) व (III) (B) (II) व (III)
(C) (I) व (II) (D) (I) व (IV)

4. यदि कोई राष्ट्र ₹ 600 करोड़ का माल निर्यात करता है तथा ₹ 450 करोड़ का माल आयात करता है, तो राष्ट्र के व्यापार संतुलन का मूल्य ₹ _____ करोड़ का _____ होगा। 1
(A) 150, घटा (B) 150, अधिशेष
(C) 1,050, घटा (D) 1,050, अधिशेष

5. कॉलम-I व कॉलम-II में दिए गए पदों के समूह में से सही युग्म का चयन करें : 1

कॉलम-I

कॉलम-II

- | | |
|-------------------|---------------------------------|
| (a) गैर-कर राजस्व | (i) वस्तु व सेवा कर |
| (b) अप्रत्यक्ष कर | (ii) मुफ्त खोर (Free-rider) |
| (c) पूँजीगत व्यय | (iii) ऋण |
| (d) निजी वस्तुएँ | (iv) प्रतिद्वंद्वतात्मक प्रकृति |

विकल्प :

- (A) (a) – (i) (B) (b) – (ii)
(C) (c) – (iii) (D) (d) – (iv)

6. निम्नलिखित कथनों का ध्यानपूर्वक अध्ययन करें : 1

कथन 1 : प्रबंधित तिरती विनिमय दर प्रणाली स्थिर व नम्य विनिमय दर प्रणाली का एक समामेलन है।

कथन 2 : प्रबंधित तिरती विनिमय दर प्रणाली को 'हाईब्रिड प्रणाली' के रूप में भी जाना जाता है।

दिए गए कथनों के आलोक में, निम्नलिखित में से सही विकल्प का चयन कीजिए :

- (A) कथन 1 सत्य है और कथन 2 असत्य है।
(B) कथन 1 असत्य है और कथन 2 सत्य है।
(C) कथन 1 और 2 दोनों सत्य हैं।
(D) कथन 1 और 2 दोनों असत्य हैं।



• • •

3. In the context of the Commercial Banks, which of the following statements are correct ? (Choose the correct option) 1

(I) Deposits received are liabilities for Commercial Banks.
(II) They are creator of credit in the economy.
(III) They accept deposits from general public.
(IV) They accept deposits on behalf of Reserve Bank of India.

Options :

(A) (I), (II) and (III) (B) (II) and (III)
(C) (I) and (II) (D) (I) and (IV)

4. If a country exports goods worth of ₹ 600 crores and imports goods worth of ₹ 450 crores, the value of Balance of Trade of the country would be _____ of ₹ _____ crores. 1

(A) deficit, 150 (B) surplus, 150
(C) deficit, 1,050 (D) surplus, 1,050

5. From the set of terms given in Column-I and Column-II, choose the correct pair : 1

Column-I

Column-II

(a) Non-tax Revenue	(i) Goods and Services Tax
(b) Indirect Tax	(ii) Free-rider
(c) Capital expenditure	(iii) Borrowings
(d) Private goods	(iv) Rivalrous in nature

Options :

(A) (a) – (i) (B) (b) – (ii)
(C) (c) – (iii) (D) (d) – (iv)

6. Read the following statements carefully : 1

Statement-1 : Managed floating exchange rate system is an amalgamation of fixed and flexible exchange rate system.

Statement-2 : Managed floating exchange rate system is also known as 'hybrid system'.

In the light of the given statements, choose the correct option from the following :

(A) Statement 1 is true and Statement 2 is false.
(B) Statement 1 is false and Statement 2 is true.
(C) Both Statements 1 and 2 are true.
(D) Both Statements 1 and 2 are false.



• • •

7. कॉलम-I व कॉलम-II में दी गई मदों में से सही युग्म का चयन कीजिए :

1

कॉलम-I	कॉलम-II
(a) संपत्ति से आय	(i) वृद्धावस्था पेंशन
(b) उद्यमशीलता से आय	(ii) लाभ
(c) मिश्रित आय	(iii) नियोक्ता द्वारा प्रदत्त किराया मुक्त आवास
(d) कर्मचारियों का मुआवजा	(iv) पूँजी पर ब्याज

विकल्प :

- | | |
|-----------------|----------------|
| (A) (a) – (i) | (B) (b) – (ii) |
| (C) (c) – (iii) | (D) (d) – (iv) |

8. निम्नलिखित कथनों-अभिकथन (A) व कारण (R) का अध्ययन करें। नीचे दिए गए विकल्पों में से सही विकल्प का चयन करें :

1

अभिकथन (A) : सार्वजनिक वस्तुएँ वे वस्तुएँ हैं, जिनका उपभोग जनता द्वारा सामूहिक रूप से किया जाता है।

कारण (R) : सार्वजनिक वस्तुएँ बहिष्कृत एवं प्रतिद्वन्द्वात्मक प्रकृति की होती हैं।

विकल्प :

- (A) अभिकथन (A) व कारण (R) दोनों सत्य हैं तथा कारण (R), अभिकथन (A) की सही व्याख्या है।
- (B) अभिकथन (A) व कारण (R) दोनों सत्य हैं, लेकिन कारण (R), अभिकथन (A) की सही व्याख्या नहीं करता है।
- (C) अभिकथन (A) सत्य है, लेकिन कारण (R) असत्य है।
- (D) अभिकथन (A) असत्य है, लेकिन कारण (R) सत्य है।

9. भुगतान संतुलन के चालू खाते लेनदेन के संदर्भ में, निम्नलिखित में से असत्य कथन की पहचान करें :

1

(सही विकल्प का चयन करें)

विकल्प :

- (A) वस्तुओं और सेवाओं के निर्यात को क्रेडिट मदों के रूप में दर्ज किया जाता है।
- (B) वस्तुओं और सेवाओं के आयात को डेबिट मदों के रूप में दर्ज किया जाता है।
- (C) सभी हस्तांतरण भुगतान डेबिट मदों के रूप में दर्ज किए जाते हैं।
- (D) सभी हस्तांतरण प्राप्तियाँ डेबिट मदों के रूप में दर्ज की जाती हैं।



• • •

7. From the items given in Column-I and Column-II, choose the correct pair. 1

Column-I

Column-II

- | | |
|----------------------------------|--|
| (a) Income from Property | (i) Old age pension |
| (b) Income from Entrepreneurship | (ii) Profit |
| (c) Mixed Income | (iii) Rent free accommodation from an employer |
| (d) Compensation of Employees | (iv) Interest from capital |

Options :

- | | |
|-----------------|----------------|
| (A) (a) – (i) | (B) (b) – (ii) |
| (C) (c) – (iii) | (D) (d) – (iv) |

8. Read the following statements : Assertion (A) and Reason (R). Choose the correct option from those given below : 1

Assertion (A) : Public goods are those goods that are collectively consumed by the public.

Reason (R) : Public goods are excludable and rivalrous in nature.

Options :

- (A) Both Assertion (A) and Reason (R) are true and Reason (R) is the correct explanation of Assertion (A).
- (B) Both Assertion (A) and Reason (R) are true, but Reason (R) is not the correct explanation of Assertion (A).
- (C) Assertion (A) is true, but Reason (R) is false.
- (D) Assertion (A) is false, but Reason (R) is true.

9. In the context of Current Account transactions of Balance of Payment, identify the incorrect statement from the following : 1

(Choose the correct option)

Options :

- (A) Export of goods and services are recorded as credit items.
- (B) Import of goods and services are recorded as debit items.
- (C) All transfer payments are recorded as debit items.
- (D) All transfer receipts are recorded as debit items.



• • •

10. “इरफान (एक छात्र) ने अपनी कॉलेज की फीस के लिए ₹ 80,000 का ऋण लिया है। वह स्नातक होने के छह माह बाद ऋण चुकाना प्रारंभ करने की योजना बना रहा है, जिसे वह 10 वर्ष की अवधि में चुकाएगा।”

उपरोक्त गद्य के आधार पर मुद्रा के निर्दिष्ट कार्य की पहचान करें।

(सही विकल्प का चयन करें) 1

विकल्प :

- (A) विनिमय का माध्यम (B) खाते की इकाई
(C) स्थगित भुगतान का मानक (D) मूल्य संचय

11. (a) साधन लागत पर शुद्ध मूल्य वृद्धि (NVA_{FC}) के मूल्य की गणना करें :

3

क्रम सं.	मर्दे	राशि (₹ करोड़ में)
(i)	परिचालन अधिशेष	3,740
(ii)	रहतिया (unsold stock) में वृद्धि	600
(iii)	बिक्री	10,625
(iv)	कच्चे माल का क्रय	2,625
(v)	स्थायी पूँजी का उपभोग	500
(vi)	उपदान	400
(vii)	अप्रत्यक्ष कर	1,200

अथवा

- (b) विदेशों से प्राप्त शुद्ध साधन आय (NFIA) तथा शुद्ध निर्यात ($X - M$) के मध्य अंतर स्पष्ट करें।

3

12. “सभी उपभोग वस्तुएँ टिकाऊ प्रवृत्ति की होती हैं।”

उपयुक्त उदाहरण द्वारा, उपरोक्त कथन का समर्थन अथवा खंडन करें।

3

13. “हाल के बजट में, सरकार ने सार्वजनिक परिवहन में सुधार तथा प्रदूषण में कमी करने के लिए स्मार्ट शहरों में नई मेट्रो लाइनों के निर्माण के लिए धन आवंटित किया है।”

उपरोक्त सरकारी व्यय की प्रकृति व उसके उद्देश्य की पहचान करें।

4

14. मान लीजिए, किसी अर्थव्यवस्था में प्राथमिक जमा ₹ 500 है, यदि आरक्षित अनुपात 25% है। बैंकिंग प्रणाली द्वारा सृजित कुल जमा राशियों तथा कुल उधार (ऋण) का अनुमान लगाएँ।

4



• • •

10. “Irfaan (a student) borrows ₹ 80,000 to finance his college fee. He plans to begin repaying the loan six months after his graduation, making payments over a span of ten years.”

Based on above text, identify the indicated function of money.

(Choose the correct option) 1

Options :

- (A) Medium of Exchange (B) Unit of Account
(C) Standard of Deferred Payments (D) Store of Value

11. (a) Calculate the value of Net Value Added at Factor Cost (NVA_{FC}) : 3

S. No.	Particulars	Amount (In ₹ crore)
(i)	Operating Surplus	3,740
(ii)	Increase in unsold stock	600
(iii)	Sales	10,625
(iv)	Purchase of raw materials	2,625
(v)	Consumption of fixed capital	500
(vi)	Subsidies	400
(vii)	Indirect taxes	1,200

OR

- (b) Distinguish between Net Factor Income from Abroad (NFIA) and Net Exports ($X - M$). 3

12. “All consumption goods are durable in nature.”
Defend or refute the given statement with the help of a suitable example. 3

13. “In the recent Budget the Government allocated funds for construction of new metro lines in smart cities to improve public transportation and reduce pollution.”
Identify the nature of government expenditure & its objective. 4

14. Suppose in an economy, primary deposits are ₹ 500, if the Reserve Ratio is 25%. Estimate the total deposits created and the total lending by the banking system. 4



• • •

15. (a) एक अर्थव्यवस्था में; $C = 200 + 0.75 Y$ (जहाँ C = उपभोग व्यय है, तथा Y = राष्ट्रीय आय है) 4
निवेश व्यय = ₹ 4,000 करोड़ है।
निम्नलिखित की गणना करें :
(i) आय का संतुलन स्तर
(ii) आय के संतुलन स्तर पर कुल उपभोग व्यय
अथवा
(b) प्रत्याक्षित बचत के प्रत्याक्षित निवेश से अधिक होने की स्थिति में समायोजन तंत्र की व्याख्या करें। 4
16. निम्नलिखित गद्य का ध्यानपूर्वक अध्ययन करें :
केन्द्रीय खाद्य व उपभोक्ता मामले के मंत्री ने कहा कि, सरकार ने खाद्य वस्तुओं की खुदरा (retail) कीमतों को नियंत्रित करने के लिए विगत वर्षों में कई सक्रिय कदम उठाए हैं। उन्होंने कहा कि, सरकार का लक्ष्य राष्ट्र की आर्थिक वृद्धि से समझौता किए बिना मुद्रास्फीति को नियंत्रण में रखना है। नवंबर 2023 में खुदरा मुद्रास्फीति 5.55% के तीन माह के उच्चतम स्तर पर पहुँच गई, जो कि खाद्य पदार्थों की बढ़ती कीमतों के कारण है। अगस्त 2023 में मुद्रास्फीति में गिरावट आयी थी, जब यह 6.83% पर पहुँच गई थी। आवश्यक वस्तुओं की थोक (wholesale) व खुदरा (retail) मूल्यों पर कड़ी निगरानी रखने हेतु केन्द्र सरकार ने 140 नए मूल्य निगरानी केन्द्र स्थापित किए हैं।
सरकार ने गेहूँ, टूटे चावल, गैर-बासमती सफेद चावल, प्याज आदि कई खाद्य पदार्थों के निर्यात पर प्रतिबंध लगा दिया है। घरेलू आपूर्ति को प्रोत्साहित करने के लिए तथा मूल्य वृद्धि को नियंत्रित करने के लिए सरकार ने तिलहन व दलहन पर आयात शुल्क भी कम कर दिया है।
उपरोक्त गद्य व सामान्य ज्ञान के आधार पर निम्नलिखित प्रश्नों के उत्तर दें :
(a) सरकार द्वारा स्थापित नए मूल्य निगरानी केन्द्रों की संख्या बताएँ। 1
(b) घरेलू आपूर्ति को प्रोत्साहित करने व मूल्यों में कमी लाने के लिए सरकार द्वारा उठाए गए किन्हीं दो सक्रिय उपायों का उल्लेख करें। 2
(c) मुद्रास्फीति को नियंत्रित करने के लिए प्रयुक्त किसी एक मौद्रिक उपाय की व्याख्या करें। 3
17. (a) (i) मूल्यवर्धन विधि द्वारा राष्ट्रीय आय का आकलन करते समय अपनाई जाने वाली किन्हीं दो सावधानियों की व्याख्या करें। 3
(ii) “उच्च सकल घरेलू उत्पाद (GDP) का अर्थ सदैव अर्थव्यवस्था में वस्तुओं की प्रति व्यक्ति अधि-उपलब्धता होता है।” 3
उपरोक्त कथन का उस देश के लोगों के कल्याण के सूचकांक के रूप में समर्थन अथवा खंडन करें।
अथवा
(b) (i) उपयुक्त उदाहरणों द्वारा, स्टॉक चरों व प्रवाह चरों में अंतर स्पष्ट करें। 3
(ii) राष्ट्रीय आय (NNP_{FC}) का अनुमान लगाने की आय विधि के अनुसार ‘लाभ’ के घटकों की व्याख्या करें। 3



• • •

15. (a) In an economy ; $C = 200 + 0.75 Y$ (where C is consumption expenditure and Y is National Income). Investment expenditure is ₹ 4,000 Crore. 4
Calculate the following :
(i) Equilibrium level of income.
(ii) Total consumption expenditure at equilibrium income level.

OR

- (b) Explain the adjustment mechanism in case ex-ante savings are greater than ex-ante investments. 4

16. Read the following text carefully :

Union Food and Consumer Affairs Minister said that the Central Government has taken many proactive steps in the past few years to control retail prices of food items. He said that the government aims to keep inflation under control without compromising the country's economic growth. Retail inflation inched up to a three-month high of 5.55% in November 2023 driven by higher food prices. Inflation has been declining since August 2023, when it touched 6.83%. 140 new price monitoring centres had been set up by the Central Government to keep a close watch on wholesale and retail prices of essential commodities.

The Government has banned the export of many food items like wheat, broken rice, non-basmati white rice, onions etc. It has also reduced import duties on edible oils and pulses to boost domestic supply and control price rise.

On the basis of the given text and common understanding, answer the following questions :

- (a) Mention the number of new price monitoring centres set up by government. 1
(b) State any two proactive measures taken by government to boost domestic supply and reduction in prices. 2
(c) Explain any one monetary measure used to control inflation. 3
17. (a) (i) Explain any two precautions to be adopted while estimating National Income by Value-added method. 3
(ii) "Higher Gross Domestic Product (GDP) always means higher per capita availability of goods in the economy." 3
Defend or refute the given statement as the index of welfare of the people of that country.

OR

- (b) (i) Distinguish between Stock and flow variables, using suitable examples. 3
(ii) Explain the components of 'Profit' as per Income Method of estimating National Income (NNP_{FC}). 3



• • •

खण्ड – ख
(भारतीय आर्थिक विकास)

18. 'यह अल्पकालिक बेरोज़गारी है, जो लोगों के एक नौकरी से दूसरी नौकरी में जाने के कारण उत्पन्न होती है।' दी गई परिभाषा के आधार पर इंगित बेरोज़गारी के प्रकार की पहचान कीजिए। (सही विकल्प का चयन करें) 1

विकल्प :


- (A) प्रच्छन्न बेरोज़गारी (B) मौसमी बेरोज़गारी
(C) खुली बेरोज़गारी (D) घर्षणात्मक बेरोज़गारी
19. निम्नलिखित कथनों-अभिकथन (A) व कारण (R) का ध्यानपूर्वक अध्ययन करें। नीचे दिए गए विकल्पों में से सही विकल्प का चयन करें : 1

अभिकथन (A) : आर्थिक सुधारों से पूर्व, चीन द्वारा सामाजिक संरचना पर सार्वजनिक निवेश के परिणामस्वरूप बेहतर मानव विकास संकेतक (HDI) प्राप्त हुए थे।

कारण (R) : चीन कई मानव विकास संकेतकों (HDI) में भारत व पाकिस्तान से आगे है।

विकल्प :

- (A) अभिकथन (A) व कारण (R) दोनों सत्य हैं तथा कारण (R), अभिकथन (A) की सही व्याख्या है।
(B) अभिकथन (A) व कारण (R) दोनों सत्य हैं, लेकिन कारण (R), अभिकथन (A) की सही व्याख्या नहीं करता है।
(C) अभिकथन (A) सत्य है, लेकिन कारण (R) असत्य है।
(D) अभिकथन (A) असत्य है, लेकिन कारण (R) सत्य है।
20. निम्नलिखित चित्र का ध्यानपूर्वक अध्ययन करें : 1



उस व्यापार पद्धति की पहचान करें, जिसने विदेशी वस्तुओं को घरेलू उत्पादन से सफलतापूर्वक प्रतिस्थापित कर दिया है।

विकल्प :

- (A) निर्यात संवर्धन (B) निर्यात प्रतिस्थापन
(C) आयात प्रसार (D) आयात प्रतिस्थापन




• • •

SECTION – B
(Indian Economic Development)

18. “It is short-term unemployment occurring, as people transit between jobs.”
On the basis of given definition, identify the type of unemployment indicated. (Choose the correct option) 1

Options :

- (A) Disguised Unemployment
(B) Seasonal Unemployment
(C) Open Unemployment
(D) Frictional Unemployment
19. Read the following statements carefully : Assertion (A) and Reason (R).
Choose the correct option from those given below : 1
- Assertion (A) :** Prior to economic reforms, public investment in social infrastructure by China resulted in better Human Development Indicators (HDI).
- Reason (R) :** China is ahead of India and Pakistan on many Human Development Indicators (HDI).
- Options :**
- (A) Both Assertion (A) and Reason (R) are true and Reason (R) is the correct explanation of Assertion (A).
(B) Both Assertion (A) and Reason (R) are true, but Reason (R) is not the correct explanation of Assertion (A).
(C) Assertion (A) is true, but Reason (R) is false.
(D) Assertion (A) is false, but Reason (R) is true.
20. Study the following image carefully : 1



Identify, the trade practice that has successfully replaced foreign goods with domestic production.

Options :

- (A) Export Promotion (B) Export Substitution
(C) Import Proliferation (D) Import Substitution



• • •

नोट : निम्नलिखित प्रश्न केवल दृष्टिबाधित परीक्षार्थियों के लिए प्रश्न संख्या 20 के स्थान पर है।

_____ उस व्यापार नीति को संदर्भित करता है, जिसका उद्देश्य वस्तुओं के घरेलू उत्पादन को प्रोत्साहित करके आयातित वस्तुओं पर निर्भरता को कम करना है।

1

विकल्प :

- | | |
|----------------------|-------------------------|
| (A) निर्यात संवर्धन | (B) निर्यात प्रतिस्थापन |
| (C) आयात प्रतिस्थापन | (D) आयात प्रसार |

21. कॉलम-I में दिए गए निम्नलिखित पदों का कॉलम-II में दिए गए अर्थ से मिलान करें :

1

कॉलम-I

कॉलम-II

- | | |
|--------------------------|--|
| (a) मानव विकास संकेतक | (i) कानून का शासन |
| (b) जनसांख्यिकीय संकेतक | (ii) संवैधानिक संरक्षण |
| (c) विशेष आर्थिक क्षेत्र | (iii) अतिरिक्त आर्थिक गतिविधियों का सृजन |
| (d) कम्यून प्रणाली | (iv) सामूहिक औद्योगीकरण |

विकल्प :

- | | |
|-----------------|----------------|
| (A) (a) – (i) | (B) (b) – (ii) |
| (C) (c) – (iii) | (D) (d) – (iv) |

22. निम्नलिखित कथनों-अभिकथन (A) व कारण (R) का ध्यानपूर्वक अध्ययन करें। नीचे दिए गए विकल्पों में से सही विकल्प का चयन करें :

1

अभिकथन (A) : मानव पूँजी निर्माण आर्थिक गतिविधियों में जनसंख्या की भागीदारी दर में वृद्धि करता है तथा आर्थिक विकास को प्रोत्साहित करता है।

कारण (R) : भागीदारी दर किसी राष्ट्र की उत्पादन प्रक्रिया में संलग्न व्यक्तियों के प्रतिशत को संदर्भित करती है।

विकल्प :

- (A) अभिकथन (A) व कारण (R) दोनों सत्य हैं तथा कारण (R), अभिकथन (A) की सही व्याख्या है।
- (B) अभिकथन (A) व कारण (R) दोनों सत्य हैं, लेकिन कारण (R), अभिकथन (A) की सही व्याख्या नहीं करता है।
- (C) अभिकथन (A) सत्य है, लेकिन कारण (R) असत्य है।
- (D) अभिकथन (A) असत्य है, लेकिन कारण (R) सत्य है।



• • •

Note : The following question is for the visually impaired candidates only, in lieu of Q. No. 20.

_____ refers to a trade policy aimed at reducing reliance on imported goods by encouraging domestic production.

1

Options :

- | | |
|-------------------------|--------------------------|
| (A) Export Promotion | (B) Export Substitution |
| (C) Import Substitution | (D) Import Proliferation |

21. From the following terms given in Column-I, match the correct pair of meaning given in Column-II :

1

Column-I

Column-II

- | | |
|---------------------------------|--|
| (a) Human Development Indicator | (i) Rule of Law |
| (b) Demographic Indicator | (ii) Constitutional Protection |
| (c) Special Economic Zone | (iii) Generation of additional economic activities |
| (d) Commune System | (iv) Collective industrialisation |

Options :

- | | |
|-----------------|----------------|
| (A) (a) – (i) | (B) (b) – (ii) |
| (C) (c) – (iii) | (D) (d) – (iv) |

22. Read the following statements carefully : Assertion (A) and Reason (R). Choose the correct option from those given below :

1

Assertion (A) : Human capital formation increases the rate of participation of population to economic activities and leads to economic growth.

Reason (R) : Rate of participation of people refers to the percentage of people engaged in production process of a country.

Options :

- (A) Both Assertion (A) and Reason (R) are true and Reason (R) is the correct explanation of Assertion (A).
- (B) Both Assertion (A) and Reason (R) are true, but Reason (R) is not the correct explanation of Assertion (A).
- (C) Assertion (A) is true, but Reason (R) is false.
- (D) Assertion (A) is false, but Reason (R) is true.



• • •

23. भारत निम्नलिखित में से किस क्षेत्रीय/वैश्विक आर्थिक समूह का सदस्य नहीं है ? 1
(A) ब्रिक्स (BRICS) (B) सार्क (SAARC)
(C) G-20 (D) G-7

24. चीन में ग्रेट लीप फॉरवर्ड का प्राथमिक केन्द्र _____ क्षेत्रक था । 1
(सही विकल्प द्वारा रिक्त स्थान की पूर्ति करें ।)

विकल्प :

- (A) कर (B) औद्योगिक
(C) वित्तीय (D) शिक्षण
25. निम्नलिखित चित्र का अध्ययन करें : 1



उन विगत घटनाओं की पहचान व चयन करें, जिनमें संसाधनों की माँग उनकी आपूर्ति से अधिक हो गई है ।

विकल्प :

- (A) आर्थिक विकास (B) पर्यावरणीय संकट
(C) तकनीकी उन्नति (D) सांस्कृतिक विकास

नोट : निम्नलिखित प्रश्न केवल दृष्टिबाधित परीक्षार्थियों के लिए प्रश्न संख्या 25 के स्थान पर है ।

पहचान करें, निम्नलिखित में से कौन सी धारणीय विकास की रणनीतियों में से एक नहीं है । 1

विकल्प :

- (A) ऊर्जा के गैर-परंपरागत स्रोतों का उपयोग
(B) परिवहन के लिए जीवाश्म ईंधन का उपयोग
(C) पारंपरिक ज्ञान का उपयोग
(D) जैविक कम्पोस्ट खाद का उपयोग



• • •

23. India is NOT a member of which of the following regional/global economic grouping ? 1

- (A) BRICS (B) SAARC
(C) G-20 (D) G-7

24. _____ sector was the primary focus of the Great Leap Forward in China. 1
(Fill up the blank with correct option)

Options :

- (A) Tax (B) Industrial
(C) Financial (D) Educational

25. Study the following picture : 1



Identify and select, the recent phenomenon in which demand for resources surpasses their supply.

Options :

- (A) Economic growth (B) Environmental crisis
(C) Technological advancement (D) Cultural evolution

Note : The following question is for the visually impaired candidates only, in lieu of Q. No. 25.

Identify, which of the following is NOT one of the strategies for Sustainable Development. 1

Options :

- (A) Use of non-conventional sources of energy
(B) Use of fossil fuel for transportation
(C) Use of traditional knowledge
(D) Use of organic compost manure



26. निम्नलिखित कथनों का ध्यानपूर्वक अध्ययन करें :

1

कथन-1 : कार्यरत व्यक्ति नियमित वेतनभोगी कर्मचारी या आकस्मिक कर्मचारी हो सकते हैं।

कथन-2 : भारत के ग्रामीण क्षेत्रों में नियमित वेतनभोगी रोजगारी रोजगार का एक प्रमुख स्रोत है ।

दिए गए कथनों के आलोक में, निम्नलिखित में से सही विकल्प का चयन कीजिए :

- (A) कथन 1 सत्य है और कथन 2 असत्य है ।
(B) कथन 1 असत्य है और कथन 2 सत्य है ।
(C) कथन 1 और 2 दोनों सत्य हैं ।
(D) कथन 1 और 2 दोनों असत्य हैं ।

27. नीचे दिए गए कॉलम-I व कॉलम-II में दिए गए पदों में से सही युग्म का चयन करें :

1

कॉलम-I

कॉलम-II

- | | |
|--|---|
| (i) उपदान | (a) आयात की जा सकने वाली वस्तुओं की अधिकतम सीमा |
| (ii) भूमि सीमा निर्धारण | (b) IPR 1956 का तत्त्व |
| (iii) लघु उद्योग | (c) जुताई करने वालों के लिए भूमि |
| (iv) पंचवर्षीय योजना के उद्देश्य के रूप में आधुनिकीकरण | (d) सामाजिक दृष्टिकोण में परिवर्तन |

विकल्प :

- (A) (i) – (a)

(C) (iii) – (c)

(B) (ii) – (b)

(D) (iv) – (d)

28. भौतिक पूँजी व मानव पूँजी में अंतर स्पष्ट करें ।

3



• • •

26. Read the following statements carefully :

1

Statement-1 : Hired workers may be regular salaried workers or casual workers.

Statement-2 : Regular salaried employment is a major source of employment in rural areas in India.

In the light of the given statements, choose the correct option from the following :

- (A) Statement 1 is true and Statement 2 is false.
- (B) Statement 1 is false and Statement 2 is true.
- (C) Both Statements 1 and 2 are true.
- (D) Both Statements 1 and 2 are false.

27. From the terms given below in Column-I and Column-II, choose the correct pair of statements :

1

Column-I

Column-II

- | | |
|--|--|
| (i) Subsidies | (a) Maximum quantity of goods that can be imported |
| (ii) Land ceiling | (b) Element of IPR 1956 |
| (iii) Small Scale Industries | (c) Land to the tiller |
| (iv) Modernisation as a goal of five year plan | (d) Change in social outlook |

Options :

- | | |
|-----------------|----------------|
| (A) (i) – (a) | (B) (ii) – (b) |
| (C) (iii) – (c) | (D) (iv) – (d) |

28. Distinguish between Physical Capital and Human Capital.

3



• • •

29. (a) “विगत समयावधि में सहकारी समितियों को झटका लगा है।”
उपरोक्त कथन का वैध स्पष्टीकरण द्वारा औचित्य सिद्ध करें। 3
- अथवा**
- (b) शहरी क्षेत्रों की तुलना में ग्रामीण क्षेत्रों में नियमित वेतनभोगी कर्मचारियों की कम संख्या के पीछे के कारणों की व्याख्या करें। 3
30. (a) भारतीय अर्थव्यवस्था के योजना उद्देश्य के रूप में ‘आत्म-निर्भरता’ के चयन के पीछे के तर्कों का संक्षिप्त वर्णन करें। 4
- अथवा**
- (b) व्याख्या करें कि, किस प्रकार वस्तु व सेवा कर (GST) ने वस्तुओं व सेवाओं पर करों की बहुलता को सरल बना दिया है। 4
31. (a) “पहाड़ी क्षेत्रों में लघु जल-विद्युत संयंत्र लागत प्रभावी होने के साथ-साथ पर्यावरण अनुकूल भी साबित होते हैं।”
उपरोक्त कथन को वैध तर्क द्वारा प्रमाणित करें। 3
- (b) वहन क्षमता को परिभाषित करें। 1
32. पाकिस्तान द्वारा अपने आर्थिक विकास पथ के लिए उठाए गए विकासात्मक कदमों का वर्णन करें। 4
33. निम्नलिखित गद्य का ध्यानपूर्वक अध्ययन करें :
- कृषि-स्टार्टअप व ग्रामीण उद्यम भारत में ग्रामीण विकास के लिए तीव्रता से महत्वपूर्ण होते जा रहे हैं। वे भारत में ग्रामीण क्षेत्र में आने वाली गंभीर चुनौतियों का समाधान प्रस्तुत करते हैं। ये उद्यम उन्नत कृषि, IT-आधारित निगरानी प्रणाली व डेटा आधारित निर्णय लेने वाले उपकरण जैसे तकनीकी नवाचार लाते हैं, जो उत्पादकता व संसाधन दक्षता में वृद्धि करते हैं।
- आपूर्ति शृंखलाओं को सुव्यवस्थित करके व प्रत्यक्ष बाजार से संपर्क स्थापित करके वे कृषकों के लिए उचित मूल्य निर्धारण सुनिश्चित करते हैं तथा पारंपरिक बिचौलियों पर निर्भरता भी कम करते हैं। ऐसे उद्यम ग्रामीण क्षेत्रों में रोजगार सृजन में सक्रिय रूप से योगदान प्रदान करते हैं। सरकार ने RKVY-RAFTAAR, कृषि अवसंरचना कोष तथा Agri-SURE आदि विभिन्न कार्यक्रमों के माध्यम से कृषि स्टार्टअपों व उद्यमियों के लिए निरंतर नीति व वित्तीय सहायता का प्रदर्शन किया है।
- उपरोक्त गद्य व सामान्य ज्ञान के आधार पर निम्नलिखित प्रश्नों के उत्तर दें :
- (a) उल्लेख करें कि किस प्रकार कृषि-स्टार्टअप कृषि क्षेत्र में आने वाली गंभीर चुनौतियों का समाधान प्रस्तुत करते हैं। 4
- (b) भारत में कृषि स्टार्टअपों व उद्यमियों को समर्थन देने में सरकार की भूमिका पर टिप्पणी करें। 2



• • •

29. (a) “Cooperatives have received a setback during the recent past.”
Justify the given statement with valid explanation. 3
- OR**
- (b) Explain the reasons behind less number of regular salaried employees in rural areas as compared to urban areas. 3
30. (a) Describe briefly a rationale behind choosing ‘Self-reliance’ as a planning objective for the Indian economy. 4
- OR**
- (b) Explain how, Goods and Services Tax (GST) has simplified the multiplicity of taxes on goods and services. 4
31. (a) “In the mountainous regions, mini-hydel plants prove to be cost effective as well as eco-friendly.”
Justify above statement with valid arguments. 3
- (b) Define Carrying Capacity. 1
32. Describe the path of developmental initiatives taken by Pakistan for its economic development. 4
33. Read the following text carefully :
- Agro-startups and rural enterprises are becoming increasingly vital for rural development in India. They address the critical challenges faced by rural sector in India. These ventures bring in technological innovations such as precision farming, IT-based monitoring system and data-driven decision making tools that enhance productivity and resource efficiency. By streamlining supply chains and creating direct market linkages, they ensure better pricing for farmers and reduce dependency on traditional intermediaries. Such enterprises contribute actively to employment generation in the rural areas. The government has demonstrated a continuous policy and financial support for agri-startups and entrepreneurs through various programs like RKVY-RAFTAAR, the Agri-infrastructure fund and Agri-SURE.
- On the basis of given text and common understanding, answer the following questions :
- (a) Explain, how agro-startups address the critical challenges faced by the agricultural sector. 4
- (b) Comment on the role of government in supporting agro-startups and entrepreneurs in India. 2



• • •

34. (a) मान्य कारणों द्वारा उल्लेखित करें कि, निम्नलिखित कथन सत्य है अथवा असत्य : $2 \times 3 = 6$

- (i) औपनिवेशिक काल के अंतर्गत, खेतीगत कुल क्षेत्रफल के विस्तार के कारण कृषि क्षेत्र में वृद्धि हुई थी ।
- (ii) विश्व व्यापार संगठन का उद्देश्य विश्व व्यापार में नियम आधारित व्यवस्था स्थापित करना है ।
- (iii) क्षेत्रीय असमानता के साथ आर्थिक विकास भारत में नियोजन का प्रमुख लक्ष्य था ।

अथवा

(b) (i) अंतर स्पष्ट करें : 3

- (1) प्रशुल्क व अप्रशुल्क अवरोधक
- (2) द्विपक्षीय व बहुपक्षीय व्यापार

(ii) “लघु उद्योगों को बड़े उद्योगों के विरुद्ध एक सुरक्षा कवच की आवश्यकता है ।” 3

उपरोक्त कथन के आलोक में, इस दिशा में सरकार द्वारा उठाए गए कदमों को विस्तार से समझाएँ ।



• • •

34. (a) Giving valid reasons, state whether the following statements are true or false. **2 × 3 = 6**

- (i) There was growth in agricultural sector due to expansion of aggregate area under cultivation, during the colonial era.
- (ii) The objective of World Trade Organisation (WTO) is to establish a rule based regime, in the world trade.
- (iii) Economic growth with regional disparity was the main goal of planning in India.

OR

(b) (i) Distinguish between : **3**

- (1) Tariff and non-tariff barriers
- (2) Bilateral and multilateral trade

(ii) “Small-Scale Industries require a shield against large scale industries.” **3**

In the light of given statement, elaborate the steps initiated by the government in this direction.





Series R1PQS/1

SET~1

रोल नं. Roll No.							

प्रश्न-पत्र कोड
Q.P. Code **58/1/1**

परीक्षार्थी प्रश्न-पत्र कोड को उत्तर-पुस्तिका के मुख-पृष्ठ पर अवश्य लिखें ।

Candidates must write the Q.P. Code on the title page of the answer-book.

नोट / NOTE :

- कृपया जाँच कर लें कि इस प्रश्न-पत्र में मुद्रित पृष्ठ **27** हैं ।
Please check that this question paper contains **27** printed pages.
- कृपया जाँच कर लें कि इस प्रश्न-पत्र में **34** प्रश्न हैं ।
Please check that this question paper contains **34** questions.
- प्रश्न-पत्र में दाहिने हाथ की ओर दिए गए प्रश्न-पत्र कोड को परीक्षार्थी उत्तर-पुस्तिका के मुख-पृष्ठ पर लिखें ।
Q.P. Code given on the right hand side of the question paper should be written on the title page of the answer-book by the candidate.
- कृपया प्रश्न का उत्तर लिखना शुरू करने से पहले, उत्तर-पुस्तिका में प्रश्न का क्रमांक अवश्य लिखें ।
Please write down the serial number of the question in the answer-book before attempting it.
- इस प्रश्न-पत्र को पढ़ने के लिए 15 मिनट का समय दिया गया है । प्रश्न-पत्र का वितरण पूर्वाह्न में 10.15 बजे किया जाएगा । 10.15 बजे से 10.30 बजे तक छात्र केवल प्रश्न-पत्र को पढ़ेंगे और इस अवधि के दौरान वे उत्तर-पुस्तिका पर कोई उत्तर नहीं लिखेंगे ।
15 minute time has been allotted to read this question paper. The question paper will be distributed at 10.15 a.m. From 10.15 a.m. to 10.30 a.m., the students will read the question paper only and will not write any answer on the answer-book during this period.

**अर्थशास्त्र
ECONOMICS**



निर्धारित समय : 3 घण्टे

अधिकतम अंक : 80

Time allowed : 3 hours

Maximum Marks : 80



सामान्य निर्देश :

निम्नलिखित निर्देशों को ध्यानपूर्वक पढ़िए और उनका पालन कीजिए :

- (i) इस प्रश्न-पत्र में 34 प्रश्न हैं। सभी प्रश्न अनिवार्य हैं।
- (ii) यह प्रश्न-पत्र दो खण्डों में विभाजित है :
खण्ड क - समष्टि अर्थशास्त्र
खण्ड ख - भारतीय आर्थिक विकास
- (iii) इस प्रश्न-पत्र में 20 बहुविकल्पीय प्रकार के प्रश्न हैं। प्रत्येक प्रश्न 1 अंक का है।
- (iv) इस प्रश्न-पत्र में 4 लघु-उत्तरीय प्रकार-I के प्रश्न हैं। प्रत्येक प्रश्न 3 अंकों का है। इन प्रश्नों के उत्तर 60 से 80 शब्दों में लिखे जाने चाहिए।
- (v) इस प्रश्न-पत्र में 6 लघु-उत्तरीय प्रकार-II के प्रश्न हैं। प्रत्येक प्रश्न 4 अंकों का है। इन प्रश्नों के उत्तर 80 से 100 शब्दों में लिखे जाने चाहिए।
- (vi) इस प्रश्न-पत्र में 4 दीर्घ-उत्तरीय प्रकार के प्रश्न हैं। प्रत्येक प्रश्न 6 अंकों का है। इन प्रश्नों के उत्तर 100 से 150 शब्दों में लिखे जाने चाहिए।
- (vii) प्रत्येक प्रश्न के सभी भागों के उत्तर एक साथ लिखे जाने चाहिए।
- (viii) इसके अतिरिक्त, ध्यान दें कि दृष्टिबाधित परीक्षार्थियों के लिए फोटो तथा मानचित्र आदि आधारित प्रश्नों के स्थान पर एक अन्य प्रश्न दिया गया है। इन प्रश्नों के उत्तर केवल दृष्टिबाधित परीक्षार्थी ही लिखें।
- (ix) प्रश्न-पत्र में कोई समग्र विकल्प नहीं है। यद्यपि कुछ प्रश्नों में आंतरिक विकल्प का प्रावधान दिया गया है। इन प्रश्नों में से केवल एक ही प्रश्न का उत्तर लिखा जाए।

खण्ड क समष्टि अर्थशास्त्र

1. निम्नलिखित कथनों का ध्यानपूर्वक अध्ययन कीजिए : 1
कथन 1 : यदि किसी अर्थव्यवस्था में, आय के स्तर में वृद्धि (ΔY) होती है, तो यह उपभोग के स्तर (ΔC) में सदैव आनुपातिक रूप से वृद्धि कर देगी।
कथन 2 : सीमांत उपभोग प्रवृत्ति (MPC) व सीमांत बचत प्रवृत्ति (MPS) सदैव एक-दूसरे के बराबर होती हैं।

दिए गए कथनों के आलोक में, निम्नलिखित में से सही विकल्प का चयन कीजिए :

- (A) कथन 1 सत्य है और कथन 2 असत्य है।
- (B) कथन 1 असत्य है और कथन 2 सत्य है।
- (C) कथन 1 और 2 दोनों सत्य हैं।
- (D) कथन 1 और 2 दोनों असत्य हैं।

2. निम्नलिखित में से सही समीकरण की पहचान कीजिए : 1

- (A) $GDP_{MP} = NNP_{FC} + \text{मूल्यहास}$
- (B) $NDP_{FC} = NNP_{FC} + \text{शुद्ध अप्रत्यक्ष कर}$
- (C) $GNP_{MP} = GDP_{MP} + \text{विदेशों से प्राप्त शुद्ध साधन आय}$
- (D) $NNP_{FC} = NDP_{MP} + \text{मूल्यहास}$



General Instructions :

Read the following instructions carefully and follow them :

- (i) This question paper contains **34** questions. **All** questions are **compulsory**.
- (ii) This question paper contains **two** sections :
Section A – Macro Economics
Section B – Indian Economic Development
- (iii) This question paper contains **20** Multiple Choice type questions. Each question carries **1** mark.
- (iv) This question paper contains **4** Short Answer Type-I questions. Each question carries **3** marks. Answer these questions in 60 to 80 words.
- (v) This question paper contains **6** Short Answer Type-II questions. Each question carries **4** marks. Answer these questions in 80 to 100 words.
- (vi) This question paper contains **4** Long Answer type questions. Each question carries **6** marks. Answer these questions in 100 to 150 words.
- (vii) Attempt **all** parts of a question together.
- (viii) In addition to this, note that a separate question has been provided for Visually Impaired candidates in lieu of questions having visual inputs, map etc. Such questions are to be attempted by Visually Impaired candidates only.
- (ix) There is no overall choice in the question paper. However, an internal choice has been provided in few questions. Only one of the choices in such questions has to be attempted.

SECTION A

Macro Economics

1. Read the following statements carefully : 1
Statement 1 : If in an economy the level of income increases (ΔY), it will always proportionately increase the level of consumption (ΔC).
Statement 2 : Marginal Propensity to Consume (MPC) and Marginal Propensity to Save (MPS) are always equal to each other.
 In the light of the given statements, choose the correct alternative from the following :
 (A) Statement 1 is true and Statement 2 is false.
 (B) Statement 1 is false and Statement 2 is true.
 (C) Both Statements 1 and 2 are true.
 (D) Both Statements 1 and 2 are false.
2. Identify the correct equation from the following : 1
 (A) $GDP_{MP} = NNP_{FC} + \text{Depreciation}$
 (B) $NDP_{FC} = NNP_{FC} + \text{Net Indirect Taxes}$
 (C) $GNP_{MP} = GDP_{MP} + \text{Net Factor Income from Abroad}$
 (D) $NNP_{FC} = NDP_{MP} + \text{Depreciation}$



3. निम्नलिखित कथनों को पढ़िए - अभिकथन (A) और कारण (R)। नीचे दिए गए विकल्पों में से सही विकल्प चुनिए :

1

अभिकथन (A) : पूर्ण रोज़गार स्थिति से तात्पर्य अनैच्छिक बेरोज़गारी की अनुपस्थिति से है।

कारण (R) : पूर्ण रोज़गार की स्थिति में, सभी इच्छुक व सक्षम व्यक्तियों को प्रचलित मज़दूरी दर पर रोज़गार प्राप्त होता है।

विकल्प :

- (A) अभिकथन (A) और कारण (R) दोनों सत्य हैं और कारण (R), अभिकथन (A) की सही व्याख्या है।
- (B) अभिकथन (A) और कारण (R) दोनों सत्य हैं, लेकिन कारण (R), अभिकथन (A) की सही व्याख्या नहीं है।
- (C) अभिकथन (A) सत्य है, लेकिन कारण (R) असत्य है।
- (D) अभिकथन (A) असत्य है, लेकिन कारण (R) सत्य है।
4. “दिनांक 9 जून 2023 के, नेशनल स्टॉक एक्सचेंज (NSE) के आँकड़ों के अनुसार, एक माह की अवधि यानि, 9 मई 2023 - 9 जून 2023, में विदेशी संस्थागत निवेशकों (FII) द्वारा ₹ 309 करोड़ की शुद्ध बिक्री की गई थी।”

उपर्युक्त लेन-देन भारत के भुगतान संतुलन के _____ खाते के _____ पक्ष में दर्ज किया जाएगा। (रिक्त स्थानों को भरने के लिए सही विकल्प का चयन कीजिए)

1

- (A) चालू, डेबिट (B) पूँजी, क्रेडिट
- (C) चालू, क्रेडिट (D) पूँजी, डेबिट

5. निम्नलिखित में से मुद्रा आपूर्ति (M_1) की असत्य विशेषता/विशेषताओं की पहचान कीजिए :

1

- (i) इसे समय के एक बिंदु पर मापा जाता है।
- (ii) इसमें सरकार के पास रखे गए धन-भंडार को सम्मिलित नहीं किया जाता है।
- (iii) यह सदैव राष्ट्र के केन्द्रीय बैंक के पास रखी मुद्रा होती है।

विकल्प :

- (A) (i) और (ii) (B) (ii) और (iii)
- (C) केवल (ii) (D) केवल (iii)

6. कीन्स के अनुसार घरेलू क्षेत्र द्वारा किया गया कुल उपभोग व्यय _____ व _____ का संयोजन है। (रिक्त स्थानों को भरने के लिए सही विकल्प का चयन कीजिए)

1

- (A) स्वायत्त उपभोग, स्वायत्त निवेश
- (B) स्वायत्त निवेश, प्रेरित उपभोग
- (C) प्रेरित निवेश, स्वायत्त निवेश
- (D) स्वायत्त उपभोग, प्रेरित उपभोग



3. Read the following statements – Assertion (A) and Reason (R). Choose the correct alternative given below : 1

Assertion (A) : Full employment situation refers to absence of involuntary unemployment.

Reason (R) : Under full employment situation, all the willing and able bodied people get employment at the prevailing wage rate.

Alternatives :

- (A) Both Assertion (A) and Reason (R) are true and Reason (R) is the correct explanation of Assertion (A).
(B) Both Assertion (A) and Reason (R) are true, but Reason (R) is **not** the correct explanation of Assertion (A).
(C) Assertion (A) is true, but Reason (R) is false.
(D) Assertion (A) is false, but Reason (R) is true.
4. “As per the National Stock Exchange (NSE) data, dated 9th June, 2023, there was a net selling off worth ₹ 309 crore by Foreign Institutional Investors (FIIs) over the period of one month i.e., 9th May, 2023 – 9th June, 2023.”
The above mentioned transactions will be recorded on _____ side of _____ account of Balance of Payments of India.
(Choose the correct alternative to fill in the blanks) 1
- (A) Debit, Current (B) Credit, Capital
(C) Credit, Current (D) Debit, Capital

5. Identify the **incorrect** feature(s) of money supply (M_1) from the following : 1
- (i) It is measured at a point of time.
(ii) It does not include stock of money held by the government.
(iii) It is always the currency in the hands of the Central Bank of a nation.

Alternatives :

- (A) (i) and (ii) (B) (ii) and (iii)
(C) (ii) only (D) (iii) only
6. Total consumption expenditure by households under Keynesian Economics is a combination of _____ and _____.
(Choose the correct alternative to fill in the blanks) 1
- (A) Autonomous Consumption, Autonomous Investments
(B) Autonomous Investments, Induced Consumption
(C) Induced Investments, Autonomous Investments
(D) Autonomous Consumption, Induced Consumption



7. लुप्त आँकड़ों की पहचान कीजिए व सही विकल्प का चयन कीजिए :

1

चक्र	जमा	ऋण (80%)	आरक्षित अनुपात (20%)
I	5000	4000	..(i)..
II	4000	..(ii)..	800
...
...
कुल	..(iii)..	..(iv)..	5000

विकल्प :

- (A) 1000, 800, 20000, 25000
 (B) 5000, 3200, 25000, 20000
 (C) 1000, 3200, 25000, 20000
 (D) 1000, 800, 20000, 25000

8. भुगतान संतुलन (BOP) में अधिशेष का तात्पर्य _____ की अधिकता से है ।

(रिक्त स्थान को भरने के लिए सही विकल्प का चयन कीजिए) 1

- (A) स्वायत्त प्राप्तियों पर स्वायत्त भुगतान
 (B) स्वायत्त प्राप्तियों पर चालू खाता भुगतान
 (C) पूँजी खाता भुगतान पर पूँजी खाता प्राप्तियों
 (D) स्वायत्त भुगतान पर स्वायत्त प्राप्तियों

9. किसी काल्पनिक अर्थव्यवस्था के लिए मान लीजिए कि :

$$C = 100 + 0.75Y \text{ (जहाँ } C = \text{उपभोग व } Y = \text{आय)}$$

$$I_0 = 400 \text{ (} I_0 = \text{स्वायत्त निवेश)}$$

निवेश गुणक (K) का मान _____ होगा ।

(रिक्त स्थान को भरने के लिए सही विकल्प का चयन कीजिए) 1

- (A) 5 (B) 4
 (C) 6 (D) 3



7. Find the missing figures and choose the correct alternative :

1

<i>Round</i>	<i>Deposits</i>	<i>Loans (80%)</i>	<i>Reserve Ratio (20%)</i>
I	5000	4000	..(i)..
II	4000	..(ii)..	800
...
...
Total	..(iii)..	..(iv)..	5000

Alternatives :

- (A) 1000, 800, 20000, 25000
- (B) 5000, 3200, 25000, 20000
- (C) 1000, 3200, 25000, 20000
- (D) 1000, 800, 20000, 25000

8. Surplus in Balance of Payments (BOP) refers to the excess of _____. (Choose the correct alternative to fill in the blank)

1

- (A) Autonomous payments over Autonomous receipts
- (B) Current Account payments over Autonomous receipts
- (C) Capital Account receipts over Capital Account payments
- (D) Autonomous receipts over Autonomous payments

9. Suppose for a hypothetical economy :

$$C = 100 + 0.75Y \quad (\text{where } C = \text{Consumption and } Y = \text{Income})$$

$$I_0 = 400 \quad (I_0 = \text{Autonomous Investment})$$

Value of Investment Multiplier (K) would be _____.

(Choose the correct alternative to fill in the blank)

1

- (A) 5
- (B) 4
- (C) 6
- (D) 3



10. मान लीजिए कि, एक काल्पनिक अर्थव्यवस्था का व्यापार संतुलन ₹ 500 करोड़ का अनुकूल संतुलन दर्शाता है। माल निर्यात का मूल्य ₹ 1200 करोड़ व हस्तांतरण भुगतान ₹ 400 करोड़ है।

वाणिज्य (Merchandise) आयात का मूल्य ₹ _____ करोड़ होगा।

(रिक्त स्थान को भरने के लिए सही विकल्प का चयन कीजिए) 1

- (A) 1700
(B) 750
(C) 700
(D) 900

11. (क) एक काल्पनिक अर्थव्यवस्था के लिए नीचे दिए गए आँकड़ों के आधार पर, साधन लागत पर शुद्ध घरेलू उत्पाद (NDP_{FC}) के मूल्य का अनुमान लगाइए : 3

क्र.सं.	मर्दे	राशि (₹ करोड़ में)
(i)	सकल घरेलू स्थायी पूँजी निर्माण	200
(ii)	निर्यात	50
(iii)	अंतिम सरकारी उपभोग व्यय	320
(iv)	स्थायी पूँजी का उपभोग	35
(v)	अंतिम घरेलू उपभोग व्यय	470
(vi)	मालसूची (Inventory) निवेश (शुद्ध)	(-) 40
(vii)	आयात	60
(viii)	शुद्ध अप्रत्यक्ष कर	50
(ix)	विदेशों से प्राप्त शुद्ध कारक आय	20

अथवा

- (ख) (i) उपयुक्त उदाहरण की सहायता से बाह्यताओं की अवधारणा का वर्णन कीजिए। 2
(ii) प्रचालन अधिशेष को परिभाषित कीजिए। 1



10. Suppose, the Balance of Trade of an imaginary economy shows a favourable balance of ₹ 500 crore. The values of merchandise exports are ₹ 1200 crore and transfer payments are ₹ 400 crore.

The value of merchandise imports would be ₹ _____ crore.

(Choose the correct alternative to fill in the blank)

1

- (A) 1700
(B) 750
(C) 700
(D) 900

11. (a) On the basis of the data given below for an imaginary economy, estimate the value of Net Domestic Product at Factor Cost (NDP_{FC}):

3

S. No.	Items	Amount (in ₹ crore)
(i)	Gross Domestic Fixed Capital Formation	200
(ii)	Exports	50
(iii)	Government Final Consumption Expenditure	320
(iv)	Consumption of Fixed Capital	35
(v)	Household Final Consumption Expenditure	470
(vi)	Inventory Investment (Net)	(-) 40
(vii)	Imports	60
(viii)	Net Indirect Taxes	50
(ix)	Net Factor Income from Abroad	20

OR

- (b) (i) Elaborate the concept of Externalities with the help of suitable example.
- (ii) Define Operating Surplus.

2

1



12. स्थिर विनिमय दर प्रणाली तथा नम्य विनिमय दर प्रणाली के मध्य अंतर स्पष्ट कीजिए । 3

13. (क) निम्नलिखित तालिका को पूरा कीजिए । आय के ₹ 200 करोड़ के स्तर पर उपभोग फलन का निर्माण कीजिए । 4

आय (Y) (₹ करोड़ में)	बचत (₹ करोड़ में)	औसत उपभोग प्रवृत्ति (APC)	सीमांत बचत प्रवृत्ति (MPS)
0	(-) 30	—	—
100	1
200	0.85
300	0.8

अथवा

(ख) “किसी अर्थव्यवस्था में, प्रत्याशित समग्र आपूर्ति, प्रत्याशित समग्र माँग से कम है ।”
उत्पादन, आय व रोजगार के स्तर पर इसके प्रभाव की व्याख्या कीजिए । 4

14. निम्नलिखित कथनों को वैध तर्कों द्वारा प्रमाणित कीजिए :

(क) केन्द्रीय बैंक किसी अर्थव्यवस्था का एकमात्र मुद्रा जारीकर्ता प्राधिकरण है । 2

(ख) मुद्रा विलंबित भुगतानों (Deferred Payments) के मानक के माप के रूप में कार्य करती है । 2

15. दिनांक 8 जून 2023 के ‘द ईकोनोमिक टाइम्स’ से उद्धृत निम्नलिखित गद्य का ध्यानपूर्वक अध्ययन कीजिए :

“भारतीय रिज़र्व बैंक (RBI) की दर निर्धारण समिति ने स्पष्ट रूप से बैंचमार्क ऋण दर को 6.5% पर अपरिवर्तित रखने का निर्णय लिया है । समिति ने समायोजन मौद्रिक नीति (Accommodating Monetary Policy) को वापस लेने पर ध्यान केन्द्रित करने के लिए मतदान किया है ।”

दिए गए गद्य व सामान्य समझ के आधार पर निम्नलिखित प्रश्नों के उत्तर दीजिए :

(क) उपर्युक्त गद्य में दर्शाए गए आर्थिक मुद्दे को पहचानिए व चर्चा कीजिए । 2

(ख) यदि दर निर्धारण समिति ने उक्त दर में कमी की होती, तो मुद्रा आपूर्ति के संभावित परिणामों की चर्चा कीजिए । 2



12. Distinguish between fixed exchange rate system and flexible exchange rate system. 3

13. (a) Complete the following table. Construct/Express the Consumption function at ₹ 200 crore level of income. 4

<i>Income (Y)</i> (in ₹ crore)	<i>Savings</i> (in ₹ crore)	<i>Average Propensity to Consume (APC)</i>	<i>Marginal Propensity to Save (MPS)</i>
0	(–) 30	–	–
100	1
200	0·85
300	0·8

OR

- (b) “In an economy, ex-ante Aggregate Supply is less than ex-ante Aggregate Demand.”
Explain its impact on the level of output, income and employment. 4

14. Justify the following statements with valid arguments :

- (a) The Central Bank is the sole currency issuing authority of an economy. 2
- (b) Money serves as a measure of standard of deferred payments. 2

15. Read the following text carefully from ‘The Economic Times’ dated 8th June, 2023 :

“The Reserve Bank of India’s (RBI’s) rate setting panel unanimously decided to keep the benchmark lending rate unchanged at 6·5%. The committee voted to remain focused on the withdrawal of accommodating monetary policy.”

On the basis of given text and common understanding, answer the following questions :

- (a) Identify and discuss the economic issue indicated in the above text. 2
- (b) Discuss the likely consequence on money supply if the rate setting panel would have decreased the said rate. 2



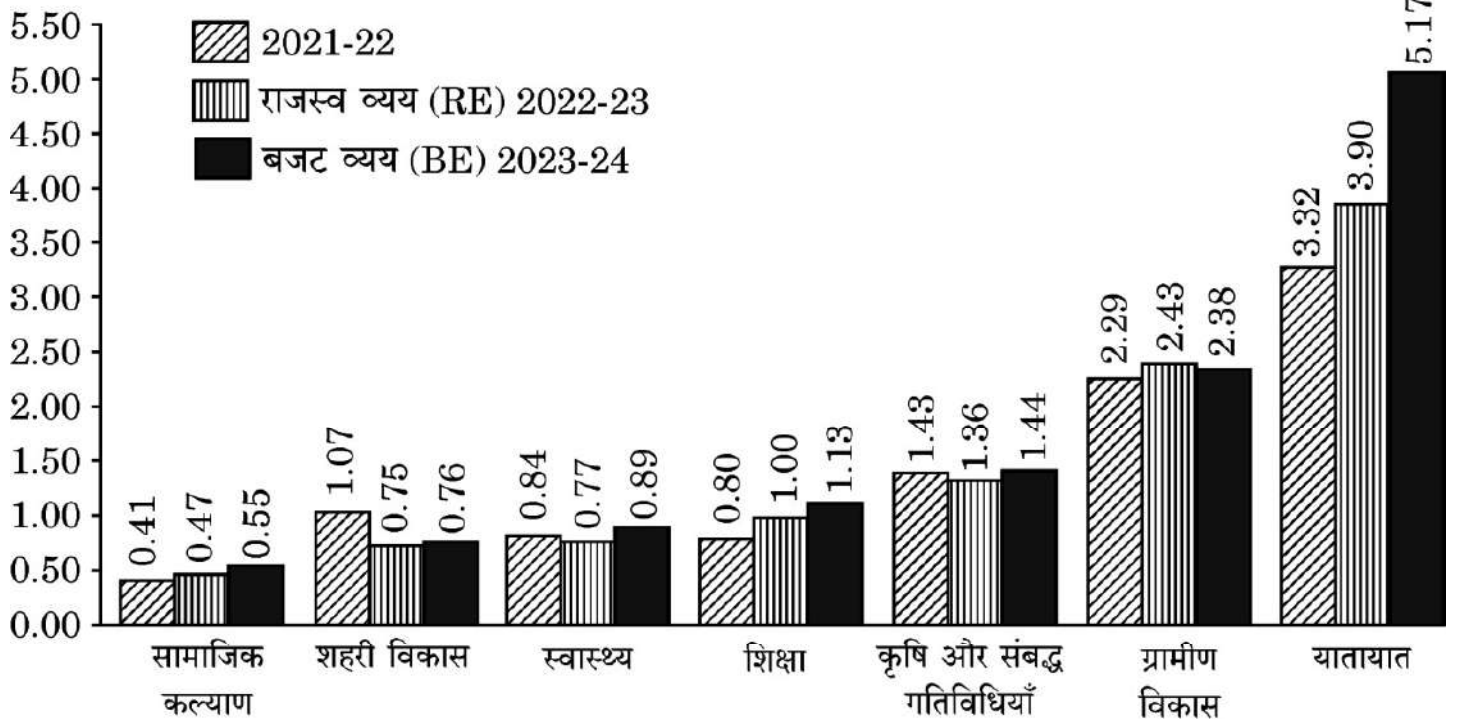
16. (क) निम्नलिखित को राजस्व प्राप्तियों अथवा पूँजीगत प्राप्तियों में वर्गीकृत कीजिए । अपने उत्तर के पक्ष में वैध तर्क दीजिए :
- (i) ऋण पर प्राप्त ब्याज । 2
 - (ii) किसी सरकारी कम्पनी की बिक्री से विनिवेश प्राप्तियाँ । 2
 - (iii) भारत में बालिका शिक्षा को प्रोत्साहित करने के लिए संयुक्त राज्य अमेरिका (USA) सरकार द्वारा दी गई वित्तीय सहायता । 2

अथवा

- (ख) (i) नीचे दिए गए चार्ट का ध्यानपूर्वक अध्ययन कीजिए और निम्नलिखित पर सरकारी व्यय में बदलते रुझानों का विश्लेषण कीजिए :
- (I) यातायात 2
 - (II) ग्रामीण विकास 2

व्यय की प्रमुख मदों की प्रवृत्ति

(₹ लाख करोड़)



- (ख) (ii) 'राजकोषीय घाटे' व 'राजस्व घाटे' के बीच अंतर स्पष्ट कीजिए । 2

नोट: निम्नलिखित प्रश्न केवल दृष्टिबाधित परीक्षार्थियों के लिए प्रश्न संख्या 16 ख(i) के स्थान पर है ।

सरकारी बजट के स्थिरीकरण कार्य की व्याख्या कीजिए । 4

17. (क) एक द्वि-क्षेत्रक मॉडल में आय के चक्रीय प्रवाह की अवधारणा की संक्षेप में व्याख्या कीजिए । 3

- (ख) "मौद्रिक सकल घरेलू उत्पाद (GDP) की तुलना में वास्तविक सकल घरेलू उत्पाद (GDP) किसी राष्ट्र की आर्थिक संवृद्धि का बेहतर संकेतक है ।" क्या आप दिए गए कथन से सहमत हैं ? किसी वैध काल्पनिक संख्यात्मक उदाहरण के साथ अपने उत्तर की पुष्टि कीजिए । 3



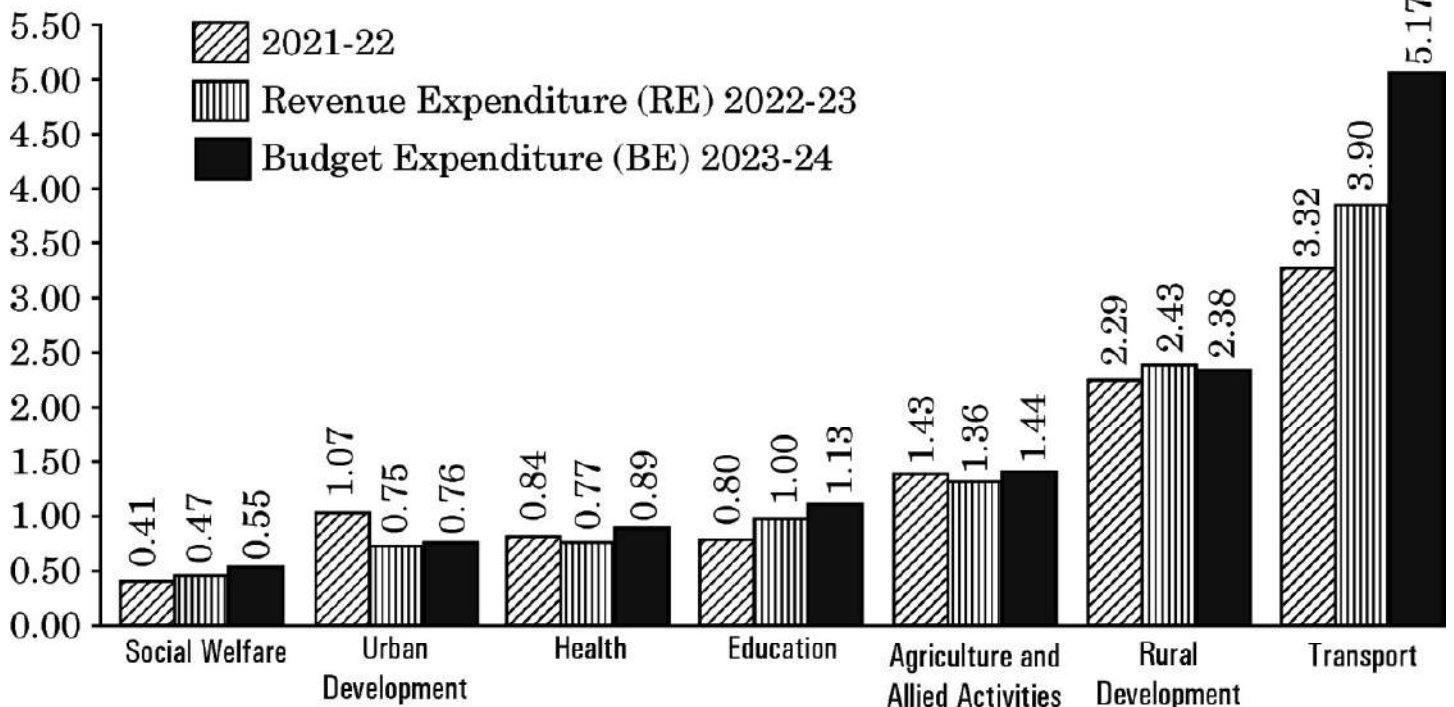
16. (a) Classify the following as Revenue receipts or Capital receipts. Give valid arguments in support of your answer :
- Interest received on loan. 2
 - Disinvestment receipts from the sale of a government company. 2
 - Financial assistance by the Government of USA for promoting girl education in India. 2

OR

- (b) (i) Study the following chart carefully and analyse the changing trends in the government expenditure on :
- Transport 2
 - Rural Development 2

TREND OF MAJOR ITEMS OF EXPENDITURE

(₹ lakh crore)



- (b) (ii) Distinguish between 'fiscal deficit' and 'revenue deficit'. 2

Note : The following question is for the **Visually Impaired Candidates** only in lieu of Q. No. 16 b(i).

Explain the stabilisation function of the Government Budget. 4

17. (a) Discuss briefly the concept of circular flow of income in a two-sector model. 3
- (b) "Real Gross Domestic Product (GDP) is a better indicator of economic growth of a nation as compared to the Nominal Gross Domestic Product (GDP)."
Do you agree with the given statement ? Justify your answer with a valid hypothetical numerical example. 3



खण्ड ख
भारतीय आर्थिक विकास

18. निम्नलिखित कथनों को पढ़िए - अभिकथन (A) और कारण (R)। नीचे दिए गए विकल्पों में से सही विकल्प चुनिए :

1

अभिकथन (A) : परमिट लाइसेंस राज के अत्यधिक विनियमन ने कुछ निजी फर्मों को प्रतिस्पर्धी होने से रोक दिया था।

कारण (R) : निजी क्षेत्र ने उत्पाद गुणवत्ता और अंतर्राष्ट्रीय प्रतिस्पर्धात्मकता में सुधार के बजाय लाइसेंस प्राप्त करने में बड़ी राशि बर्बाद की थी।

विकल्प :

- (A) अभिकथन (A) और कारण (R) दोनों सत्य हैं और कारण (R), अभिकथन (A) की सही व्याख्या है।
- (B) अभिकथन (A) और कारण (R) दोनों सत्य हैं, लेकिन कारण (R), अभिकथन (A) की सही व्याख्या **नहीं** है।
- (C) अभिकथन (A) सत्य है, लेकिन कारण (R) असत्य है।
- (D) अभिकथन (A) असत्य है, लेकिन कारण (R) सत्य है।

19. 1970 के दशक में, पाकिस्तान ने अपने _____ उद्योगों का राष्ट्रीयकरण किया था।
(रिक्त स्थान को भरने के लिए सही विकल्प का चयन कीजिए)

1

- (A) चिकित्सा आधारिक संरचना संबंधी
- (B) उपभोक्ता वस्तुओं संबंधी
- (C) पूँजीगत वस्तुओं संबंधी
- (D) विदेशी व्यापार



SECTION B
Indian Economic Development

18. Read the following statements – Assertion (A) and Reason (R). Choose the correct alternative given below : 1

Assertion (A) : The excessive regulation of permit license raj prevented certain private firms from becoming fairly competitive.

Reason (R) : Private sector wasted huge amounts in obtaining licenses rather than on improving the product quality and international competitiveness.

Alternatives :

- (A) Both Assertion (A) and Reason (R) are true and Reason (R) is the correct explanation of Assertion (A).
- (B) Both Assertion (A) and Reason (R) are true, but Reason (R) is **not** the correct explanation of Assertion (A).
- (C) Assertion (A) is true, but Reason (R) is false.
- (D) Assertion (A) is false, but Reason (R) is true.
19. In the decade of the 1970s, Pakistan nationalized its _____ industries. 1
- (Choose the correct alternative to fill in the blank)
- (A) Medical infrastructure
- (B) Consumer goods
- (C) Capital goods
- (D) Foreign trade



20. निम्नलिखित कथनों का ध्यानपूर्वक अध्ययन कीजिए :

1

कथन 1 : औपनिवेशिक शासन के अंतर्गत, आधारिक संरचना (जैसे रेलवे, डाक व तार आदि) का विकास किया गया था ।

कथन 2 : भारत में आधारिक संरचना के विकास के पीछे वास्तविक उद्देश्य ब्रिटिश हितों को सुदृढ़ करना था ।

दिए गए कथनों के आलोक में, निम्नलिखित में से सही विकल्प का चयन कीजिए :

- (A) कथन 1 सत्य है और कथन 2 असत्य है ।
- (B) कथन 1 असत्य है और कथन 2 सत्य है ।
- (C) कथन 1 और 2 दोनों सत्य हैं ।
- (D) कथन 1 और 2 दोनों असत्य हैं ।

21. पहचान कीजिए कि निम्नलिखित में से कौन-सा विकल्प, कृषि विपणन प्रणाली के *असत्य* घटकों के युग्म को दर्शाता है :

1

- (A) संयोजन, भंडारण, प्रसंस्करण, पैकेजिंग
- (B) उत्पादन, संयोजन, प्रसंस्करण, ग्रेडिंग
- (C) संयोजन, प्रसंस्करण, पैकेजिंग, परिवहन
- (D) प्रसंस्करण, पैकेजिंग, ग्रेडिंग, वितरण

22. निम्नलिखित कथनों को पढ़िए – अभिकथन (A) और कारण (R) । नीचे दिए गए विकल्पों में से सही विकल्प चुनिए :

1

अभिकथन (A) : विश्व व्यापार संगठन (WTO) से यह अपेक्षा की जाती है कि वह सदस्य राष्ट्रों द्वारा लगाए गए एकतरफा तथा मनमाने प्रतिबंधों से बचने के लिए नियम-आधारित व्यापारिक व्यवस्था स्थापित करे ।

कारण (R) : पर्यावरण संरक्षण के साथ-साथ, विश्व उत्पादन में वृद्धि करना व वैश्विक संसाधनों का इष्टतम उपयोग सुनिश्चित करना अनिवार्य है ।

विकल्प :

- (A) अभिकथन (A) और कारण (R) दोनों सत्य हैं और कारण (R), अभिकथन (A) की सही व्याख्या है ।
- (B) अभिकथन (A) और कारण (R) दोनों सत्य हैं, लेकिन कारण (R), अभिकथन (A) की सही व्याख्या *नहीं* है ।
- (C) अभिकथन (A) सत्य है, लेकिन कारण (R) असत्य है ।
- (D) अभिकथन (A) असत्य है, लेकिन कारण (R) सत्य है ।



20. Read the following statements carefully : 1

Statement 1 : Under the colonial rule, basic infrastructure (like railways, post and telegraph etc.) was developed.

Statement 2 : The real motive behind the infrastructural development in India was to strengthen the British interests.

In the light of the given statements, choose the correct alternative from the following :

- (A) Statement 1 is true and Statement 2 is false.
- (B) Statement 1 is false and Statement 2 is true.
- (C) Both Statements 1 and 2 are true.
- (D) Both Statements 1 and 2 are false.

21. Identify which of the following alternatives indicate the **incorrect** components combination of Agriculture Marketing System : 1

- (A) Assembling, Storage, Processing, Packaging
- (B) Production, Assembling, Processing, Grading
- (C) Assembling, Processing, Packaging, Transportation
- (D) Processing, Packaging, Grading, Distribution

22. Read the following statements – Assertion (A) and Reason (R). Choose the correct alternative given below : 1

Assertion (A) : World Trade Organization (WTO) is expected to establish the rule-based trading regime, to avoid unilaterally placed arbitrary restrictions by member nations.

Reason (R) : It is imperative to enlarge world production and ensure optimum utilization of world resources along with environmental protection.

Alternatives :

- (A) Both Assertion (A) and Reason (R) are true and Reason (R) is the correct explanation of Assertion (A).
- (B) Both Assertion (A) and Reason (R) are true, but Reason (R) is **not** the correct explanation of Assertion (A).
- (C) Assertion (A) is true, but Reason (R) is false.
- (D) Assertion (A) is false, but Reason (R) is true.



23. निम्नलिखित कथनों को पढ़िए – अभिकथन (A) और कारण (R)। नीचे दिए गए विकल्पों में से सही विकल्प चुनिए :

1

अभिकथन (A) : चीन ने अपने नागरिकों के लिए अतिरिक्त सामाजिक व आर्थिक अवसर उत्पन्न करने के लिए बाज़ार तंत्र का उपयोग किया है।

कारण (R) : सरकार द्वारा सामाजिक आधारिक संरचना के निर्माण ने चीन में मानव विकास संकेतकों में सकारात्मक परिणाम दिए हैं।

विकल्प :

- (A) अभिकथन (A) और कारण (R) दोनों सत्य हैं और कारण (R), अभिकथन (A) की सही व्याख्या है।
- (B) अभिकथन (A) और कारण (R) दोनों सत्य हैं, लेकिन कारण (R), अभिकथन (A) की सही व्याख्या नहीं है।
- (C) अभिकथन (A) सत्य है, लेकिन कारण (R) असत्य है।
- (D) अभिकथन (A) असत्य है, लेकिन कारण (R) सत्य है।

24. निम्नलिखित विकल्पों में से, विनियमित कृषि बाज़ार के असत्य उद्देश्यों की पहचान कीजिए :

1

- (i) कृषकों को उनके उत्पादों का सर्वोत्तम मूल्य दिलवाने के लिए विपणन प्रणाली को कुशल व प्रभावी बनाना।
- (ii) कृषकों के लिए विपणन बुनियादी ढाँचे में सुधार को हतोत्साहित करना।
- (iii) कृषकों का शोषण रोकना।
- (iv) कृषकों को उनकी उपज की गुणवत्ता व मात्रा में सुधार करने के लिए हतोत्साहित करना।

विकल्प :

- (A) (i) और (ii) (B) (i) और (iii)
- (C) (iii) और (iv) (D) (ii) और (iv)

25. भारत व पाकिस्तान में क्रमशः _____ व _____ वर्षों में आर्थिक सुधार लागू किए गए थे।

(रिक्त स्थानों को भरने के लिए सही विकल्प का चयन कीजिए)

1

- (A) 1988, 1978 (B) 1991, 1978
- (C) 1991, 1988 (D) 1981, 1991



23. Read the following statements – Assertion (A) and Reason (R). Choose the correct alternative given below : 1

Assertion (A) : China has used the market mechanism to create additional social and economic opportunities for its citizens.

Reason (R) : Social infrastructure creation by the government has brought positive results in human development indicators in China.

Alternatives :

- (A) Both Assertion (A) and Reason (R) are true and Reason (R) is the correct explanation of Assertion (A).
- (B) Both Assertion (A) and Reason (R) are true, but Reason (R) is **not** the correct explanation of Assertion (A).
- (C) Assertion (A) is true, but Reason (R) is false.
- (D) Assertion (A) is false, but Reason (R) is true.

24. Identify from the following alternatives the **incorrect** objectives of regulated agriculture market : 1

- (i) To make the marketing system efficient and effective for farmers to get best price of their products.
- (ii) To discourage improvement of marketing infrastructure for farmers.
- (iii) To prevent exploitation of farmers.
- (iv) To discourage farmers from improving quality and quantity of their produce.

Alternatives :

- | | |
|--------------------|-------------------|
| (A) (i) and (ii) | (B) (i) and (iii) |
| (C) (iii) and (iv) | (D) (ii) and (iv) |

25. Economic reforms were introduced in India and Pakistan in the years _____ and _____, respectively.

(Choose the correct alternative to fill in the blanks) 1

- | | |
|----------------|----------------|
| (A) 1988, 1978 | (B) 1991, 1978 |
| (C) 1991, 1988 | (D) 1981, 1991 |



26. निम्नलिखित कथनों का ध्यानपूर्वक अध्ययन कीजिए :

1

कथन 1 : राष्ट्रीय प्रतिदर्श सर्वेक्षण संगठन (NSSO) ने बेरोज़गारी को इस प्रकार परिभाषित किया है कि यह वह अवस्था है, जिसमें व्यक्ति काम के अभाव के कारण बिना काम के रह जाते हैं लेकिन वे संभावित नियोक्ताओं से काम की तलाश कर रहे हैं । वे काम और पारिश्रमिक की मौजूदा स्थितियों के तहत काम करने की इच्छा/उपलब्धता व्यक्त करते हैं ।

कथन 2 : भारत जैसे अत्यधिक आबादी वाले राष्ट्र में प्रच्छन्न बेरोज़गारी आमतौर पर बड़ी समस्या है ।

दिए गए कथनों के आलोक में, निम्नलिखित में से सही विकल्प का चयन कीजिए :

- (A) कथन 1 सत्य है और कथन 2 असत्य है ।
- (B) कथन 1 असत्य है और कथन 2 सत्य है ।
- (C) कथन 1 और 2 दोनों सत्य हैं ।
- (D) कथन 1 और 2 दोनों असत्य हैं ।

27. पहचान कीजिए कि निम्नलिखित में से कौन-सा G-20 का सदस्य राष्ट्र **नहीं** है :

1

- (A) ब्राज़ील
- (B) ऑस्ट्रेलिया
- (C) बांग्लादेश
- (D) अर्जेंटीना

28. (क) “औपनिवेशिक काल के दौरान व्यावसायिक संरचना में असंतुलित गतिविधियाँ दिखाई दीं ।”

क्या आप दिए गए कथन से सहमत हैं ? वैध तर्कों के साथ अपने उत्तर की पुष्टि कीजिए ।

3

अथवा

(ख) उन कारणों को विस्तार से बताइए जिनके कारण निजी क्षेत्र को औद्योगिक नीति संकल्प, 1956 के तहत विनियमित किया गया था ।

3



26. Read the following statements carefully : 1

Statement 1 : As per the National Sample Survey Organization (NSSO), unemployment is a situation in which all those who, owing to lack of work, are not working, but are seeking work from prospective employers. They express their willingness/availability to work under the prevailing conditions of work and remuneration.

Statement 2 : Disguised Unemployment is generally a massive problem in a highly populated country like India.

In the light of the given statements, choose the correct alternative from the following :

- (A) Statement 1 is true and Statement 2 is false.
- (B) Statement 1 is false and Statement 2 is true.
- (C) Both Statements 1 and 2 are true.
- (D) Both Statements 1 and 2 are false.

27. Identify which of the following is **not** a member nation of G20 : 1

- (A) Brazil
- (B) Australia
- (C) Bangladesh
- (D) Argentina

28. (a) “During the colonial period, the occupational structure showed lopsided movements.”

Do you agree with the given statement ? Justify your answer with valid arguments. 3

OR

(b) Elaborate the reasons owing to which the private sector was regulated under the Industrial Policy Resolution, 1956. 3



29. “भारत में, राष्ट्रीय शिक्षा नीति 2020 में शिक्षकों के सेवाकालीन प्रशिक्षण पर अत्यधिक बल दिया है।”
- (i) उपर्युक्त कथन में इंगित मानव पूँजी निर्माण (HCF) के स्रोत की पहचान कीजिए। 1
- (ii) भारत के आर्थिक विकास पर इस स्रोत के संभावित प्रभावों की विस्तार से व्याख्या कीजिए। 2
30. (क) “संयुक्त राष्ट्र के आर्थिक व सामाजिक मामलों के विभाग ने यह संकेत दिया है कि भारत अप्रैल 2023 के माह में चीन को पीछे छोड़कर, विश्व का सबसे अधिक जनसंख्या वाला राष्ट्र बन गया है।”
- चीन द्वारा 1970 के दशक में अपनाई गई एकल-बालक नीति के परिणामों की व्याख्या कीजिए। 2
- (ख) चीन की आर्थिक संवृद्धि पर विशेष आर्थिक क्षेत्र (SEZ) के प्रभावों की चर्चा कीजिए। 2
31. (क) वैध तर्कों द्वारा उल्लेख व व्याख्या कीजिए कि निम्नलिखित कथन *सत्य* हैं या *असत्य* :
- (i) हाल में, भारत सरकार ने वित्तीय संसाधनों के कुशलतम आबंटन के लिए जन-धन योजना जैसे कई महत्वपूर्ण कदम उठाए हैं। 2
- (ii) श्रमिक – जनसंख्या अनुपात किसी राष्ट्र में रोज़गार की स्थिति का विश्लेषण करने के लिए उपयोग किया जाने वाला एक संकेतक है। 2
- अथवा**
- (ख) (i) भारत में महिला शिक्षा को प्रोत्साहित करने की आवश्यकता की व्याख्या कीजिए। 3
- (ii) गैर-कृषि प्रसंस्करण उद्योगों में विविधीकरण गतिविधियों के किन्हीं दो उदाहरणों का उल्लेख कीजिए। 1



- 29.** “In India, National Education Policy 2020 has stressed a lot on in-service training of the teachers.”
- (i) Identify the source of Human Capital Formation (HCF) indicated in the aforesaid statement. 1
 - (ii) Elaborate the likely impacts of this source on the economic development of India. 2
- 30.** (a) “United Nations Department of Economic and Social Affairs indicated that India has overtaken China as the world’s most populous country in the month of April 2023.”
Explain the consequences of one-child policy adopted by China in the 1970s. 2
- (b) Discuss the impacts of Special Economic Zones (SEZs) on the economic growth of China. 2
- 31.** (a) State and elaborate whether the following statements are *true* or *false*, with valid arguments :
- (i) In the recent past, the Government of India has taken crucial steps, like Jan-Dhan Yojana, for efficient allocation of financial resources. 2
 - (ii) Worker – population ratio is an indicator, used for analyzing the employment situation in a nation. 2

OR

- (b) (i) Elaborate the need to promote women’s education in India. 3
- (ii) Mention any two examples of diversification activities in the non-agro processing industries. 1



32. (क) जैविक कृषि के प्रारम्भिक वर्षों के दौरान कृषकों के समक्ष उत्पन्न होने वाली किन्हीं दो समस्याओं का उल्लेख कीजिए । 1
- (ख) “वर्तमान स्थिति में, भारत जैसे राष्ट्र में खाद्य सुरक्षा प्राप्त करने में सूचना प्रौद्योगिकी महत्वपूर्ण भूमिका निभाती है ।”
दिए गए कथन का औचित्य सिद्ध कीजिए । 3
33. (क) (i) “भारत सरकार द्वारा उठाए गए उदारीकरण उपायों के अंतर्गत, औद्योगिक क्षेत्र का नियमन अत्यंत महत्वपूर्ण था ।”
मान्य तर्कों द्वारा दिए गए कथन का खंडन अथवा समर्थन कीजिए । 3
- (ii) “हरित क्रांति के बाद भी 1990 के दशक तक भारत की 65 प्रतिशत जनसंख्या कृषि क्षेत्रक में लगी रही ।”
वैध तर्कों द्वारा दिए गए कथन का औचित्य सिद्ध कीजिए । 3
- अथवा**
- (ख) (i) “हर सिक्के के दो पहलू होते हैं — कृषि उपदान पर बहस भी ऐसा ही एक उत्कृष्ट उदाहरण है ।”
कृषि उपदान जारी रखने के पक्ष व विपक्ष में दो-दो तर्कों सहित दिए गए कथन की पुष्टि कीजिए । 4
- (ii) भारतीय आर्थिक योजना के उद्देश्य के रूप में “समता के साथ संवृद्धि” के महत्त्व का उल्लेख कीजिए । 2

34. निम्नलिखित गद्य का ध्यानपूर्वक अध्ययन कीजिए :

भारत में वायु तथा जल प्रदूषण की दो प्रमुख पर्यावरण चिंताओं से निपटने के लिए सरकार ने 1974 में केंद्रीय प्रदूषण नियंत्रण बोर्ड (CPCB) की स्थापना की । इसके बाद, राज्य स्तर पर सभी पर्यावरणीय चिंताओं से निपटने के लिए राज्यों ने अपने-अपने बोर्ड बनाये । ये बोर्ड (CPCB) जल, वायु और भूमि प्रदूषण से संबंधित सूचनाओं का संकलन और वितरण करते हैं । वे कचरे/व्यापार निकास और उत्सर्जन के मानक निर्धारित करते हैं । ये बोर्ड सरकारों को जल प्रदूषण के रोकथाम, नियंत्रण और कमी के लिए जल-धाराओं द्वारा नदियों और कुओं की स्वच्छता के संवर्धन के लिए तकनीकी सहायता प्रदान करते हैं । इनका कार्य वायु की गुणवत्ता में सुधार भी है । ये देश में वायु प्रदूषण के नियंत्रण द्वारा भी सरकारों को तकनीकी सहायता प्रदान करते हैं ।

ये बोर्ड जल व वायु प्रदूषण से संबंधित समस्याओं की जाँच व अनुसंधान भी करते हैं और ऐसी जाँच व अनुसंधान को प्रायोजित करते हैं । इसके लिए वे जन संचार के माध्यम से जन जागरूकता कार्यक्रम संगठित करते हैं । PCB कचरे व वाणिज्य अपशिष्टों के निपटान और उपचार से संबंधित नियमावली, संहिता और मार्गदर्शक सूचिका तैयार करते हैं ।



- 32.** (a) State any two problems faced by farmers during the initial years of organic farming. 1
- (b) “In the current situation, Information Technology plays a vital role in achieving food security in a nation like India.”
Justify the given statement. 3
- 33.** (a) (i) “Under the liberalisation measures taken by the Government of India, regulation of industrial sector was extremely crucial.”
Reject or support the given statement with valid arguments. 3
- (ii) “Despite the implementation of Green Revolution, 65 per cent of India’s population continued to be engaged in the agriculture sector till the 1990s.”
Justify the given statement with valid explanation. 3
- OR**
- (b) (i) “Every coin has two sides — debate over farm subsidies is one such classic example of the same.”
Justify the given statement with two arguments each in favour of and against the continuation of the farm subsidies. 4
- (ii) State the importance of “Growth with equity” as the objective of Indian economic planning. 2

34. Read the following text carefully :

In order to address two major environmental concerns in India, viz. water and air pollution, the government set up the Central Pollution Control Board (CPCB) in 1974. This was followed by states establishing their own state level boards to address all the environmental concerns. They investigate, collect and disseminate information relating to water, air and land pollution, lay down standards for sewage/trade effluent and emissions. These boards provide technical assistance to governments in promoting cleanliness of streams and wells by prevention, control and abatement of water pollution, and improve the quality of air and to prevent, control or abate air pollution in the country.

These boards also carry out and sponsor investigation and research relating to problems of water and air pollution and for their prevention, control or abatement. They organize, through mass media, a comprehensive mass awareness programme for the same. The PCBs prepare manuals, codes and guidelines relating to treatment and disposal of sewage and trade effluents.



उद्योगों के विनियमन द्वारा वे वायु गुणवत्ता का मूल्यांकन करते हैं। वास्तव में अपने जिला स्तरीय अधिकारियों के माध्यम से राज्य बोर्ड अपने क्षेत्राधिकार में आने वाले प्रत्येक उद्योग का समय-समय पर निरीक्षण, विकास और गैसीय उत्सर्जन हेतु उपलब्ध उपायों की पर्याप्तता का विश्लेषण करने के लिए करता है। यह उद्योग-स्थान निर्धारण व नगर नियोजन के लिए आवश्यक पृष्ठभूमि तथा वायु गुणवत्ता आँकड़े भी प्रदान करता है।

प्रदूषण नियंत्रण बोर्ड जल प्रदूषण से संबंधित तकनीकी और सांख्यिकी आँकड़ों का संकलन, संपादन और वितरण करते हैं। ये 125 नदियों (इसमें उपनदियाँ भी शामिल हैं), कुएँ, झील, खाड़ी, तालाब, टैंक, नाले और नहरों में जल की गुणवत्ता की देखरेख करते हैं।

दिए गए गद्य व सामान्य ज्ञान के आधार पर निम्नलिखित प्रश्नों के उत्तर दीजिए :

- (क) ऐसे किन्हीं दो मुद्दों का उल्लेख कीजिए जिनके कारण केन्द्रीय प्रदूषण नियंत्रण बोर्ड (CPCB) की स्थापना की गई थी। 1
- (ख) केन्द्रीय प्रदूषण नियंत्रण बोर्ड (CPCB) द्वारा किए जाने वाले किन्हीं दो कार्यों की व्याख्या कीजिए। 2
- (ग) भारत द्वारा धारणीय विकास सुनिश्चित करने के लिए अपनाई गई किन्हीं दो रणनीतियों का वर्णन कीजिए। 3



They assess the air quality through regulation of industries. In fact, state boards, through their district level officials, periodically inspect every industry under their jurisdiction to assess the adequacy of treatment measures provided to treat the effluent and gaseous emissions. It also provides background air quality data needed for industrial siting and town planning.

The pollution control boards collect, collate and disseminate technical and statistical data relating to water pollution. They monitor the quality of water in 125 rivers (including the tributaries), wells, lakes, creeks, ponds, tanks, drains and canals.

On the basis of the given text and common understanding, answer the following questions :

- (a) State any two concerns owing to which the Central Pollution Control Board (CPCB) was established. 1
- (b) Explain any two functions performed by the Central Pollution Control Board (CPCB). 2
- (c) Elaborate any two strategies to ensure sustainable development as adopted by India. 3



Series R1PQS/1

SET~2

रोल नं.							
Roll No.							

प्रश्न-पत्र कोड **58/1/2**
Q.P. Code

परीक्षार्थी प्रश्न-पत्र कोड को उत्तर-पुस्तिका के मुख-पृष्ठ पर अवश्य लिखें ।

Candidates must write the Q.P. Code on the title page of the answer-book.

नोट / NOTE :

- कृपया जाँच कर लें कि इस प्रश्न-पत्र में मुद्रित पृष्ठ **27** हैं ।
Please check that this question paper contains **27** printed pages.
- कृपया जाँच कर लें कि इस प्रश्न-पत्र में **34** प्रश्न हैं ।
Please check that this question paper contains **34** questions.
- प्रश्न-पत्र में दाहिने हाथ की ओर दिए गए प्रश्न-पत्र कोड को परीक्षार्थी उत्तर-पुस्तिका के मुख-पृष्ठ पर लिखें ।

Q.P. Code given on the right hand side of the question paper should be written on the title page of the answer-book by the candidate.

- कृपया प्रश्न का उत्तर लिखना शुरू करने से पहले, उत्तर-पुस्तिका में प्रश्न का क्रमांक अवश्य लिखें ।

Please write down the serial number of the question in the answer-book before attempting it.

- इस प्रश्न-पत्र को पढ़ने के लिए 15 मिनट का समय दिया गया है । प्रश्न-पत्र का वितरण पूर्वाह्न में 10.15 बजे किया जाएगा । 10.15 बजे से 10.30 बजे तक छात्र केवल प्रश्न-पत्र को पढ़ेंगे और इस अवधि के दौरान वे उत्तर-पुस्तिका पर कोई उत्तर नहीं लिखेंगे ।

15 minute time has been allotted to read this question paper. The question paper will be distributed at 10.15 a.m. From 10.15 a.m. to 10.30 a.m., the students will read the question paper only and will not write any answer on the answer-book during this period.

अर्थशास्त्र
ECONOMICS



निर्धारित समय : 3 घण्टे

अधिकतम अंक : 80

Time allowed : 3 hours

Maximum Marks : 80



सामान्य निर्देश :

निम्नलिखित निर्देशों को ध्यानपूर्वक पढ़िए और उनका पालन कीजिए :

- (i) इस प्रश्न-पत्र में 34 प्रश्न हैं । सभी प्रश्न अनिवार्य हैं ।
- (ii) यह प्रश्न-पत्र दो खण्डों में विभाजित है :
खण्ड क - समष्टि अर्थशास्त्र
खण्ड ख - भारतीय आर्थिक विकास
- (iii) इस प्रश्न-पत्र में 20 बहुविकल्पीय प्रकार के प्रश्न हैं । प्रत्येक प्रश्न 1 अंक का है ।
- (iv) इस प्रश्न-पत्र में 4 लघु-उत्तरीय प्रकार-I के प्रश्न हैं । प्रत्येक प्रश्न 3 अंकों का है । इन प्रश्नों के उत्तर 60 से 80 शब्दों में लिखे जाने चाहिए ।
- (v) इस प्रश्न-पत्र में 6 लघु-उत्तरीय प्रकार-II के प्रश्न हैं । प्रत्येक प्रश्न 4 अंकों का है । इन प्रश्नों के उत्तर 80 से 100 शब्दों में लिखे जाने चाहिए ।
- (vi) इस प्रश्न-पत्र में 4 दीर्घ-उत्तरीय प्रकार के प्रश्न हैं । प्रत्येक प्रश्न 6 अंकों का है । इन प्रश्नों के उत्तर 100 से 150 शब्दों में लिखे जाने चाहिए ।
- (vii) प्रत्येक प्रश्न के सभी भागों के उत्तर एक साथ लिखे जाने चाहिए ।
- (viii) इसके अतिरिक्त, ध्यान दें कि दृष्टिबाधित परीक्षार्थियों के लिए फोटो तथा मानचित्र आदि आधारित प्रश्नों के स्थान पर एक अन्य प्रश्न दिया गया है । इन प्रश्नों के उत्तर केवल दृष्टिबाधित परीक्षार्थी ही लिखें ।
- (ix) प्रश्न-पत्र में कोई समग्र विकल्प नहीं है । यद्यपि कुछ प्रश्नों में आंतरिक विकल्प का प्रावधान दिया गया है । इन प्रश्नों में से केवल एक ही प्रश्न का उत्तर लिखा जाए ।

खण्ड क समष्टि अर्थशास्त्र

1. निम्नलिखित कथनों को पढ़िए - अभिकथन (A) और कारण (R) । नीचे दिए गए विकल्पों में से सही विकल्प चुनिए :

1

अभिकथन (A) : पूर्ण रोज़गार स्थिति से तात्पर्य अनैच्छिक बेरोज़गारी की अनुपस्थिति से है ।

कारण (R) : पूर्ण रोज़गार की स्थिति में, सभी इच्छुक व सक्षम व्यक्तियों को प्रचलित मज़दूरी दर पर रोज़गार प्राप्त होता है ।

विकल्प :

- (A) अभिकथन (A) और कारण (R) दोनों सत्य हैं और कारण (R), अभिकथन (A) की सही व्याख्या है ।
- (B) अभिकथन (A) और कारण (R) दोनों सत्य हैं, लेकिन कारण (R), अभिकथन (A) की सही व्याख्या नहीं है ।
- (C) अभिकथन (A) सत्य है, लेकिन कारण (R) असत्य है ।
- (D) अभिकथन (A) असत्य है, लेकिन कारण (R) सत्य है ।



General Instructions :

Read the following instructions carefully and follow them :

- (i) *This question paper contains **34** questions. **All** questions are **compulsory**.*
- (ii) *This question paper contains **two** sections :*
 - Section A – Macro Economics**
 - Section B – Indian Economic Development**
- (iii) *This question paper contains **20** Multiple Choice type questions. Each question carries **1** mark.*
- (iv) *This question paper contains **4** Short Answer Type-I questions. Each question carries **3** marks. Answer these questions in 60 to 80 words.*
- (v) *This question paper contains **6** Short Answer Type-II questions. Each question carries **4** marks. Answer these questions in 80 to 100 words.*
- (vi) *This question paper contains **4** Long Answer type questions. Each question carries **6** marks. Answer these questions in 100 to 150 words.*
- (vii) *Attempt **all** parts of a question together.*
- (viii) *In addition to this, note that a separate question has been provided for Visually Impaired candidates in lieu of questions having visual inputs, map etc. Such questions are to be attempted by Visually Impaired candidates only.*
- (ix) *There is no overall choice in the question paper. However, an internal choice has been provided in few questions. Only one of the choices in such questions has to be attempted.*

SECTION A **Macro Economics**

1. Read the following statements – Assertion (A) and Reason (R). Choose the correct alternative given below : 1
- Assertion (A) :* Full employment situation refers to absence of involuntary unemployment.
- Reason (R) :* Under full employment situation, all the willing and able bodied people get employment at the prevailing wage rate.
- Alternatives :
- (A) Both Assertion (A) and Reason (R) are true and Reason (R) is the correct explanation of Assertion (A).
 - (B) Both Assertion (A) and Reason (R) are true, but Reason (R) is **not** the correct explanation of Assertion (A).
 - (C) Assertion (A) is true, but Reason (R) is false.
 - (D) Assertion (A) is false, but Reason (R) is true.



2. “दिनांक 9 जून 2023 के, नेशनल स्टॉक एक्सचेंज (NSE) के आँकड़ों के अनुसार, एक माह की अवधि यानि, 9 मई 2023 - 9 जून 2023, में विदेशी संस्थागत निवेशकों (FII) द्वारा ₹ 309 करोड़ की शुद्ध बिक्री की गई थी।”
उपर्युक्त लेन-देन भारत के भुगतान संतुलन के _____ खाते के _____ पक्ष में दर्ज किया जाएगा। (रिक्त स्थानों को भरने के लिए सही विकल्प का चयन कीजिए) 1
- (A) चालू, डेबिट (B) पूँजी, क्रेडिट
(C) चालू, क्रेडिट (D) पूँजी, डेबिट
3. निम्नलिखित में से मुद्रा आपूर्ति (M_1) की असत्य विशेषता/विशेषताओं की पहचान कीजिए : 1
- (i) इसे समय के एक बिंदु पर मापा जाता है।
(ii) इसमें सरकार के पास रखे गए धन-भंडार को सम्मिलित नहीं किया जाता है।
(iii) यह सदैव राष्ट्र के केन्द्रीय बैंक के पास रखी मुद्रा होती है।
- विकल्प :
- (A) (i) और (ii) (B) (ii) और (iii)
(C) केवल (ii) (D) केवल (iii)
4. कीन्स के अनुसार घरेलू क्षेत्र द्वारा किया गया कुल उपभोग व्यय _____ व _____ का संयोजन है। (रिक्त स्थानों को भरने के लिए सही विकल्प का चयन कीजिए) 1
- (A) स्वायत्त उपभोग, स्वायत्त निवेश
(B) स्वायत्त निवेश, प्रेरित उपभोग
(C) प्रेरित निवेश, स्वायत्त निवेश
(D) स्वायत्त उपभोग, प्रेरित उपभोग
5. लुप्त आँकड़ों की पहचान कीजिए व सही विकल्प का चयन कीजिए : 1

चक्र	जमा	ऋण (80%)	आरक्षित अनुपात (20%)
I	5000	4000	..(i)..
II	4000	..(ii)..	800
...
...
कुल	..(iii)..	..(iv)..	5000

विकल्प :

- (A) 1000, 800, 20000, 25000
(B) 5000, 3200, 25000, 20000
(C) 1000, 3200, 25000, 20000
(D) 1000, 800, 20000, 25000



2. “As per the National Stock Exchange (NSE) data, dated 9th June, 2023, there was a net selling off worth ₹ 309 crore by Foreign Institutional Investors (FIIs) over the period of one month i.e., 9th May, 2023 – 9th June, 2023.”

The above mentioned transactions will be recorded on _____ side of _____ account of Balance of Payments of India.

(Choose the correct alternative to fill in the blanks)

1

- (A) Debit, Current (B) Credit, Capital
(C) Credit, Current (D) Debit, Capital

3. Identify the **incorrect** feature(s) of money supply (M_1) from the following :

1

- (i) It is measured at a point of time.
(ii) It does not include stock of money held by the government.
(iii) It is always the currency in the hands of the Central Bank of a nation.

Alternatives :

- (A) (i) and (ii) (B) (ii) and (iii)
(C) (ii) only (D) (iii) only

4. Total consumption expenditure by households under Keynesian Economics is a combination of _____ and _____.

(Choose the correct alternative to fill in the blanks)

1

- (A) Autonomous Consumption, Autonomous Investments
(B) Autonomous Investments, Induced Consumption
(C) Induced Investments, Autonomous Investments
(D) Autonomous Consumption, Induced Consumption

5. Find the missing figures and choose the correct alternative :

1

<i>Round</i>	<i>Deposits</i>	<i>Loans (80%)</i>	<i>Reserve Ratio (20%)</i>
I	5000	4000	..(i)..
II	4000	..(ii)..	800
...
...
Total	..(iii)..	..(iv)..	5000

Alternatives :

- (A) 1000, 800, 20000, 25000
(B) 5000, 3200, 25000, 20000
(C) 1000, 3200, 25000, 20000
(D) 1000, 800, 20000, 25000



6. भुगतान संतुलन (BOP) में अधिशेष का तात्पर्य _____ की अधिकता से है ।
(रिक्त स्थान को भरने के लिए सही विकल्प का चयन कीजिए) 1
- (A) स्वायत्त प्राप्तियों पर स्वायत्त भुगतान
(B) स्वायत्त प्राप्तियों पर चालू खाता भुगतान
(C) पूँजी खाता भुगतान पर पूँजी खाता प्राप्तियों
(D) स्वायत्त भुगतान पर स्वायत्त प्राप्तियों
7. किसी काल्पनिक अर्थव्यवस्था के लिए मान लीजिए कि :
 $C = 100 + 0.75Y$ (जहाँ C = उपभोग व Y = आय)
 $I_0 = 400$ (I_0 = स्वायत्त निवेश)
निवेश गुणक (K) का मान _____ होगा ।
(रिक्त स्थान को भरने के लिए सही विकल्प का चयन कीजिए) 1
- (A) 5 (B) 4
(C) 6 (D) 3
8. मान लीजिए कि, एक काल्पनिक अर्थव्यवस्था का व्यापार संतुलन ₹ 500 करोड़ का अनुकूल संतुलन दर्शाता है । माल निर्यात का मूल्य ₹ 1200 करोड़ व हस्तांतरण भुगतान ₹ 400 करोड़ है ।
वाणिज्य (Merchandise) आयात का मूल्य ₹ _____ करोड़ होगा ।
(रिक्त स्थान को भरने के लिए सही विकल्प का चयन कीजिए) 1
- (A) 1700
(B) 750
(C) 700
(D) 900
9. निम्नलिखित कथनों का ध्यानपूर्वक अध्ययन कीजिए : 1
- कथन 1 : यदि किसी अर्थव्यवस्था में, आय के स्तर में वृद्धि (ΔY) होती है, तो यह उपभोग के स्तर (ΔC) में सदैव आनुपातिक रूप से वृद्धि कर देगी ।
कथन 2 : सीमांत उपभोग प्रवृत्ति (MPC) व सीमांत बचत प्रवृत्ति (MPS) सदैव एक-दूसरे के बराबर होती हैं ।
दिए गए कथनों के आलोक में, निम्नलिखित में से सही विकल्प का चयन कीजिए :
- (A) कथन 1 सत्य है और कथन 2 असत्य है ।
(B) कथन 1 असत्य है और कथन 2 सत्य है ।
(C) कथन 1 और 2 दोनों सत्य हैं ।
(D) कथन 1 और 2 दोनों असत्य हैं ।



6. Surplus in Balance of Payments (BOP) refers to the excess of _____. (Choose the correct alternative to fill in the blank) 1
- (A) Autonomous payments over Autonomous receipts
(B) Current Account payments over Autonomous receipts
(C) Capital Account receipts over Capital Account payments
(D) Autonomous receipts over Autonomous payments
7. Suppose for a hypothetical economy :
 $C = 100 + 0.75Y$ (where C = Consumption and Y = Income)
 $I_0 = 400$ (I_0 = Autonomous Investment)
Value of Investment Multiplier (K) would be _____.
(Choose the correct alternative to fill in the blank) 1
- (A) 5 (B) 4
(C) 6 (D) 3
8. Suppose, the Balance of Trade of an imaginary economy shows a favourable balance of ₹ 500 crore. The values of merchandise exports are ₹ 1200 crore and transfer payments are ₹ 400 crore.
The value of merchandise imports would be ₹ _____ crore.
(Choose the correct alternative to fill in the blank) 1
- (A) 1700
(B) 750
(C) 700
(D) 900
9. Read the following statements carefully : 1
- Statement 1* : If in an economy the level of income increases (ΔY), it will always proportionately increase the level of consumption (ΔC).
- Statement 2* : Marginal Propensity to Consume (MPC) and Marginal Propensity to Save (MPS) are always equal to each other.
- In the light of the given statements, choose the correct alternative from the following :
- (A) Statement 1 is true and Statement 2 is false.
(B) Statement 1 is false and Statement 2 is true.
(C) Both Statements 1 and 2 are true.
(D) Both Statements 1 and 2 are false.



10. निम्नलिखित में से सही समीकरण की पहचान कीजिए :

1

- (A) $GDP_{MP} = NNP_{FC} + \text{मूल्यहास}$
- (B) $NDP_{FC} = NNP_{FC} + \text{शुद्ध अप्रत्यक्ष कर}$
- (C) $GNP_{MP} = GDP_{MP} + \text{विदेशों से प्राप्त शुद्ध साधन आय}$
- (D) $NNP_{FC} = NDP_{MP} + \text{मूल्यहास}$

11. (क) एक काल्पनिक अर्थव्यवस्था के लिए नीचे दिए गए आँकड़ों के आधार पर, साधन लागत पर शुद्ध घरेलू उत्पाद (NDP_{FC}) के मूल्य का अनुमान लगाइए :

3

क्र.सं.	मर्दे	राशि (₹ करोड़ में)
(i)	सकल घरेलू स्थायी पूँजी निर्माण	300
(ii)	निर्यात	70
(iii)	अंतिम सरकारी उपभोग व्यय	400
(iv)	स्थायी पूँजी का उपभोग	50
(v)	अंतिम घरेलू उपभोग व्यय	590
(vi)	मालसूची (Inventory) निवेश (शुद्ध)	(-) 60
(vii)	आयात	80
(viii)	शुद्ध अप्रत्यक्ष कर	50
(ix)	विदेशों से प्राप्त शुद्ध कारक आय	40

अथवा

- (ख) (i) उपयुक्त उदाहरण की सहायता से बाह्यताओं की अवधारणा का वर्णन कीजिए ।
- (ii) प्रचालन अधिशेष को परिभाषित कीजिए ।

2

1

12. स्थिर विनिमय दर प्रणाली तथा नम्य विनिमय दर प्रणाली के मध्य अंतर स्पष्ट कीजिए ।

3



10. Identify the correct equation from the following :

1

- (A) $GDP_{MP} = NNP_{FC} + \text{Depreciation}$
- (B) $NDP_{FC} = NNP_{FC} + \text{Net Indirect Taxes}$
- (C) $GNP_{MP} = GDP_{MP} + \text{Net Factor Income from Abroad}$
- (D) $NNP_{FC} = NDP_{MP} + \text{Depreciation}$

11. (a) On the basis of the data given below for an imaginary economy, estimate the value of Net Domestic Product at Factor Cost (NDP_{FC}) :

3

S. No.	Items	Amount (in ₹ crore)
(i)	Gross Domestic Fixed Capital Formation	300
(ii)	Exports	70
(iii)	Government Final Consumption Expenditure	400
(iv)	Consumption of Fixed Capital	50
(v)	Household Final Consumption Expenditure	590
(vi)	Inventory Investment (Net)	(-) 60
(vii)	Imports	80
(viii)	Net Indirect Taxes	50
(ix)	Net Factor Income from Abroad	40

OR

- (b) (i) Elaborate the concept of Externalities with the help of suitable example.
- (ii) Define Operating Surplus.

2

1

12. Distinguish between fixed exchange rate system and flexible exchange rate system.

3



13. दिनांक 8 जून 2023 के 'द ईकोनोमिक टाइम्स' से उद्धृत निम्नलिखित गद्य का ध्यानपूर्वक अध्ययन कीजिए :

“भारतीय रिज़र्व बैंक (RBI) की दर निर्धारण समिति ने स्पष्ट रूप से बेंचमार्क ऋण दर को 6.5% पर अपरिवर्तित रखने का निर्णय लिया है। समिति ने समायोजन मौद्रिक नीति (Accommodating Monetary Policy) को वापस लेने पर ध्यान केन्द्रित करने के लिए मतदान किया है।”

दिए गए गद्य व सामान्य समझ के आधार पर निम्नलिखित प्रश्नों के उत्तर दीजिए :

- (क) उपर्युक्त गद्य में दर्शाए गए आर्थिक मुद्दे को पहचानिए व चर्चा कीजिए। 2
- (ख) यदि दर निर्धारण समिति ने उक्त दर में कमी की होती, तो मुद्रा आपूर्ति के संभावित परिणामों की चर्चा कीजिए। 2

14. (क) निम्नलिखित तालिका को पूरा कीजिए। आय के ₹ 200 करोड़ के स्तर पर उपभोग फलन का निर्माण कीजिए। 4

आय (Y) (₹ करोड़ में)	बचत (₹ करोड़ में)	औसत उपभोग प्रवृत्ति (APC)	सीमांत बचत प्रवृत्ति (MPS)
0	(-) 30	—	—
100	1
200	0.85
300	0.8

अथवा

- (ख) “किसी अर्थव्यवस्था में, प्रत्याशित समग्र आपूर्ति, प्रत्याशित समग्र माँग से कम है।”
उत्पादन, आय व रोज़गार के स्तर पर इसके प्रभाव की व्याख्या कीजिए। 4

15. निम्नलिखित कथनों को वैध तर्कों द्वारा प्रमाणित कीजिए :

- (क) किसी अर्थव्यवस्था में, लेन-देन संबंधी उद्देश्यों के लिए, मुद्रा ‘विनिमय के माध्यम’ के रूप में कार्य करती है। 2
- (ख) किसी अर्थव्यवस्था में केन्द्रीय बैंक, बैंकों के बैंक के रूप में कार्य करता है। 2



13. Read the following text carefully from ‘The Economic Times’ dated 8th June, 2023 :

“The Reserve Bank of India’s (RBI’s) rate setting panel unanimously decided to keep the benchmark lending rate unchanged at 6·5%. The committee voted to remain focused on the withdrawal of accommodating monetary policy.”

On the basis of given text and common understanding, answer the following questions :

- (a) Identify and discuss the economic issue indicated in the above text. 2
- (b) Discuss the likely consequence on money supply if the rate setting panel would have decreased the said rate. 2

14. (a) Complete the following table. Construct/Express the Consumption function at ₹ 200 crore level of income. 4

<i>Income (Y)</i> <i>(in ₹ crore)</i>	<i>Savings</i> <i>(in ₹ crore)</i>	<i>Average Propensity</i> <i>to Consume (APC)</i>	<i>Marginal Propensity</i> <i>to Save (MPS)</i>
0	(–) 30	–	–
100	1
200	0·85
300	0·8

OR

- (b) “In an economy, ex-ante Aggregate Supply is less than ex-ante Aggregate Demand.”
- Explain its impact on the level of output, income and employment. 4

15. Justify the following statements with valid arguments :

- (a) Money serves as the ‘medium of exchange’ for transactional purposes in an economy. 2
- (b) The Central Bank acts as Banker’s Bank in an economy. 2



16. (क) (i) नीचे दिए गए चार्ट का ध्यानपूर्वक अध्ययन कीजिए और निम्नलिखित पर सरकारी व्यय में बदलते रुझानों का विश्लेषण कीजिए :

(I) कृषि और संबद्ध गतिविधियाँ

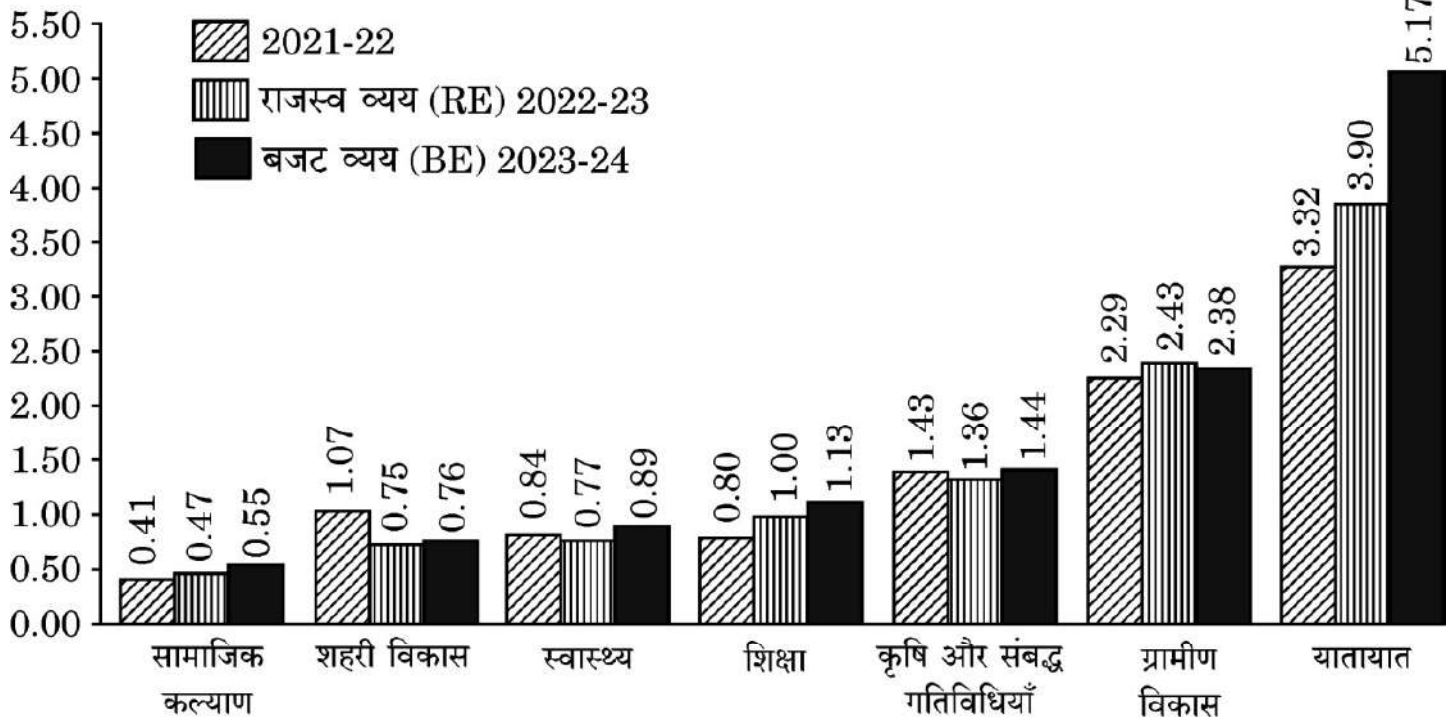
2

(II) यातायात

2

व्यय की प्रमुख मदों की प्रवृत्ति

(₹ लाख करोड़)



(क) (ii) 'राजस्व घाटे' व 'प्राथमिक घाटे' के बीच अंतर स्पष्ट कीजिए ।

2

अथवा

(ख) निम्नलिखित को राजस्व प्राप्तियों अथवा पूँजीगत प्राप्तियों में वर्गीकृत कीजिए । अपने उत्तर के पक्ष में वैध तर्क दीजिए :

(i) ऋण पर प्राप्त ब्याज ।

2

(ii) किसी सरकारी कम्पनी की बिक्री से विनिवेश प्राप्तियाँ ।

2

(iii) भारत में बालिका शिक्षा को प्रोत्साहित करने के लिए संयुक्त राज्य अमेरिका (USA) सरकार द्वारा दी गई वित्तीय सहायता ।

2

नोट : निम्नलिखित प्रश्न केवल दृष्टिबाधित परीक्षार्थियों के लिए प्रश्न संख्या 16 क(i) के स्थान पर है ।

सरकारी बजट के स्थिरीकरण कार्य की व्याख्या कीजिए ।

4

17. (क) एक द्वि-क्षेत्रक मॉडल में आय के चक्रीय प्रवाह की अवधारणा की संक्षेप में व्याख्या कीजिए ।

3

(ख) "मौद्रिक सकल घरेलू उत्पाद (GDP) की तुलना में वास्तविक सकल घरेलू उत्पाद (GDP) किसी राष्ट्र की आर्थिक संवृद्धि का बेहतर संकेतक है ।"

क्या आप दिए गए कथन से सहमत हैं ? किसी वैध काल्पनिक संख्यात्मक उदाहरण के साथ अपने उत्तर की पुष्टि कीजिए ।

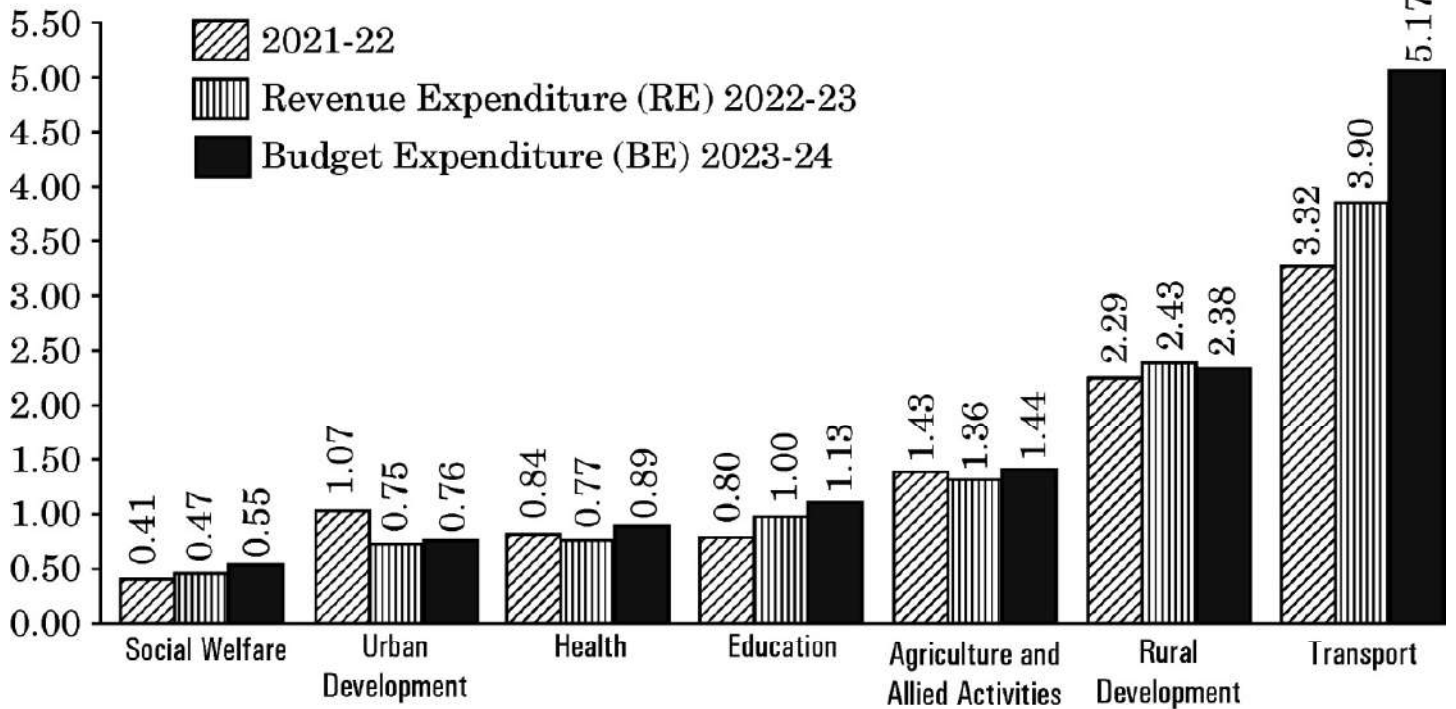
3



16. (a) (i) Study the following chart carefully and analyse the changing trends in the government expenditure on :
- (I) Agriculture and Allied Activities 2
- (II) Transport 2

TREND OF MAJOR ITEMS OF EXPENDITURE

(₹ lakh crore)



- (a) (ii) Distinguish between 'Revenue deficit' and 'Primary deficit'. 2

OR

- (b) Classify the following as Revenue receipts or Capital receipts. Give valid arguments in support of your answer :
- (i) Interest received on loan. 2
- (ii) Disinvestment receipts from the sale of a government company. 2
- (iii) Financial assistance by the Government of USA for promoting girl education in India. 2

Note : The following question is for the **Visually Impaired Candidates** only in lieu of Q. No. 16 a(i).

Explain the stabilisation function of the Government Budget. 4

17. (a) Discuss briefly the concept of circular flow of income in a two-sector model. 3
- (b) "Real Gross Domestic Product (GDP) is a better indicator of economic growth of a nation as compared to the Nominal Gross Domestic Product (GDP)." 3
- Do you agree with the given statement ? Justify your answer with a valid hypothetical numerical example.



खण्ड ख

भारतीय आर्थिक विकास

18. निम्नलिखित कथनों का ध्यानपूर्वक अध्ययन कीजिए : 1
- कथन 1 : औपनिवेशिक शासन के अंतर्गत, आधारिक संरचना (जैसे रेलवे, डाक व तार आदि) का विकास किया गया था ।
- कथन 2 : भारत में आधारिक संरचना के विकास के पीछे वास्तविक उद्देश्य ब्रिटिश हितों को सुदृढ़ करना था ।
- दिए गए कथनों के आलोक में, निम्नलिखित में से सही विकल्प का चयन कीजिए :
- (A) कथन 1 सत्य है और कथन 2 असत्य है ।
- (B) कथन 1 असत्य है और कथन 2 सत्य है ।
- (C) कथन 1 और 2 दोनों सत्य हैं ।
- (D) कथन 1 और 2 दोनों असत्य हैं ।
19. पहचान कीजिए कि निम्नलिखित में से कौन-सा विकल्प, कृषि विपणन प्रणाली के *असत्य* घटकों के युग्म को दर्शाता है : 1
- (A) संयोजन, भंडारण, प्रसंस्करण, पैकेजिंग
- (B) उत्पादन, संयोजन, प्रसंस्करण, ग्रेडिंग
- (C) संयोजन, प्रसंस्करण, पैकेजिंग, परिवहन
- (D) प्रसंस्करण, पैकेजिंग, ग्रेडिंग, वितरण
20. निम्नलिखित कथनों को पढ़िए – अभिकथन (A) और कारण (R) । नीचे दिए गए विकल्पों में से सही विकल्प चुनिए : 1
- अभिकथन (A) : विश्व व्यापार संगठन (WTO) से यह अपेक्षा की जाती है कि वह सदस्य राष्ट्रों द्वारा लगाए गए एकतरफा तथा मनमाने प्रतिबंधों से बचने के लिए नियम-आधारित व्यापारिक व्यवस्था स्थापित करे ।
- कारण (R) : पर्यावरण संरक्षण के साथ-साथ, विश्व उत्पादन में वृद्धि करना व वैश्विक संसाधनों का इष्टतम उपयोग सुनिश्चित करना अनिवार्य है ।
- विकल्प :
- (A) अभिकथन (A) और कारण (R) दोनों सत्य हैं और कारण (R), अभिकथन (A) की सही व्याख्या है ।
- (B) अभिकथन (A) और कारण (R) दोनों सत्य हैं, लेकिन कारण (R), अभिकथन (A) की सही व्याख्या *नहीं* है ।
- (C) अभिकथन (A) सत्य है, लेकिन कारण (R) असत्य है ।
- (D) अभिकथन (A) असत्य है, लेकिन कारण (R) सत्य है ।



SECTION B
Indian Economic Development

18. Read the following statements carefully : 1
Statement 1 : Under the colonial rule, basic infrastructure (like railways, post and telegraph etc.) was developed.
Statement 2 : The real motive behind the infrastructural development in India was to strengthen the British interests.
In the light of the given statements, choose the correct alternative from the following :
(A) Statement 1 is true and Statement 2 is false.
(B) Statement 1 is false and Statement 2 is true.
(C) Both Statements 1 and 2 are true.
(D) Both Statements 1 and 2 are false.
19. Identify which of the following alternatives indicate the **incorrect** components combination of Agriculture Marketing System : 1
(A) Assembling, Storage, Processing, Packaging
(B) Production, Assembling, Processing, Grading
(C) Assembling, Processing, Packaging, Transportation
(D) Processing, Packaging, Grading, Distribution
20. Read the following statements – Assertion (A) and Reason (R). Choose the correct alternative given below : 1
Assertion (A) : World Trade Organization (WTO) is expected to establish the rule-based trading regime, to avoid unilaterally placed arbitrary restrictions by member nations.
Reason (R) : It is imperative to enlarge world production and ensure optimum utilization of world resources along with environmental protection.
Alternatives :
(A) Both Assertion (A) and Reason (R) are true and Reason (R) is the correct explanation of Assertion (A).
(B) Both Assertion (A) and Reason (R) are true, but Reason (R) is **not** the correct explanation of Assertion (A).
(C) Assertion (A) is true, but Reason (R) is false.
(D) Assertion (A) is false, but Reason (R) is true.



21. निम्नलिखित कथनों को पढ़िए – अभिकथन (A) और कारण (R)। नीचे दिए गए विकल्पों में से सही विकल्प चुनिए :

1

अभिकथन (A) : चीन ने अपने नागरिकों के लिए अतिरिक्त सामाजिक व आर्थिक अवसर उत्पन्न करने के लिए बाज़ार तंत्र का उपयोग किया है।

कारण (R) : सरकार द्वारा सामाजिक आधारिक संरचना के निर्माण ने चीन में मानव विकास संकेतकों में सकारात्मक परिणाम दिए हैं।

विकल्प :

- (A) अभिकथन (A) और कारण (R) दोनों सत्य हैं और कारण (R), अभिकथन (A) की सही व्याख्या है।
- (B) अभिकथन (A) और कारण (R) दोनों सत्य हैं, लेकिन कारण (R), अभिकथन (A) की सही व्याख्या नहीं है।
- (C) अभिकथन (A) सत्य है, लेकिन कारण (R) असत्य है।
- (D) अभिकथन (A) असत्य है, लेकिन कारण (R) सत्य है।

22. निम्नलिखित विकल्पों में से, विनियमित कृषि बाज़ार के असत्य उद्देश्यों की पहचान कीजिए :

1

- (i) कृषकों को उनके उत्पादों का सर्वोत्तम मूल्य दिलवाने के लिए विपणन प्रणाली को कुशल व प्रभावी बनाना।
- (ii) कृषकों के लिए विपणन बुनियादी ढाँचे में सुधार को हतोत्साहित करना।
- (iii) कृषकों का शोषण रोकना।
- (iv) कृषकों को उनकी उपज की गुणवत्ता व मात्रा में सुधार करने के लिए हतोत्साहित करना।

विकल्प :

- (A) (i) और (ii) (B) (i) और (iii)
- (C) (iii) और (iv) (D) (ii) और (iv)

23. भारत व पाकिस्तान में क्रमशः _____ व _____ वर्षों में आर्थिक सुधार लागू किए गए थे।

(रिक्त स्थानों को भरने के लिए सही विकल्प का चयन कीजिए)

1

- (A) 1988, 1978 (B) 1991, 1978
- (C) 1991, 1988 (D) 1981, 1991



21. Read the following statements – Assertion (A) and Reason (R). Choose the correct alternative given below :

1

Assertion (A) : China has used the market mechanism to create additional social and economic opportunities for its citizens.

Reason (R) : Social infrastructure creation by the government has brought positive results in human development indicators in China.

Alternatives :

- (A) Both Assertion (A) and Reason (R) are true and Reason (R) is the correct explanation of Assertion (A).
- (B) Both Assertion (A) and Reason (R) are true, but Reason (R) is **not** the correct explanation of Assertion (A).
- (C) Assertion (A) is true, but Reason (R) is false.
- (D) Assertion (A) is false, but Reason (R) is true.

22. Identify from the following alternatives the **incorrect** objectives of regulated agriculture market :

1

- (i) To make the marketing system efficient and effective for farmers to get best price of their products.
- (ii) To discourage improvement of marketing infrastructure for farmers.
- (iii) To prevent exploitation of farmers.
- (iv) To discourage farmers from improving quality and quantity of their produce.

Alternatives :

- (A) (i) and (ii)
- (B) (i) and (iii)
- (C) (iii) and (iv)
- (D) (ii) and (iv)

23. Economic reforms were introduced in India and Pakistan in the years _____ and _____, respectively.

(Choose the correct alternative to fill in the blanks)

1

- (A) 1988, 1978
- (B) 1991, 1978
- (C) 1991, 1988
- (D) 1981, 1991



24. निम्नलिखित कथनों का ध्यानपूर्वक अध्ययन कीजिए :

1

कथन 1 : राष्ट्रीय प्रतिदर्श सर्वेक्षण संगठन (NSSO) ने बेरोज़गारी को इस प्रकार परिभाषित किया है कि यह वह अवस्था है, जिसमें व्यक्ति काम के अभाव के कारण बिना काम के रह जाते हैं लेकिन वे संभावित नियोक्ताओं से काम की तलाश कर रहे हैं। वे काम और पारिश्रमिक की मौजूदा स्थितियों के तहत काम करने की इच्छा/उपलब्धता व्यक्त करते हैं।

कथन 2 : भारत जैसे अत्यधिक आबादी वाले राष्ट्र में प्रच्छन्न बेरोज़गारी आमतौर पर बड़ी समस्या है।

दिए गए कथनों के आलोक में, निम्नलिखित में से सही विकल्प का चयन कीजिए :

- (A) कथन 1 सत्य है और कथन 2 असत्य है।
- (B) कथन 1 असत्य है और कथन 2 सत्य है।
- (C) कथन 1 और 2 दोनों सत्य हैं।
- (D) कथन 1 और 2 दोनों असत्य हैं।

25. पहचान कीजिए कि निम्नलिखित में से कौन-सा G-20 का सदस्य राष्ट्र *नहीं* है :

1

- (A) ब्राज़ील
- (B) ऑस्ट्रेलिया
- (C) बांग्लादेश
- (D) अर्जेंटीना

26. निम्नलिखित कथनों को पढ़िए – अभिकथन (A) और कारण (R)। नीचे दिए गए विकल्पों में से सही विकल्प चुनिए :

1

अभिकथन (A) : परमिट लाइसेंस राज के अत्यधिक विनियमन ने कुछ निजी फर्मों को प्रतिस्पर्धी होने से रोक दिया था।

कारण (R) : निजी क्षेत्र ने उत्पाद गुणवत्ता और अंतर्राष्ट्रीय प्रतिस्पर्धात्मकता में सुधार के बजाय लाइसेंस प्राप्त करने में बड़ी राशि बर्बाद की थी।

विकल्प :

- (A) अभिकथन (A) और कारण (R) दोनों सत्य हैं और कारण (R), अभिकथन (A) की सही व्याख्या है।
- (B) अभिकथन (A) और कारण (R) दोनों सत्य हैं, लेकिन कारण (R), अभिकथन (A) की सही व्याख्या *नहीं* है।
- (C) अभिकथन (A) सत्य है, लेकिन कारण (R) असत्य है।
- (D) अभिकथन (A) असत्य है, लेकिन कारण (R) सत्य है।



24. Read the following statements carefully : 1
- Statement 1* : As per the National Sample Survey Organization (NSSO), unemployment is a situation in which all those who, owing to lack of work, are not working, but are seeking work from prospective employers. They express their willingness/availability to work under the prevailing conditions of work and remuneration.
- Statement 2* : Disguised Unemployment is generally a massive problem in a highly populated country like India.
- In the light of the given statements, choose the correct alternative from the following :
- (A) Statement 1 is true and Statement 2 is false.
 - (B) Statement 1 is false and Statement 2 is true.
 - (C) Both Statements 1 and 2 are true.
 - (D) Both Statements 1 and 2 are false.
25. Identify which of the following is **not** a member nation of G20 : 1
- (A) Brazil
 - (B) Australia
 - (C) Bangladesh
 - (D) Argentina
26. Read the following statements – Assertion (A) and Reason (R). Choose the correct alternative given below : 1
- Assertion (A)* : The excessive regulation of permit license raj prevented certain private firms from becoming fairly competitive.
- Reason (R)* : Private sector wasted huge amounts in obtaining licenses rather than on improving the product quality and international competitiveness.
- Alternatives :
- (A) Both Assertion (A) and Reason (R) are true and Reason (R) is the correct explanation of Assertion (A).
 - (B) Both Assertion (A) and Reason (R) are true, but Reason (R) is **not** the correct explanation of Assertion (A).
 - (C) Assertion (A) is true, but Reason (R) is false.
 - (D) Assertion (A) is false, but Reason (R) is true.



- 27.** 1970 के दशक में, पाकिस्तान ने अपने _____ उद्योगों का राष्ट्रीयकरण किया था ।
(रिक्त स्थान को भरने के लिए सही विकल्प का चयन कीजिए) 1
- (A) चिकित्सा आधारिक संरचना संबंधी
- (B) उपभोक्ता वस्तुओं संबंधी
- (C) पूँजीगत वस्तुओं संबंधी
- (D) विदेशी व्यापार
- 28.** “भारत में, राष्ट्रीय शिक्षा नीति 2020 में शिक्षकों के सेवाकालीन प्रशिक्षण पर अत्यधिक बल दिया है ।”
- (i) उपर्युक्त कथन में इंगित मानव पूँजी निर्माण (HCF) के स्रोत की पहचान कीजिए । 1
- (ii) भारत के आर्थिक विकास पर इस स्रोत के संभावित प्रभावों की विस्तार से व्याख्या कीजिए । 2
- 29.** (क) उन कारणों को विस्तार से बताइए जिनके कारण निजी क्षेत्र को औद्योगिक नीति संकल्प, 1956 के तहत विनियमित किया गया था । 3

अथवा

- (ख) “औपनिवेशिक काल के दौरान कृषि क्षेत्र में स्थिरता (गतिहीनता) देखी गई थी ।”
क्या आप दिए गए कथन से सहमत हैं ? वैध तर्कों द्वारा अपने उत्तर का औचित्य सिद्ध कीजिए । 3



- 27.** In the decade of the 1970s, Pakistan nationalized its _____ industries.
(Choose the correct alternative to fill in the blank) 1
- (A) Medical infrastructure
(B) Consumer goods
(C) Capital goods
(D) Foreign trade
- 28.** “In India, National Education Policy 2020 has stressed a lot on in-service training of the teachers.”
- (i) Identify the source of Human Capital Formation (HCF) indicated in the aforesaid statement. 1
- (ii) Elaborate the likely impacts of this source on the economic development of India. 2
- 29.** (a) Elaborate the reasons owing to which the private sector was regulated under the Industrial Policy Resolution, 1956. 3

OR

- (b) “During the colonial period the agricultural sector showed massive stagnation.”

Do you agree with the given statement ? Justify your answer with valid arguments. 3



30. (क) “संयुक्त राष्ट्र के आर्थिक व सामाजिक मामलों के विभाग ने यह संकेत दिया है कि भारत अप्रैल 2023 के माह में चीन को पीछे छोड़कर, विश्व का सबसे अधिक जनसंख्या वाला राष्ट्र बन गया है।”
- चीन द्वारा 1970 के दशक में अपनाई गई एकल-बालक नीति के परिणामों की व्याख्या कीजिए। 2
- (ख) चीन की आर्थिक संवृद्धि पर विशेष आर्थिक क्षेत्र (SEZ) के प्रभावों की चर्चा कीजिए। 2
31. (क) वैध तर्कों द्वारा उल्लेख व व्याख्या कीजिए कि निम्नलिखित कथन सत्य हैं या असत्य :
- (i) हाल में, भारत सरकार ने वित्तीय संसाधनों के कुशलतम आबंटन के लिए जन-धन योजना जैसे कई महत्वपूर्ण कदम उठाए हैं। 2
- (ii) श्रमिक – जनसंख्या अनुपात किसी राष्ट्र में रोज़गार की स्थिति का विश्लेषण करने के लिए उपयोग किया जाने वाला एक संकेतक है। 2
- अथवा**
- (ख) (i) भारत में महिला शिक्षा को प्रोत्साहित करने की आवश्यकता की व्याख्या कीजिए। 3
- (ii) ग़ैर-कृषि प्रसंस्करण उद्योगों में विविधीकरण गतिविधियों के किन्हीं दो उदाहरणों का उल्लेख कीजिए। 1



- 30.** (a) “United Nations Department of Economic and Social Affairs indicated that India has overtaken China as the world’s most populous country in the month of April 2023.”
Explain the consequences of one-child policy adopted by China in the 1970s. 2
- (b) Discuss the impacts of Special Economic Zones (SEZs) on the economic growth of China. 2
- 31.** (a) State and elaborate whether the following statements are *true* or *false*, with valid arguments :
- (i) In the recent past, the Government of India has taken crucial steps, like Jan-Dhan Yojana, for efficient allocation of financial resources. 2
- (ii) Worker – population ratio is an indicator, used for analyzing the employment situation in a nation. 2

OR

- (b) (i) Elaborate the need to promote women’s education in India. 3
- (ii) Mention any two examples of diversification activities in the non-agro processing industries. 1



32. (क) भारत के ग्रामीण क्षेत्रों में वित्तपोषण की सूक्ष्म ऋण (अतिलघु-साख) प्रणाली के कोई दो लाभ बताइए । 1
- (ख) “वर्तमान स्थिति में, भारत जैसे राष्ट्र में खाद्य सुरक्षा प्राप्त करने में सूचना प्रौद्योगिकी महत्वपूर्ण भूमिका निभाती है ।”
दिए गए कथन का औचित्य सिद्ध कीजिए । 3
33. (क) (i) “भारत सरकार द्वारा उठाए गए उदारीकरण उपायों के अंतर्गत, वित्तीय क्षेत्र में किए गए सुधार अत्यंत महत्वपूर्ण थे ।”
दिए गए कथन का वैध तर्कों द्वारा खंडन अथवा समर्थन कीजिए । 3
- (ii) स्पष्ट कीजिए कि, किस प्रकार हरित क्रांति ने सरकार को खाद्य पदार्थों की अल्पता के समय उपयोग करने के लिए भंडार बनाने के लिए पर्याप्त खाद्यान्न क्रय करने में सक्षम बनाया था । 3
- अथवा**
- (ख) (i) “हर सिक्के के दो पहलू होते हैं — कृषि उपदान पर बहस भी ऐसा ही एक उत्कृष्ट उदाहरण है ।”
कृषि उपदान जारी रखने के पक्ष व विपक्ष में दो-दो तर्कों सहित दिए गए कथन की पुष्टि कीजिए । 4
- (ii) भारतीय आर्थिक योजना के उद्देश्य के रूप में “समता के साथ संवृद्धि” के महत्त्व का उल्लेख कीजिए । 2

34. निम्नलिखित गद्य का ध्यानपूर्वक अध्ययन कीजिए :

भारत में वायु तथा जल प्रदूषण की दो प्रमुख पर्यावरण चिंताओं से निपटने के लिए सरकार ने 1974 में केंद्रीय प्रदूषण नियंत्रण बोर्ड (CPCB) की स्थापना की । इसके बाद, राज्य स्तर पर सभी पर्यावरणीय चिंताओं से निपटने के लिए राज्यों ने अपने-अपने बोर्ड बनाये । ये बोर्ड (CPCB) जल, वायु और भूमि प्रदूषण से संबंधित सूचनाओं का संकलन और वितरण करते हैं । वे कचरे/व्यापार निकास और उत्सर्जन के मानक निर्धारित करते हैं । ये बोर्ड सरकारों को जल प्रदूषण के रोकथाम, नियंत्रण और कमी के लिए जल-धाराओं द्वारा नदियों और कुओं की स्वच्छता के संवर्धन के लिए तकनीकी सहायता प्रदान करते हैं । इनका कार्य वायु की गुणवत्ता में सुधार भी है । ये देश में वायु प्रदूषण के नियंत्रण द्वारा भी सरकारों को तकनीकी सहायता प्रदान करते हैं ।



- 32.** (a) State any two advantages of micro-credit system of financing in rural areas of India. 1
- (b) “In the current situation, Information Technology plays a vital role in achieving food security in a nation like India.”
Justify the given statement. 3
- 33.** (a) (i) “Under the liberalisation measures taken by the Government of India, financial sector reforms were extremely crucial.”
Reject or support the given statement with valid arguments. 3
- (ii) Clarify, how the Green Revolution enabled the government to procure sufficient food grains to build stocks to be used during the times of food shortages. 3
- OR**
- (b) (i) “Every coin has two sides — debate over farm subsidies is one such classic example of the same.”
Justify the given statement with two arguments each in favour of and against the continuation of the farm subsidies. 4
- (ii) State the importance of “Growth with equity” as the objective of Indian economic planning. 2

- 34.** Read the following text carefully :

In order to address two major environmental concerns in India, viz. water and air pollution, the government set up the Central Pollution Control Board (CPCB) in 1974. This was followed by states establishing their own state level boards to address all the environmental concerns. They investigate, collect and disseminate information relating to water, air and land pollution, lay down standards for sewage/trade effluent and emissions. These boards provide technical assistance to governments in promoting cleanliness of streams and wells by prevention, control and abatement of water pollution, and improve the quality of air and to prevent, control or abate air pollution in the country.



ये बोर्ड जल व वायु प्रदूषण से संबंधित समस्याओं की जाँच व अनुसंधान भी करते हैं और ऐसी जाँच व अनुसंधान को प्रायोजित करते हैं। इसके लिए वे जन संचार के माध्यम से जन जागरूकता कार्यक्रम संगठित करते हैं। PCB कचरे व वाणिज्य अपशिष्टों के निपटान और उपचार से संबंधित नियमावली, संहिता और मार्गदर्शक सूचिका तैयार करते हैं।

उद्योगों के विनियमन द्वारा वे वायु गुणवत्ता का मूल्यांकन करते हैं। वास्तव में अपने जिला स्तरीय अधिकारियों के माध्यम से राज्य बोर्ड अपने क्षेत्राधिकार में आने वाले प्रत्येक उद्योग का समय-समय पर निरीक्षण, निकास और गैसीय उत्सर्जन हेतु उपलब्ध उपायों की पर्याप्तता का विश्लेषण करने के लिए करता है। यह उद्योग-स्थान निर्धारण व नगर नियोजन के लिए आवश्यक पृष्ठभूमि तथा वायु गुणवत्ता आँकड़े भी प्रदान करता है।

प्रदूषण नियंत्रण बोर्ड जल प्रदूषण से संबंधित तकनीकी और सांख्यिकी आँकड़ों का संकलन, संपादन और वितरण करते हैं। ये 125 नदियों (इसमें उपनदियाँ भी शामिल हैं), कुएँ, झील, खाड़ी, तालाब, टैंक, नाले और नहरों में जल की गुणवत्ता की देखरेख करते हैं।

दिए गए गद्य व सामान्य ज्ञान के आधार पर निम्नलिखित प्रश्नों के उत्तर दीजिए :

(क) ऐसे किन्हीं दो मुद्दों का उल्लेख कीजिए जिनके कारण केन्द्रीय प्रदूषण नियंत्रण बोर्ड (CPCB) की स्थापना की गई थी।

1

(ख) केन्द्रीय प्रदूषण नियंत्रण बोर्ड (CPCB) द्वारा किए जाने वाले किन्हीं दो कार्यों की व्याख्या कीजिए।

2

(ग) भारत द्वारा धारणीय विकास सुनिश्चित करने के लिए अपनाई गई किन्हीं दो रणनीतियों का वर्णन कीजिए।

3



These boards also carry out and sponsor investigation and research relating to problems of water and air pollution and for their prevention, control or abatement. They organize, through mass media, a comprehensive mass awareness programme for the same. The PCBs prepare manuals, codes and guidelines relating to treatment and disposal of sewage and trade effluents.

They assess the air quality through regulation of industries. In fact, state boards, through their district level officials, periodically inspect every industry under their jurisdiction to assess the adequacy of treatment measures provided to treat the effluent and gaseous emissions. It also provides background air quality data needed for industrial siting and town planning.

The pollution control boards collect, collate and disseminate technical and statistical data relating to water pollution. They monitor the quality of water in 125 rivers (including the tributaries), wells, lakes, creeks, ponds, tanks, drains and canals.

On the basis of the given text and common understanding, answer the following questions :

- (a) State any two concerns owing to which the Central Pollution Control Board (CPCB) was established. 1
- (b) Explain any two functions performed by the Central Pollution Control Board (CPCB). 2
- (c) Elaborate any two strategies to ensure sustainable development as adopted by India. 3



Series R1PQS/1

SET~3

रोल नं.							
Roll No.							

प्रश्न-पत्र कोड **58/1/3**
Q.P. Code

परीक्षार्थी प्रश्न-पत्र कोड को उत्तर-पुस्तिका के मुख-पृष्ठ पर अवश्य लिखें ।

Candidates must write the Q.P. Code on the title page of the answer-book.

नोट / NOTE :

- कृपया जाँच कर लें कि इस प्रश्न-पत्र में मुद्रित पृष्ठ **27** हैं ।
Please check that this question paper contains **27** printed pages.
- कृपया जाँच कर लें कि इस प्रश्न-पत्र में **34** प्रश्न हैं ।
Please check that this question paper contains **34** questions.
- प्रश्न-पत्र में दाहिने हाथ की ओर दिए गए प्रश्न-पत्र कोड को परीक्षार्थी उत्तर-पुस्तिका के मुख-पृष्ठ पर लिखें ।
Q.P. Code given on the right hand side of the question paper should be written on the title page of the answer-book by the candidate.
- कृपया प्रश्न का उत्तर लिखना शुरू करने से पहले, उत्तर-पुस्तिका में प्रश्न का क्रमांक अवश्य लिखें ।
Please write down the serial number of the question in the answer-book before attempting it.
- इस प्रश्न-पत्र को पढ़ने के लिए 15 मिनट का समय दिया गया है । प्रश्न-पत्र का वितरण पूर्वाह्न में 10.15 बजे किया जाएगा । 10.15 बजे से 10.30 बजे तक छात्र केवल प्रश्न-पत्र को पढ़ेंगे और इस अवधि के दौरान वे उत्तर-पुस्तिका पर कोई उत्तर नहीं लिखेंगे ।
15 minute time has been allotted to read this question paper. The question paper will be distributed at 10.15 a.m. From 10.15 a.m. to 10.30 a.m., the students will read the question paper only and will not write any answer on the answer-book during this period.

**अर्थशास्त्र
ECONOMICS**



निर्धारित समय : 3 घण्टे

अधिकतम अंक : 80

Time allowed : 3 hours

Maximum Marks : 80



सामान्य निर्देश :

निम्नलिखित निर्देशों को ध्यानपूर्वक पढ़िए और उनका पालन कीजिए :

- (i) इस प्रश्न-पत्र में 34 प्रश्न हैं । सभी प्रश्न अनिवार्य हैं ।
- (ii) यह प्रश्न-पत्र दो खण्डों में विभाजित है :
खण्ड क - समष्टि अर्थशास्त्र
खण्ड ख - भारतीय आर्थिक विकास
- (iii) इस प्रश्न-पत्र में 20 बहुविकल्पीय प्रकार के प्रश्न हैं । प्रत्येक प्रश्न 1 अंक का है ।
- (iv) इस प्रश्न-पत्र में 4 लघु-उत्तरीय प्रकार-I के प्रश्न हैं । प्रत्येक प्रश्न 3 अंकों का है । इन प्रश्नों के उत्तर 60 से 80 शब्दों में लिखे जाने चाहिए ।
- (v) इस प्रश्न-पत्र में 6 लघु-उत्तरीय प्रकार-II के प्रश्न हैं । प्रत्येक प्रश्न 4 अंकों का है । इन प्रश्नों के उत्तर 80 से 100 शब्दों में लिखे जाने चाहिए ।
- (vi) इस प्रश्न-पत्र में 4 दीर्घ-उत्तरीय प्रकार के प्रश्न हैं । प्रत्येक प्रश्न 6 अंकों का है । इन प्रश्नों के उत्तर 100 से 150 शब्दों में लिखे जाने चाहिए ।
- (vii) प्रत्येक प्रश्न के सभी भागों के उत्तर एक साथ लिखे जाने चाहिए ।
- (viii) इसके अतिरिक्त, ध्यान दें कि दृष्टिबाधित परीक्षार्थियों के लिए फोटो तथा मानचित्र आदि आधारित प्रश्नों के स्थान पर एक अन्य प्रश्न दिया गया है । इन प्रश्नों के उत्तर केवल दृष्टिबाधित परीक्षार्थी ही लिखें ।
- (ix) प्रश्न-पत्र में कोई समग्र विकल्प नहीं है । यद्यपि कुछ प्रश्नों में आंतरिक विकल्प का प्रावधान दिया गया है । इन प्रश्नों में से केवल एक ही प्रश्न का उत्तर लिखा जाए ।

खण्ड क

समष्टि अर्थशास्त्र

1. निम्नलिखित में से मुद्रा आपूर्ति (M_1) की असत्य विशेषता/विशेषताओं की पहचान कीजिए : 1
 - (i) इसे समय के एक बिंदु पर मापा जाता है ।
 - (ii) इसमें सरकार के पास रखे गए धन-भंडार को सम्मिलित नहीं किया जाता है ।
 - (iii) यह सदैव राष्ट्र के केन्द्रीय बैंक के पास रखी मुद्रा होती है ।
 विकल्प :

(A) (i) और (ii)	(B) (ii) और (iii)
(C) केवल (ii)	(D) केवल (iii)
2. कीन्स के अनुसार घरेलू क्षेत्र द्वारा किया गया कुल उपभोग व्यय _____ व _____ का संयोजन है । (रिक्त स्थानों को भरने के लिए सही विकल्प का चयन कीजिए) 1
 - (A) स्वायत्त उपभोग, स्वायत्त निवेश
 - (B) स्वायत्त निवेश, प्रेरित उपभोग
 - (C) प्रेरित निवेश, स्वायत्त निवेश
 - (D) स्वायत्त उपभोग, प्रेरित उपभोग



General Instructions :

Read the following instructions carefully and follow them :

- (i) This question paper contains **34** questions. **All** questions are **compulsory**.
- (ii) This question paper contains **two** sections :
Section A – Macro Economics
Section B – Indian Economic Development
- (iii) This question paper contains **20** Multiple Choice type questions. Each question carries **1** mark.
- (iv) This question paper contains **4** Short Answer Type-I questions. Each question carries **3** marks. Answer these questions in 60 to 80 words.
- (v) This question paper contains **6** Short Answer Type-II questions. Each question carries **4** marks. Answer these questions in 80 to 100 words.
- (vi) This question paper contains **4** Long Answer type questions. Each question carries **6** marks. Answer these questions in 100 to 150 words.
- (vii) Attempt **all** parts of a question together.
- (viii) In addition to this, note that a separate question has been provided for Visually Impaired candidates in lieu of questions having visual inputs, map etc. Such questions are to be attempted by Visually Impaired candidates only.
- (ix) There is no overall choice in the question paper. However, an internal choice has been provided in few questions. Only one of the choices in such questions has to be attempted.

SECTION A

Macro Economics

1. Identify the **incorrect** feature(s) of money supply (M_1) from the following : 1
 - (i) It is measured at a point of time.
 - (ii) It does not include stock of money held by the government.
 - (iii) It is always the currency in the hands of the Central Bank of a nation.

Alternatives :

(A) (i) and (ii)	(B) (ii) and (iii)
(C) (ii) only	(D) (iii) only
2. Total consumption expenditure by households under Keynesian Economics is a combination of _____ and _____.
 (Choose the correct alternative to fill in the blanks) 1
 - (A) Autonomous Consumption, Autonomous Investments
 - (B) Autonomous Investments, Induced Consumption
 - (C) Induced Investments, Autonomous Investments
 - (D) Autonomous Consumption, Induced Consumption



3. लुप्त आँकड़ों की पहचान कीजिए व सही विकल्प का चयन कीजिए :

1

चक्र	जमा	ऋण (80%)	आरक्षित अनुपात (20%)
I	5000	4000	..(i)..
II	4000	..(ii)..	800
...
...
कुल	..(iii)..	..(iv)..	5000

विकल्प :

- (A) 1000, 800, 20000, 25000
 (B) 5000, 3200, 25000, 20000
 (C) 1000, 3200, 25000, 20000
 (D) 1000, 800, 20000, 25000

4. भुगतान संतुलन (BOP) में अधिशेष का तात्पर्य _____ की अधिकता से है ।

(रिक्त स्थान को भरने के लिए सही विकल्प का चयन कीजिए) 1

- (A) स्वायत्त प्राप्तियों पर स्वायत्त भुगतान
 (B) स्वायत्त प्राप्तियों पर चालू खाता भुगतान
 (C) पूँजी खाता भुगतान पर पूँजी खाता प्राप्तियों
 (D) स्वायत्त भुगतान पर स्वायत्त प्राप्तियों

5. किसी काल्पनिक अर्थव्यवस्था के लिए मान लीजिए कि :

$$C = 100 + 0.75Y \text{ (जहाँ } C = \text{उपभोग व } Y = \text{आय)}$$

$$I_0 = 400 \text{ (} I_0 = \text{स्वायत्त निवेश)}$$

निवेश गुणक (K) का मान _____ होगा ।

(रिक्त स्थान को भरने के लिए सही विकल्प का चयन कीजिए) 1

- (A) 5 (B) 4
 (C) 6 (D) 3



3. Find the missing figures and choose the correct alternative :

1

<i>Round</i>	<i>Deposits</i>	<i>Loans (80%)</i>	<i>Reserve Ratio (20%)</i>
I	5000	4000	..(i)..
II	4000	..(ii)..	800
...
...
Total	..(iii)..	..(iv)..	5000

Alternatives :

- (A) 1000, 800, 20000, 25000
- (B) 5000, 3200, 25000, 20000
- (C) 1000, 3200, 25000, 20000
- (D) 1000, 800, 20000, 25000

4. Surplus in Balance of Payments (BOP) refers to the excess of _____. (Choose the correct alternative to fill in the blank)

1

- (A) Autonomous payments over Autonomous receipts
- (B) Current Account payments over Autonomous receipts
- (C) Capital Account receipts over Capital Account payments
- (D) Autonomous receipts over Autonomous payments

5. Suppose for a hypothetical economy :

$$C = 100 + 0.75Y \quad (\text{where } C = \text{Consumption and } Y = \text{Income})$$

$$I_0 = 400 \quad (I_0 = \text{Autonomous Investment})$$

Value of Investment Multiplier (K) would be _____.

(Choose the correct alternative to fill in the blank)

1

- (A) 5
- (B) 4
- (C) 6
- (D) 3



6. मान लीजिए कि, एक काल्पनिक अर्थव्यवस्था का व्यापार संतुलन ₹ 500 करोड़ का अनुकूल संतुलन दर्शाता है। माल निर्यात का मूल्य ₹ 1200 करोड़ व हस्तांतरण भुगतान ₹ 400 करोड़ है।
वाणिज्य (Merchandise) आयात का मूल्य ₹ _____ करोड़ होगा।
(रिक्त स्थान को भरने के लिए सही विकल्प का चयन कीजिए) 1
- (A) 1700
(B) 750
(C) 700
(D) 900
7. निम्नलिखित कथनों का ध्यानपूर्वक अध्ययन कीजिए : 1
कथन 1 : यदि किसी अर्थव्यवस्था में, आय के स्तर में वृद्धि (ΔY) होती है, तो यह उपभोग के स्तर (ΔC) में सदैव आनुपातिक रूप से वृद्धि कर देगी।
कथन 2 : सीमांत उपभोग प्रवृत्ति (MPC) व सीमांत बचत प्रवृत्ति (MPS) सदैव एक-दूसरे के बराबर होती हैं।
दिए गए कथनों के आलोक में, निम्नलिखित में से सही विकल्प का चयन कीजिए :
(A) कथन 1 सत्य है और कथन 2 असत्य है।
(B) कथन 1 असत्य है और कथन 2 सत्य है।
(C) कथन 1 और 2 दोनों सत्य हैं।
(D) कथन 1 और 2 दोनों असत्य हैं।
8. निम्नलिखित में से सही समीकरण की पहचान कीजिए : 1
(A) $GDP_{MP} = NNP_{FC} + \text{मूल्यहास}$
(B) $NDP_{FC} = NNP_{FC} + \text{शुद्ध अप्रत्यक्ष कर}$
(C) $GNP_{MP} = GDP_{MP} + \text{विदेशों से प्राप्त शुद्ध साधन आय}$
(D) $NNP_{FC} = NDP_{MP} + \text{मूल्यहास}$
9. निम्नलिखित कथनों को पढ़िए - अभिकथन (A) और कारण (R)। नीचे दिए गए विकल्पों में से सही विकल्प चुनिए : 1
अभिकथन (A) : पूर्ण रोज़गार स्थिति से तात्पर्य अनैच्छिक बेरोज़गारी की अनुपस्थिति से है।
कारण (R) : पूर्ण रोज़गार की स्थिति में, सभी इच्छुक व सक्षम व्यक्तियों को प्रचलित मज़दूरी दर पर रोज़गार प्राप्त होता है।
विकल्प :
(A) अभिकथन (A) और कारण (R) दोनों सत्य हैं और कारण (R), अभिकथन (A) की सही व्याख्या है।
(B) अभिकथन (A) और कारण (R) दोनों सत्य हैं, लेकिन कारण (R), अभिकथन (A) की सही व्याख्या नहीं है।
(C) अभिकथन (A) सत्य है, लेकिन कारण (R) असत्य है।
(D) अभिकथन (A) असत्य है, लेकिन कारण (R) सत्य है।



6. Suppose, the Balance of Trade of an imaginary economy shows a favourable balance of ₹ 500 crore. The values of merchandise exports are ₹ 1200 crore and transfer payments are ₹ 400 crore.
The value of merchandise imports would be ₹ _____ crore.
(Choose the correct alternative to fill in the blank) 1
- (A) 1700
(B) 750
(C) 700
(D) 900
7. Read the following statements carefully : 1
Statement 1 : If in an economy the level of income increases (ΔY), it will always proportionately increase the level of consumption (ΔC).
Statement 2 : Marginal Propensity to Consume (MPC) and Marginal Propensity to Save (MPS) are always equal to each other.
In the light of the given statements, choose the correct alternative from the following :
(A) Statement 1 is true and Statement 2 is false.
(B) Statement 1 is false and Statement 2 is true.
(C) Both Statements 1 and 2 are true.
(D) Both Statements 1 and 2 are false.
8. Identify the correct equation from the following : 1
(A) $GDP_{MP} = NNP_{FC} + \text{Depreciation}$
(B) $NDP_{FC} = NNP_{FC} + \text{Net Indirect Taxes}$
(C) $GNP_{MP} = GDP_{MP} + \text{Net Factor Income from Abroad}$
(D) $NNP_{FC} = NDP_{MP} + \text{Depreciation}$
9. Read the following statements – Assertion (A) and Reason (R). Choose the correct alternative given below : 1
Assertion (A) : Full employment situation refers to absence of involuntary unemployment.
Reason (R) : Under full employment situation, all the willing and able bodied people get employment at the prevailing wage rate.
Alternatives :
(A) Both Assertion (A) and Reason (R) are true and Reason (R) is the correct explanation of Assertion (A).
(B) Both Assertion (A) and Reason (R) are true, but Reason (R) is **not** the correct explanation of Assertion (A).
(C) Assertion (A) is true, but Reason (R) is false.
(D) Assertion (A) is false, but Reason (R) is true.



10. “दिनांक 9 जून 2023 के, नेशनल स्टॉक एक्सचेंज (NSE) के आँकड़ों के अनुसार, एक माह की अवधि यानि, 9 मई 2023 – 9 जून 2023, में विदेशी संस्थागत निवेशकों (FII) द्वारा ₹ 309 करोड़ की शुद्ध बिक्री की गई थी।”
उपर्युक्त लेन-देन भारत के भुगतान संतुलन के _____ खाते के _____ पक्ष में दर्ज किया जाएगा। (रिक्त स्थानों को भरने के लिए सही विकल्प का चयन कीजिए) 1
- (A) चालू, डेबिट (B) पूँजी, क्रेडिट
(C) चालू, क्रेडिट (D) पूँजी, डेबिट
11. स्थिर विनिमय दर प्रणाली तथा नम्य विनिमय दर प्रणाली के मध्य अंतर स्पष्ट कीजिए। 3
12. (क) एक काल्पनिक अर्थव्यवस्था के लिए नीचे दिए गए आँकड़ों के आधार पर, साधन लागत पर शुद्ध घरेलू उत्पाद (NDP_{FC}) के मूल्य का अनुमान लगाइए : 3

क्र.सं.	मर्दे	राशि (₹ करोड़ में)
(i)	सकल घरेलू स्थायी पूँजी निर्माण	400
(ii)	निर्यात	80
(iii)	अंतिम सरकारी उपभोग व्यय	500
(iv)	स्थायी पूँजी का उपभोग	70
(v)	अंतिम घरेलू उपभोग व्यय	640
(vi)	मालसूची (Inventory) निवेश (शुद्ध)	(–) 80
(vii)	आयात	90
(viii)	शुद्ध अप्रत्यक्ष कर	60
(ix)	विदेशों से प्राप्त शुद्ध कारक आय	50

अथवा

- (ख) (i) उपयुक्त उदाहरण की सहायता से बाह्यताओं की अवधारणा का वर्णन कीजिए। 2
(ii) प्रचालन अधिशेष को परिभाषित कीजिए। 1
13. (क) “किसी अर्थव्यवस्था में, प्रत्याशित समग्र आपूर्ति, प्रत्याशित समग्र माँग से अधिक है।”
उत्पादन, आय व रोज़गार के स्तर पर इसके प्रभाव की व्याख्या कीजिए। 4

अथवा



10. “As per the National Stock Exchange (NSE) data, dated 9th June, 2023, there was a net selling off worth ₹ 309 crore by Foreign Institutional Investors (FIIs) over the period of one month i.e., 9th May, 2023 – 9th June, 2023.”

The above mentioned transactions will be recorded on _____ side of _____ account of Balance of Payments of India.

(Choose the correct alternative to fill in the blanks)

- (A) Debit, Current (B) Credit, Capital
(C) Credit, Current (D) Debit, Capital

11. Distinguish between fixed exchange rate system and flexible exchange rate system.

12. (a) On the basis of the data given below for an imaginary economy, estimate the value of Net Domestic Product at Factor Cost (NDP_{FC}) :

S. No.	Items	Amount (in ₹ crore)
(i)	Gross Domestic Fixed Capital Formation	400
(ii)	Exports	80
(iii)	Government Final Consumption Expenditure	500
(iv)	Consumption of Fixed Capital	70
(v)	Household Final Consumption Expenditure	640
(vi)	Inventory Investment (Net)	(-) 80
(vii)	Imports	90
(viii)	Net Indirect Taxes	60
(ix)	Net Factor Income from Abroad	50

OR

- (b) (i) Elaborate the concept of Externalities with the help of suitable example.
(ii) Define Operating Surplus.

13. (a) “In an economy, ex-ante Aggregate Supply is more than ex-ante Aggregate Demand.”

Explain its impact on the level of output, income and employment.

OR



- (ख) निम्नलिखित तालिका को पूरा कीजिए । आय के ₹ 200 करोड़ के स्तर पर उपभोग फलन का निर्माण कीजिए ।

4

आय (Y) (₹ करोड़ में)	बचत (₹ करोड़ में)	औसत उपभोग प्रवृत्ति (APC)	सीमांत बचत प्रवृत्ति (MPS)
0	(-) 30	—	—
100	1
200	0.85
300	0.8

14. दिनांक 8 जून 2023 के 'द ईकोनोमिक टाइम्स' से उद्धृत निम्नलिखित गद्य का ध्यानपूर्वक अध्ययन कीजिए :

“भारतीय रिज़र्व बैंक (RBI) की दर निर्धारण समिति ने स्पष्ट रूप से बेंचमार्क ऋण दर को 6.5% पर अपरिवर्तित रखने का निर्णय लिया है । समिति ने समायोजन मौद्रिक नीति (Accommodating Monetary Policy) को वापस लेने पर ध्यान केन्द्रित करने के लिए मतदान किया है ।”

दिए गए गद्य व सामान्य समझ के आधार पर निम्नलिखित प्रश्नों के उत्तर दीजिए :

- (क) उपर्युक्त गद्य में दर्शाए गए आर्थिक मुद्दे को पहचानिए व चर्चा कीजिए । 2
- (ख) यदि दर निर्धारण समिति ने उक्त दर में कमी की होती, तो मुद्रा आपूर्ति के संभावित परिणामों की चर्चा कीजिए । 2

15. निम्नलिखित कथनों को वैध तर्कों द्वारा प्रमाणित कीजिए :

- (क) किसी अर्थव्यवस्था में, मुद्रा 'मूल्य के भंडार' के रूप में कार्य करती है । 2
- (ख) केन्द्रीय बैंक एक अर्थव्यवस्था में 'सरकार के बैंक' के रूप में कार्य करता है । 2

16. (क) एक द्वि-क्षेत्रक मॉडल में आय के चक्रीय प्रवाह की अवधारणा की संक्षेप में व्याख्या कीजिए । 3

- (ख) “मौद्रिक सकल घरेलू उत्पाद (GDP) की तुलना में वास्तविक सकल घरेलू उत्पाद (GDP) किसी राष्ट्र की आर्थिक संवृद्धि का बेहतर संकेतक है ।”

क्या आप दिए गए कथन से सहमत हैं ? किसी वैध काल्पनिक संख्यात्मक उदाहरण के साथ अपने उत्तर की पुष्टि कीजिए । 3

17. (क) निम्नलिखित को राजस्व प्राप्तियों अथवा पूँजीगत प्राप्तियों में वर्गीकृत कीजिए । अपने उत्तर के पक्ष में वैध तर्क दीजिए :

- (i) ऋण पर प्राप्त ब्याज । 2
- (ii) किसी सरकारी कम्पनी की बिक्री से विनिवेश प्राप्तियाँ । 2



- (b) Complete the following table. Construct/Express the Consumption function at ₹ 200 crore level of income.

4

<i>Income (Y)</i> (in ₹ crore)	<i>Savings</i> (in ₹ crore)	<i>Average Propensity to Consume (APC)</i>	<i>Marginal Propensity to Save (MPS)</i>
0	(-) 30	—	—
100	1
200	0.85
300	0.8

14. Read the following text carefully from ‘The Economic Times’ dated 8th June, 2023 :

“The Reserve Bank of India’s (RBI’s) rate setting panel unanimously decided to keep the benchmark lending rate unchanged at 6.5%. The committee voted to remain focused on the withdrawal of accommodating monetary policy.”

On the basis of given text and common understanding, answer the following questions :

- (a) Identify and discuss the economic issue indicated in the above text. 2
- (b) Discuss the likely consequence on money supply if the rate setting panel would have decreased the said rate. 2
15. Justify the following statements with valid arguments :
- (a) Money serves as a ‘store of value’ in an economy. 2
- (b) The Central Bank acts as ‘Government’s Bank’ in an economy. 2
16. (a) Discuss briefly the concept of circular flow of income in a two-sector model. 3
- (b) “Real Gross Domestic Product (GDP) is a better indicator of economic growth of a nation as compared to the Nominal Gross Domestic Product (GDP).”
- Do you agree with the given statement ? Justify your answer with a valid hypothetical numerical example. 3
17. (a) Classify the following as Revenue receipts or Capital receipts. Give valid arguments in support of your answer :
- (i) Interest received on loan. 2
- (ii) Disinvestment receipts from the sale of a government company. 2



- (iii) भारत में बालिका शिक्षा को प्रोत्साहित करने के लिए संयुक्त राज्य अमेरिका (USA) सरकार द्वारा दी गई वित्तीय सहायता । 2

अथवा

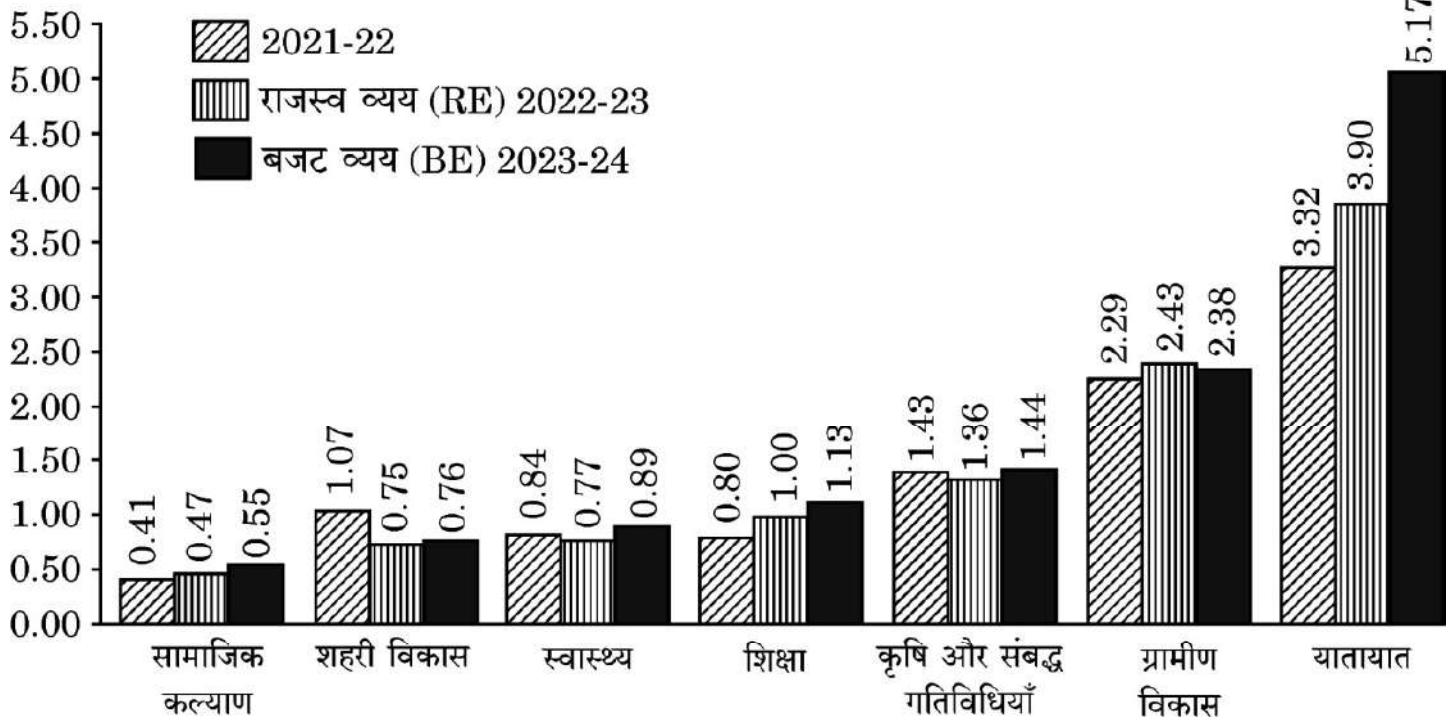
- (ख) (i) नीचे दिए गए चार्ट का ध्यानपूर्वक अध्ययन कीजिए और निम्नलिखित पर सरकारी व्यय में बदलते रुझानों का विश्लेषण कीजिए :

(I) शहरी विकास 2

(II) ग्रामीण विकास 2

व्यय की प्रमुख मदों की प्रवृत्ति

(₹ लाख करोड़)



- (ख) (ii) 'राजकोषीय घाटे' व 'प्राथमिक घाटे' के बीच अंतर स्पष्ट कीजिए । 2

नोट : निम्नलिखित प्रश्न केवल दृष्टिबाधित परीक्षार्थियों के लिए प्रश्न संख्या 17 ख(i) के स्थान पर है ।

सरकारी बजट के स्थिरीकरण कार्य की व्याख्या कीजिए । 4

खण्ड ख

भारतीय आर्थिक विकास

18. 1970 के दशक में, पाकिस्तान ने अपने _____ उद्योगों का राष्ट्रीयकरण किया था ।

(रिक्त स्थान को भरने के लिए सही विकल्प का चयन कीजिए) 1

- (A) चिकित्सा आधारिक संरचना संबंधी
(B) उपभोक्ता वस्तुओं संबंधी
(C) पूँजीगत वस्तुओं संबंधी
(D) विदेशी व्यापार



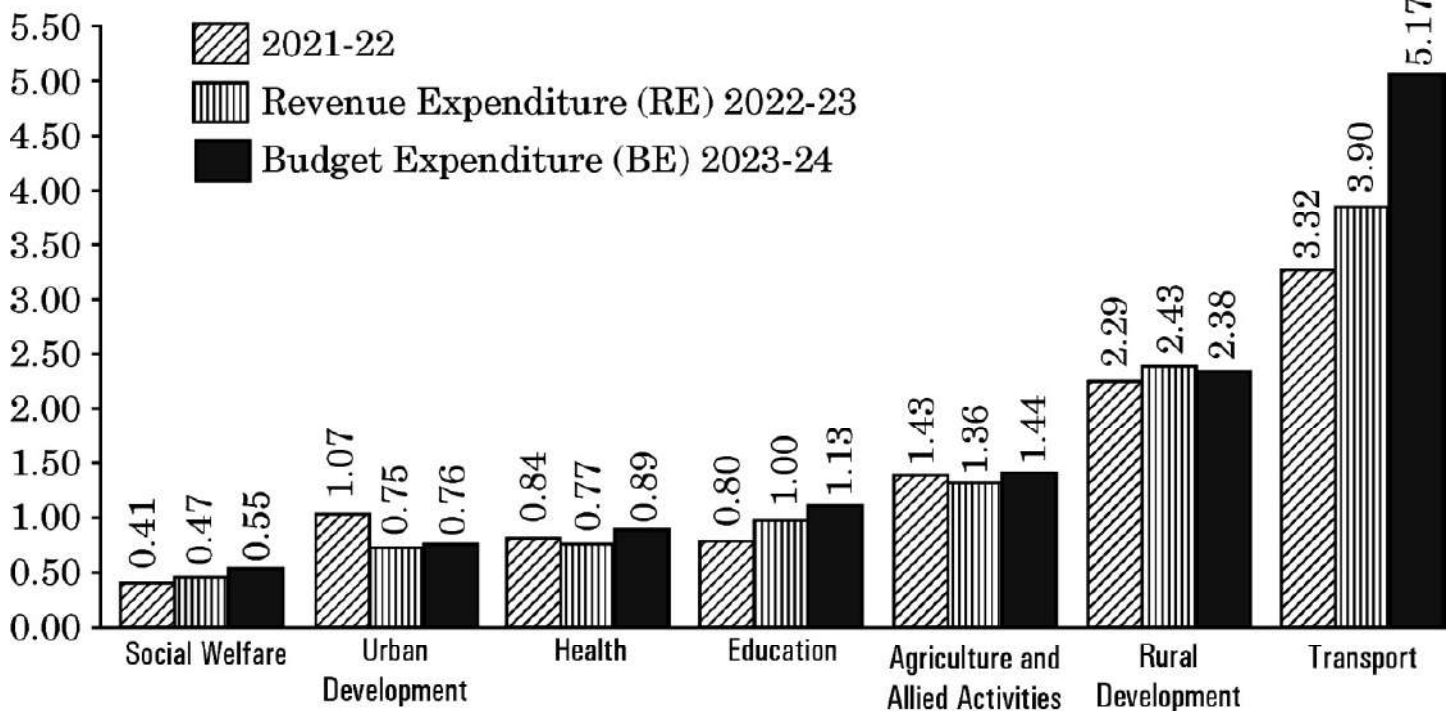
- (iii) Financial assistance by the Government of USA for promoting girl education in India. 2

OR

- (b) (i) Study the following chart carefully and analyse the changing trends in the government expenditure on :
 (I) Urban Development 2
 (II) Rural Development 2

TREND OF MAJOR ITEMS OF EXPENDITURE

(₹ lakh crore)



- (b) (ii) Distinguish between 'Fiscal deficit' and 'Primary deficit'. 2

Note : The following question is for the **Visually Impaired Candidates** only in lieu of Q. No. 17 b(i).

- Explain the stabilisation function of the Government Budget. 4

SECTION B Indian Economic Development

18. In the decade of the 1970s, Pakistan nationalized its _____ industries.
 (Choose the correct alternative to fill in the blank) 1
- (A) Medical infrastructure
 (B) Consumer goods
 (C) Capital goods
 (D) Foreign trade



19. निम्नलिखित कथनों का ध्यानपूर्वक अध्ययन कीजिए :

1

कथन 1 : औपनिवेशिक शासन के अंतर्गत, आधारिक संरचना (जैसे रेलवे, डाक व तार आदि) का विकास किया गया था ।

कथन 2 : भारत में आधारिक संरचना के विकास के पीछे वास्तविक उद्देश्य ब्रिटिश हितों को सुदृढ़ करना था ।

दिए गए कथनों के आलोक में, निम्नलिखित में से सही विकल्प का चयन कीजिए :

- (A) कथन 1 सत्य है और कथन 2 असत्य है ।
- (B) कथन 1 असत्य है और कथन 2 सत्य है ।
- (C) कथन 1 और 2 दोनों सत्य हैं ।
- (D) कथन 1 और 2 दोनों असत्य हैं ।

20. पहचान कीजिए कि निम्नलिखित में से कौन-सा विकल्प, कृषि विपणन प्रणाली के *असत्य* घटकों के युग्म को दर्शाता है :

1

- (A) संयोजन, भंडारण, प्रसंस्करण, पैकेजिंग
- (B) उत्पादन, संयोजन, प्रसंस्करण, ग्रेडिंग
- (C) संयोजन, प्रसंस्करण, पैकेजिंग, परिवहन
- (D) प्रसंस्करण, पैकेजिंग, ग्रेडिंग, वितरण

21. निम्नलिखित कथनों को पढ़िए – अभिकथन (A) और कारण (R) । नीचे दिए गए विकल्पों में से सही विकल्प चुनिए :

1

अभिकथन (A) : विश्व व्यापार संगठन (WTO) से यह अपेक्षा की जाती है कि वह सदस्य राष्ट्रों द्वारा लगाए गए एकतरफा तथा मनमाने प्रतिबंधों से बचने के लिए नियम-आधारित व्यापारिक व्यवस्था स्थापित करे ।

कारण (R) : पर्यावरण संरक्षण के साथ-साथ, विश्व उत्पादन में वृद्धि करना व वैश्विक संसाधनों का इष्टतम उपयोग सुनिश्चित करना अनिवार्य है ।

विकल्प :

- (A) अभिकथन (A) और कारण (R) दोनों सत्य हैं और कारण (R), अभिकथन (A) की सही व्याख्या है ।
- (B) अभिकथन (A) और कारण (R) दोनों सत्य हैं, लेकिन कारण (R), अभिकथन (A) की सही व्याख्या *नहीं* है ।
- (C) अभिकथन (A) सत्य है, लेकिन कारण (R) असत्य है ।
- (D) अभिकथन (A) असत्य है, लेकिन कारण (R) सत्य है ।



19. Read the following statements carefully : 1
Statement 1 : Under the colonial rule, basic infrastructure (like railways, post and telegraph etc.) was developed.
Statement 2 : The real motive behind the infrastructural development in India was to strengthen the British interests.
In the light of the given statements, choose the correct alternative from the following :
(A) Statement 1 is true and Statement 2 is false.
(B) Statement 1 is false and Statement 2 is true.
(C) Both Statements 1 and 2 are true.
(D) Both Statements 1 and 2 are false.
20. Identify which of the following alternatives indicate the **incorrect** components combination of Agriculture Marketing System : 1
(A) Assembling, Storage, Processing, Packaging
(B) Production, Assembling, Processing, Grading
(C) Assembling, Processing, Packaging, Transportation
(D) Processing, Packaging, Grading, Distribution
21. Read the following statements – Assertion (A) and Reason (R). Choose the correct alternative given below : 1
Assertion (A) : World Trade Organization (WTO) is expected to establish the rule-based trading regime, to avoid unilaterally placed arbitrary restrictions by member nations.
Reason (R) : It is imperative to enlarge world production and ensure optimum utilization of world resources along with environmental protection.
Alternatives :
(A) Both Assertion (A) and Reason (R) are true and Reason (R) is the correct explanation of Assertion (A).
(B) Both Assertion (A) and Reason (R) are true, but Reason (R) is **not** the correct explanation of Assertion (A).
(C) Assertion (A) is true, but Reason (R) is false.
(D) Assertion (A) is false, but Reason (R) is true.



22. निम्नलिखित कथनों को पढ़िए – अभिकथन (A) और कारण (R) । नीचे दिए गए विकल्पों में से सही विकल्प चुनिए :

1

अभिकथन (A) : चीन ने अपने नागरिकों के लिए अतिरिक्त सामाजिक व आर्थिक अवसर उत्पन्न करने के लिए बाज़ार तंत्र का उपयोग किया है ।

कारण (R) : सरकार द्वारा सामाजिक आधारिक संरचना के निर्माण ने चीन में मानव विकास संकेतकों में सकारात्मक परिणाम दिए हैं ।

विकल्प :

- (A) अभिकथन (A) और कारण (R) दोनों सत्य हैं और कारण (R), अभिकथन (A) की सही व्याख्या है ।
- (B) अभिकथन (A) और कारण (R) दोनों सत्य हैं, लेकिन कारण (R), अभिकथन (A) की सही व्याख्या **नहीं** है ।
- (C) अभिकथन (A) सत्य है, लेकिन कारण (R) असत्य है ।
- (D) अभिकथन (A) असत्य है, लेकिन कारण (R) सत्य है ।

23. निम्नलिखित विकल्पों में से, विनियमित कृषि बाज़ार के **असत्य** उद्देश्यों की पहचान कीजिए :

1

- (i) कृषकों को उनके उत्पादों का सर्वोत्तम मूल्य दिलवाने के लिए विपणन प्रणाली को कुशल व प्रभावी बनाना ।
- (ii) कृषकों के लिए विपणन बुनियादी ढाँचे में सुधार को हतोत्साहित करना ।
- (iii) कृषकों का शोषण रोकना ।
- (iv) कृषकों को उनकी उपज की गुणवत्ता व मात्रा में सुधार करने के लिए हतोत्साहित करना ।

विकल्प :

- (A) (i) और (ii) (B) (i) और (iii)
- (C) (iii) और (iv) (D) (ii) और (iv)



22. Read the following statements – Assertion (A) and Reason (R). Choose the correct alternative given below : 1

Assertion (A) : China has used the market mechanism to create additional social and economic opportunities for its citizens.

Reason (R) : Social infrastructure creation by the government has brought positive results in human development indicators in China.

Alternatives :

- (A) Both Assertion (A) and Reason (R) are true and Reason (R) is the correct explanation of Assertion (A).
- (B) Both Assertion (A) and Reason (R) are true, but Reason (R) is **not** the correct explanation of Assertion (A).
- (C) Assertion (A) is true, but Reason (R) is false.
- (D) Assertion (A) is false, but Reason (R) is true.

23. Identify from the following alternatives the **incorrect** objectives of regulated agriculture market : 1

- (i) To make the marketing system efficient and effective for farmers to get best price of their products.
- (ii) To discourage improvement of marketing infrastructure for farmers.
- (iii) To prevent exploitation of farmers.
- (iv) To discourage farmers from improving quality and quantity of their produce.

Alternatives :

- (A) (i) and (ii) (B) (i) and (iii)
- (C) (iii) and (iv) (D) (ii) and (iv)



24. भारत व पाकिस्तान में क्रमशः _____ व _____ वर्षों में आर्थिक सुधार लागू किए गए थे ।

(रिक्त स्थानों को भरने के लिए सही विकल्प का चयन कीजिए)

1

- (A) 1988, 1978 (B) 1991, 1978
(C) 1991, 1988 (D) 1981, 1991

25. निम्नलिखित कथनों का ध्यानपूर्वक अध्ययन कीजिए :

1

कथन 1 : राष्ट्रीय प्रतिदर्श सर्वेक्षण संगठन (NSSO) ने बेरोज़गारी को इस प्रकार परिभाषित किया है कि यह वह अवस्था है, जिसमें व्यक्ति काम के अभाव के कारण बिना काम के रह जाते हैं लेकिन वे संभावित नियोक्ताओं से काम की तलाश कर रहे हैं । वे काम और पारिश्रमिक की मौजूदा स्थितियों के तहत काम करने की इच्छा/उपलब्धता व्यक्त करते हैं ।

कथन 2 : भारत जैसे अत्यधिक आबादी वाले राष्ट्र में प्रच्छन्न बेरोज़गारी आमतौर पर बड़ी समस्या है ।

दिए गए कथनों के आलोक में, निम्नलिखित में से सही विकल्प का चयन कीजिए :

- (A) कथन 1 सत्य है और कथन 2 असत्य है ।
(B) कथन 1 असत्य है और कथन 2 सत्य है ।
(C) कथन 1 और 2 दोनों सत्य हैं ।
(D) कथन 1 और 2 दोनों असत्य हैं ।

26. पहचान कीजिए कि निम्नलिखित में से कौन-सा G-20 का सदस्य राष्ट्र **नहीं** है :

1

- (A) ब्राज़ील
(B) ऑस्ट्रेलिया
(C) बांग्लादेश
(D) अर्जेंटीना



24. Economic reforms were introduced in India and Pakistan in the years _____ and _____, respectively. 1
(Choose the correct alternative to fill in the blanks)
- (A) 1988, 1978 (B) 1991, 1978
(C) 1991, 1988 (D) 1981, 1991

25. Read the following statements carefully : 1

Statement 1 : As per the National Sample Survey Organization (NSSO), unemployment is a situation in which all those who, owing to lack of work, are not working, but are seeking work from prospective employers. They express their willingness/availability to work under the prevailing conditions of work and remuneration.

Statement 2 : Disguised Unemployment is generally a massive problem in a highly populated country like India.

In the light of the given statements, choose the correct alternative from the following :

- (A) Statement 1 is true and Statement 2 is false.
(B) Statement 1 is false and Statement 2 is true.
(C) Both Statements 1 and 2 are true.
(D) Both Statements 1 and 2 are false.
26. Identify which of the following is **not** a member nation of G20 : 1
- (A) Brazil
(B) Australia
(C) Bangladesh
(D) Argentina



27. निम्नलिखित कथनों को पढ़िए – अभिकथन (A) और कारण (R)। नीचे दिए गए विकल्पों में से सही विकल्प चुनिए :

1

अभिकथन (A) : परमिट लाइसेंस राज के अत्यधिक विनियमन ने कुछ निजी फर्मों को प्रतिस्पर्धी होने से रोक दिया था।

कारण (R) : निजी क्षेत्र ने उत्पाद गुणवत्ता और अंतर्राष्ट्रीय प्रतिस्पर्धात्मकता में सुधार के बजाय लाइसेंस प्राप्त करने में बड़ी राशि बर्बाद की थी।

विकल्प :

- (A) अभिकथन (A) और कारण (R) दोनों सत्य हैं और कारण (R), अभिकथन (A) की सही व्याख्या है।
 (B) अभिकथन (A) और कारण (R) दोनों सत्य हैं, लेकिन कारण (R), अभिकथन (A) की सही व्याख्या नहीं है।
 (C) अभिकथन (A) सत्य है, लेकिन कारण (R) असत्य है।
 (D) अभिकथन (A) असत्य है, लेकिन कारण (R) सत्य है।

28. “भारत में, राष्ट्रीय शिक्षा नीति 2020 में शिक्षकों के सेवाकालीन प्रशिक्षण पर अत्यधिक बल दिया है।”

- (i) उपर्युक्त कथन में इंगित मानव पूँजी निर्माण (HCF) के स्रोत की पहचान कीजिए। 1
 (ii) भारत के आर्थिक विकास पर इस स्रोत के संभावित प्रभावों की विस्तार से व्याख्या कीजिए। 2

29. (क) “औपनिवेशिक काल के दौरान कृषि क्षेत्र में स्थिरता (गतिहीनता) देखी गई थी।”
 क्या आप दिए गए कथन से सहमत हैं ? वैध तर्कों द्वारा अपने उत्तर का औचित्य सिद्ध कीजिए। 3

अथवा

- (ख) उन कारणों को विस्तार से बताइए जिनके कारण निजी क्षेत्र को औद्योगिक नीति संकल्प, 1956 के तहत विनियमित किया गया था। 3

30. (क) भारत के ग्रामीण क्षेत्रों में सूक्ष्म-साख (अतिलघु-साख) व्यवस्था के किन्हीं दो लाभों का उल्लेख कीजिए। 1

- (ख) “वर्तमान स्थिति में, भारत जैसे राष्ट्र में खाद्य सुरक्षा प्राप्त करने में सूचना प्रौद्योगिकी महत्वपूर्ण भूमिका निभाती है।”

दिए गए कथन का औचित्य सिद्ध कीजिए। 3



27. Read the following statements – Assertion (A) and Reason (R). Choose the correct alternative given below : 1

Assertion (A) : The excessive regulation of permit license raj prevented certain private firms from becoming fairly competitive.

Reason (R) : Private sector wasted huge amounts in obtaining licenses rather than on improving the product quality and international competitiveness.

Alternatives :

- (A) Both Assertion (A) and Reason (R) are true and Reason (R) is the correct explanation of Assertion (A).
- (B) Both Assertion (A) and Reason (R) are true, but Reason (R) is **not** the correct explanation of Assertion (A).
- (C) Assertion (A) is true, but Reason (R) is false.
- (D) Assertion (A) is false, but Reason (R) is true.
28. “In India, National Education Policy 2020 has stressed a lot on in-service training of the teachers.”
- (i) Identify the source of Human Capital Formation (HCF) indicated in the aforesaid statement. 1
- (ii) Elaborate the likely impacts of this source on the economic development of India. 2
29. (a) “During the colonial period the agricultural sector showed massive stagnation.”
- Do you agree with the given statement ? Justify your answer with valid arguments. 3

OR

- (b) Elaborate the reasons owing to which the private sector was regulated under the Industrial Policy Resolution, 1956. 3
30. (a) State any two advantages of micro-credit system in rural areas of India. 1
- (b) “In the current situation, Information Technology plays a vital role in achieving food security in a nation like India.”
- Justify the given statement. 3



31. (क) “संयुक्त राष्ट्र के आर्थिक व सामाजिक मामलों के विभाग ने यह संकेत दिया है कि भारत अप्रैल 2023 के माह में चीन को पीछे छोड़कर, विश्व का सबसे अधिक जनसंख्या वाला राष्ट्र बन गया है।”

चीन द्वारा 1970 के दशक में अपनाई गई एकल-बालक नीति के परिणामों की व्याख्या कीजिए। 2

- (ख) चीन की आर्थिक संवृद्धि पर विशेष आर्थिक क्षेत्र (SEZ) के प्रभावों की चर्चा कीजिए। 2

32. (क) वैध तर्कों द्वारा उल्लेख व व्याख्या कीजिए कि निम्नलिखित कथन सत्य हैं या असत्य :

(i) हाल में, भारत सरकार ने वित्तीय संसाधनों के कुशलतम आबंटन के लिए जन-धन योजना जैसे कई महत्वपूर्ण कदम उठाए हैं। 2

(ii) श्रमिक – जनसंख्या अनुपात किसी राष्ट्र में रोज़गार की स्थिति का विश्लेषण करने के लिए उपयोग किया जाने वाला एक संकेतक है। 2

अथवा

(ख) (i) भारत में महिला शिक्षा को प्रोत्साहित करने की आवश्यकता की व्याख्या कीजिए। 3

(ii) गैर-कृषि प्रसंस्करण उद्योगों में विविधीकरण गतिविधियों के किन्हीं दो उदाहरणों का उल्लेख कीजिए। 1



- 31.** (a) “United Nations Department of Economic and Social Affairs indicated that India has overtaken China as the world’s most populous country in the month of April 2023.”
Explain the consequences of one-child policy adopted by China in the 1970s. 2
- (b) Discuss the impacts of Special Economic Zones (SEZs) on the economic growth of China. 2
- 32.** (a) State and elaborate whether the following statements are *true* or *false*, with valid arguments :
- (i) In the recent past, the Government of India has taken crucial steps, like Jan-Dhan Yojana, for efficient allocation of financial resources. 2
- (ii) Worker – population ratio is an indicator, used for analyzing the employment situation in a nation. 2
- OR**
- (b) (i) Elaborate the need to promote women’s education in India. 3
- (ii) Mention any two examples of diversification activities in the non-agro processing industries. 1



33. (क) (i) “भारत सरकार द्वारा उठाए गए उदारीकरण उपायों के अंतर्गत, व्यापार व निवेश नीति सुधार अत्यंत महत्वपूर्ण था ।” 3
मान्य तर्कों द्वारा दिए गए कथन का खंडन अथवा समर्थन कीजिए ।
- (ii) “हरित क्रांति के बाद भी 1990 के दशक तक भारत की 65 प्रतिशत जनसंख्या कृषि क्षेत्रक में लगी रही ।” 3
वैध तर्कों द्वारा दिए गए कथन का औचित्य सिद्ध कीजिए ।
- अथवा**
- (ख) (i) “हर सिक्के के दो पहलू होते हैं — कृषि उपदान पर बहस भी ऐसा ही एक उत्कृष्ट उदाहरण है ।” 4
कृषि उपदान जारी रखने के पक्ष व विपक्ष में दो-दो तर्कों सहित दिए गए कथन की पुष्टि कीजिए ।
- (ii) भारतीय आर्थिक योजना के उद्देश्य के रूप में “समता के साथ संवृद्धि” के महत्त्व का उल्लेख कीजिए । 2

34. निम्नलिखित गद्य का ध्यानपूर्वक अध्ययन कीजिए :

भारत में वायु तथा जल प्रदूषण की दो प्रमुख पर्यावरण चिंताओं से निपटने के लिए सरकार ने 1974 में केंद्रीय प्रदूषण नियंत्रण बोर्ड (CPCB) की स्थापना की । इसके बाद, राज्य स्तर पर सभी पर्यावरणीय चिंताओं से निपटने के लिए राज्यों ने अपने-अपने बोर्ड बनाये । ये बोर्ड (CPCB) जल, वायु और भूमि प्रदूषण से संबंधित सूचनाओं का संकलन और वितरण करते हैं । वे कचरे/व्यापार निकास और उत्सर्जन के मानक निर्धारित करते हैं । ये बोर्ड सरकारों को जल प्रदूषण के रोकथाम, नियंत्रण और कमी के लिए जल-धाराओं द्वारा नदियों और कुओं की स्वच्छता के संवर्धन के लिए तकनीकी सहायता प्रदान करते हैं । इनका कार्य वायु की गुणवत्ता में सुधार भी है । ये देश में वायु प्रदूषण के नियंत्रण द्वारा भी सरकारों को तकनीकी सहायता प्रदान करते हैं ।

ये बोर्ड जल व वायु प्रदूषण से संबंधित समस्याओं की जाँच व अनुसंधान भी करते हैं और ऐसी जाँच व अनुसंधान को प्रायोजित करते हैं । इसके लिए वे जन संचार के माध्यम से जन जागरूकता कार्यक्रम संगठित करते हैं । PCB कचरे व वाणिज्य अपशिष्टों के निपटान और उपचार से संबंधित नियमावली, संहिता और मार्गदर्शक सूचिका तैयार करते हैं ।



- 33.** (a) (i) “Under the liberalisation measures taken by the Government of India, Trade and Investment Policy reforms were extremely crucial.”
Reject or support the given statement with valid arguments. 3
- (ii) “Despite the implementation of Green Revolution, 65 per cent of India’s population continued to be engaged in the agriculture sector till the 1990s.”
Justify the given statement with valid explanation. 3
- OR**
- (b) (i) “Every coin has two sides — debate over farm subsidies is one such classic example of the same.”
Justify the given statement with two arguments each in favour of and against the continuation of the farm subsidies. 4
- (ii) State the importance of “Growth with equity” as the objective of Indian economic planning. 2

34. Read the following text carefully :

In order to address two major environmental concerns in India, viz. water and air pollution, the government set up the Central Pollution Control Board (CPCB) in 1974. This was followed by states establishing their own state level boards to address all the environmental concerns. They investigate, collect and disseminate information relating to water, air and land pollution, lay down standards for sewage/trade effluent and emissions. These boards provide technical assistance to governments in promoting cleanliness of streams and wells by prevention, control and abatement of water pollution, and improve the quality of air and to prevent, control or abate air pollution in the country.

These boards also carry out and sponsor investigation and research relating to problems of water and air pollution and for their prevention, control or abatement. They organize, through mass media, a comprehensive mass awareness programme for the same. The PCBs prepare manuals, codes and guidelines relating to treatment and disposal of sewage and trade effluents.



उद्योगों के विनियमन द्वारा वे वायु गुणवत्ता का मूल्यांकन करते हैं। वास्तव में अपने जिला स्तरीय अधिकारियों के माध्यम से राज्य बोर्ड अपने क्षेत्राधिकार में आने वाले प्रत्येक उद्योग का समय-समय पर निरीक्षण, विकास और गैसीय उत्सर्जन हेतु उपलब्ध उपायों की पर्याप्तता का विश्लेषण करने के लिए करता है। यह उद्योग-स्थान निर्धारण व नगर नियोजन के लिए आवश्यक पृष्ठभूमि तथा वायु गुणवत्ता आँकड़े भी प्रदान करता है।

प्रदूषण नियंत्रण बोर्ड जल प्रदूषण से संबंधित तकनीकी और सांख्यिकी आँकड़ों का संकलन, संपादन और वितरण करते हैं। ये 125 नदियों (इसमें उपनदियाँ भी शामिल हैं), कुएँ, झील, खाड़ी, तालाब, टैंक, नाले और नहरों में जल की गुणवत्ता की देखरेख करते हैं।

दिए गए गद्य व सामान्य ज्ञान के आधार पर निम्नलिखित प्रश्नों के उत्तर दीजिए :

- (क) ऐसे किन्हीं दो मुद्दों का उल्लेख कीजिए जिनके कारण केन्द्रीय प्रदूषण नियंत्रण बोर्ड (CPCB) की स्थापना की गई थी। 1
- (ख) केन्द्रीय प्रदूषण नियंत्रण बोर्ड (CPCB) द्वारा किए जाने वाले किन्हीं दो कार्यों की व्याख्या कीजिए। 2
- (ग) भारत द्वारा धारणीय विकास सुनिश्चित करने के लिए अपनाई गई किन्हीं दो रणनीतियों का वर्णन कीजिए। 3



They assess the air quality through regulation of industries. In fact, state boards, through their district level officials, periodically inspect every industry under their jurisdiction to assess the adequacy of treatment measures provided to treat the effluent and gaseous emissions. It also provides background air quality data needed for industrial siting and town planning.

The pollution control boards collect, collate and disseminate technical and statistical data relating to water pollution. They monitor the quality of water in 125 rivers (including the tributaries), wells, lakes, creeks, ponds, tanks, drains and canals.

On the basis of the given text and common understanding, answer the following questions :

- (a) State any two concerns owing to which the Central Pollution Control Board (CPCB) was established. 1
- (b) Explain any two functions performed by the Central Pollution Control Board (CPCB). 2
- (c) Elaborate any two strategies to ensure sustainable development as adopted by India. 3

Series HFG1E/1**SET-1**

प्रश्न-पत्र कोड
Q.P. Code

58/1/1

रोल नं.
Roll No.

--	--	--	--	--	--	--	--

परीक्षार्थी प्रश्न-पत्र कोड को उत्तर-पुस्तिका के मुख-पृष्ठ पर अवश्य लिखें ।

Candidates must write the Q.P. Code on the title page of the answer-book.

अर्थशास्त्र ECONOMICS

निर्धारित समय : 3 घण्टे

Time allowed : 3 hours

अधिकतम अंक : 80

Maximum Marks : 80

- कृपया जाँच कर लें कि इस प्रश्न-पत्र में मुद्रित पृष्ठ **27** हैं ।
- प्रश्न-पत्र में दाहिने हाथ की ओर दिए गए प्रश्न-पत्र कोड को परीक्षार्थी उत्तर-पुस्तिका के मुख-पृष्ठ पर लिखें ।
- कृपया जाँच कर लें कि इस प्रश्न-पत्र में **34** प्रश्न हैं ।
- कृपया प्रश्न का उत्तर लिखना शुरू करने से पहले, उत्तर-पुस्तिका में प्रश्न का क्रमांक अवश्य लिखें ।
- इस प्रश्न-पत्र को पढ़ने के लिए 15 मिनट का समय दिया गया है । प्रश्न-पत्र का वितरण पूर्वाह्न में 10.15 बजे किया जाएगा । 10.15 बजे से 10.30 बजे तक छात्र केवल प्रश्न-पत्र को पढ़ेंगे और इस अवधि के दौरान वे उत्तर-पुस्तिका पर कोई उत्तर नहीं लिखेंगे ।
- Please check that this question paper contains **27** printed pages.
- Q.P. Code given on the right hand side of the question paper should be written on the title page of the answer-book by the candidate.
- Please check that this question paper contains **34** questions.
- **Please write down the serial number of the question in the answer-book before attempting it.**
- 15 minute time has been allotted to read this question paper. The question paper will be distributed at 10.15 a.m. From 10.15 a.m. to 10.30 a.m., the students will read the question paper only and will not write any answer on the answer-book during this period.

*



सामान्य निर्देश :

निम्नलिखित निर्देशों को बहुत सावधानी से पढ़िए और उनका सख्ती से पालन कीजिए :

- (i) इस प्रश्न-पत्र में 34 प्रश्न हैं । सभी प्रश्न अनिवार्य हैं ।
- (ii) यह प्रश्न-पत्र दो खण्डों में विभाजित है :
खण्ड क - समष्टि अर्थशास्त्र
खण्ड ख - भारतीय आर्थिक विकास
- (iii) इस प्रश्न-पत्र में एक-एक अंक के 20 बहुविकल्पीय प्रश्न हैं ।
- (iv) इस प्रश्न-पत्र में तीन-तीन अंकों के 4 लघु-उत्तरीय प्रकार-I के प्रश्न हैं जिनके उत्तर 60 से 80 शब्दों में लिखे जाने चाहिए ।
- (v) इस प्रश्न-पत्र में चार-चार अंकों के 6 लघु-उत्तरीय प्रकार-II के प्रश्न हैं जिनके उत्तर 80 से 100 शब्दों में लिखे जाने चाहिए ।
- (vi) इस प्रश्न-पत्र में छः-छः अंकों के 4 दीर्घ-उत्तरीय प्रकार के प्रश्न हैं जिनके उत्तर 100 से 150 शब्दों में लिखे जाने चाहिए ।
- (vii) प्रत्येक प्रश्न के सभी भागों के उत्तर एक साथ लिखे जाने चाहिए ।

खण्ड क समष्टि अर्थशास्त्र

1. निम्नलिखित कथनों को ध्यानपूर्वक पढ़िए :

कथन 1 : प्राथमिक जमा, आम जनता द्वारा वाणिज्यिक बैंकों के पास नकद जमा होते हैं ।

कथन 2 : वाणिज्यिक बैंकों द्वारा आम जनता को प्रदान किए गए ऋण के कारण उत्पन्न जमा को द्वितीयक जमा कहते हैं ।

दिए गए कथनों के आलोक में, निम्नलिखित में से सही विकल्प का चयन कीजिए :

1

- (a) कथन 1 सत्य है और कथन 2 असत्य है ।
- (b) कथन 1 असत्य है और कथन 2 सत्य है ।
- (c) कथन 1 और 2 दोनों सत्य हैं ।
- (d) कथन 1 और 2 दोनों असत्य हैं ।



General Instructions :

Read the following instructions carefully and strictly follow them :

- (i) *This question paper contains **34** questions. **All** questions are **compulsory**.*
- (ii) *This question paper contains **two** Sections :*
 - Section A – Macro Economics**
 - Section B – Indian Economic Development**
- (iii) *This paper contains **20** Multiple Choice Questions Type questions of **1** mark each.*
- (iv) *This paper contains **4** Short Answer Questions Type-I questions of **3** marks each to be answered in 60 to 80 words.*
- (v) *This paper contains **6** Short Answer Questions Type-II questions of **4** marks each to be answered in 80 to 100 words.*
- (vi) *This paper contains **4** Long Answer Questions Type questions of **6** marks each to be answered in 100 to 150 words.*
- (vii) *Attempt all parts of a question together.*

SECTION A

Macro Economics

1. Read the following statements carefully :

Statement 1 : Primary deposits are the cash deposits by general public with commercial banks.

Statement 2 : Secondary deposits are those deposits which arise on account of credit provided by the commercial banks to the people.

In light of the given statements, choose the correct alternative from the following :

1

- (a) Statement 1 is true and Statement 2 is false.
- (b) Statement 1 is false and Statement 2 is true.
- (c) Both Statements 1 and 2 are true.
- (d) Both Statements 1 and 2 are false.

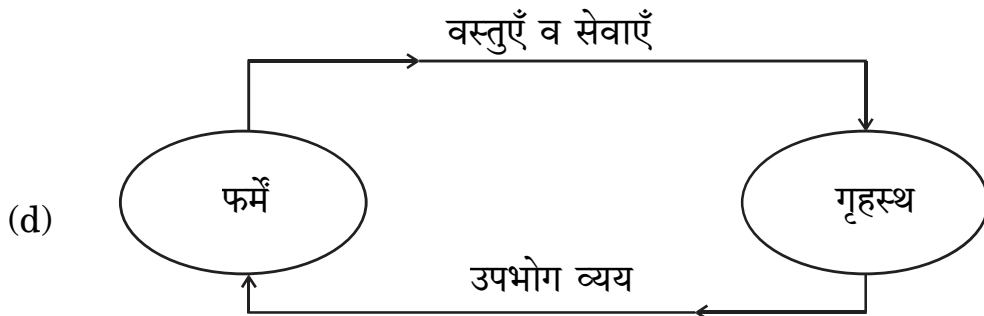
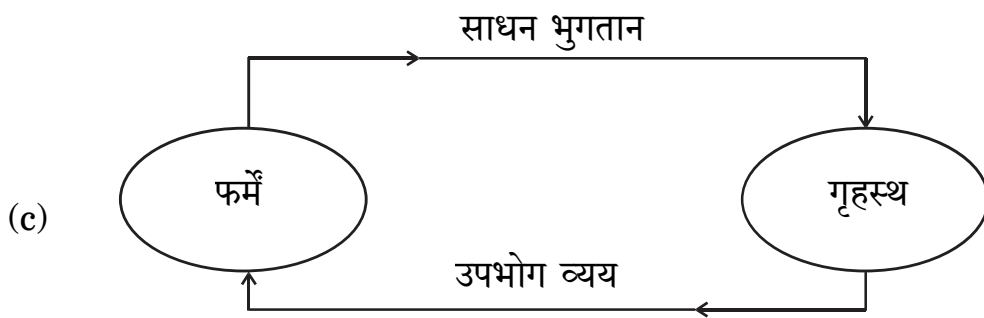
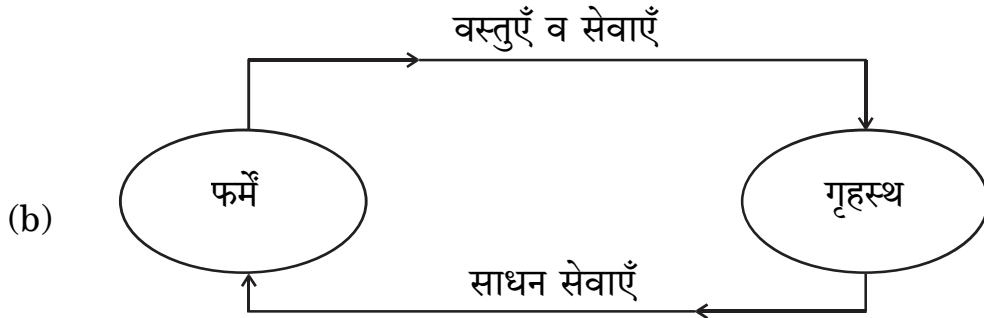
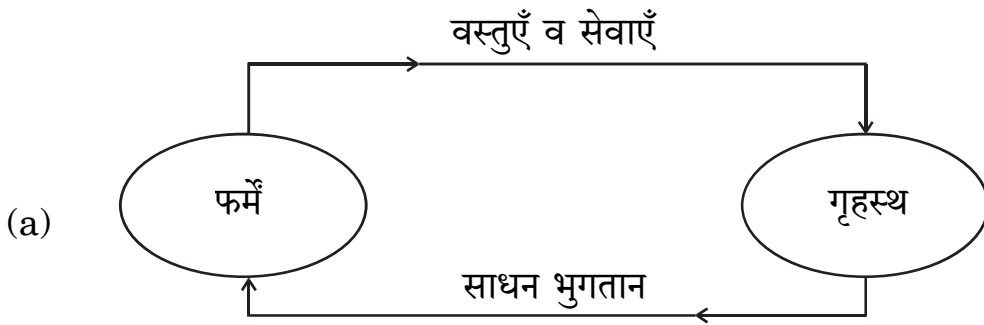


2. (क) बाज़ार मूल्य पर राष्ट्रीय आय व साधन लागत पर राष्ट्रीय आय का अंतर _____ होता है । (रिक्त स्थान भरने के लिए सही विकल्प का चयन कीजिए) 1

- (a) शुद्ध अप्रत्यक्ष कर
- (b) विदेशों से प्राप्त शुद्ध साधन आय
- (c) स्थायी पूँजी का उपभोग
- (d) बाज़ार मूल्य

अथवा

(ख) पहचानिए कि निम्नलिखित में से कौन-सा केवल वास्तविक प्रवाह को दर्शाता है ? 1



2. (A) The difference between National Income at market price and National Income at factor cost is _____.

(Choose the correct alternative to fill up the blank)

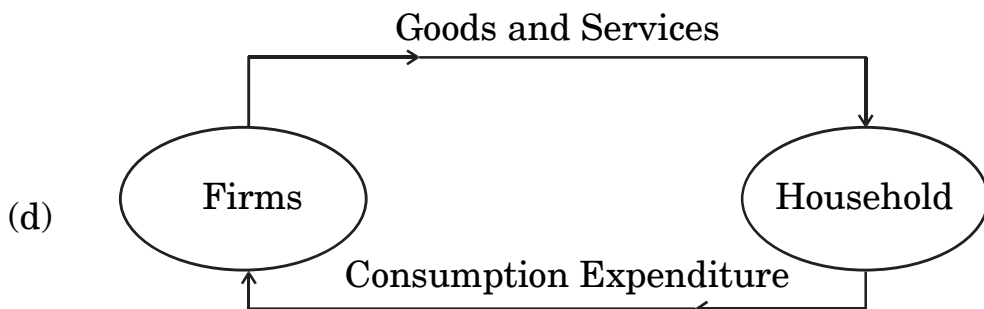
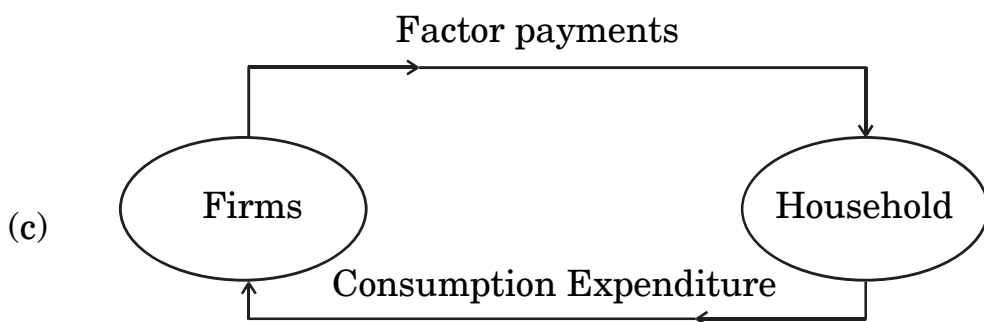
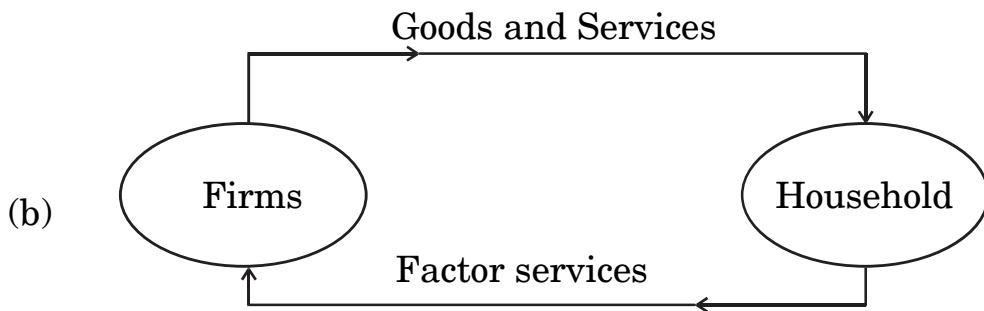
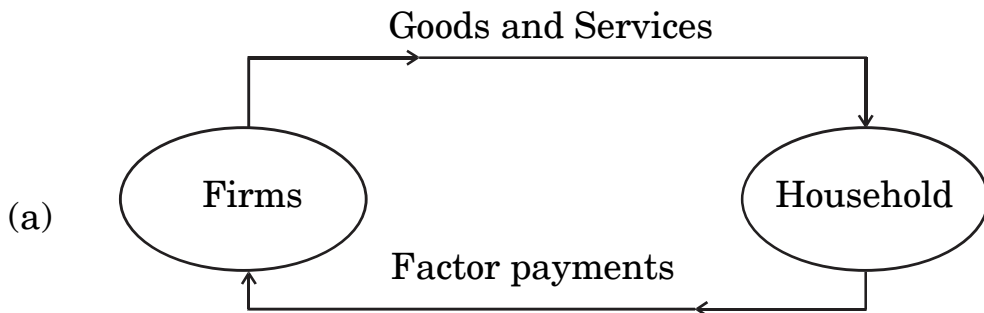
1

- (a) net indirect taxes
- (b) net factor income from abroad
- (c) consumption of fixed capital
- (d) market price

OR

- (B) Identify which of the following represents only the real flow :

1



3. वह दर जिस पर वाणिज्यिक बैंक अपनी दीर्घकालिक आवश्यकताओं की पूर्ति के लिए भारतीय रिज़र्व बैंक से ऋण लेते हैं, उसे _____ कहा जाता है ।

(रिक्त स्थान भरने के लिए सही विकल्प का चयन कीजिए)

1

- (a) मार्जिन आवश्यकता
- (b) बैंक दर
- (c) रेपो दर
- (d) रिवर्स रेपो दर

4. निम्नलिखित कथनों को ध्यानपूर्वक पढ़िए :

कथन 1 : किसी राष्ट्र द्वारा अपने भुगतान संतुलन (BoP) के घाटे को वित्तपोषित करने के लिए विश्व बैंक से प्राप्त ऋण पूँजी खाते में दर्ज किया जाएगा ।

कथन 2 : स्वायत्त लेन-देन भुगतान संतुलन (BoP) खाते की दशा से स्वतंत्र होते हैं ।

दिए गए कथनों के आलोक में, निम्नलिखित में से सही विकल्प का चयन कीजिए :

1

- (a) कथन 1 सत्य है और कथन 2 असत्य है ।
- (b) कथन 1 असत्य है और कथन 2 सत्य है ।
- (c) कथन 1 और 2 दोनों सत्य हैं ।
- (d) कथन 1 और 2 दोनों असत्य हैं ।

5. निम्नलिखित समाचार रिपोर्ट को ध्यानपूर्वक पढ़िए :

“केन्द्रीय बैंक ने हिसार शहरी सहकारी बैंक लि. तथा अंडमान व निकोबार राज्य सहकारी बैंक लि. पर बैंकिंग नियमों के उल्लंघन के लिए जुर्माना लगाया है ।”

दी गई रिपोर्ट के आधार पर, केन्द्रीय बैंक के कार्य की पहचान कीजिए :

1

- (a) करेंसी का जारीकर्ता
- (b) जनता के लिए बैंक
- (c) सरकार के लिए बैंक
- (d) बैंकों का बैंक



-
3. The rate at which commercial banks borrow from the Reserve Bank of India to meet their long term requirements is known as _____.

(Choose the correct alternative to fill up the blank)

1

- (a) Margin requirement
- (b) Bank rate
- (c) Repo rate
- (d) Reverse repo rate

4. Read the following statements carefully :

Statement 1 : Borrowings by a nation from the World Bank to finance Balance of Payment (BoP) deficit will be recorded in the capital account.

Statement 2 : Autonomous transactions are independent of the condition of Balance of Payment (BoP) account.

In light of the given statements, choose the correct alternative from the following :

1

- (a) Statement 1 is true and Statement 2 is false.
- (b) Statement 1 is false and Statement 2 is true.
- (c) Both Statements 1 and 2 are true.
- (d) Both Statements 1 and 2 are false.

5. Read the following news report carefully :

“The central bank has imposed fine on Hisar Urban Cooperative Bank Ltd. and Andaman and Nicobar State Cooperative Bank Ltd. for violation of banking norms.”

According to the given report, identify the function of the central bank.

1

- (a) Issue of currency
- (b) Banker to the public
- (c) Banker to the Government
- (d) Banker's Bank



6. (क) यदि निवेश गुणक का मूल्य = 4 तथा अबचत = (-) 60 है, तो निम्नलिखित में से सही बचत फलन की पहचान कीजिए :

1

- (a) $S = (-) 60 + 0.25 Y$
- (b) $S = (-) 60 + 0.75 Y$
- (c) $S = (-) 60 + 0.20 Y$
- (d) $S = (-) 60 + 0.60 Y$

अथवा

- (ख) दिए गए उपभोग फलन $C = 205 + 0.9 Y$ के लिए, निवेश गुणक का मूल्य _____ होगा। (रिक्त स्थान भरने के लिए सही विकल्प का चयन कीजिए)

1

- (a) 0.09
- (b) 10.0
- (c) 0.9
- (d) 9.0

7. निम्नलिखित कथनों को पढ़िए : अभिकथन (A) और कारण (R)। नीचे दिए गए विकल्पों में से एक सही विकल्प चुनिए :

1

अभिकथन (A) : आय के सम स्तर बिंदु (Break-Even level) पर पहुँचने से पहले, औसत उपभोग प्रवृत्ति (APC) का मूल्य इकाई से अधिक होता है।

कारण (R) : औसत उपभोग प्रवृत्ति (APC), कुल उपभोग व कुल आय का अनुपात होता है।

विकल्प :

- (a) अभिकथन (A) और कारण (R) दोनों सत्य हैं और कारण (R), अभिकथन (A) की सही व्याख्या करता है।
- (b) अभिकथन (A) और कारण (R) दोनों सत्य हैं, लेकिन कारण (R), अभिकथन (A) की सही व्याख्या नहीं करता है।
- (c) अभिकथन (A) सत्य है, लेकिन कारण (R) असत्य है।
- (d) अभिकथन (A) असत्य है, लेकिन कारण (R) सत्य है।



-
6. (A) If the value of investment multiplier = 4 and Dissavings = (–) 60, identify the correct Saving function from the following : 1
- (a) $S = (-) 60 + 0.25 Y$
- (b) $S = (-) 60 + 0.75 Y$
- (c) $S = (-) 60 + 0.20 Y$
- (d) $S = (-) 60 + 0.60 Y$

OR

- (B) For the given Consumption function, $C = 205 + 0.9 Y$, the value of investment multiplier would be _____. 1
- (Choose the correct alternative to fill up the blank)
- (a) 0.09
- (b) 10.0
- (c) 0.9
- (d) 9.0

7. Read the following statements : Assertion (A) and Reason (R). Choose the correct alternative given below : 1

Assertion (A) : Before reaching the Break-Even level of income, the value of Average Propensity to Consume (APC) is greater than one.

Reason (R) : The Average Propensity to Consume (APC) is the ratio of the total consumption and total income.

Alternatives :

- (a) Both Assertion (A) and Reason (R) are true and Reason (R) is the correct explanation of Assertion (A).
- (b) Both Assertion (A) and Reason (R) are true, but Reason (R) is **not** the correct explanation of Assertion (A).
- (c) Assertion (A) is true and Reason (R) is false.
- (d) Assertion (A) is false and Reason (R) is true.



8. (क) मान लीजिए कि, एक राष्ट्र का व्यापार संतुलन ₹ 50,000 करोड़ का घाटा दर्शाता है। दृश्य वस्तुओं का आयात, दृश्य वस्तुओं के निर्यात का पाँच गुना है। दृश्य वस्तुओं के निर्यात का मूल्य ₹ _____ करोड़ होगा।
(रिक्त स्थान भरने के लिए सही विकल्प का चयन कीजिए) 1
- (a) 20,000
(b) 10,000
(c) 12,500
(d) 20,300

अथवा

- (ख) विदेशों को भेजे गए उपहार व प्रेषण, भुगतान संतुलन के _____ खाते के _____ पक्ष में दर्ज किए जाते हैं।
(रिक्त स्थानों को भरने के लिए सही विकल्प का चयन कीजिए) 1
- (a) पूँजी, क्रेडिट
(b) पूँजी, डेबिट
(c) चालू, क्रेडिट
(d) चालू, डेबिट

9. पहचानिए कि निम्नलिखित में से कौन-सा समीकरण सत्य है ?
(सही विकल्प का चयन कीजिए) 1
- (a) $MPC + MPS = 0$
(b) $MPC + MPS = 1$
(c) $MPC + MPS > 1$
(d) $MPC + MPS < 1$

10. ऐसी स्थिति जहाँ एक सक्षम व्यक्ति वर्तमान मज़दूरी दर पर कार्य करने का इच्छुक नहीं होता है, वह _____ स्थिति कहलाती है।
(रिक्त स्थान भरने के लिए सही विकल्प का चयन कीजिए) 1
- (a) पूर्ण रोज़गार
(b) अनैच्छिक बेरोज़गारी
(c) ऐच्छिक बेरोज़गारी
(d) प्रच्छन्न बेरोज़गारी



8. (A) Suppose that, the Balance of Trade of a nation exhibits a deficit of ₹ 50,000 crore. The import of visible items are five times of the exports of visible items. The value of exports of visible items would be ₹ _____ crore.

(Choose the correct alternative to fill up the blank) 1

- (a) 20,000
- (b) 10,000
- (c) 12,500
- (d) 20,300

OR

- (B) Gifts and remittances sent abroad are recorded on the _____ side of the _____ account in Balance of Payment.

(Choose the correct alternative to fill up the blanks) 1

- (a) credit, capital
- (b) debit, capital
- (c) credit, current
- (d) debit, current

9. Identify which of the following equations is true.

(Choose the correct alternative) 1

- (a) $MPC + MPS = 0$
- (b) $MPC + MPS = 1$
- (c) $MPC + MPS > 1$
- (d) $MPC + MPS < 1$

10. A situation in which an able bodied person is not willing to work at the existing wage rate, is referred to as _____ situation.

(Choose the correct alternative to fill up the blank) 1

- (a) Full employment
- (b) Involuntary unemployment
- (c) Voluntary unemployment
- (d) Disguised unemployment



11. (क) 'मूल्य वृद्धि' व 'उत्पादन का अंतिम मूल्य' में विभेद कीजिए । 3

अथवा

- (ख) निम्नलिखित सूचना द्वारा, फर्म A की मूल्य वृद्धि की गणना कीजिए : 3

क्र.सं.	मर्दे	राशि (₹ करोड़ में)
(i)	फर्म A द्वारा कारक आगतों का क्रय	5
(ii)	फर्म A द्वारा गैर-कारक आगतों का क्रय	2
(iii)	घरेलू अर्थव्यवस्था में फर्म A द्वारा अन्य फर्मों को की गई ब्रिकी	10
(iv)	शेष विश्व से फर्म A द्वारा कच्चे माल का आयात	50
(v)	प्रारंभिक स्टॉक की अंतिम स्टॉक पर अधिकता	3

12. “विदेशी विनिमय दर तथा विदेशी मुद्रा की आपूर्ति में धनात्मक सहसंबंध होता है ।”

क्या आप दिए गए कथन से सहमत हैं ? अपने उत्तर की मान्य तर्कों द्वारा पुष्टि कीजिए । 3

13. यदि प्रत्याशित बचत, प्रत्याशित निवेश से कम हो, तो समायोजन तंत्र का वर्णन कीजिए । 4

14. 26 सितम्बर, 2022 को प्रकाशित निम्नलिखित समाचार को पढ़िए :

“केन्द्रीय बैंक ने बैंचमार्क ऋण दर में 140 आधार अंकों की वृद्धि की है ।”

भारतीय रिज़र्व बैंक द्वारा की गई, इस कार्यवाही के पीछे संभावित कारण व परिणामों की पहचान कीजिए । 4

15. (क) केन्द्रीय बैंक के ‘सरकार के बैंक’ कार्य की व्याख्या कीजिए । 4

अथवा

- (ख) एक काल्पनिक संख्यात्मक उदाहरण का उपयोग करते हुए, वाणिज्यिक बैंकों द्वारा साख सृजन पर आरक्षित अनुपात में वृद्धि के प्रभाव की व्याख्या कीजिए । 4



11. (a) Distinguish between 'Value Addition' and 'Final Value of Output'. 3

OR

- (b) Find the Value Added by Firm A, from the following information : 3

S. No.	Particulars	Amount (in ₹ crore)
(i)	Purchase of factor inputs by Firm A	5
(ii)	Purchase of non-factor inputs by Firm A	2
(iii)	Sales by Firm A to other firms in the domestic economy	10
(iv)	Import of raw materials by firm A from rest of the world	50
(v)	Excess of opening stock over closing stock	3

12. "There exists a positive relation between foreign exchange rate and supply of foreign exchange." Do you agree with the given statement ? Justify your answer with valid arguments. 3

13. Describe the adjustment mechanism, if ex-ante savings are less than ex-ante investments. 4

14. Read the following news published on September 26, 2022 :
"The central bank has increased the benchmark lending rate by 140 basis points."
Identify the likely cause and consequences behind this action taken by the Reserve Bank of India. 4

15. (a) Explain the 'Government's Bank' function of the central bank. 4

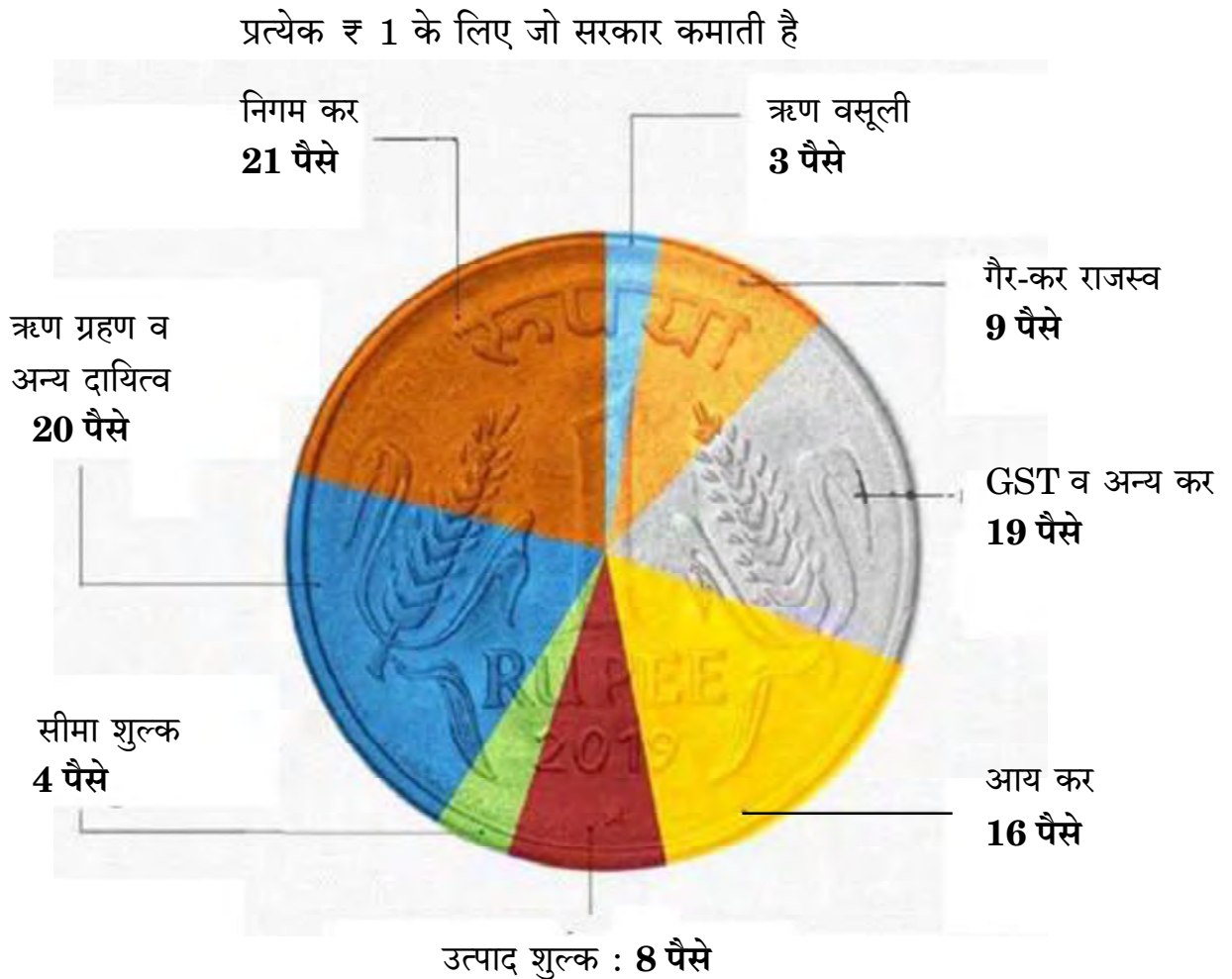
OR

- (b) Using a hypothetical numerical example, explain the effect of rise in Reserve Ratio on credit creation by the commercial banks. 4



16. (क) “राष्ट्रीय आय सदैव घरेलू आय से अधिक होती है।” क्या आप दिए गए कथन से सहमत हैं ? अपने उत्तर के समर्थन में मान्य कारण दीजिए । 3
- (ख) “व्यय विधि द्वारा सकल घरेलू उत्पाद (GDP) का आकलन करते हुए, ध्यान केवल राष्ट्र के निवासियों द्वारा व्यय पर होता है।”
क्या आप दिए गए कथन से सहमत हैं ? अपने उत्तर के समर्थन में मान्य कारण दीजिए । 3
17. (क) (i) चित्र में दी गई जानकारी के आधार पर, मान्य कारणों का उल्लेख करते हुए मदों को राजस्व प्राप्तियों व पूँजीगत प्राप्तियों में वर्गीकृत कीजिए । 4

भारत को उसका पैसा कहाँ से आता है ?



- (ii) राजस्व घाटे व राजकोषीय घाटे के मध्य अंतर स्पष्ट कीजिए । 2

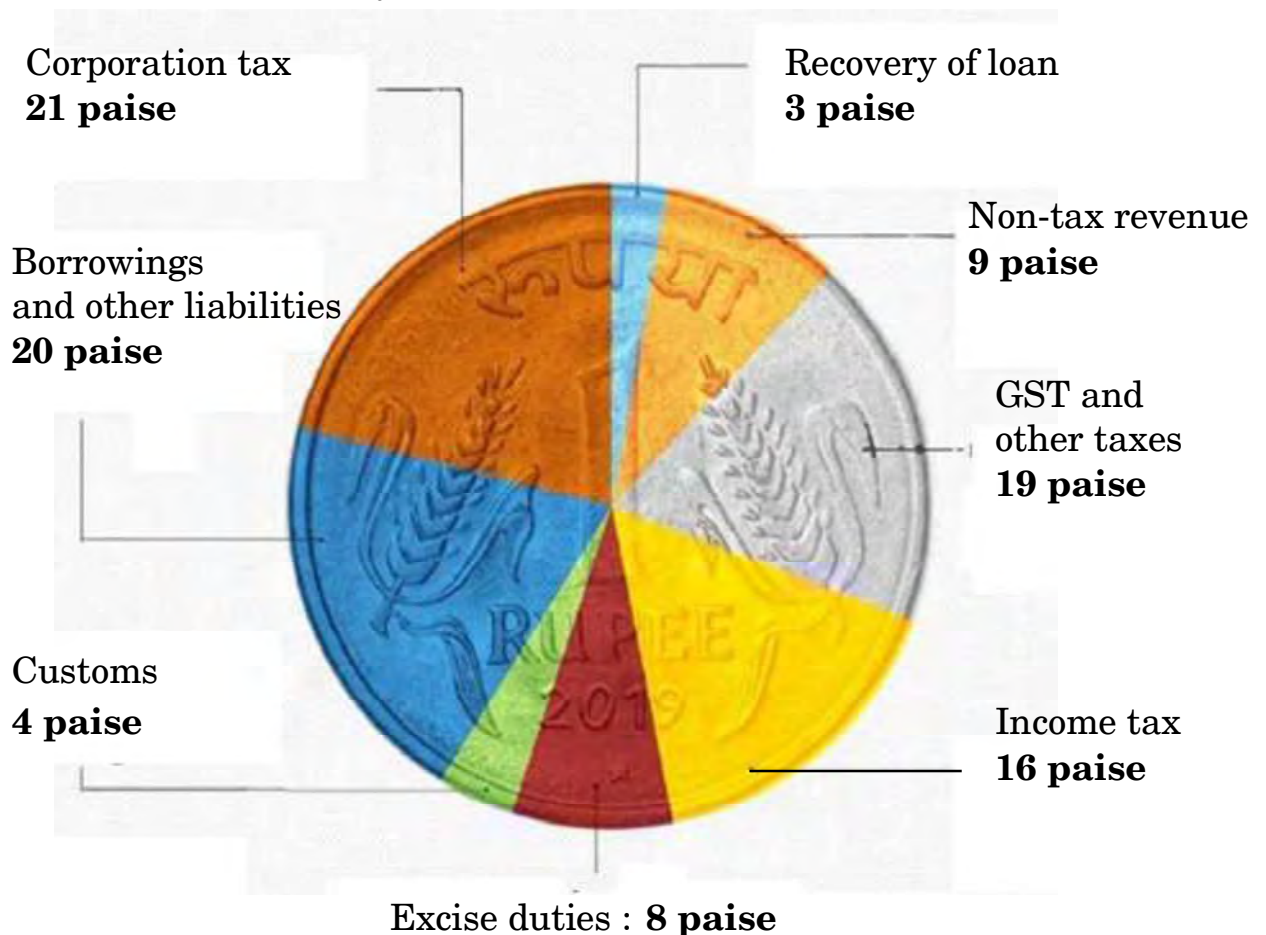
अथवा



16. (a) "National Income is always greater than Domestic Income." Do you agree with the given statement ? Support your answer with a valid reason. 3
- (b) "In the estimation of Gross Domestic Product (GDP) using expenditure method, focus lies only on expenditure by the residents of the country." 3
- Do you agree with the given statement ? Give valid reasons for your answer. 3
17. (a) (i) From the information given in the diagram, categorize the items into revenue receipts and capital receipts, stating valid reasons. 4

WHERE INDIA GETS ITS MONEY FROM?

For every ₹ 1 that the Govt. earns



- (ii) Distinguish between Revenue deficit and Fiscal deficit. 2

OR



(ख) (i) निम्नलिखित आँकड़ों द्वारा, प्राथमिक घाटे की गणना कीजिए :

3

क्र.सं.	मर्दे	राशि (रु करोड़ में)
(i)	राजस्व घाटा	40
(ii)	गैर-ऋण सृजित पूँजीगत प्राप्तियाँ	190
(iii)	कर राजस्व	125
(iv)	पूँजीगत व्यय	220
(v)	ब्याज भुगतान	20

(ii) सरकारी बजट के 'आर्थिक स्थिरता' कार्य की व्याख्या कीजिए ।

3

खण्ड ख भारतीय आर्थिक विकास

18. निम्नलिखित कथनों को ध्यानपूर्वक पढ़िए :

कथन 1 : ब्रिटिश शासन के अंतर्गत कृषि का व्यवसायीकरण, 1875 और 1900 के मध्य लगातार अकाल के लिए ज़िम्मेदार था ।

कथन 2 : ब्रिटिश शासनकाल में, भारत ने खाद्यान्नों का निर्यात प्रारंभ कर दिया था ।

दिए गए कथनों के आलोक में, निम्नलिखित में से सही विकल्प का चयन कीजिए :

1

- (a) कथन 1 सत्य है और कथन 2 असत्य है ।
- (b) कथन 1 असत्य है और कथन 2 सत्य है ।
- (c) कथन 1 और 2 दोनों सत्य हैं ।
- (d) कथन 1 और 2 दोनों असत्य हैं ।



- (b) (i) From the following data, calculate the primary deficit.

3

S. No.	Particulars	Amount (in ₹ crore)
(i)	Revenue deficit	40
(ii)	Non-debt creating capital receipts	190
(iii)	Tax revenue	125
(iv)	Capital expenditure	220
(v)	Interest payments	20

- (ii) Elaborate 'Economic stability' function of the Government Budget.

3

SECTION B

Indian Economic Development

18. Read the following statements carefully :

Statement 1 : Commercialization of agriculture under the British rule was responsible for frequent famines between 1875 and 1900.

Statement 2 : During British rule, India began to export food grains.

In light of the given statements, choose the correct alternative from the following :

1

- (a) Statement 1 is true and Statement 2 is false.
(b) Statement 1 is false and Statement 2 is true.
(c) Both Statements 1 and 2 are true.
(d) Both Statements 1 and 2 are false.



19. (क) निम्नलिखित कथनों को ध्यानपूर्वक पढ़िए :

कथन 1 : सरकार द्वारा न्यूनतम समर्थन मूल्य (MSP) पर क्रय किया गया खाद्यान्न बफर स्टॉक (Buffer Stock) के रूप में रखा जाता है ।

कथन 2 : न्यूनतम समर्थन मूल्य (MSP) कृषकों की कृषि उत्पाद के मूल्यों में किसी तेज गिरावट से बचाव करते हैं ।

दिए गए कथनों के आलोक में, निम्नलिखित में से सही विकल्प का चयन कीजिए : 1

- (a) कथन 1 सत्य है और कथन 2 असत्य है ।
- (b) कथन 1 असत्य है और कथन 2 सत्य है ।
- (c) कथन 1 और 2 दोनों सत्य हैं ।
- (d) कथन 1 और 2 दोनों असत्य हैं ।

अथवा

(ख) निम्नलिखित में से **असत्य** कथन की पहचान कीजिए : 1

- (a) आयात प्रतिस्थापन विदेशी मुद्रा बचाने के लिए प्रयुक्त रणनीति थी ।
- (b) लाइसेंस नीति ने क्षेत्रीय समानता सुनिश्चित की थी ।
- (c) रूसी आर्थिक मॉडल भारतीय आर्थिक प्रणाली का आधार था ।
- (d) रोजगार सृजन के लिए लघु स्तरीय उद्योग आवश्यक उपकरणों में से एक हैं ।

20. लघु-जलविद्युत संयंत्र पर्यावरण के लिए अनुकूल हैं, क्योंकि : 1

- (i) वे केवल स्थानीय क्षेत्रों के लिए विद्युत उत्पन्न करते हैं ।
- (ii) वे भूमि के उपयोग ढाँचे को परिवर्तित नहीं करते हैं ।
- (iii) वे बारहमासी धाराओं (perennial streams) पर निर्भर होते हैं ।

(सही विकल्प का चयन कीजिए)

विकल्प :

- (a) (i), (ii) और (iii)
- (b) (ii) और (iii)
- (c) केवल (i)
- (d) (i) और (ii)



19. (A) Read the following statements carefully :

Statement 1 : The purchase of food grains made by the Government on the Minimum Support Price (MSP) is maintained as buffer stock.

Statement 2 : Minimum Support Price safeguards the farmers against any sharp fall in farm product prices.

In light of the given statements, choose the correct alternative from the following :

1

- (a) Statement 1 is true and Statement 2 is false.
- (b) Statement 1 is false and Statement 2 is true.
- (c) Both Statements 1 and 2 are true.
- (d) Both Statements 1 and 2 are false.

OR

(B) Identify the ***incorrect*** statement from the following :

1

- (a) Import substitution was the strategy used to save foreign exchange.
- (b) License policy ensured regional equality.
- (c) Russian economic model was the base for the Indian economic system.
- (d) Small Scale Industries are one of the essential tools for employment generation.

20. Mini-hydel plants are good for the environment because :

1

- (i) they generate electricity only for local areas.
- (ii) they do not change the land use pattern.
- (iii) they rely on the perennial streams.

(Choose the correct alternative)

Alternatives :

- (a) (i), (ii) and (iii)
- (b) (ii) and (iii)
- (c) (i) only
- (d) (i) and (ii)



21. (क) चीन का ग्रेट लीप फॉरवर्ड (GLF) अभियान _____ पर केन्द्रित है ।

(रिक्त स्थान भरने के लिए सही विकल्प का चयन कीजिए)

1

- (a) व्यापक औद्योगीकरण
- (b) नई कृषि रणनीति
- (c) निजीकरण
- (d) आर्थिक सुधारों

अथवा

(ख) भारत निम्नलिखित में से किस क्षेत्रीय/वैश्विक आर्थिक समूह का सदस्य **नहीं** है ?

1

- (a) यूरोपियन संघ
- (b) BRICS (ब्रिक्स)
- (c) G20
- (d) SAARC (सार्क)

22. सरकार द्वारा प्रारंभ किया गया 'Skill India' (स्किल इंडिया) कार्यक्रम भारत में _____ को बढ़ाने का एक प्रयास नहीं है ।

(रिक्त स्थान भरने के लिए सही विकल्प का चयन कीजिए)

1

- (a) मानव पूँजी निर्माण
- (b) आगतों का कुशल उपयोग
- (c) सकल घरेलू उत्पाद (GDP) में वृद्धि
- (d) व्यावसायिक शिक्षा का अपर्याप्त विस्तार

23. निम्नलिखित कथन के संदर्भ में, सही विकल्प की पहचान कीजिए :

1

“1966 – 76 के मध्य, माओ ने इस आंदोलन का आरम्भ किया था, जिसके अंतर्गत छात्रों व पेशेवरों को कार्य करने के लिए चीन के ग्रामीण इलाकों में प्रचलित वास्तविक जीवन स्थितियों से सीखने के लिए कहा गया था ।”

- (a) कम्यून प्रणाली
- (b) ग्रेट लीप फॉरवर्ड
- (c) खुले द्वार की नीति
- (d) महान सर्वहारा सांस्कृतिक क्रांति



-
21. (A) The Great Leap Forward (GLF) campaign in China focused on _____. (Choose the correct alternative to fill up the blank) 1
- (a) Widespread industrialisation
 - (b) New agricultural strategy
 - (c) Privatisation
 - (d) Economic reforms

OR

- (B) India is **not** a member of which of the following regional / global economic groups ? 1
- (a) European Union
 - (b) BRICS
 - (c) G20
 - (d) SAARC
22. 'Skill India' programme launched by the Government is not an attempt to increase _____ in India. 1
- (Choose the correct alternative to fill up the blank)
- (a) human capital formation
 - (b) efficient utilisation of inputs
 - (c) increase in GDP growth
 - (d) inadequate spread of vocational education
23. Identify the correct alternative with reference to the following statement : 1
- "Between 1966 – 76, Mao introduced this movement under which professionals and students were asked to work and learn from real life situations prevailing in the countryside of China."
- (a) Commune System
 - (b) Great Leap Forward
 - (c) Open Door Policy
 - (d) Great Proletarian Cultural Revolution



24. निम्नलिखित कथनों को ध्यानपूर्वक पढ़िए :

कथन 1 : भारत व पाकिस्तान दोनों में, सेवा क्षेत्र विकास के एक प्रमुख स्रोत के रूप में उभरा है ।

कथन 2 : भारत के पड़ोसी देशों में, चीन की जीवन प्रत्याशा दर सर्वाधिक है ।

दिए गए कथनों के आलोक में, निम्नलिखित में से सही विकल्प का चयन कीजिए :

1

- (a) कथन 1 सत्य है और कथन 2 असत्य है ।
- (b) कथन 1 असत्य है और कथन 2 सत्य है ।
- (c) कथन 1 और 2 दोनों सत्य हैं ।
- (d) कथन 1 और 2 दोनों असत्य हैं ।

25. (क) वे श्रमिक जो अपने नियोक्ताओं के स्थायी पे-रोल (pay-roll) पर नियुक्त होते हैं, _____ श्रमिक के रूप में जाने जाते हैं ।

(रिक्त स्थान भरने के लिए सही विकल्प का चयन कीजिए)

1

- (a) स्वनियोजित
- (b) आकस्मिक
- (c) नियमित
- (d) भाड़े के

अथवा

(ख) रोज़गार-विहीन संवृद्धि, बेरोज़गारी को उत्पन्न करती है क्योंकि _____ ।

(रिक्त स्थान भरने के लिए सही विकल्प का चयन कीजिए)

1

- (a) श्रमिक पलायन करने से मना करते हैं
- (b) श्रमिक सेवाएँ बहुत महँगी होती हैं
- (c) विकास दर कम होती है
- (d) विकास प्रौद्योगिकी के कारण होता है

26. किसी एक विशेष फ़सल के बजाय विविध प्रकार की फ़सलों के उत्पादन को _____ कहा जाता है ।

(रिक्त स्थान भरने के लिए सही विकल्प का चयन कीजिए)

1

- (a) फ़सलों का विविधीकरण
- (b) कृषि उत्पादन का विविधीकरण
- (c) क्षेत्रकों में विविधीकरण
- (d) रोज़गार का विविधीकरण



24. Read the following statements carefully :

Statement 1 : In both India and Pakistan, the service sector has been emerging as a major source of development.

Statement 2 : Amongst the neighbours of India, China has the highest life expectancy rate.

In light of the given statements, choose the correct alternative from the following :

1

- (a) Statement 1 is true and Statement 2 is false.
- (b) Statement 1 is false and Statement 2 is true.
- (c) Both Statements 1 and 2 are true.
- (d) Both Statements 1 and 2 are false.

25. (A) Workers who are on the permanent pay-roll of their employer are called _____ workers.

(Choose the correct alternative to fill up the blank)

1

- (a) self-employed
- (b) casual
- (c) regular
- (d) hired

OR

(B) Jobless growth leads to unemployment because _____ .

(Choose the correct alternative to fill up the blank)

1

- (a) Labour refuses to migrate
- (b) Labour is very expensive
- (c) Growth rate is low
- (d) Growth is due to technological development

26. Production of diverse varieties of crops rather than one specialized crop is called _____. (Choose the correct alternative to fill up the blank)

1

- (a) diversification of crops
- (b) diversification of agricultural production
- (c) diversification in sectors
- (d) diversification of employment



27. निम्नलिखित कथनों को ध्यानपूर्वक पढ़िए :

कथन 1 : भारत ने अपनी प्रथम पंचवर्षीय योजना की घोषणा 1951 में की थी ।

कथन 2 : भारत, पाकिस्तान व चीन ने आर्थिक नियोजन को अपनी मुख्य विकास रणनीति के तौर पर अपनाया था ।

दिए गए कथनों के आलोक में, निम्नलिखित में से सही विकल्प का चयन कीजिए :

1

(a) कथन 1 सत्य है और कथन 2 असत्य है ।

(b) कथन 1 असत्य है और कथन 2 सत्य है ।

(c) कथन 1 और 2 दोनों सत्य हैं ।

(d) कथन 1 और 2 दोनों असत्य हैं ।

28. दिए गए चित्र की व्याख्या, वर्तमान पर्यावरणीय चुनौतियों के आधार पर कीजिए :

3



नोट : निम्नलिखित प्रश्न केवल दृष्टिबाधित परीक्षार्थियों के लिए प्रश्न संख्या 28 के स्थान पर है : किसी एक वर्तमान पर्यावरणीय चुनौती की व्याख्या कीजिए ।

29. (क) भारत में ग्रामीण विकास की प्रक्रिया में ग्रामीण बैंकिंग प्रणाली की भूमिका का आलोचनात्मक मूल्यांकन कीजिए ।

3

अथवा

(ख) “डॉ. खुराना, एक दंत चिकित्सक, आर्थिक रूप से पिछड़े इलाके में अपना चिकित्सालय (clinic) चलाते थे । वे अपेक्षाकृत अल्प आय अर्जित कर रहे थे । इसलिए, उन्होंने शहर जाने का फैसला किया तथा उस प्रयोजन में बड़ी राशि का व्यय किया ।”

डॉ. खुराना के द्वारा किए गए व्यय के उस प्रकार को पहचानिए तथा व्याख्या कीजिए, जिसने मानव पूंजी निर्माण प्रक्रिया में प्रत्यक्ष रूप से योगदान दिया है ।

3

30. पाकिस्तान में धीमी संवृद्धि व पुनः निर्धनता आने के मान्य कारणों की व्याख्या कीजिए ।

4

31. (क) औद्योगिक नीति प्रस्ताव, 1956 के अंतर्गत ‘लाइसेंस राज’ के पीछे के तर्कों को संक्षेप में समझाइए ।

3

(ख) बहुपक्षीय व्यापार की परिभाषा दीजिए ।

1



27. Read the following statements carefully :

Statement 1 : India announced its First Five Year Plan in 1951.

Statement 2 : India, Pakistan and China adopted economic planning as the core development strategy.

In light of the given statements, choose the correct alternative from the following :

- (a) Statement 1 is true and Statement 2 is false.
- (b) Statement 1 is false and Statement 2 is true.
- (c) Both Statements 1 and 2 are true.
- (d) Both Statements 1 and 2 are false.

1

28. Interpret the given picture, on account of current environmental challenges :

3



Note : The following question is for the **Visually Impaired Candidates** only, in lieu of Q. No. 28 :

Explain any one current environmental challenge.

29. (a) Critically evaluate the role of rural banking system in the process of rural development in India.

3

OR

(b) “Dr. Khurana, a dentist, ran his clinic in an economically backward area. He was earning a comparatively low income. So, he decided to move to a city and spent a huge amount for the same.” Identify and explain the type of expenditure incurred by Dr. Khurana, which directly contributed to the process of human capital formation.

3

30. Explain valid reasons for the slow growth and re-emergence of poverty in Pakistan.

4

31. (a) Explain briefly the rationale behind the ‘License Raj’ under the Industrial Policy Resolution, 1956.

3

(b) Define Multilateral trade.

1



32. (क) मान्य तर्कों सहित, उल्लेख एवं व्याख्या कीजिए कि निम्नलिखित कथन सत्य है अथवा असत्य :
 “हाल में, भारतीय अर्थव्यवस्था ने कार्यबल के औपचारीकरण की ओर संतोषजनक विकास किया है।” 4
- अथवा**
- (ख) “भारत में लगभग 60% कर्मचारी स्वरोज़गार में कार्यरत हैं। स्वरोज़गारी व्यक्तियों में अल्प रोजगार के होने की संभावना अधिकतम है।”
 एक अर्थशास्त्री के रूप में, स्वरोज़गारी व्यक्तियों के लिए अधिक उत्पादक रोजगार सुनिश्चित करने के लिए किए जाने वाले किन्हीं दो उपायों का सविस्तार सुझाव दीजिए। 4
33. (क) (i) नियमित वेतनभोगी कर्मचारियों में महिलाएँ कम क्यों हैं ? 3
 (ii) मानव पूँजी व भौतिक पूँजी में अन्तर स्पष्ट कीजिए। 3
- अथवा**
- (ख) (i) भारत में धारणीय विकास प्राप्त करने में शामिल किसी एक रणनीति का उल्लेख व चर्चा कीजिए। 3
 (ii) ग्रामीण भारत में सूक्ष्म-ऋण कार्यक्रम के महत्त्व की संक्षेप में चर्चा कीजिए। 3
34. निम्नलिखित गद्य को ध्यानपूर्वक पढ़िए :
 नीति आयोग के अनुसार, भारत में डिजिटल बैंकों की सुविधा के लिए प्रौद्योगिकीय लाभ उपलब्ध हैं। इसे प्रोत्साहित करने के लिए एक नियामक ढाँचा तैयार करने की आवश्यकता है।
 नीति आयोग ने अपनी रिपोर्ट “Digital Banks : A Proposal for Licensing and Regulatory Regime for India” में राष्ट्र के लिए डिजिटल बैंक लाइसेंसिंग व नियामक व्यवस्था के लिए एक साँचा व रोडमैप प्रदान किया है। भारत के सार्वजनिक डिजिटल बुनियादी ढाँचे, विशेष रूप से एकीकृत भुगतान इंटरफेस (UPI) ने इस चुनौती का सफलतापूर्वक सामना किया है।
 आधार के साथ, भारत अपने स्वयं एक मुक्त बैंकिंग ढाँचे को संचालित करने की कगार पर है। इससे यह पता लगता है, कि डिजिटल बैंकों को पूर्ण रूप से सुविधा प्रदान करने के लिए भारत के पास तकनीकी स्टॉक उपलब्ध है।
 डिजिटल बैंकिंग, उपयोगकर्ता को नियमित उपयोगिता बिलों को भुगतान करने का एक स्वचालित भुगतान प्रक्रिया बनाने की अनुमति देता है। डिजिटल बैंकिंग फंड हस्तांतरण करके नकली मुद्रा के जोखिम को भी कम करता है। नकदी रहित समाज को प्रोत्साहित करके, डिजिटल बैंकिंग काले धन के संचलन को प्रतिबंधित करती है।
 दिए गए गद्य तथा सामान्य समझ के आधार पर निम्नलिखित प्रश्नों के उत्तर दीजिए :
 (क) भारत में नीति आयोग ने किस संस्था को प्रतिस्थापित किया है ? नीति आयोग के पदेन अध्यक्ष कौन हैं ? 2
 (ख) डिजिटल बैंकिंग के किन्हीं दो मुख्य लाभों का उल्लेख व चर्चा कीजिए। 4



- 32.** (a) State and elaborate whether the following statement is true or false, with valid arguments :
 “Indian economy has showed satisfactory progress towards formalization of workforce in the recent past.” 4
- OR**
- (b) “In India, the self-employed constitute around 60% employees. The possible incidence of under employment is the highest among the self-employed.”
 As an economist, suggest and elaborate any two measures that may be taken to ensure more productive employment for the self-employed. 4
- 33.** (a) (i) Why are less women found in regular salaried employment ? 3
 (ii) Distinguish between human capital and physical capital. 3
- OR**
- (b) (i) State and discuss any one strategy involved in attaining sustainable development in India. 3
 (ii) Discuss briefly the importance of micro credit programme in rural India. 3
- 34.** Read the following text carefully :
 According to NITI Aayog, India has a technological advantage to facilitate digital banks. There is a need for creating a regulatory framework for promoting this.
 NITI Aayog, in its report titled “Digital Banks : A Proposal for Licensing and Regulatory Regime for India”, offers a template and roadmap for a digital bank licensing and regulatory regime for a country. India’s public digital infrastructure, especially Unified Payments Interface (UPI) has successfully faced this.
 With Aadhar, India is at the cusp of operationalizing its own open banking framework. This demonstrates that India has the technology stock to fully facilitate digital banks.
 Digital banking allows a user to set up automatic payments for regular utility bills. Digital banking enables fund transfers to reduce the risk of counterfeit currency. By promoting a cashless society, digital banking restricts the circulation of black money.
 On the basis of the given text and common understanding, answer the following questions :
- (a) Which institution has been replaced by NITI Aayog in India ? Who is the ex-officio Chairman of NITI Aayog ? 2
- (b) State and discuss any two main advantages of digital banking. 4



Series HFG1E/1**SET-2**प्रश्न-पत्र कोड
Q.P. Code**58/1/2**

रोल नं.

Roll No.

--	--	--	--	--	--	--	--

परीक्षार्थी प्रश्न-पत्र कोड को उत्तर-पुस्तिका के मुख-पृष्ठ पर अवश्य लिखें।

Candidates must write the Q.P. Code on the title page of the answer-book.

अर्थशास्त्र

ECONOMICS

निर्धारित समय : 3 घण्टे

अधिकतम अंक : 80

Time allowed : 3 hours

Maximum Marks : 80

- कृपया जाँच कर लें कि इस प्रश्न-पत्र में मुद्रित पृष्ठ **27** हैं।
- प्रश्न-पत्र में दाहिने हाथ की ओर दिए गए प्रश्न-पत्र कोड को परीक्षार्थी उत्तर-पुस्तिका के मुख-पृष्ठ पर लिखें।
- कृपया जाँच कर लें कि इस प्रश्न-पत्र में **34** प्रश्न हैं।
- कृपया प्रश्न का उत्तर लिखना शुरू करने से पहले, उत्तर-पुस्तिका में प्रश्न का क्रमांक अवश्य लिखें।
- इस प्रश्न-पत्र को पढ़ने के लिए 15 मिनट का समय दिया गया है। प्रश्न-पत्र का वितरण पूर्वाह्न में 10.15 बजे किया जाएगा। 10.15 बजे से 10.30 बजे तक छात्र केवल प्रश्न-पत्र को पढ़ेंगे और इस अवधि के दौरान वे उत्तर-पुस्तिका पर कोई उत्तर नहीं लिखेंगे।
- Please check that this question paper contains **27** printed pages.
- Q.P. Code given on the right hand side of the question paper should be written on the title page of the answer-book by the candidate.
- Please check that this question paper contains **34** questions.
- **Please write down the serial number of the question in the answer-book before attempting it.**
- 15 minute time has been allotted to read this question paper. The question paper will be distributed at 10.15 a.m. From 10.15 a.m. to 10.30 a.m., the students will read the question paper only and will not write any answer on the answer-book during this period.

*



सामान्य निर्देश :

निम्नलिखित निर्देशों को बहुत सावधानी से पढ़िए और उनका सख्ती से पालन कीजिए :

- (i) इस प्रश्न-पत्र में 34 प्रश्न हैं । सभी प्रश्न अनिवार्य हैं ।
- (ii) यह प्रश्न-पत्र दो खण्डों में विभाजित है :
खण्ड क - समष्टि अर्थशास्त्र
खण्ड ख - भारतीय आर्थिक विकास
- (iii) इस प्रश्न-पत्र में एक-एक अंक के 20 बहुविकल्पीय प्रश्न हैं ।
- (iv) इस प्रश्न-पत्र में तीन-तीन अंकों के 4 लघु-उत्तरीय प्रकार-I के प्रश्न हैं जिनके उत्तर 60 से 80 शब्दों में लिखे जाने चाहिए ।
- (v) इस प्रश्न-पत्र में चार-चार अंकों के 6 लघु-उत्तरीय प्रकार-II के प्रश्न हैं जिनके उत्तर 80 से 100 शब्दों में लिखे जाने चाहिए ।
- (vi) इस प्रश्न-पत्र में छः-छः अंकों के 4 दीर्घ-उत्तरीय प्रकार के प्रश्न हैं जिनके उत्तर 100 से 150 शब्दों में लिखे जाने चाहिए ।
- (vii) प्रत्येक प्रश्न के सभी भागों के उत्तर एक साथ लिखे जाने चाहिए ।

खण्ड क समष्टि अर्थशास्त्र

1. निम्नलिखित कथनों को ध्यानपूर्वक पढ़िए :

कथन 1 : किसी राष्ट्र द्वारा अपने भुगतान संतुलन (BoP) के घाटे को वित्तपोषित करने के लिए विश्व बैंक से प्राप्त ऋण पूँजी खाते में दर्ज किया जाएगा ।

कथन 2 : स्वायत्त लेन-देन भुगतान संतुलन (BoP) खाते की दशा से स्वतंत्र होते हैं ।

दिए गए कथनों के आलोक में, निम्नलिखित में से सही विकल्प का चयन कीजिए :

1

- (a) कथन 1 सत्य है और कथन 2 असत्य है ।
- (b) कथन 1 असत्य है और कथन 2 सत्य है ।
- (c) कथन 1 और 2 दोनों सत्य हैं ।
- (d) कथन 1 और 2 दोनों असत्य हैं ।



General Instructions :

Read the following instructions carefully and strictly follow them :

- (i) *This question paper contains **34** questions. **All** questions are **compulsory**.*
- (ii) *This question paper contains **two** Sections :*
 - Section A – Macro Economics**
 - Section B – Indian Economic Development**
- (iii) *This paper contains **20** Multiple Choice Questions Type questions of **1** mark each.*
- (iv) *This paper contains **4** Short Answer Questions Type-I questions of **3** marks each to be answered in 60 to 80 words.*
- (v) *This paper contains **6** Short Answer Questions Type-II questions of **4** marks each to be answered in 80 to 100 words.*
- (vi) *This paper contains **4** Long Answer Questions Type questions of **6** marks each to be answered in 100 to 150 words.*
- (vii) *Attempt all parts of a question together.*

SECTION A

Macro Economics

1. Read the following statements carefully :

Statement 1 : Borrowings by a nation from the World Bank to finance Balance of Payment (BoP) deficit will be recorded in the capital account.

Statement 2 : Autonomous transactions are independent of the condition of Balance of Payment (BoP) account.

In light of the given statements, choose the correct alternative from the following :

1

- (a) Statement 1 is true and Statement 2 is false.
- (b) Statement 1 is false and Statement 2 is true.
- (c) Both Statements 1 and 2 are true.
- (d) Both Statements 1 and 2 are false.

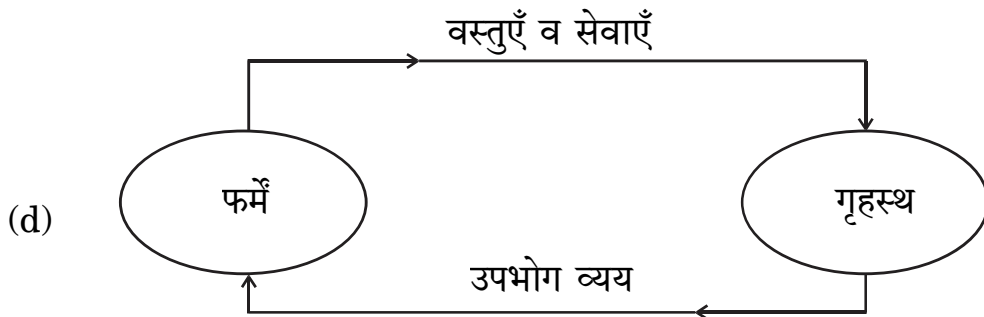
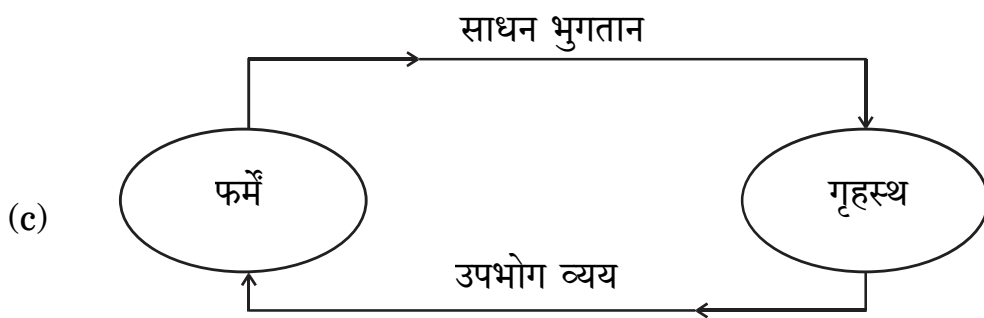
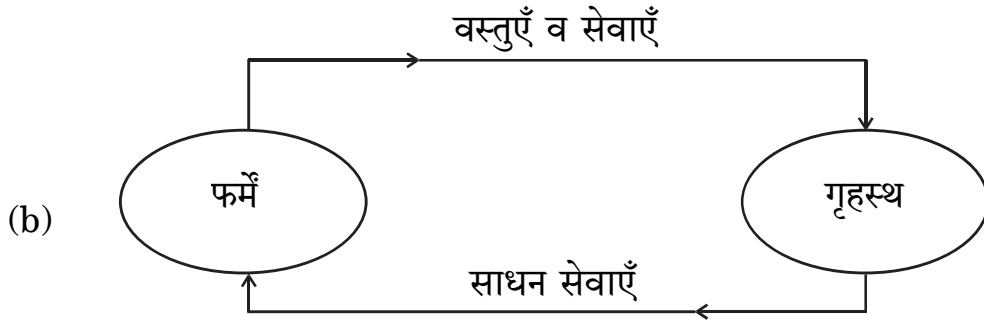
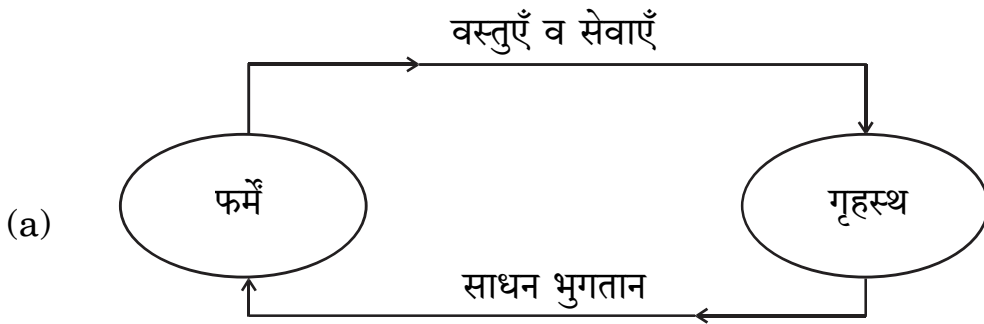


2. (क) बाज़ार मूल्य पर राष्ट्रीय आय व साधन लागत पर राष्ट्रीय आय का अंतर _____ होता है । (रिक्त स्थान भरने के लिए सही विकल्प का चयन कीजिए) 1

- (a) शुद्ध अप्रत्यक्ष कर
- (b) विदेशों से प्राप्त शुद्ध साधन आय
- (c) स्थायी पूँजी का उपभोग
- (d) बाज़ार मूल्य

अथवा

(ख) पहचानिए कि निम्नलिखित में से कौन-सा केवल वास्तविक प्रवाह को दर्शाता है ? 1



2. (A) The difference between National Income at market price and National Income at factor cost is _____.

(Choose the correct alternative to fill up the blank)

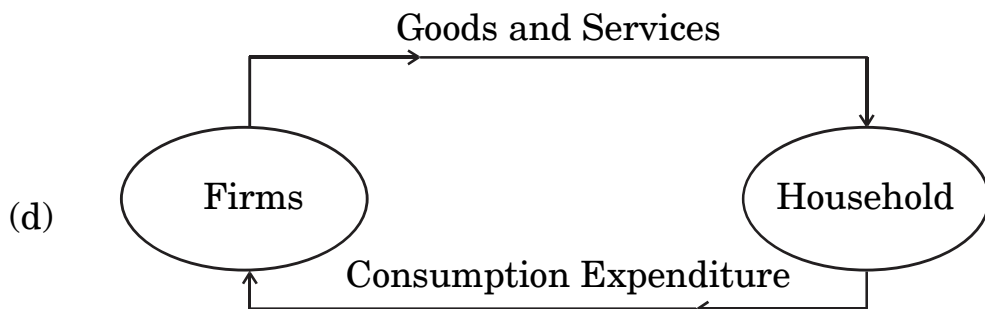
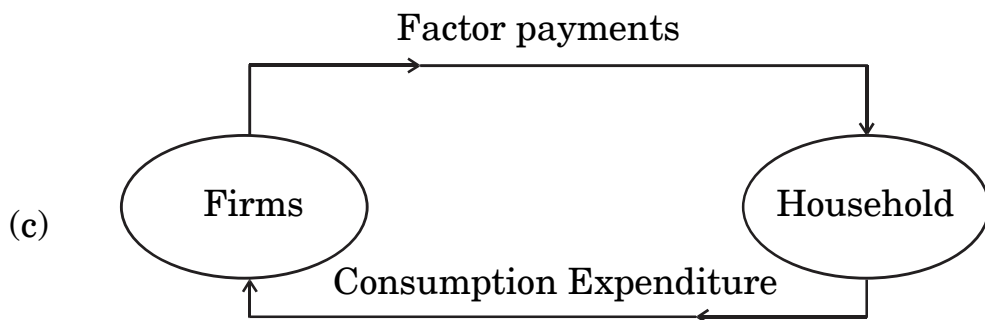
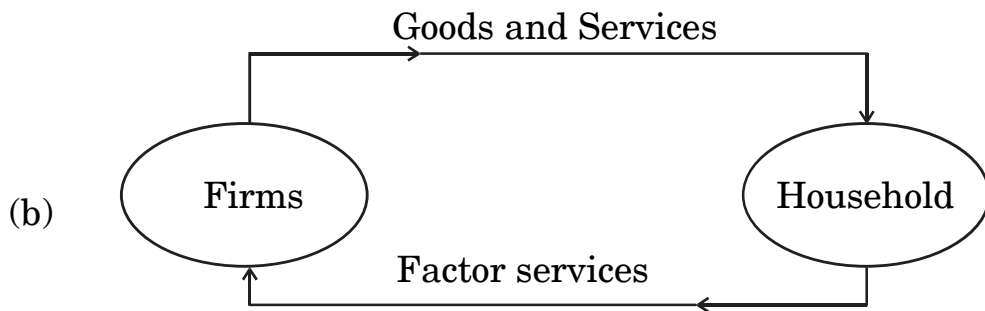
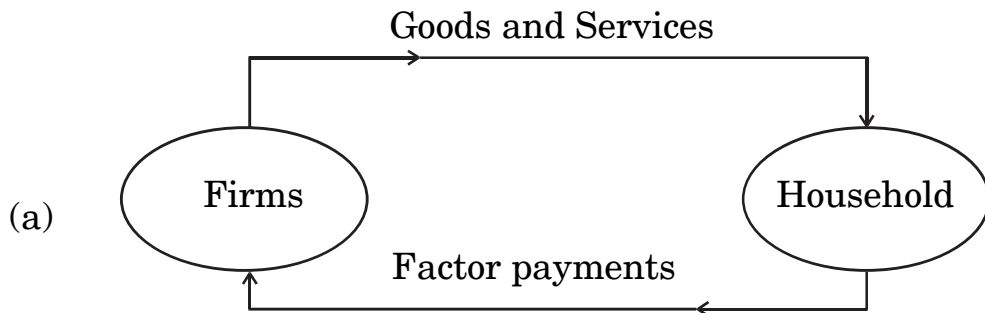
1

- (a) net indirect taxes
- (b) net factor income from abroad
- (c) consumption of fixed capital
- (d) market price

OR

- (B) Identify which of the following represents only the real flow :

1



3. वह दर जिस पर, वाणिज्यिक बैंक अपनी दीर्घकालिक आवश्यकताओं की पूर्ति के लिए भारतीय रिज़र्व बैंक से ऋण लेते हैं, उसे _____ कहा जाता है ।

(रिक्त स्थान भरने के लिए सही विकल्प का चयन कीजिए)

1

- (a) मार्जिन आवश्यकता
- (b) बैंक दर
- (c) रेपो दर
- (d) रिवर्स रेपो दर

4. निम्नलिखित समाचार रिपोर्ट को ध्यानपूर्वक पढ़िए :

“केन्द्रीय बैंक ने हिसार शहरी सहकारी बैंक लि. तथा अंडमान व निकोबार राज्य सहकारी बैंक लि. पर बैंकिंग नियमों के उल्लंघन के लिए जुर्माना लगाया है ।”

दी गई रिपोर्ट के आधार पर, केन्द्रीय बैंक के कार्य की पहचान कीजिए :

1

- (a) करेंसी का जारीकर्ता
- (b) जनता के लिए बैंक
- (c) सरकार के लिए बैंक
- (d) बैंकों का बैंक

5. निम्नलिखित कथनों को ध्यानपूर्वक पढ़िए :

कथन 1 : प्राथमिक जमा, आम जनता द्वारा वाणिज्यिक बैंकों के पास नकद जमा होते हैं ।

कथन 2 : वाणिज्यिक बैंकों द्वारा आम जनता को प्रदान किए गए ऋण के कारण उत्पन्न जमा को द्वितीयक जमा कहते हैं ।

दिए गए कथनों के आलोक में, निम्नलिखित में से सही विकल्प का चयन कीजिए :

1

- (a) कथन 1 सत्य है और कथन 2 असत्य है ।
- (b) कथन 1 असत्य है और कथन 2 सत्य है ।
- (c) कथन 1 और 2 दोनों सत्य हैं ।
- (d) कथन 1 और 2 दोनों असत्य हैं ।



-
3. The rate at which commercial banks borrow from the Reserve Bank of India to meet their long term requirements is known as _____.

(Choose the correct alternative to fill up the blank)

1

- (a) Margin requirement
- (b) Bank rate
- (c) Repo rate
- (d) Reverse repo rate

4. Read the following news report carefully :

“The central bank has imposed fine on Hisar Urban Cooperative Bank Ltd. and Andaman and Nicobar State Cooperative Bank Ltd. for violation of banking norms.”

According to the given report, identify the function of the central bank.

1

- (a) Issue of currency
- (b) Banker to the public
- (c) Banker to the Government
- (d) Banker's Bank

5. Read the following statements carefully :

Statement 1 : Primary deposits are the cash deposits by general public with commercial banks.

Statement 2 : Secondary deposits are those deposits which arise on account of credit provided by the commercial banks to the people.

In light of the given statements, choose the correct alternative from the following :

1

- (a) Statement 1 is true and Statement 2 is false.
- (b) Statement 1 is false and Statement 2 is true.
- (c) Both Statements 1 and 2 are true.
- (d) Both Statements 1 and 2 are false.



6. (क) मान लीजिए कि, एक राष्ट्र का व्यापार संतुलन ₹ 50,000 करोड़ का घाटा दर्शाता है। दृश्य वस्तुओं का आयात, दृश्य वस्तुओं के निर्यात का पाँच गुना है। दृश्य वस्तुओं के निर्यात का मूल्य ₹ _____ करोड़ होगा।

(रिक्त स्थान भरने के लिए सही विकल्प का चयन कीजिए) 1

- (a) 20,000
- (b) 10,000
- (c) 12,500
- (d) 20,300

अथवा

- (ख) विदेशों को भेजे गए उपहार व प्रेषण, भुगतान संतुलन के _____ खाते के _____ पक्ष में दर्ज किए जाते हैं।

(रिक्त स्थानों को भरने के लिए सही विकल्प का चयन कीजिए) 1

- (a) पूँजी, क्रेडिट
- (b) पूँजी, डेबिट
- (c) चालू, क्रेडिट
- (d) चालू, डेबिट

7. (क) यदि निवेश गुणक का मूल्य = 4 तथा अबचत = $(-)$ 60 है, तो निम्नलिखित में से सही बचत फलन की पहचान कीजिए :

1

- (a) $S = (-) 60 + 0.25 Y$
- (b) $S = (-) 60 + 0.75 Y$
- (c) $S = (-) 60 + 0.20 Y$
- (d) $S = (-) 60 + 0.60 Y$

अथवा

- (ख) दिए गए उपभोग फलन $C = 205 + 0.9 Y$ के लिए, निवेश गुणक का मूल्य _____ होगा। (रिक्त स्थान भरने के लिए सही विकल्प का चयन कीजिए)

1

- (a) 0.09
- (b) 10.0
- (c) 0.9
- (d) 9.0



6. (A) Suppose that, the Balance of Trade of a nation exhibits a deficit of ₹ 50,000 crore. The import of visible items are five times of the exports of visible items. The value of exports of visible items would be ₹ _____ crore.

(Choose the correct alternative to fill up the blank) 1

- (a) 20,000
- (b) 10,000
- (c) 12,500
- (d) 20,300

OR

- (B) Gifts and remittances sent abroad are recorded on the _____ side of the _____ account in Balance of Payment.

(Choose the correct alternative to fill up the blanks) 1

- (a) credit, capital
- (b) debit, capital
- (c) credit, current
- (d) debit, current

7. (A) If the value of investment multiplier = 4 and Dissavings = (–) 60, identify the correct Saving function from the following : 1

- (a) $S = (-) 60 + 0.25 Y$
- (b) $S = (-) 60 + 0.75 Y$
- (c) $S = (-) 60 + 0.20 Y$
- (d) $S = (-) 60 + 0.60 Y$

OR

- (B) For the given Consumption function, $C = 205 + 0.9 Y$, the value of investment multiplier would be _____.

(Choose the correct alternative to fill up the blank) 1

- (a) 0.09
- (b) 10.0
- (c) 0.9
- (d) 9.0



8. निम्नलिखित कथनों को पढ़िए : अभिकथन (A) और कारण (R) । नीचे दिए गए विकल्पों में से एक सही विकल्प चुनिए :

1

अभिकथन (A) : आय के सम स्तर बिंदु (Break-Even level) पर पहुँचने से पहले, औसत उपभोग प्रवृत्ति (APC) का मूल्य इकाई से अधिक होता है ।

कारण (R) : औसत उपभोग प्रवृत्ति (APC), कुल उपभोग व कुल आय का अनुपात होता है ।

विकल्प :

- (a) अभिकथन (A) और कारण (R) दोनों सत्य हैं और कारण (R), अभिकथन (A) की सही व्याख्या करता है ।
- (b) अभिकथन (A) और कारण (R) दोनों सत्य हैं, लेकिन कारण (R), अभिकथन (A) की सही व्याख्या नहीं करता है ।
- (c) अभिकथन (A) सत्य है, लेकिन कारण (R) असत्य है ।
- (d) अभिकथन (A) असत्य है, लेकिन कारण (R) सत्य है ।

9. ऐसी स्थिति जहाँ एक सक्षम व्यक्ति वर्तमान मज़दूरी दर पर कार्य करने का इच्छुक नहीं होता है, वह _____ स्थिति कहलाती है ।

(रिक्त स्थान भरने के लिए सही विकल्प का चयन कीजिए)

1

- (a) पूर्ण रोज़गार
- (b) अनैच्छिक बेरोज़गारी
- (c) ऐच्छिक बेरोज़गारी
- (d) प्रच्छन्न बेरोज़गारी

10. पहचानिए कि निम्नलिखित में से कौन-सा समीकरण सत्य है ?

(सही विकल्प का चयन कीजिए)

1

- (a) $MPC + MPS = 0$
- (b) $MPC + MPS = 1$
- (c) $MPC + MPS > 1$
- (d) $MPC + MPS < 1$



-
8. Read the following statements : Assertion (A) and Reason (R). Choose the correct alternative given below : 1

Assertion (A) : Before reaching the Break-Even level of income, the value of Average Propensity to Consume (APC) is greater than one.

Reason (R) : The Average Propensity to Consume (APC) is the ratio of the total consumption and total income.

Alternatives :

- (a) Both Assertion (A) and Reason (R) are true and Reason (R) is the correct explanation of Assertion (A).
- (b) Both Assertion (A) and Reason (R) are true, but Reason (R) is **not** the correct explanation of Assertion (A).
- (c) Assertion (A) is true and Reason (R) is false.
- (d) Assertion (A) is false and Reason (R) is true.

9. A situation in which an able bodied person is not willing to work at the existing wage rate, is referred to as _____ situation. 1

(Choose the correct alternative to fill up the blank)

- (a) Full employment
- (b) Involuntary unemployment
- (c) Voluntary unemployment
- (d) Disguised unemployment

10. Identify which of the following equations is true ?

(Choose the correct alternative) 1

- (a) $MPC + MPS = 0$
- (b) $MPC + MPS = 1$
- (c) $MPC + MPS > 1$
- (d) $MPC + MPS < 1$



11. (क) 'मूल्य वृद्धि' व 'उत्पादन का अंतिम मूल्य' में विभेद कीजिए ।

3

अथवा

(ख) दिए गए आँकड़ों के प्रयोग द्वारा, साधन लागत पर शुद्ध मूल्य वृद्धि (NVA_{FC}) ज्ञात कीजिए :

3

क्र.सं.	मर्दे	राशि (₹ करोड़ में)
(i)	बाज़ार में चावल की बिक्री	58
(ii)	ट्रैक्टर व थ्रेशर का क्रय	40
(iii)	सरकार द्वारा चावल की खरीद	20
(iv)	वर्ष में चावल का स्व-उपभोग	15
(v)	ट्रैक्टर व थ्रेशर के परिचालन व रखरखाव का व्यय	20
(vi)	सरकार से प्राप्त उर्वरक उपदान	3

12. “विदेशी विनिमय दर तथा विदेशी मुद्रा की आपूर्ति में धनात्मक सहसंबंध होता है ।”

क्या आप दिए गए कथन से सहमत हैं ? अपने उत्तर की मान्य तर्कों द्वारा पुष्टि कीजिए ।

3

13. यदि समग्र माँग (AD) समग्र पूर्ति (AS) से कम है, तो समायोजन तंत्र का वर्णन कीजिए ।

4

14. (क) केन्द्रीय बैंक के 'सरकार के बैंक' कार्य की व्याख्या कीजिए ।

4

अथवा

(ख) एक काल्पनिक संख्यात्मक उदाहरण का उपयोग करते हुए, वाणिज्यिक बैंकों द्वारा साख सृजन पर आरक्षित अनुपात में वृद्धि के प्रभाव की व्याख्या कीजिए ।

4

15. 26 सितम्बर, 2022 को प्रकाशित निम्नलिखित समाचार को पढ़िए :

“केन्द्रीय बैंक ने बैंचमार्क ऋण दर में 140 आधार अंकों की वृद्धि की है ।”

भारतीय रिज़र्व बैंक द्वारा की गई, इस कार्यवाही के पीछे संभावित कारण व परिणामों की पहचान कीजिए ।

4



11. (a) Distinguish between 'Value Addition' and 'Final Value of Output'. 3

OR

- (b) Find Net Value Added at Factor Cost (NVA_{FC}) using the given data : 3

S. No.	Particulars	Amount (in ₹ crore)
(i)	Sale of rice in the market	58
(ii)	Purchase of tractor and thresher	40
(iii)	Procurement of rice by the government	20
(iv)	Self-consumption of rice during the year	15
(v)	Expenditure on running and maintenance of tractor and thresher	20
(vi)	Fertiliser subsidies received from the government	3

12. "There exists a positive relation between foreign exchange rate and supply of foreign exchange." Do you agree with the given statement ? Justify your answer with valid arguments. 3

13. Describe the adjustment mechanism if Aggregate Demand (AD) is less than Aggregate Supply (AS). 4

14. (a) Explain the 'Government's Bank' function of the central bank. 4

OR

- (b) Using a hypothetical numerical example, explain the effect of rise in Reserve Ratio on credit creation by the commercial banks. 4

15. Read the following news published on September 26, 2022 :

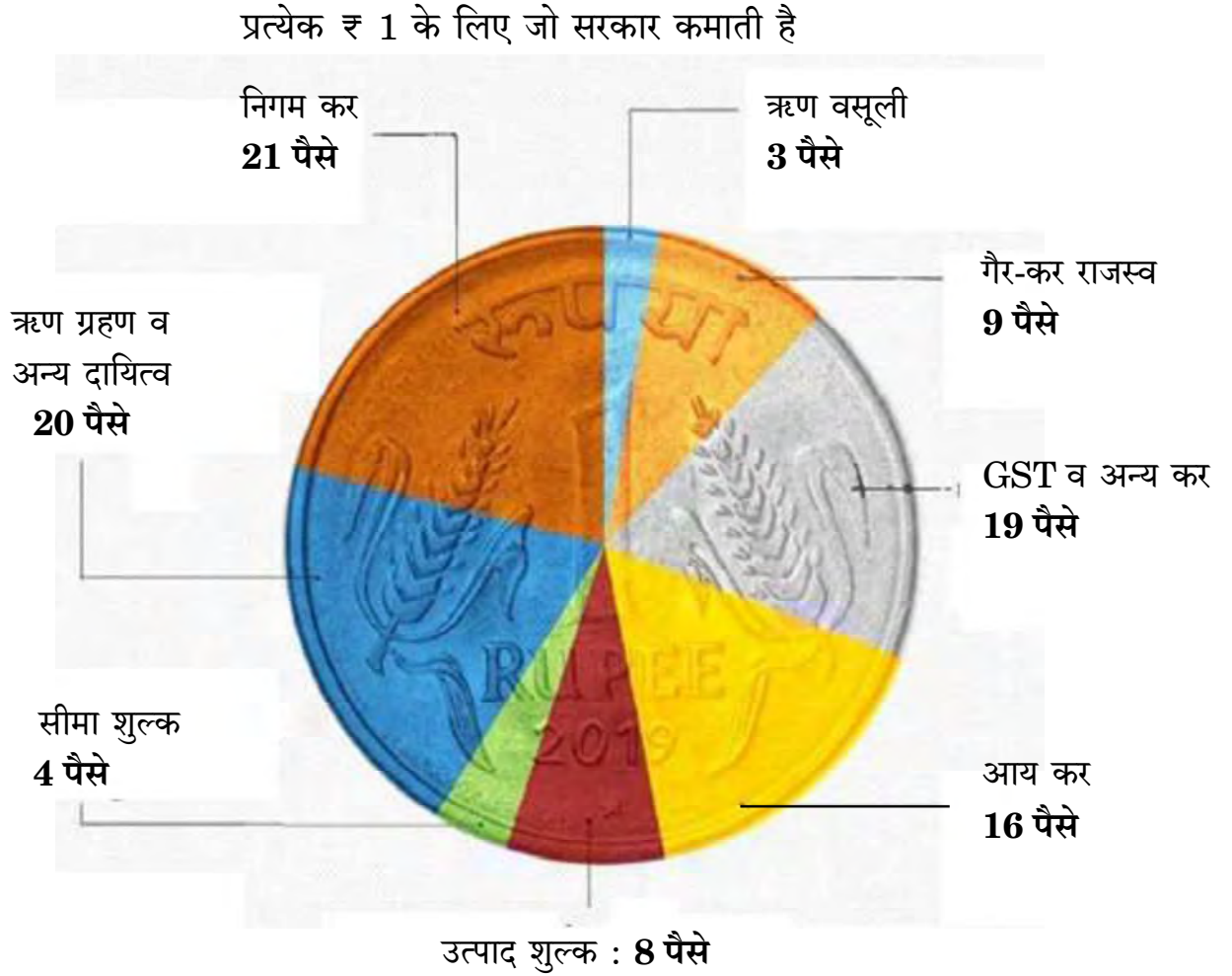
"The central bank has increased the benchmark lending rate by 140 basis points."

Identify the likely cause and consequences behind this action taken by the Reserve Bank of India. 4



16. (क) (i) चित्र में दी गई जानकारी के आधार पर, मान्य कारणों का उल्लेख करते हुए मदों को राजस्व प्राप्तियों व पूँजीगत प्राप्तियों में वर्गीकृत कीजिए । 4

भारत को उसका पैसा कहाँ से आता है ?



- (ii) राजस्व घाटे व राजकोषीय घाटे के मध्य अंतर स्पष्ट कीजिए । 2

अथवा

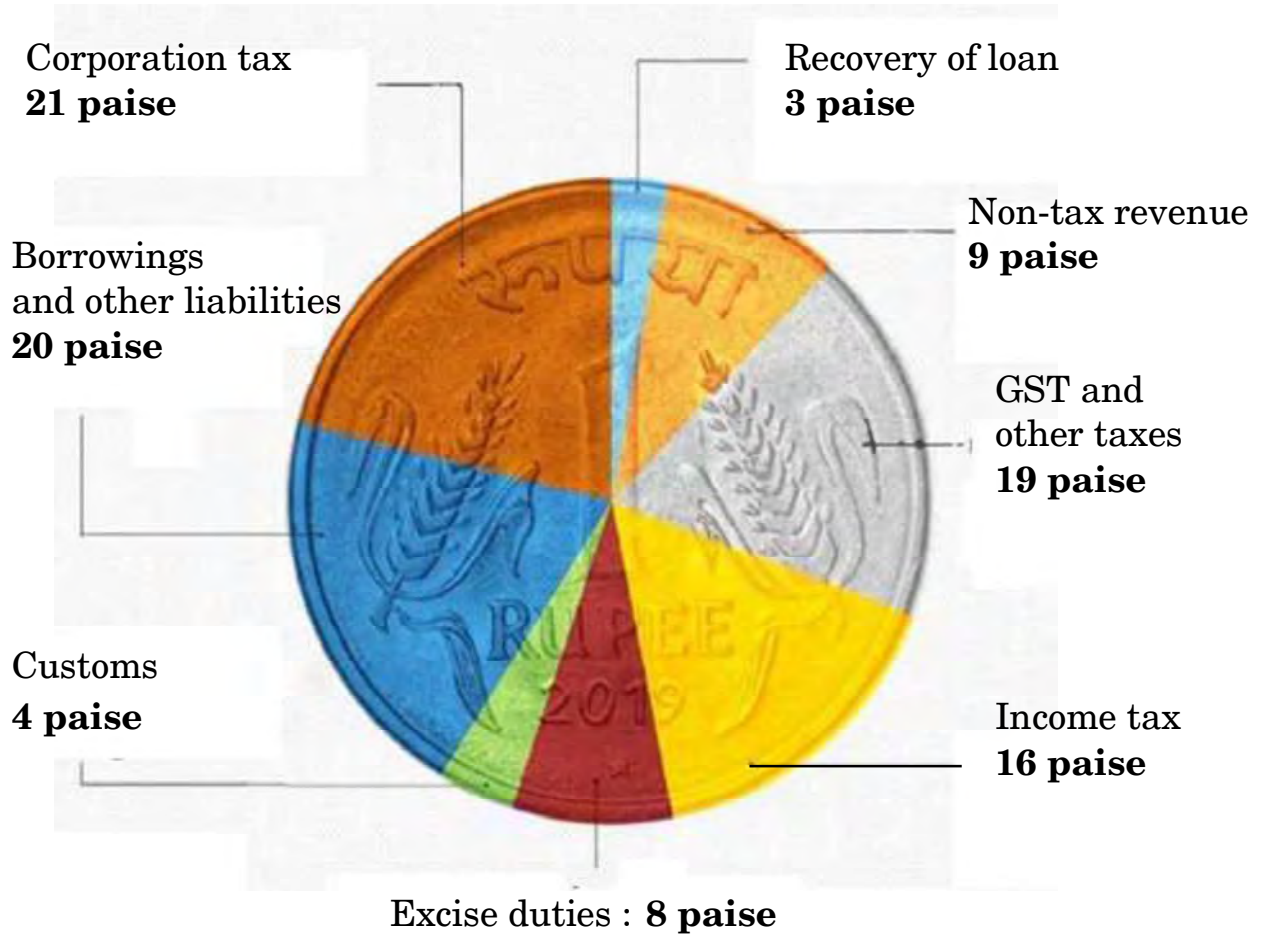


16. (a) (i) From the information given in the diagram, categorize the items into revenue receipts and capital receipts, stating valid reasons.

4

WHERE INDIA GETS ITS MONEY FROM?

For every ₹ 1 that the Govt. earns



- (ii) Distinguish between Revenue deficit and Fiscal deficit.

2

OR



(ख) (i) निम्नलिखित आँकड़ों द्वारा, प्राथमिक घाटे की गणना कीजिए :

3

क्र.सं.	मर्दे	राशि (₹ करोड़ में)
(i)	राजस्व घाटा	40
(ii)	गैर-ऋण सृजित पूँजीगत प्राप्तियाँ	190
(iii)	कर राजस्व	125
(iv)	पूँजीगत व्यय	220
(v)	ब्याज भुगतान	20

(ii) सरकारी बजट के 'आर्थिक स्थिरता' कार्य की व्याख्या कीजिए ।

3

17. (क) "व्यय विधि द्वारा सकल घरेलू उत्पाद (GDP) का आकलन करते हुए, ध्यान केवल राष्ट्र के निवासियों द्वारा व्यय पर होता है ।"

क्या आप दिए गए कथन से सहमत हैं ? अपने उत्तर के समर्थन में मान्य कारण दीजिए । 3

(ख) "सिर्फ तब राष्ट्रीय आय घरेलू आय से अधिक होती है, जब निर्यात आयात से अधिक होते हैं ।" टिप्पणी कीजिए ।

3

खण्ड ख भारतीय आर्थिक विकास

18. निम्नलिखित कथनों को ध्यानपूर्वक पढ़िए :

कथन 1 : ब्रिटिश शासन के अंतर्गत कृषि का व्यवसायीकरण, 1875 और 1900 के मध्य लगातार अकाल के लिए ज़िम्मेदार था ।

कथन 2 : ब्रिटिश शासनकाल में, भारत ने खाद्यान्नों का निर्यात प्रारंभ कर दिया था ।

दिए गए कथनों के आलोक में, निम्नलिखित में से सही विकल्प का चयन कीजिए :

1

(a) कथन 1 सत्य है और कथन 2 असत्य है ।

(b) कथन 1 असत्य है और कथन 2 सत्य है ।

(c) कथन 1 और 2 दोनों सत्य हैं ।

(d) कथन 1 और 2 दोनों असत्य हैं ।



- (b) (i) From the following data, calculate the primary deficit.

3

S. No.	Particulars	Amount (in ₹ crore)
(i)	Revenue deficit	40
(ii)	Non-debt creating capital receipts	190
(iii)	Tax revenue	125
(iv)	Capital expenditure	220
(v)	Interest payments	20

- (ii) Elaborate 'Economic stability' function of the Government Budget.

3

17. (a) "In the estimation of Gross Domestic Product (GDP) using expenditure method, focus lies only on expenditure by the residents of the country."

Do you agree with the given statement ? Give valid reasons for your answer.

3

- (b) "National income exceeds domestic income only when exports are greater than imports." Comment.

3

SECTION B

Indian Economic Development

18. Read the following statements carefully :

Statement 1 : Commercialization of agriculture under the British rule was responsible for frequent famines between 1875 and 1900.

Statement 2 : During British rule, India began to export food grains.

In light of the given statements, choose the correct alternative from the following :

1

- (a) Statement 1 is true and Statement 2 is false.
(b) Statement 1 is false and Statement 2 is true.
(c) Both Statements 1 and 2 are true.
(d) Both Statements 1 and 2 are false.



19. लघु-जलविद्युत संयंत्र पर्यावरण के लिए अनुकूल हैं, क्योंकि :

1

- (i) वे केवल स्थानीय क्षेत्रों के लिए विद्युत उत्पन्न करते हैं ।
- (ii) वे भूमि के उपयोग ढाँचे को परिवर्तित नहीं करते हैं ।
- (iii) वे बारहमासी धाराओं (perennial streams) पर निर्भर होते हैं ।

(सही विकल्प का चयन कीजिए)

विकल्प :

- (a) (i), (ii) और (iii)
- (b) (ii) और (iii)
- (c) केवल (i)
- (d) (i) और (ii)

20. (क) निम्नलिखित कथनों को ध्यानपूर्वक पढ़िए :

कथन 1 : सरकार द्वारा न्यूनतम समर्थन मूल्य (MSP) पर क्रय किया गया खाद्यान्न बफर स्टॉक (Buffer Stock) के रूप में रखा जाता है ।

कथन 2 : न्यूनतम समर्थन मूल्य (MSP) कृषकों की कृषि उत्पाद के मूल्यों में किसी तेज गिरावट से बचाव करते हैं ।

दिए गए कथनों के आलोक में, निम्नलिखित में से सही विकल्प का चयन कीजिए :

1

- (a) कथन 1 सत्य है और कथन 2 असत्य है ।
- (b) कथन 1 असत्य है और कथन 2 सत्य है ।
- (c) कथन 1 और 2 दोनों सत्य हैं ।
- (d) कथन 1 और 2 दोनों असत्य हैं ।

अथवा

(ख) निम्नलिखित में से *असत्य* कथन की पहचान कीजिए :

1

- (a) आयात प्रतिस्थापन विदेशी मुद्रा बचाने के लिए प्रयुक्त रणनीति थी ।
- (b) लाइसेंस नीति ने क्षेत्रीय समानता सुनिश्चित की थी ।
- (c) रूसी आर्थिक मॉडल भारतीय आर्थिक प्रणाली का आधार था ।
- (d) रोज़गार सृजन के लिए लघु स्तरीय उद्योग आवश्यक उपकरणों में से एक हैं ।



19. Mini-hydel plants are good for the environment because :

1

- (i) they generate electricity only for local areas.
- (ii) they do not change the land use pattern.
- (iii) they rely on the perennial streams.

(Choose the correct alternative)

Alternatives :

- (a) (i), (ii) and (iii)
- (b) (ii) and (iii)
- (c) (i) only
- (d) (i) and (ii)

20. (A) Read the following statements carefully :

Statement 1 : The purchase of food grains made by the Government on the Minimum Support Price (MSP) is maintained as buffer stock.

Statement 2 : Minimum Support Price safeguards the farmers against any sharp fall in farm product prices.

In light of the given statements, choose the correct alternative from the following :

1

- (a) Statement 1 is true and Statement 2 is false.
- (b) Statement 1 is false and Statement 2 is true.
- (c) Both Statements 1 and 2 are true.
- (d) Both Statements 1 and 2 are false.

OR

(B) Identify the **incorrect** statement from the following :

1

- (a) Import substitution was the strategy used to save foreign exchange.
- (b) License policy ensured regional equality.
- (c) Russian economic model was the base for the Indian economic system.
- (d) Small Scale Industries are one of the essential tools for employment generation.



21. सरकार द्वारा प्रारंभ किया गया 'Skill India' (स्किल इंडिया) कार्यक्रम भारत में _____ को बढ़ाने का एक प्रयास नहीं है ।

(रिक्त स्थान भरने के लिए सही विकल्प का चयन कीजिए)

1

- (a) मानव पूँजी निर्माण
- (b) आगतों का कुशल उपयोग
- (c) सकल घरेलू उत्पाद (GDP) में वृद्धि
- (d) व्यावसायिक शिक्षा का अपर्याप्त विस्तार

22. (क) चीन का ग्रेट लीप फॉरवर्ड (GLF) अभियान _____ पर केन्द्रित है ।

(रिक्त स्थान भरने के लिए सही विकल्प का चयन कीजिए)

1

- (a) व्यापक औद्योगीकरण
- (b) नई कृषि रणनीति
- (c) निजीकरण
- (d) आर्थिक सुधारों

अथवा

(ख) भारत निम्नलिखित में से किस क्षेत्रीय/वैश्विक आर्थिक समूह का सदस्य **नहीं** है ?

1

- (a) यूरोपियन संघ
- (b) BRICS (ब्रिक्स)
- (c) G20
- (d) SAARC (सार्क)

23. निम्नलिखित कथन के संदर्भ में, सही विकल्प की पहचान कीजिए :

1

“1966 – 76 के मध्य, माओ ने इस आंदोलन का आरम्भ किया था, जिसके अंतर्गत छात्रों व पेशेवरों को कार्य करने के लिए चीन के ग्रामीण इलाकों में प्रचलित वास्तविक जीवन स्थितियों से सीखने के लिए कहा गया था ।”

- (a) कम्यून प्रणाली
- (b) ग्रेट लीप फॉरवर्ड
- (c) खुले द्वार की नीति
- (d) महान सर्वहारा सांस्कृतिक क्रांति



21. 'Skill India' programme launched by the Government is not an attempt to increase _____ in India.

(Choose the correct alternative to fill up the blank)

1

- (a) human capital formation
- (b) efficient utilisation of inputs
- (c) increase in GDP
- (d) inadequate spread of vocational education

22. (A) The Great Leap Forward (GLF) campaign in China focused on _____. (Choose the correct alternative to fill up the blank)

1

- (a) Widespread industrialisation
- (b) New agricultural strategy
- (c) Privatisation
- (d) Economic reforms

OR

(B) India is **not** a member of which of the following regional / global economic groups ?

1

- (a) European Union
- (b) BRICS
- (c) G20
- (d) SAARC

23. Identify the correct alternative with reference to the following statement :

1

“Between 1966 – 76, Mao introduced this movement under which professionals and students were asked to work and learn from real life situations prevailing in the countryside of China.”

- (a) Commune System
- (b) Great Leap Forward
- (c) Open Door Policy
- (d) Great Proletarian Cultural Revolution



24. (क) वे श्रमिक जो अपने नियोक्ताओं के स्थायी पे-रोल (pay-roll) पर नियुक्त होते हैं, _____ श्रमिक के रूप में जाने जाते हैं ।
(रिक्त स्थान भरने के लिए सही विकल्प का चयन कीजिए) 1
- (a) स्वनियोजित (b) आकस्मिक
(c) नियमित (d) भाड़े के

अथवा

- (ख) रोज़गार-विहीन संवृद्धि, बेरोज़गारी को उत्पन्न करती है क्योंकि _____ ।
(रिक्त स्थान भरने के लिए सही विकल्प का चयन कीजिए) 1
- (a) श्रमिक पलायन करने से मना करते हैं
(b) श्रमिक सेवाएँ बहुत महँगी होती हैं
(c) विकास दर कम होती है
(d) विकास प्रौद्योगिकी के कारण होता है

25. निम्नलिखित कथनों को ध्यानपूर्वक पढ़िए :
कथन 1 : भारत व पाकिस्तान दोनों में, सेवा क्षेत्र विकास के एक प्रमुख स्रोत के रूप में उभरा है ।
कथन 2 : भारत के पड़ोसी देशों में, चीन की जीवन प्रत्याशा दर सर्वाधिक है ।
दिए गए कथनों के आलोक में, निम्नलिखित में से सही विकल्प का चयन कीजिए : 1
- (a) कथन 1 सत्य है और कथन 2 असत्य है ।
(b) कथन 1 असत्य है और कथन 2 सत्य है ।
(c) कथन 1 और 2 दोनों सत्य हैं ।
(d) कथन 1 और 2 दोनों असत्य हैं ।

26. निम्नलिखित कथनों को ध्यानपूर्वक पढ़िए :
कथन 1 : भारत ने अपनी प्रथम पंचवर्षीय योजना की घोषणा 1951 में की थी ।
कथन 2 : भारत, पाकिस्तान व चीन ने आर्थिक नियोजन को अपनी मुख्य विकास रणनीति के तौर पर अपनाया था ।
दिए गए कथनों के आलोक में, निम्नलिखित में से सही विकल्प का चयन कीजिए : 1
- (a) कथन 1 सत्य है और कथन 2 असत्य है ।
(b) कथन 1 असत्य है और कथन 2 सत्य है ।
(c) कथन 1 और 2 दोनों सत्य हैं ।
(d) कथन 1 और 2 दोनों असत्य हैं ।



24. (A) Workers who are on the permanent pay-roll of their employer are called _____ workers.

(Choose the correct alternative to fill up the blank) 1

- (a) self-employed (b) casual
(c) regular (d) hired

OR

- (B) Jobless growth leads to unemployment because _____ .

(Choose the correct alternative to fill up the blank) 1

- (a) Labour refuses to migrate
(b) Labour is very expensive
(c) Growth rate is low
(d) Growth is due to technological development

25. Read the following statements carefully :

Statement 1 : In both India and Pakistan, the service sector has been emerging as a major source of development.

Statement 2 : Amongst the neighbours of India, China has the highest life expectancy rate.

In light of the given statements, choose the correct alternative from the following : 1

- (a) Statement 1 is true and Statement 2 is false.
(b) Statement 1 is false and Statement 2 is true.
(c) Both Statements 1 and 2 are true.
(d) Both Statements 1 and 2 are false.

26. Read the following statements carefully :

Statement 1 : India announced its First Five Year Plan in 1951.

Statement 2 : India, Pakistan and China adopted economic planning as the core development strategy.

In light of the given statements, choose the correct alternative from the following : 1

- (a) Statement 1 is true and Statement 2 is false.
(b) Statement 1 is false and Statement 2 is true.
(c) Both Statements 1 and 2 are true.
(d) Both Statements 1 and 2 are false.



27. किसी एक विशेष फ़सल के बजाय विविध प्रकार की फ़सलों के उत्पादन को _____ कहा जाता है। (रिक्त स्थान भरने के लिए सही विकल्प का चयन कीजिए) 1
- (a) फ़सलों का विविधीकरण
(b) कृषि उत्पादन का विविधीकरण
(c) क्षेत्रकों में विविधीकरण
(d) रोज़गार का विविधीकरण
28. दिए गए चित्र की व्याख्या, वर्तमान पर्यावरणीय चुनौतियों के आधार पर कीजिए : 3



नोट : निम्नलिखित प्रश्न केवल दृष्टिबाधित परीक्षार्थियों के लिए प्रश्न संख्या 28 के स्थान पर है : किसी एक वर्तमान पर्यावरणीय चुनौती की व्याख्या कीजिए।

29. (क) ग्रामीण भारत में ऋण के स्रोत के रूप में अनौपचारिक संस्थाओं की स्थिति की व्याख्या कीजिए। 3
- अथवा**
- (ख) “डॉ. खुराना, एक दंत चिकित्सक, आर्थिक रूप से पिछड़े इलाके में अपना चिकित्सालय (clinic) चलाते थे। वे अपेक्षाकृत अल्प आय अर्जित कर रहे थे। इसलिए, उन्होंने शहर जाने का फैसला किया तथा उस प्रयोजन में बड़ी राशि का व्यय किया।”
- डॉ. खुराना के द्वारा किए गए व्यय के उस प्रकार को पहचानिए तथा व्याख्या कीजिए, जिसने मानव पूंजी निर्माण प्रक्रिया में प्रत्यक्ष रूप से योगदान दिया है। 3
30. (क) मान्य तर्कों सहित, उल्लेख एवं व्याख्या कीजिए कि निम्नलिखित कथन सत्य है अथवा असत्य : 4
- “हाल में, भारतीय अर्थव्यवस्था ने कार्यबल के औपचारीकरण की ओर संतोषजनक विकास किया है।”
- अथवा**
- (ख) “भारत में लगभग 60% कर्मचारी स्वरोज़गार में कार्यरत हैं। स्वरोज़गारी व्यक्तियों में अल्प रोज़गार के होने की संभावना अधिकतम है।”
- एक अर्थशास्त्री के रूप में, स्वरोज़गारी व्यक्तियों के लिए अधिक उत्पादक रोज़गार सुनिश्चित करने के लिए किए जाने वाले किन्हीं दो उपायों का सविस्तार सुझाव दीजिए। 4



27. Production of diverse varieties of crops rather than one specialized crop is called _____. (Choose the correct alternative to fill up the blank) 1
- (a) diversification of crops
 (b) diversification of agricultural production
 (c) diversification in sectors
 (d) diversification of employment
28. Interpret the given picture, on account of current environmental challenges : 3



Note : The following question is for the **Visually Impaired Candidates** only, in lieu of Q. No. 28 :

Explain any one current environmental challenge.

29. (a) Explain the position of informal institutions as a source of credit in rural India. 3
- OR**
- (b) “Dr. Khurana, a dentist, ran his clinic in an economically backward area. He was earning a comparatively low income. So, he decided to move to a city and spent a huge amount for the same.”
 Identify and explain the type of expenditure incurred by Dr. Khurana, which directly contributed to the process of human capital formation. 3
30. (a) State and elaborate whether the following statement is true or false, with valid arguments :
 “Indian economy has showed satisfactory progress towards formalization of workforce in the recent past.” 4
- OR**
- (b) “In India, the self-employed constitute around 60% employees. The possible incidence of under employment is the highest among the self-employed.”
 As an economist, suggest and elaborate any two measures that may be taken to ensure more productive employment for the self-employed. 4



31. पाकिस्तान में धीमी संवृद्धि व पुनः निर्धनता आने के मान्य कारणों की व्याख्या कीजिए । 4
32. स्वतंत्रता की पूर्व संध्या पर भारतीय कृषि की स्थिति का उल्लेख व व्याख्या कीजिए । 4
33. (क) (i) नियमित वेतनभोगी कर्मचारियों में महिलाएँ कम क्यों हैं ? 3
(ii) मानव पूँजी व भौतिक पूँजी में अन्तर स्पष्ट कीजिए । 3
- अथवा**
- (ख) (i) भारत में धारणीय विकास प्राप्त करने में शामिल किसी एक रणनीति का उल्लेख व चर्चा कीजिए । 3
(ii) ग्रामीण भारत में सूक्ष्म-ऋण कार्यक्रम के महत्त्व की संक्षेप में चर्चा कीजिए । 3
34. निम्नलिखित गद्य को ध्यानपूर्वक पढ़िए :
- नीति आयोग के अनुसार, भारत में डिजिटल बैंकों की सुविधा के लिए प्रौद्योगिकीय लाभ उपलब्ध हैं । इसे प्रोत्साहित करने के लिए एक नियामक ढाँचा तैयार करने की आवश्यकता है । नीति आयोग ने अपनी रिपोर्ट “Digital Banks : A Proposal for Licensing and Regulatory Regime for India” में राष्ट्र के लिए डिजिटल बैंक लाइसेंसिंग व नियामक व्यवस्था के लिए एक साँचा व रोडमैप प्रदान किया है । भारत के सार्वजनिक डिजिटल बुनियादी ढाँचे, विशेष रूप से एकीकृत भुगतान इंटरफेस (UPI) ने इस चुनौती का सफलतापूर्वक सामना किया है ।
- आधार के साथ, भारत अपने स्वयं एक मुक्त बैंकिंग ढाँचे को संचालित करने की कगार पर है । इससे यह पता लगता है, कि डिजिटल बैंकों को पूर्ण रूप से सुविधा प्रदान करने के लिए भारत के पास तकनीकी स्टॉक उपलब्ध है ।
- डिजिटल बैंकिंग, उपयोगकर्ता को नियमित उपयोगिता बिलों को भुगतान करने का एक स्वचालित भुगतान प्रक्रिया बनाने की अनुमति देता है । डिजिटल बैंकिंग फंड हस्तांतरण करके नकली मुद्रा के जोखिम को भी कम करता है । नकदी रहित समाज को प्रोत्साहित करके, डिजिटल बैंकिंग काले धन के संचलन को प्रतिबंधित करती है ।
- दिए गए गद्य तथा सामान्य समझ के आधार पर निम्नलिखित प्रश्नों के उत्तर दीजिए :
- (क) भारत में नीति आयोग ने किस संस्था को प्रतिस्थापित किया है ? नीति आयोग के पदेन अध्यक्ष कौन हैं ? 2
- (ख) डिजिटल बैंकिंग के किन्हीं दो मुख्य लाभों का उल्लेख व चर्चा कीजिए । 4



-
31. Explain valid reasons for the slow growth and re-emergence of poverty in Pakistan. 4
32. State and explain the condition of Indian agriculture on the eve of independence. 4
33. (a) (i) Why are less women found in regular salaried employment ? 3
(ii) Distinguish between human capital and physical capital. 3

OR

- (b) (i) State and discuss any one strategy involved in attaining sustainable development in India. 3
(ii) Discuss briefly the importance of micro credit programme in rural India. 3

34. Read the following text carefully :

According to NITI Aayog, India has a technological advantage to facilitate digital banks. There is a need for creating a regulatory framework for promoting this.

NITI Aayog, in its report titled “Digital Banks : A Proposal for Licensing and Regulatory Regime for India”, offers a template and roadmap for a digital bank licensing and regulatory regime for a country. India’s public digital infrastructure, especially Unified Payments Interface (UPI) has successfully faced this.

With Aadhar, India is at the cusp of operationalizing its own open banking framework. This demonstrates that India has the technology stock to fully facilitate digital banks.

Digital banking allows a user to set up automatic payments for regular utility bills. Digital banking enables fund transfers to reduce the risk of counterfeit currency. By promoting a cashless society, digital banking restricts the circulation of black money.

On the basis of the given text and common understanding, answer the following questions :

- (a) Which institution has been replaced by NITI Aayog in India ? Who is the ex-officio Chairman of NITI Aayog ? 2
- (b) State and discuss any two main advantages of digital banking. 4



Series HFG1E/1



प्रश्न-पत्र कोड
Q.P. Code

SET-3

58/1/3

रोल नं.
Roll No.

--	--	--	--	--	--	--	--

परीक्षार्थी प्रश्न-पत्र कोड को उत्तर-पुस्तिका के मुख-पृष्ठ पर अवश्य लिखें ।

Candidates must write the Q.P. Code on the title page of the answer-book.

अर्थशास्त्र ECONOMICS

निर्धारित समय : 3 घण्टे

Time allowed : 3 hours

अधिकतम अंक : 80

Maximum Marks : 80

- कृपया जाँच कर लें कि इस प्रश्न-पत्र में मुद्रित पृष्ठ **27** हैं ।
- प्रश्न-पत्र में दाहिने हाथ की ओर दिए गए प्रश्न-पत्र कोड को परीक्षार्थी उत्तर-पुस्तिका के मुख-पृष्ठ पर लिखें ।
- कृपया जाँच कर लें कि इस प्रश्न-पत्र में **34** प्रश्न हैं ।
- कृपया प्रश्न का उत्तर लिखना शुरू करने से पहले, उत्तर-पुस्तिका में प्रश्न का क्रमांक अवश्य लिखें ।
- इस प्रश्न-पत्र को पढ़ने के लिए 15 मिनट का समय दिया गया है । प्रश्न-पत्र का वितरण पूर्वाह्न में 10.15 बजे किया जाएगा । 10.15 बजे से 10.30 बजे तक छात्र केवल प्रश्न-पत्र को पढ़ेंगे और इस अवधि के दौरान वे उत्तर-पुस्तिका पर कोई उत्तर नहीं लिखेंगे ।
- Please check that this question paper contains **27** printed pages.
- Q.P. Code given on the right hand side of the question paper should be written on the title page of the answer-book by the candidate.
- Please check that this question paper contains **34** questions.
- **Please write down the serial number of the question in the answer-book before attempting it.**
- 15 minute time has been allotted to read this question paper. The question paper will be distributed at 10.15 a.m. From 10.15 a.m. to 10.30 a.m., the students will read the question paper only and will not write any answer on the answer-book during this period.

*



सामान्य निर्देश :

निम्नलिखित निर्देशों को बहुत सावधानी से पढ़िए और उनका सख्ती से पालन कीजिए :

- (i) इस प्रश्न-पत्र में 34 प्रश्न हैं । सभी प्रश्न अनिवार्य हैं ।
- (ii) यह प्रश्न-पत्र दो खण्डों में विभाजित है :
खण्ड क - समष्टि अर्थशास्त्र
खण्ड ख - भारतीय आर्थिक विकास
- (iii) इस प्रश्न-पत्र में एक-एक अंक के 20 बहुविकल्पीय प्रश्न हैं ।
- (iv) इस प्रश्न-पत्र में तीन-तीन अंकों के 4 लघु-उत्तरीय प्रकार-I के प्रश्न हैं जिनके उत्तर 60 से 80 शब्दों में लिखे जाने चाहिए ।
- (v) इस प्रश्न-पत्र में चार-चार अंकों के 6 लघु-उत्तरीय प्रकार-II के प्रश्न हैं जिनके उत्तर 80 से 100 शब्दों में लिखे जाने चाहिए ।
- (vi) इस प्रश्न-पत्र में छः-छः अंकों के 4 दीर्घ-उत्तरीय प्रकार के प्रश्न हैं जिनके उत्तर 100 से 150 शब्दों में लिखे जाने चाहिए ।
- (vii) प्रत्येक प्रश्न के सभी भागों के उत्तर एक साथ लिखे जाने चाहिए ।

खण्ड क समष्टि अर्थशास्त्र

1. निम्नलिखित कथनों को ध्यानपूर्वक पढ़िए :

कथन 1 : किसी राष्ट्र द्वारा अपने भुगतान संतुलन (BoP) के घाटे को वित्तपोषित करने के लिए विश्व बैंक से प्राप्त ऋण पूँजी खाते में दर्ज किया जाएगा ।

कथन 2 : स्वायत्त लेन-देन भुगतान संतुलन (BoP) खाते की दशा से स्वतंत्र होते हैं ।

दिए गए कथनों के आलोक में, निम्नलिखित में से सही विकल्प का चयन कीजिए :

1

- (a) कथन 1 सत्य है और कथन 2 असत्य है ।
- (b) कथन 1 असत्य है और कथन 2 सत्य है ।
- (c) कथन 1 और 2 दोनों सत्य हैं ।
- (d) कथन 1 और 2 दोनों असत्य हैं ।



General Instructions :

Read the following instructions carefully and strictly follow them :

- (i) *This question paper contains **34** questions. **All** questions are **compulsory**.*
- (ii) *This question paper contains **two** Sections :*
 - Section A – Macro Economics**
 - Section B – Indian Economic Development**
- (iii) *This paper contains **20** Multiple Choice Questions Type questions of **1** mark each.*
- (iv) *This paper contains **4** Short Answer Questions Type-I questions of **3** marks each to be answered in 60 to 80 words.*
- (v) *This paper contains **6** Short Answer Questions Type-II questions of **4** marks each to be answered in 80 to 100 words.*
- (vi) *This paper contains **4** Long Answer Questions Type questions of **6** marks each to be answered in 100 to 150 words.*
- (vii) *Attempt all parts of a question together.*

SECTION A

Macro Economics

1. Read the following statements carefully :

Statement 1 : Borrowings by a nation from the World Bank to finance Balance of Payment (BoP) deficit will be recorded in the capital account.

Statement 2 : Autonomous transactions are independent of the condition of Balance of Payment (BoP) account.

In light of the given statements, choose the correct alternative from the following :

1

- (a) Statement 1 is true and Statement 2 is false.
- (b) Statement 1 is false and Statement 2 is true.
- (c) Both Statements 1 and 2 are true.
- (d) Both Statements 1 and 2 are false.

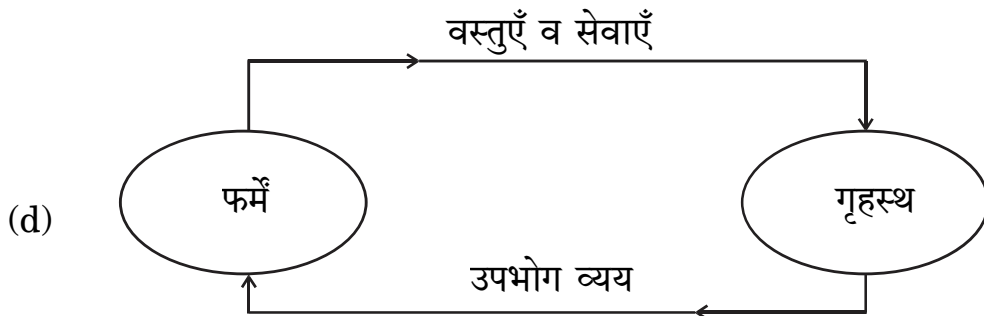
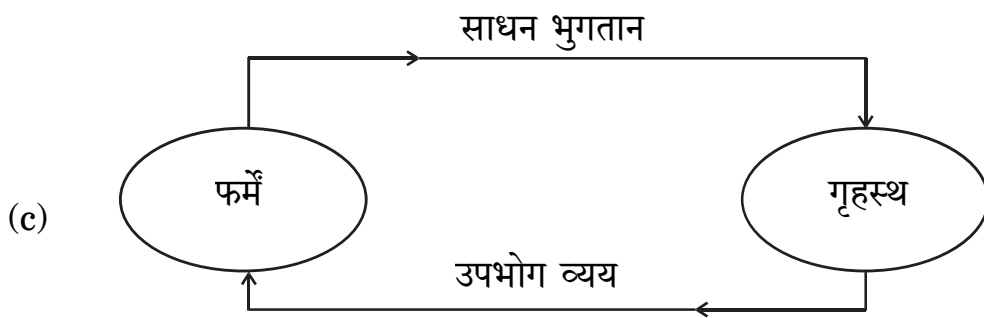
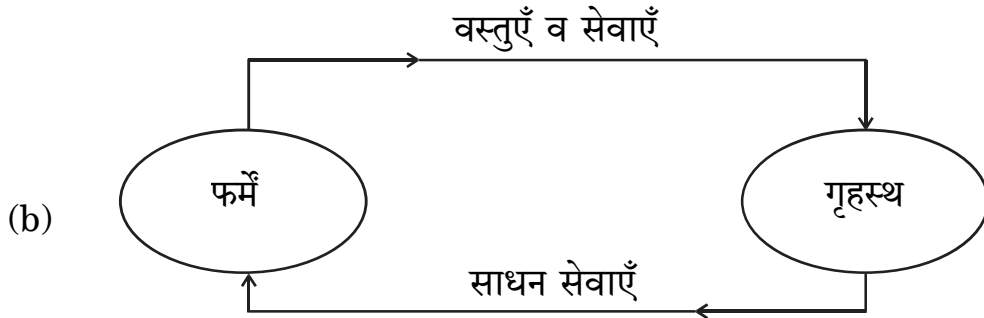
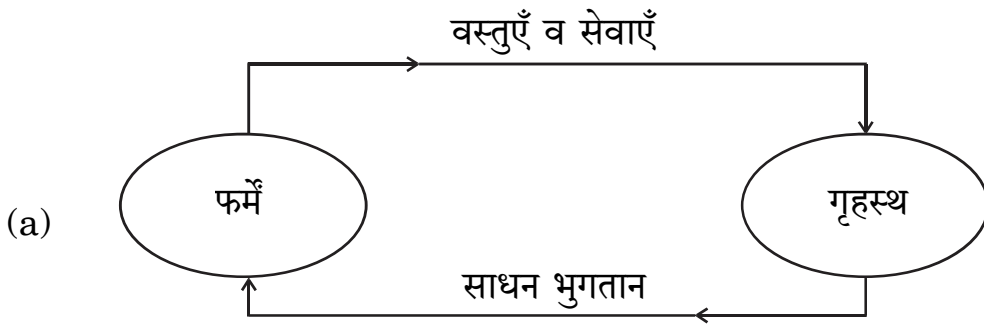


2. (क) बाज़ार मूल्य पर राष्ट्रीय आय व साधन लागत पर राष्ट्रीय आय का अंतर _____ होता है । (रिक्त स्थान भरने के लिए सही विकल्प का चयन कीजिए) 1

- (a) शुद्ध अप्रत्यक्ष कर
- (b) विदेशों से प्राप्त शुद्ध साधन आय
- (c) स्थायी पूँजी का उपभोग
- (d) बाज़ार मूल्य

अथवा

(ख) पहचानिए कि निम्नलिखित में से कौन-सा केवल वास्तविक प्रवाह को दर्शाता है ? 1



2. (A) The difference between National Income at market price and National Income at factor cost is _____.

(Choose the correct alternative to fill up the blank)

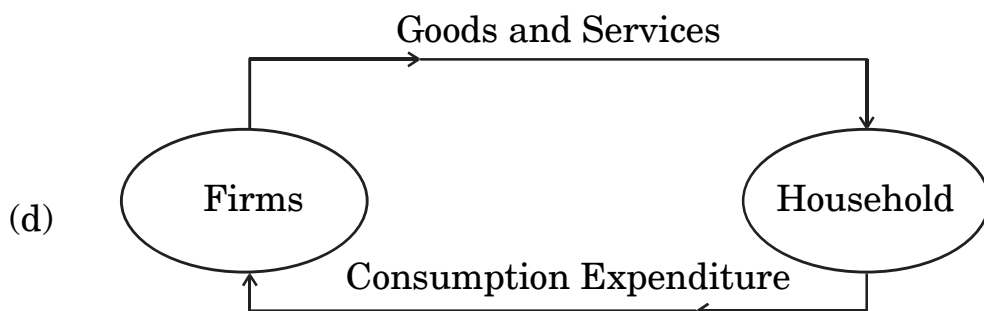
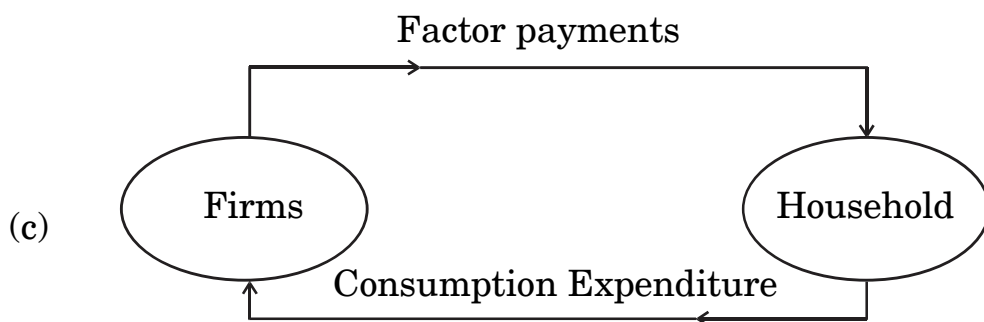
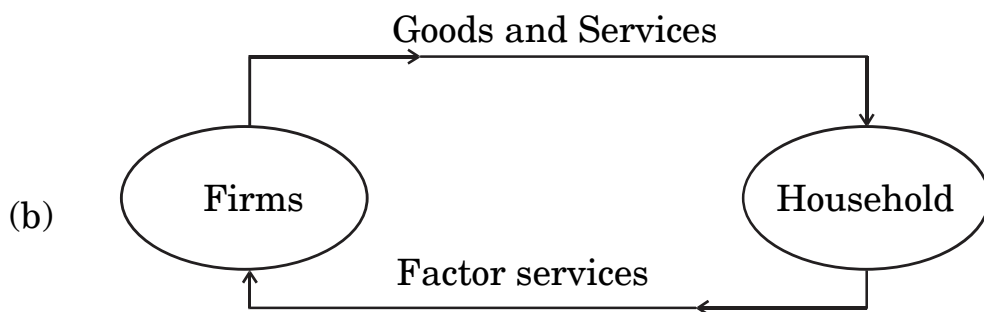
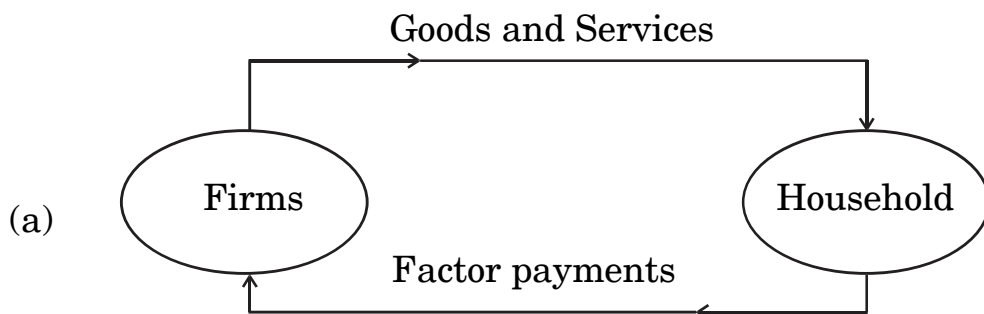
1

- (a) net indirect taxes
- (b) net factor income from abroad
- (c) consumption of fixed capital
- (d) market price

OR

- (B) Identify which of the following represents only the real flow :

1



3. निम्नलिखित समाचार रिपोर्ट को ध्यानपूर्वक पढ़िए :

“केन्द्रीय बैंक ने हिसार शहरी सहकारी बैंक लि. तथा अंडमान व निकोबार राज्य सहकारी बैंक लि. पर बैंकिंग नियमों के उल्लंघन के लिए जुर्माना लगाया है।”

दी गई रिपोर्ट के आधार पर, केन्द्रीय बैंक के कार्य की पहचान कीजिए :

1

- (a) करेंसी का जारीकर्ता
- (b) जनता के लिए बैंक
- (c) सरकार के लिए बैंक
- (d) बैंकों का बैंक

4. वह दर जिस पर, वाणिज्यिक बैंक अपनी दीर्घकालिक आवश्यकताओं की पूर्ति के लिए भारतीय रिज़र्व बैंक से ऋण लेते हैं, उसे _____ कहा जाता है।

(रिक्त स्थान भरने के लिए सही विकल्प का चयन कीजिए)

1

- (a) मार्जिन आवश्यकता
- (b) बैंक दर
- (c) रेपो दर
- (d) रिवर्स रेपो दर

5. निम्नलिखित कथनों को ध्यानपूर्वक पढ़िए :

कथन 1 : प्राथमिक जमा, आम जनता द्वारा वाणिज्यिक बैंकों के पास नकद जमा होते हैं।

कथन 2 : वाणिज्यिक बैंकों द्वारा आम जनता को प्रदान किए गए ऋण के कारण उत्पन्न जमा को द्वितीयक जमा कहते हैं।

दिए गए कथनों के आलोक में, निम्नलिखित में से सही विकल्प का चयन कीजिए :

1

- (a) कथन 1 सत्य है और कथन 2 असत्य है।
- (b) कथन 1 असत्य है और कथन 2 सत्य है।
- (c) कथन 1 और 2 दोनों सत्य हैं।
- (d) कथन 1 और 2 दोनों असत्य हैं।



3. Read the following news report carefully :

“The central bank has imposed fine on Hisar Urban Cooperative Bank Ltd. and Andaman and Nicobar State Cooperative Bank Ltd. for violation of banking norms.”

According to the given report, identify the function of the central bank.

1

- (a) Issue of currency
- (b) Banker to the public
- (c) Banker to the Government
- (d) Banker's Bank

4. The rate at which commercial banks borrow from the Reserve Bank of India to meet their long term requirements is known as _____.

(Choose the correct alternative to fill up the blank)

1

- (a) Margin requirement
- (b) Bank rate
- (c) Repo rate
- (d) Reverse repo rate

5. Read the following statements carefully :

Statement 1 : Primary deposits are the cash deposits by general public with commercial banks.

Statement 2 : Secondary deposits are those deposits which arise on account of credit provided by the commercial banks to the people.

In light of the given statements, choose the correct alternative from the following :

1

- (a) Statement 1 is true and Statement 2 is false.
- (b) Statement 1 is false and Statement 2 is true.
- (c) Both Statements 1 and 2 are true.
- (d) Both Statements 1 and 2 are false.



6. निम्नलिखित कथनों को पढ़िए : अभिकथन (A) और कारण (R) । नीचे दिए गए विकल्पों में से एक सही विकल्प चुनिए :

1

अभिकथन (A) : आय के सम स्तर बिंदु (Break-Even level) पर पहुँचने से पहले, औसत उपभोग प्रवृत्ति (APC) का मूल्य इकाई से अधिक होता है ।

कारण (R) : औसत उपभोग प्रवृत्ति (APC), कुल उपभोग व कुल आय का अनुपात होता है ।

विकल्प :

- (a) अभिकथन (A) और कारण (R) दोनों सत्य हैं और कारण (R), अभिकथन (A) की सही व्याख्या करता है ।
- (b) अभिकथन (A) और कारण (R) दोनों सत्य हैं, लेकिन कारण (R), अभिकथन (A) की सही व्याख्या **नहीं** करता है ।
- (c) अभिकथन (A) सत्य है, लेकिन कारण (R) असत्य है ।
- (d) अभिकथन (A) असत्य है, लेकिन कारण (R) सत्य है ।
7. (क) मान लीजिए कि, एक राष्ट्र का व्यापार संतुलन ₹ 50,000 करोड़ का घाटा दर्शाता है । दृश्य वस्तुओं का आयात, दृश्य वस्तुओं के निर्यात का पाँच गुना है । दृश्य वस्तुओं के निर्यात का मूल्य ₹ _____ करोड़ होगा ।

(रिक्त स्थान भरने के लिए सही विकल्प का चयन कीजिए) 1

- (a) 20,000
- (b) 10,000
- (c) 12,500
- (d) 20,300

अथवा

- (ख) विदेशों को भेजे गए उपहार व प्रेषण, भुगतान संतुलन के _____ खाते के _____ पक्ष में दर्ज किए जाते हैं ।

(रिक्त स्थानों को भरने के लिए सही विकल्प का चयन कीजिए) 1

- (a) पूँजी, क्रेडिट
- (b) पूँजी, डेबिट
- (c) चालू, क्रेडिट
- (d) चालू, डेबिट



6. Read the following statements : Assertion (A) and Reason (R). Choose the correct alternative given below :

1

Assertion (A) : Before reaching the Break-Even level of income, the value of Average Propensity to Consume (APC) is greater than one.

Reason (R) : The Average Propensity to Consume (APC) is the ratio of the total consumption and total income.

Alternatives :

- (a) Both Assertion (A) and Reason (R) are true and Reason (R) is the correct explanation of Assertion (A).
(b) Both Assertion (A) and Reason (R) are true, but Reason (R) is **not** the correct explanation of Assertion (A).
(c) Assertion (A) is true and Reason (R) is false.
(d) Assertion (A) is false and Reason (R) is true.
7. (A) Suppose that, the Balance of Trade of a nation exhibits a deficit of ₹ 50,000 crore. The import of visible items are five times of the exports of visible items. The value of exports of visible items would be ₹ _____ crore.

(Choose the correct alternative to fill up the blank)

1

- (a) 20,000
(b) 10,000
(c) 12,500
(d) 20,300

OR

- (B) Gifts and remittances sent abroad are recorded on the _____ side of the _____ account in Balance of Payment.

(Choose the correct alternative to fill up the blanks)

1

- (a) credit, capital
(b) debit, capital
(c) credit, current
(d) debit, current



8. (क) यदि निवेश गुणक का मूल्य = 4 तथा अबचत = (-) 60 है, तो निम्नलिखित में से सही बचत फलन की पहचान कीजिए :

1

- (a) $S = (-) 60 + 0.25 Y$
- (b) $S = (-) 60 + 0.75 Y$
- (c) $S = (-) 60 + 0.20 Y$
- (d) $S = (-) 60 + 0.60 Y$

अथवा

- (ख) दिए गए उपभोग फलन $C = 205 + 0.9 Y$ के लिए, निवेश गुणक का मूल्य _____ होगा। (रिक्त स्थान भरने के लिए सही विकल्प का चयन कीजिए)

1

- (a) 0.09
- (b) 10.0
- (c) 0.9
- (d) 9.0

9. ऐसी स्थिति जहाँ, एक सक्षम व्यक्ति वर्तमान मज़दूरी दर पर कार्य करने का इच्छुक नहीं होता है, वह _____ स्थिति कहलाती है।

(रिक्त स्थान भरने के लिए सही विकल्प का चयन कीजिए)

1

- (a) पूर्ण रोज़गार
- (b) अनैच्छिक बेरोज़गारी
- (c) ऐच्छिक बेरोज़गारी
- (d) प्रच्छन्न बेरोज़गारी

10. पहचानिए कि निम्नलिखित में से कौन-सा समीकरण सत्य है ?

(सही विकल्प का चयन कीजिए)

1

- (a) $MPC + MPS = 0$
- (b) $MPC + MPS = 1$
- (c) $MPC + MPS > 1$
- (d) $MPC + MPS < 1$



-
8. (A) If the value of investment multiplier = 4 and Dissavings = (–) 60, identify the correct Saving function from the following : 1

- (a) $S = (-) 60 + 0.25 Y$
- (b) $S = (-) 60 + 0.75 Y$
- (c) $S = (-) 60 + 0.20 Y$
- (d) $S = (-) 60 + 0.60 Y$

OR

- (B) For the given Consumption function, $C = 205 + 0.9 Y$, the value of investment multiplier would be _____.

(Choose the correct alternative to fill up the blank) 1

- (a) 0.09
- (b) 10.0
- (c) 0.9
- (d) 9.0

9. A situation in which an able bodied person is not willing to work at the existing wage rate, is referred to as _____ situation.

(Choose the correct alternative to fill up the blank) 1

- (a) Full employment
- (b) Involuntary unemployment
- (c) Voluntary unemployment
- (d) Disguised unemployment

10. Identify which of the following equations is true ?

(Choose the correct alternative) 1

- (a) $MPC + MPS = 0$
- (b) $MPC + MPS = 1$
- (c) $MPC + MPS > 1$
- (d) $MPC + MPS < 1$



11. “विदेशी विनिमय दर तथा विदेशी मुद्रा की आपूर्ति में धनात्मक सहसंबंध होता है।”
क्या आप दिए गए कथन से सहमत हैं ? अपने उत्तर की मान्य तर्कों द्वारा पुष्टि कीजिए। 3

12. (क) ‘मूल्य वृद्धि’ व ‘उत्पादन का अंतिम मूल्य’ में विभेद कीजिए। 3

अथवा

- (ख) दिए गए आँकड़ों के प्रयोग द्वारा, साधन लागत पर शुद्ध मूल्य वृद्धि (NVA_{FC}) ज्ञात कीजिए : 3

क्र.सं.	मर्दे	राशि (₹ करोड़ में)
(i)	बाज़ार में चावल की बिक्री	48
(ii)	ट्रैक्टर व थ्रेशर का क्रय	30
(iii)	सरकार द्वारा चावल की खरीद	10
(iv)	वर्ष में चावल का स्व-उपभोग	5
(v)	ट्रैक्टर व थ्रेशर के परिचालन व रखरखाव का व्यय	10
(vi)	सरकार से प्राप्त उर्वरक उपदान	2

13. (क) केन्द्रीय बैंक के ‘सरकार के बैंक’ कार्य की व्याख्या कीजिए। 4

अथवा

- (ख) एक काल्पनिक संख्यात्मक उदाहरण का उपयोग करते हुए, वाणिज्यिक बैंकों द्वारा साख सृजन पर आरक्षित अनुपात में वृद्धि के प्रभाव की व्याख्या कीजिए। 4

14. यदि प्रत्याशित बचत, प्रत्याशित निवेश से कम हो, तो समायोजन तंत्र का वर्णन कीजिए। 4

15. 26 सितम्बर, 2022 को प्रकाशित निम्नलिखित समाचार को पढ़िए :

“केन्द्रीय बैंक ने बैंचमार्क ऋण दर में 140 आधार अंकों की वृद्धि की है।”

भारतीय रिज़र्व बैंक द्वारा की गई, इस कार्यवाही के पीछे संभावित कारण व परिणामों की पहचान कीजिए। 4



11. “There exists a positive relation between foreign exchange rate and supply of foreign exchange.” Do you agree with the given statement ? Justify your answer with valid arguments. 3

12. (a) Distinguish between ‘Value Addition’ and ‘Final Value of Output’. 3

OR

(b) Find the Net Value Added at Factor Cost (NVA_{FC}) using the given data : 3

S. No.	Particulars	Amount (in ₹ crore)
(i)	Sale of rice in the market	48
(ii)	Purchase of tractor and thresher	30
(iii)	Procurement of rice by the government	10
(iv)	Self-consumption of rice during the year	5
(v)	Expenditure on running and maintenance of tractor and thresher	10
(vi)	Fertiliser subsidies received from the government	2

13. (a) Explain the ‘Government’s Bank’ function of the central bank. 4

OR

(b) Using a hypothetical numerical example, explain the effect of rise in Reserve Ratio on credit creation by the commercial banks. 4

14. Describe the adjustment mechanism, if ex-ante savings are less than ex-ante investments. 4

15. Read the following news published on September 26, 2022 :

“The central bank has increased the benchmark lending rate by 140 basis points.”

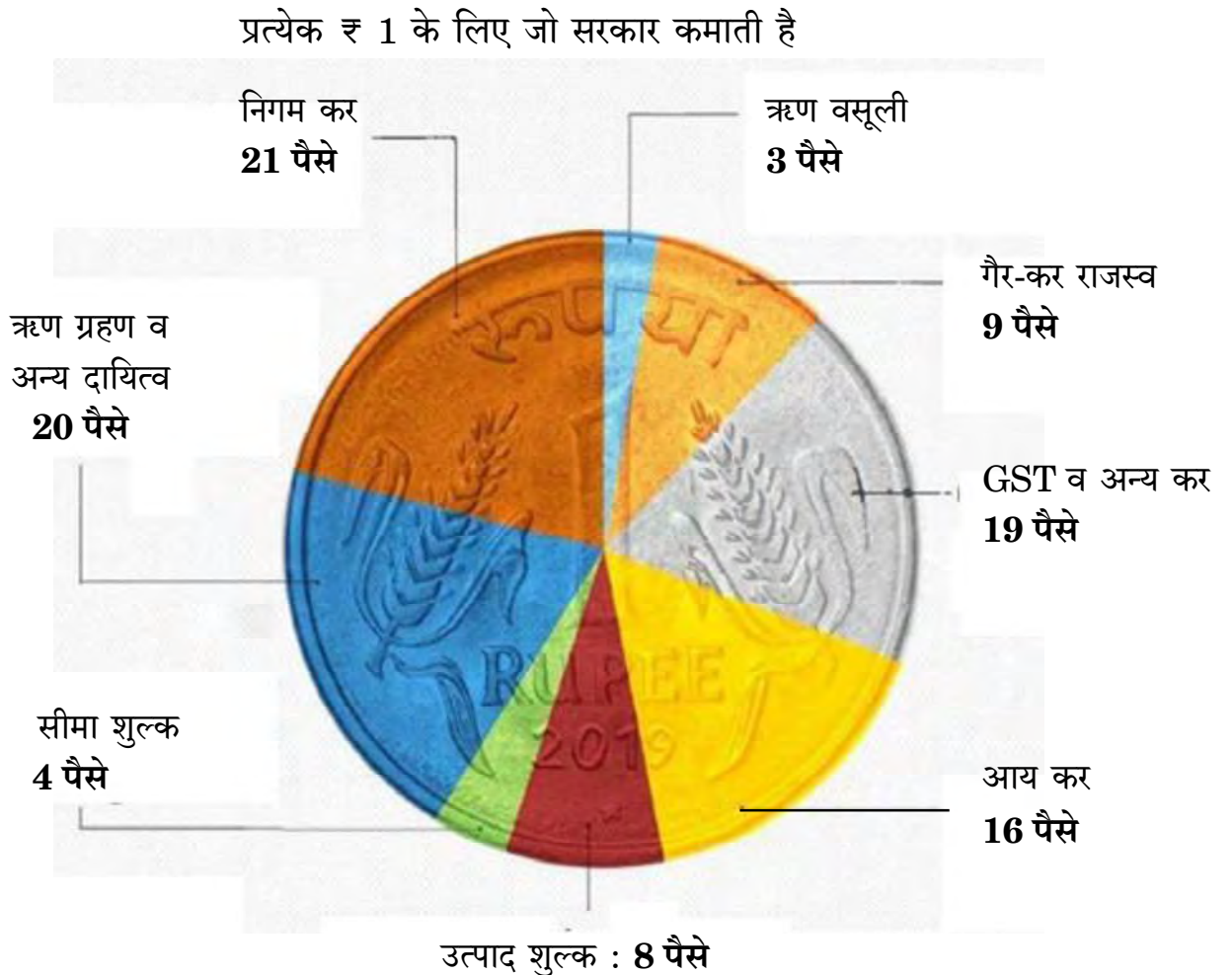
Identify the likely cause and consequences behind this action taken by the Reserve Bank of India. 4



16. (क) क्या थोक बाज़ार में गेहूँ की खरीद को मध्यवर्ती वस्तुओं की खरीद के रूप में लिया जाना चाहिए ? 3
- (ख) राष्ट्रीय आय में वृद्धि से तात्पर्य सदैव घरेलू आय में वृद्धि से होता है । विवेचना कीजिए । 3

17. (क) (i) चित्र में दी गई जानकारी के आधार पर, मान्य कारणों का उल्लेख करते हुए मदों को राजस्व प्राप्तियों व पूँजीगत प्राप्तियों में वर्गीकृत कीजिए । 4

भारत को उसका पैसा कहाँ से आता है ?



- (ii) राजस्व घाटे व राजकोषीय घाटे के मध्य अंतर स्पष्ट कीजिए । 2

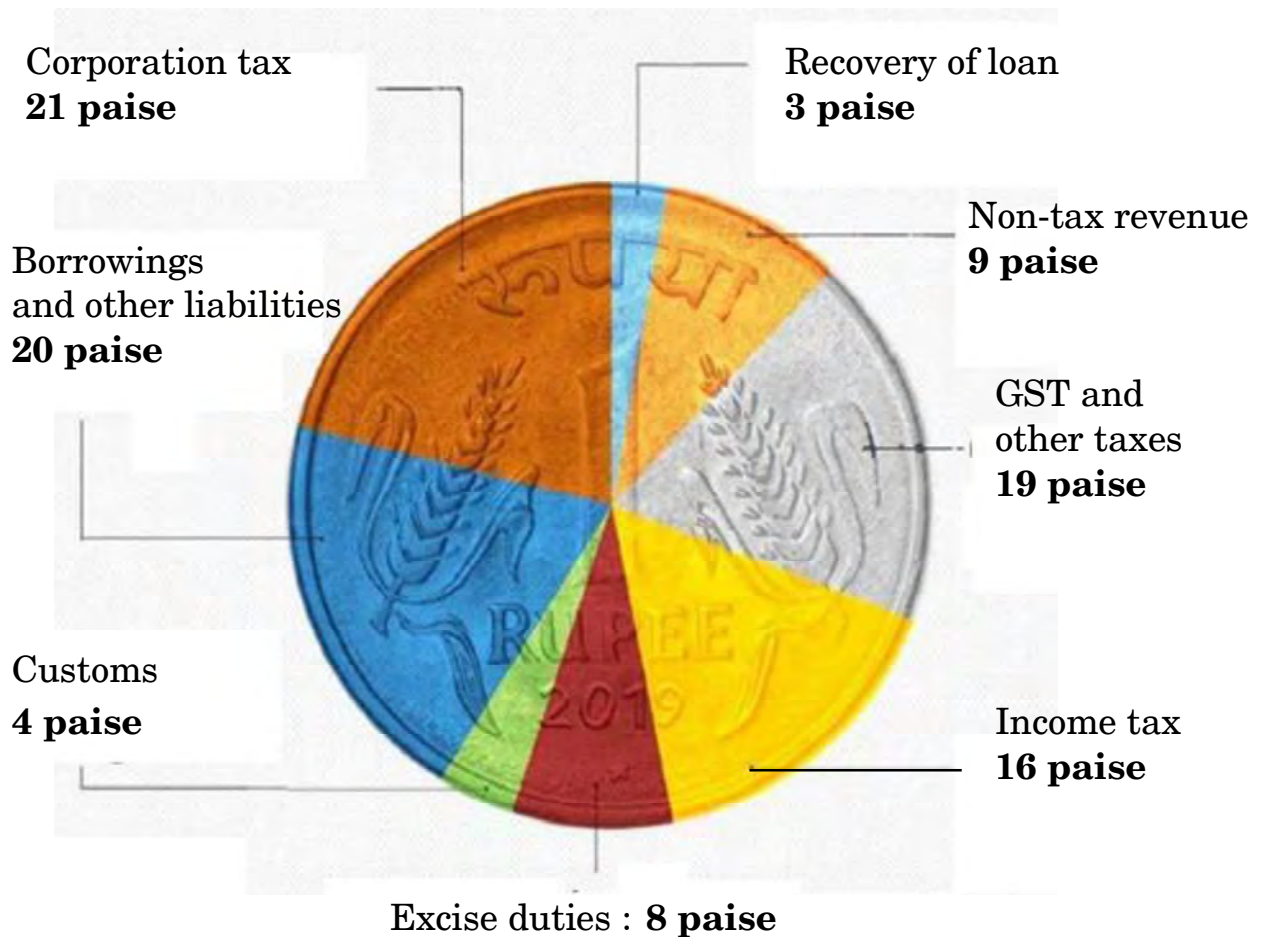
अथवा



16. (a) Should purchase of wheat in the wholesale market be treated as the purchase of intermediate goods ? 3
- (b) Increase in national income always implies increase in domestic income. Elucidate. 3
17. (a) (i) From the information given in the diagram, categorize the items into revenue receipts and capital receipts, stating valid reasons. 4

WHERE INDIA GETS ITS MONEY FROM?

For every ₹ 1 that the Govt. earns



- (ii) Distinguish between Revenue deficit and Fiscal deficit. 2

OR



(ख) (i) निम्नलिखित आँकड़ों द्वारा, प्राथमिक घाटे की गणना कीजिए :

3

क्र.सं.	मर्दे	राशि (रु करोड़ में)
(i)	राजस्व घाटा	40
(ii)	गैर-ऋण सृजित पूँजीगत प्राप्तियाँ	190
(iii)	कर राजस्व	125
(iv)	पूँजीगत व्यय	220
(v)	ब्याज भुगतान	20

(ii) सरकारी बजट के 'आर्थिक स्थिरता' कार्य की व्याख्या कीजिए ।

3

खण्ड ख भारतीय आर्थिक विकास

18. निम्नलिखित कथनों को ध्यानपूर्वक पढ़िए :

कथन 1 : ब्रिटिश शासन के अंतर्गत कृषि का व्यवसायीकरण, 1875 और 1900 के मध्य लगातार अकाल के लिए ज़िम्मेदार था ।

कथन 2 : ब्रिटिश शासनकाल में, भारत ने खाद्यान्नों का निर्यात प्रारंभ कर दिया था ।

दिए गए कथनों के आलोक में, निम्नलिखित में से सही विकल्प का चयन कीजिए :

1

- (a) कथन 1 सत्य है और कथन 2 असत्य है ।
- (b) कथन 1 असत्य है और कथन 2 सत्य है ।
- (c) कथन 1 और 2 दोनों सत्य हैं ।
- (d) कथन 1 और 2 दोनों असत्य हैं ।



- (b) (i) From the following data, calculate the primary deficit.

3

S. No.	Particulars	Amount (in ₹ crore)
(i)	Revenue deficit	40
(ii)	Non-debt creating capital receipts	190
(iii)	Tax revenue	125
(iv)	Capital expenditure	220
(v)	Interest payments	20

- (ii) Elaborate 'Economic stability' function of the Government Budget.

3

SECTION B

Indian Economic Development

18. Read the following statements carefully :

Statement 1 : Commercialization of agriculture under the British rule was responsible for frequent famines between 1875 and 1900.

Statement 2 : During British rule, India began to export food grains.

In light of the given statements, choose the correct alternative from the following :

1

- (a) Statement 1 is true and Statement 2 is false.
(b) Statement 1 is false and Statement 2 is true.
(c) Both Statements 1 and 2 are true.
(d) Both Statements 1 and 2 are false.



19. लघु-जलविद्युत संयंत्र पर्यावरण के लिए अनुकूल हैं, क्योंकि :

1

- (i) वे केवल स्थानीय क्षेत्रों के लिए विद्युत उत्पन्न करते हैं ।
- (ii) वे भूमि के उपयोग ढाँचे को परिवर्तित नहीं करते हैं ।
- (iii) वे बारहमासी धाराओं (perennial streams) पर निर्भर होते हैं ।

(सही विकल्प का चयन कीजिए)

विकल्प :

- (a) (i), (ii) और (iii)
- (b) (ii) और (iii)
- (c) केवल (i)
- (d) (i) और (ii)

20. सरकार द्वारा प्रारंभ किया गया 'Skill India' (स्किल इंडिया) कार्यक्रम भारत में _____को बढ़ाने का एक प्रयास नहीं है ।

(रिक्त स्थान भरने के लिए सही विकल्प का चयन कीजिए)

1

- (a) मानव पूँजी निर्माण
- (b) आगतों का कुशल उपयोग
- (c) सकल घरेलू उत्पाद (GDP) में वृद्धि
- (d) व्यावसायिक शिक्षा का अपर्याप्त विस्तार

21. (क) निम्नलिखित कथनों को ध्यानपूर्वक पढ़िए :

कथन 1 : सरकार द्वारा न्यूनतम समर्थन मूल्य (MSP) पर क्रय किया गया खाद्यान्न बफर स्टॉक (Buffer Stock) के रूप में रखा जाता है ।

कथन 2 : न्यूनतम समर्थन मूल्य (MSP) कृषकों की कृषि उत्पाद के मूल्यों में किसी तेज गिरावट से बचाव करते हैं ।

दिए गए कथनों के आलोक में, निम्नलिखित में से सही विकल्प का चयन कीजिए :

1

- (a) कथन 1 सत्य है और कथन 2 असत्य है ।
- (b) कथन 1 असत्य है और कथन 2 सत्य है ।
- (c) कथन 1 और 2 दोनों सत्य हैं ।
- (d) कथन 1 और 2 दोनों असत्य हैं ।

अथवा



19. Mini-hydel plants are good for the environment because :

1

- (i) they generate electricity only for local areas.
- (ii) they do not change the land use pattern.
- (iii) they rely on the perennial streams.

(Choose the correct alternative)

Alternatives :

- (a) (i), (ii) and (iii)
- (b) (ii) and (iii)
- (c) (i) only
- (d) (i) and (ii)

20. 'Skill India' programme launched by the Government is not an attempt to increase _____ in India.

(Choose the correct alternative to fill up the blank)

1

- (a) human capital formation
- (b) efficient utilisation of inputs
- (c) increase in GDP growth
- (d) inadequate spread of vocational education

21. (A) Read the following statements carefully :

Statement 1 : The purchase of food grains made by the Government on the Minimum Support Price (MSP) is maintained as buffer stock.

Statement 2 : Minimum Support Price safeguards the farmers against any sharp fall in farm product prices.

In light of the given statements, choose the correct alternative from the following :

1

- (a) Statement 1 is true and Statement 2 is false.
- (b) Statement 1 is false and Statement 2 is true.
- (c) Both Statements 1 and 2 are true.
- (d) Both Statements 1 and 2 are false.

OR



- (ख) निम्नलिखित में से **असत्य** कथन की पहचान कीजिए : 1
- (a) आयात प्रतिस्थापन विदेशी मुद्रा बचाने के लिए प्रयुक्त रणनीति थी ।
 - (b) लाइसेंस नीति ने क्षेत्रीय समानता सुनिश्चित की थी ।
 - (c) रूसी आर्थिक मॉडल भारतीय आर्थिक प्रणाली का आधार था ।
 - (d) रोज़गार सृजन के लिए लघु स्तरीय उद्योग आवश्यक उपकरणों में से एक हैं ।

22. (क) चीन का ग्रेट लीप फॉरवर्ड (GLF) अभियान _____ पर केन्द्रित है । 1
- (रिक्त स्थान भरने के लिए सही विकल्प का चयन कीजिए)

- (a) व्यापक औद्योगीकरण
- (b) नई कृषि रणनीति
- (c) निजीकरण
- (d) आर्थिक सुधारों

अथवा

- (ख) भारत निम्नलिखित में से किस क्षेत्रीय/वैश्विक आर्थिक समूह का सदस्य **नहीं** है ? 1
- (a) यूरोपियन संघ
 - (b) BRICS (ब्रिक्स)
 - (c) G20
 - (d) SAARC (सार्क)

23. (क) वे श्रमिक जो अपने नियोक्ताओं के स्थायी पे-रोल (pay-roll) पर नियुक्त होते हैं, _____ श्रमिक के रूप में जाने जाते हैं । 1
- (रिक्त स्थान भरने के लिए सही विकल्प का चयन कीजिए)

- (a) स्वनियोजित
- (b) आकस्मिक
- (c) नियमित
- (d) भाड़े के

अथवा

- (ख) रोज़गार-विहीन संवृद्धि, बेरोज़गारी को उत्पन्न करती है क्योंकि _____ । 1
- (रिक्त स्थान भरने के लिए सही विकल्प का चयन कीजिए)
- (a) श्रमिक पलायन करने से मना करते हैं
 - (b) श्रमिक सेवाएँ बहुत महँगी होती हैं
 - (c) विकास दर कम होती है
 - (d) विकास प्रौद्योगिकी के कारण होता है



-
- (B) Identify the **incorrect** statement from the following : 1
- (a) Import substitution was the strategy used to save foreign exchange.
 - (b) License policy ensured regional equality.
 - (c) Russian economic model was the base for the Indian economic system.
 - (d) Small Scale Industries are one of the essential tools for employment generation.

22. (A) The Great Leap Forward (GLF) campaign in China focused on _____. (Choose the correct alternative to fill up the blank) 1
- (a) Widespread industrialisation
 - (b) New agricultural strategy
 - (c) Privatisation
 - (d) Economic reforms

OR

- (B) India is **not** a member of which of the following regional / global economic groups ? 1
- (a) European Union
 - (b) BRICS
 - (c) G20
 - (d) SAARC

23. (A) Workers who are on the permanent pay-roll of their employer are called _____ workers. 1
- (Choose the correct alternative to fill up the blank)
- (a) self-employed
 - (b) casual
 - (c) regular
 - (d) hired

OR

- (B) Jobless growth leads to unemployment because _____. 1
- (Choose the correct alternative to fill up the blank)
- (a) Labour refuses to migrate
 - (b) Labour is very expensive
 - (c) Growth rate is low
 - (d) Growth is due to technological development



24. निम्नलिखित कथन के संदर्भ में, सही विकल्प की पहचान कीजिए : 1
- “1966 – 76 के मध्य, माओ ने इस आंदोलन का आरम्भ किया था, जिसके अंतर्गत छात्रों व पेशेवरों को कार्य करने के लिए चीन के ग्रामीण इलाकों में प्रचलित वास्तविक जीवन स्थितियों से सीखने के लिए कहा गया था ।”
- (a) कम्यून प्रणाली
(b) ग्रेट लीप फॉरवर्ड
(c) खुले द्वार की नीति
(d) महान सर्वहारा सांस्कृतिक क्रांति
25. निम्नलिखित कथनों को ध्यानपूर्वक पढ़िए :
कथन 1 : भारत व पाकिस्तान दोनों में, सेवा क्षेत्र विकास के एक प्रमुख स्रोत के रूप में उभरा है ।
कथन 2 : भारत के पड़ोसी देशों में, चीन की जीवन प्रत्याशा दर सर्वाधिक है ।
दिए गए कथनों के आलोक में, निम्नलिखित में से सही विकल्प का चयन कीजिए : 1
- (a) कथन 1 सत्य है और कथन 2 असत्य है ।
(b) कथन 1 असत्य है और कथन 2 सत्य है ।
(c) कथन 1 और 2 दोनों सत्य हैं ।
(d) कथन 1 और 2 दोनों असत्य हैं ।
26. किसी एक विशेष फ़सल के बजाय विविध प्रकार की फ़सलों के उत्पादन को _____ कहा जाता है । (रिक्त स्थान भरने के लिए सही विकल्प का चयन कीजिए) 1
- (a) फ़सलों का विविधीकरण
(b) कृषि उत्पादन का विविधीकरण
(c) क्षेत्रकों में विविधीकरण
(d) रोज़गार का विविधीकरण
27. निम्नलिखित कथनों को ध्यानपूर्वक पढ़िए :
कथन 1 : भारत ने अपनी प्रथम पंचवर्षीय योजना की घोषणा 1951 में की थी ।
कथन 2 : भारत, पाकिस्तान व चीन ने आर्थिक नियोजन को अपनी मुख्य विकास रणनीति के तौर पर अपनाया था ।
दिए गए कथनों के आलोक में, निम्नलिखित में से सही विकल्प का चयन कीजिए : 1
- (a) कथन 1 सत्य है और कथन 2 असत्य है ।
(b) कथन 1 असत्य है और कथन 2 सत्य है ।
(c) कथन 1 और 2 दोनों सत्य हैं ।
(d) कथन 1 और 2 दोनों असत्य हैं ।



24. Identify the correct alternative with reference to the following statement : 1
“Between 1966 – 76, Mao introduced this movement under which professionals and students were asked to work and learn from real life situations prevailing in the countryside of China.”
(a) Commune System
(b) Great Leap Forward
(c) Open Door Policy
(d) Great Proletarian Cultural Revolution
25. Read the following statements carefully :
Statement 1 : In both India and Pakistan, the service sector has been emerging as a major source of development.
Statement 2 : Amongst the neighbours of India, China has the highest life expectancy rate.
In light of the given statements, choose the correct alternative from the following : 1
(a) Statement 1 is true and Statement 2 is false.
(b) Statement 1 is false and Statement 2 is true.
(c) Both Statements 1 and 2 are true.
(d) Both Statements 1 and 2 are false.
26. Production of diverse varieties of crops rather than one specialized crop is called _____. (Choose the correct alternative to fill up the blank) 1
(a) diversification of crops
(b) diversification of agricultural production
(c) diversification in sectors
(d) diversification of employment
27. Read the following statements carefully :
Statement 1 : India announced its First Five Year Plan in 1951.
Statement 2 : India, Pakistan and China adopted economic planning as the core development strategy.
In light of the given statements, choose the correct alternative from the following : 1
(a) Statement 1 is true and Statement 2 is false.
(b) Statement 1 is false and Statement 2 is true.
(c) Both Statements 1 and 2 are true.
(d) Both Statements 1 and 2 are false.



28. दिए गए चित्र की व्याख्या, वर्तमान पर्यावरणीय चुनौतियों के आधार पर कीजिए :

3



नोट : निम्नलिखित प्रश्न केवल दृष्टिबाधित परीक्षार्थियों के लिए प्रश्न संख्या 28 के स्थान पर है : किसी एक वर्तमान पर्यावरणीय चुनौती की व्याख्या कीजिए ।

29. (क) भारत में ग्रामीण विकास की प्रक्रिया में ग्रामीण बैंकिंग प्रणाली की भूमिका का आलोचनात्मक मूल्यांकन कीजिए ।

3

अथवा

(ख) “डॉ. खुराना, एक दंत चिकित्सक, आर्थिक रूप से पिछड़े इलाके में अपना चिकित्सालय (clinic) चलाते थे । वे अपेक्षाकृत अल्प आय अर्जित कर रहे थे । इसलिए, उन्होंने शहर जाने का फैसला किया तथा उस प्रयोजन में बड़ी राशि का व्यय किया ।”

डॉ. खुराना के द्वारा किए गए व्यय के उस प्रकार को पहचानिए तथा व्याख्या कीजिए, जिसने मानव पूंजी निर्माण प्रक्रिया में प्रत्यक्ष रूप से योगदान दिया है ।

3

30. (क) औद्योगिक नीति प्रस्ताव, 1956 के अंतर्गत ‘लाइसेंस राज’ के पीछे के तर्कों को संक्षेप में समझाइए ।

3

(ख) बहुपक्षीय व्यापार की परिभाषा दीजिए ।

1

31. (क) मान्य तर्कों सहित, उल्लेख एवं व्याख्या कीजिए कि निम्नलिखित कथन सत्य है अथवा असत्य :

“हाल में, भारतीय अर्थव्यवस्था ने कार्यबल के औपचारीकरण की ओर संतोषजनक विकास किया है ।”

4

अथवा

(ख) “भारत में लगभग 60% कर्मचारी स्वरोजगार में कार्यरत हैं । स्वरोजगारी व्यक्तियों में अल्प रोजगार के होने की संभावना अधिकतम है ।”

एक अर्थशास्त्री के रूप में, स्वरोजगारी व्यक्तियों के लिए अधिक उत्पादक रोजगार सुनिश्चित करने के लिए किए जाने वाले किन्हीं दो उपायों का सविस्तार सुझाव दीजिए ।

4



28. Interpret the given picture, on account of current environmental challenges :

3



Note : The following question is for the **Visually Impaired Candidates** only, in lieu of Q. No. 28 :

Explain any one current environmental challenge.

29. (a) Critically evaluate the role of rural banking system in the process of rural development in India.

3

OR

- (b) “Dr. Khurana, a dentist, ran his clinic in an economically backward area. He was earning a comparatively low income. So, he decided to move to a city and spent a huge amount for the same.”

Identify and explain the type of expenditure incurred by Dr. Khurana, which directly contributed to the process of human capital formation.

3

30. (a) Explain briefly the rationale behind the ‘License Raj’ under the Industrial Policy Resolution, 1956.

3

- (b) Define Multilateral trade.

1

31. (a) State and elaborate whether the following statement is true or false, with valid arguments :

“Indian economy has showed satisfactory progress towards formalization of workforce in the recent past.”

4

OR

- (b) “In India, the self-employed constitute around 60% employees. The possible incidence of under employment is the highest among the self-employed.”

As an economist, suggest and elaborate any two measures that may be taken to ensure more productive employment for the self-employed.

4



32. सकल वर्धित मूल्य (GVA) में भारत व चीन के क्षेत्रवार योगदान की तुलना कीजिए । यह क्या दर्शाता है ?

4

2018 – 2019 में (%) रोज़गार एवं सकल वर्धित मूल्य (%) के क्षेत्र शेयर

क्षेत्र	सकल वर्धित मूल्य में योगदान			कार्यबल का वितरण		
	भारत	चीन	पाकिस्तान	भारत	चीन	पाकिस्तान
कृषि	16	7	24	43	26	41
उद्योग	30	41	19	25	28	24
सेवाएँ	54	52	57	32	46	35
कुल	100	100	100	100	100	100

33. (क) (i) नियमित वेतनभोगी कर्मचारियों में महिलाएँ कम क्यों हैं ? 3
(ii) मानव पूँजी व भौतिक पूँजी में अन्तर स्पष्ट कीजिए । 3

अथवा

- (ख) (i) भारत में धारणीय विकास प्राप्त करने में शामिल किसी एक रणनीति का उल्लेख व चर्चा कीजिए । 3
(ii) ग्रामीण भारत में सूक्ष्म-ऋण कार्यक्रम के महत्त्व की संक्षेप में चर्चा कीजिए । 3

34. निम्नलिखित गद्य को ध्यानपूर्वक पढ़िए :

नीति आयोग के अनुसार, भारत में डिजिटल बैंकों की सुविधा के लिए प्रौद्योगिकीय लाभ उपलब्ध हैं । इसे प्रोत्साहित करने के लिए एक नियामक ढाँचा तैयार करने की आवश्यकता है । नीति आयोग ने अपनी रिपोर्ट “Digital Banks : A Proposal for Licensing and Regulatory Regime for India” में राष्ट्र के लिए डिजिटल बैंक लाइसेंसिंग व नियामक व्यवस्था के लिए एक साँचा व रोडमैप प्रदान किया है । भारत के सार्वजनिक डिजिटल बुनियादी ढाँचे, विशेष रूप से एकीकृत भुगतान इंटरफेस (UPI) ने इस चुनौती का सफलतापूर्वक सामना किया है ।

आधार के साथ, भारत अपने स्वयं एक मुक्त बैंकिंग ढाँचे को संचालित करने की कगार पर है । इससे यह पता लगता है, कि डिजिटल बैंकों को पूर्ण रूप से सुविधा प्रदान करने के लिए भारत के पास तकनीकी स्टॉक उपलब्ध है ।

डिजिटल बैंकिंग, उपयोगकर्ता को नियमित उपयोगिता बिलों को भुगतान करने का एक स्वचालित भुगतान प्रक्रिया बनाने की अनुमति देता है । डिजिटल बैंकिंग फंड हस्तांतरण करके नकली मुद्रा के जोखिम को भी कम करता है । नकदी रहित समाज को प्रोत्साहित करके, डिजिटल बैंकिंग काले धन के संचलन को प्रतिबंधित करती है ।

दिए गए गद्य तथा सामान्य समझ के आधार पर निम्नलिखित प्रश्नों के उत्तर दीजिए :

- (क) भारत में नीति आयोग ने किस संस्था को प्रतिस्थापित किया है ? नीति आयोग के पदेन अध्यक्ष कौन हैं ? 2
(ख) डिजिटल बैंकिंग के किन्हीं दो मुख्य लाभों का उल्लेख व चर्चा कीजिए । 4



32. Compare and contrast India and China's sectoral contribution towards Gross Value Added (GVA). What does it indicate ? 4

Sectoral Share of Employment and GVA (%) in 2018 – 19

Sector	Contribution to GVA			Distribution of Workforce		
	India	China	Pakistan	India	China	Pakistan
Agriculture	16	7	24	43	26	41
Industry	30	41	19	25	28	24
Services	54	52	57	32	46	35
Total	100	100	100	100	100	100

33. (a) (i) Why are less women found in regular salaried employment ? 3
(ii) Distinguish between human capital and physical capital. 3

OR

- (b) (i) State and discuss any one strategy involved in attaining sustainable development in India. 3
(ii) Discuss briefly the importance of micro credit programme in rural India. 3

34. Read the following text carefully :

According to NITI Aayog, India has a technological advantage to facilitate digital banks. There is a need for creating a regulatory framework for promoting this.

NITI Aayog, in its report titled “Digital Banks : A Proposal for Licensing and Regulatory Regime for India”, offers a template and roadmap for a digital bank licensing and regulatory regime for a country. India's public digital infrastructure, especially Unified Payments Interface (UPI) has successfully faced this.

With Aadhar, India is at the cusp of operationalizing its own open banking framework. This demonstrates that India has the technology stock to fully facilitate digital banks.

Digital banking allows a user to set up automatic payments for regular utility bills. Digital banking enables fund transfers to reduce the risk of counterfeit currency. By promoting a cashless society, digital banking restricts the circulation of black money.

On the basis of the given text and common understanding, answer the following questions :

- (a) Which institution has been replaced by NITI Aayog in India ? Who is the ex-officio Chairman of NITI Aayog ? 2
(b) State and discuss any two main advantages of digital banking. 4



Series : AAB3/1



SET-1

प्रश्न-पत्र कोड नं. **58/1/1**
Question Paper Code No.

रोल नं.

Roll No.

--	--	--	--	--	--	--	--

परीक्षार्थी कोड को उत्तर-पुस्तिका के मुख-पृष्ठ पर अवश्य लिखें।

Candidates must write the Code on the title page of the answer-book.

- कृपया जाँच कर लें कि इस प्रश्न-पत्र में मुद्रित पृष्ठ 12 हैं।
- प्रश्न-पत्र में दाहिने हाथ की ओर दिए गए कोड नम्बर को छात्र उत्तर-पुस्तिका के मुख-पृष्ठ पर लिखें।
- कृपया जाँच कर लें कि इस प्रश्न-पत्र में 13 प्रश्न हैं।
- कृपया प्रश्न का उत्तर लिखना शुरू करने से पहले, उत्तर-पुस्तिका में प्रश्न का क्रमांक अवश्य लिखें।
- इस प्रश्न-पत्र को पढ़ने के लिए 15 मिनट का समय दिया गया है। प्रश्न-पत्र का वितरण पूर्वाह्न में 10.15 बजे किया जाएगा। 10.15 बजे से 10.30 बजे तक छात्र केवल प्रश्न-पत्र को पढ़ेंगे और इस अवधि के दौरान वे उत्तर-पुस्तिका पर कोई उत्तर नहीं लिखेंगे।
- Please check that this question paper contains 12 printed pages.
- Code number given on the right hand side of the question paper should be written on the title page of the answer-book by the candidate.
- Please check that this question paper contains 13 questions.
- **Please write down the Serial Number of the question in the answer-book before attempting it.**
- 15 minute time has been allotted to read this question paper. The question paper will be distributed at 10.15 a.m. From 10.15 a.m. to 10.30 a.m., the students will read the question paper only and will not write any answer on the answer-book during this period.



अर्थशास्त्र ECONOMICS

निर्धारित समय : 2 घण्टे

Time allowed : 2 hours

अधिकतम अंक : 40

Maximum Marks : 40

58/1/1

278 A

1

P.T.O.

सामान्य निर्देश :

- (i) इस प्रश्न-पत्र में कुल **13** प्रश्न हैं।
- (ii) सभी प्रश्न अनिवार्य हैं। प्रत्येक प्रश्न के समक्ष अंक अंकित किए गए हैं।
- (iii) इस प्रश्न-पत्र में **2** अंकों के **5** प्रश्न, **3** अंकों के **5** प्रश्न तथा **5** अंकों के **3** प्रश्न हैं।
- (iv) **2** अंकों वाले प्रश्न लघु-उत्तरीय प्रश्न हैं तथा इनके उत्तर **30-50** शब्दों में दीजिए।
- (v) **3** अंकों वाले प्रश्न लघु-उत्तरीय प्रश्न हैं तथा इनके उत्तर **50-80** शब्दों में दीजिए।
- (vi) **5** अंकों वाले प्रश्न दीर्घ-उत्तरीय प्रश्न हैं तथा इनके उत्तर **80-120** शब्दों में दीजिए।
- (vii) प्रश्न-पत्र में किसी भी प्रकार का समग्र विकल्प नहीं है। हालाँकि, कुछ प्रश्नों में आंतरिक विकल्प दिए गए हैं। परीक्षार्थी इन प्रश्नों में से केवल एक प्रश्न का ही उत्तर दें।
- (viii) इस प्रश्न-पत्र में केस/स्रोत आधारित प्रश्न भी हैं।

1. (a) उपयुक्त उदाहरण द्वारा, सकारात्मक बाध्यताओं और नकारात्मक बाध्याताओं में अंतर स्पष्ट करें। **2**
अथवा
(b) उपयुक्त उदाहरण द्वारा, स्टॉक चरों व प्रवाह चरों में अंतर स्पष्ट करें। **2**
2. मान्य तर्क द्वारा निम्नलिखित कथन की पुष्टि करें :
'सामान्यतः आय के उच्च स्तर पर लोगों की सीमांत उपभोग प्रवृत्ति कम होती है।' **2**
3. (a) वैश्विक उष्णता के किन्हीं दो हानिकारक प्रभावों का उल्लेख करें। **2**
अथवा
(b) 'सतत् विकास' के किन्हीं दो लाभों का उल्लेख करें। **2**



General Instructions :

- (i) This question paper contains **13** questions.
- (ii) **All** questions are compulsory. Marks are indicated against each question.
- (iii) This question paper contains **5** questions of **2** marks each, **5** questions of **3** marks each and **3** questions of **5** marks each.
- (iv) **2** marks questions are Short Answer Type questions and are to be answered in **30 – 50** words.
- (v) **3** marks questions are Short Answer Type questions and are to be answered in **50 – 80** words.
- (vi) **5** marks questions are Long Answer Type questions and are to be answered in **80 – 120** words.
- (vii) There is no overall choice in the question paper. However, internal choice has been provided in few questions. The candidates need to attempt only one question from such questions.
- (viii) This question paper contains Case/Source Based Question also.

1. (a) Using a suitable example, distinguish between positive externalities and negative externalities. **2**

OR

- (b) Using a suitable example, distinguish between stock variables and flow variables. **2**

2. Justify the following statement with valid argument :
'At higher levels of income people generally have lower Marginal Propensity to Consume (MPC). **2**

3. (a) State any two harmful effects of Global warming. **2**

OR

- (b) State any two advantages of 'sustainable development'. **2**



4. (a) एक काल्पनिक अर्थव्यवस्था के लिये आय के संतुलन स्तर की गणना करें, जिसके बारे में यह ज्ञात है, कि :

(i) स्वायत्त निवेश (I_0) = ₹ 2,500 करोड़, तथा

(ii) उपभोग फलन; $C = 1000 + 0.8Y$

जहाँ C = उपभोग व Y = आय

2

अथवा

- (b) एक काल्पनिक अर्थव्यवस्था के लिए, आय में परिवर्तन (ΔY) की गणना करें, जिसके बारे में यह ज्ञात है, कि :

(i) सीमांत उपभोग प्रवृत्ति (MPC) = 0.75, तथा

(ii) निवेश में परिवर्तन (ΔI) = ₹ 20,000 करोड़

2

5. किसी राष्ट्र में जैसे-जैसे आय में वृद्धि होती है, बुनियादी ढाँचे की संरचना की आवश्यकताओं में काफी परिवर्तन आता है ।

क्या आप दिए गए कथन से सहमत हैं ? उपयुक्त तर्क द्वारा अपने उत्तर का समर्थन करें ।

2

6. (a) एक काल्पनिक अर्थव्यवस्था में मौद्रिक सकल घरेलू उत्पाद के मूल्य का अनुमान लगाएँ, जबकि यह ज्ञात है कि वास्तविक सकल घरेलू उत्पाद व मूल्य सूचकांक क्रमशः ₹ 500 करोड़ व 125 हैं ।

3

अथवा

- (b) मान्य कारणों द्वारा स्पष्ट करें कि, निम्नलिखित में से क्या भारत की राष्ट्रीय आय में सम्मिलित नहीं होंगे ?

(i) बॉम्बे स्टॉक बाजार में सेठी लिमिटेड के अंशों (Shares) की एक निवेशक द्वारा खरीद ।

(ii) जापान स्थित भारतीय दूतावास द्वारा स्थानीय श्रमिकों को वेतन का भुगतान ।

(iii) पूँजीगत संपत्तियों पर फर्मों द्वारा लगाया गया मूल्यहास

3



4. (a) Calculate equilibrium level of income for a hypothetical economy, for which it is given that :

(i) Autonomous Investments (I_o) = ₹ 2,500 crores, and

(ii) Consumption Function; $C = 1000 + 0.8Y$

where C = Consumption and Y = Income

2

OR

- (b) Calculate, change in Income (ΔY) for a hypothetical economy, for which it is given that :

(i) Marginal Propensity to Consume (MPC) = 0.75, and

(ii) Change in Investments (ΔI) = ₹ 20,000 crores.

2

5. 'In any country, as the income rises the composition of infrastructure requirements changes significantly.'

Do you agree with the given statement ? Support your answer with suitable argument.

2

6. (a) Estimate the value of Nominal Gross Domestic Product (GDP) for a hypothetical economy. The values of Real Gross Domestic Product (GDP) and Price Index are given as ₹ 500 crores and 125 respectively.

3

OR

- (b) Giving valid reasons explain, which of the following will not be included in the estimation of National Income of India ?

(i) Purchase of shares of Sethi Ltd. by an investor in the Bombay Stock Exchange.

(ii) Salaries paid by Indian Embassy situated at Japan, to the local workers.

(iii) Depreciation on capital assets charged by firms.

3



7. दी गई अनुसूची में से किन्हीं दो संकेतकों के आधार पर भारत और श्रीलंका की स्वास्थ्य स्थिति की तुलना और विश्लेषण करें :

अन्य राष्ट्रों के साथ भारत की तुलना (स्वास्थ्य संकेतक) (2015-17)

3

क्रम संख्या	संकेतक	भारत	चीन	अमेरिका	श्रीलंका
(i)	शिशु मृत्यु दर /1000 जीवित जन्म	34	8	5.7	7.5
(ii)	5 वर्ष से कम मृत्यु दर /1000 जीवित जन्म	39.4	9.3	6.6	8.8
(iii)	शिशुओं का टीकाकरण (DTP) %	88	99	95	99
(iv)	सरकारी स्वास्थ्य व्यय (GDP के % के रूप में)	3.9	5.7	16.8	3

स्रोत : HDI 2018 व WDI 2018

8. एक काल्पनिक उदाहरण द्वारा, एक अर्थव्यवस्था में निवेश गुणक की कार्यप्रणाली की विवेचना करें ।

3

9. (a) (i) निम्नलिखित आँकड़ों के आधार पर, साधन लागत पर सकल राष्ट्रीय उत्पाद के मूल्य की गणना करें :

3

क्रम सं.	चर	राशि (₹ करोड़ में)
(i)	श्रमिकों का पारिश्रमिक	12,000
(ii)	किराया व ब्याज	1,800
(iii)	अप्रत्यक्ष कर	1,120
(iv)	लाभ	1,500
(v)	मूल्यहास	1,100
(vi)	उपदान	210
(vii)	विदेशों से प्राप्त शुद्ध साधन आय	(-) 120
(viii)	स्वनियोजितों की मिश्रित आय	1,300

- (ii) किराया व रॉयल्टी में विभेद करें ।

2

अथवा



7. Compare and analyse the health status of India and Sri Lanka, on the basis of any two indicators from the given schedule : 3

Indicators of Health in India in Comparison with other nations, 2015-17.

S. No.	Indicators	India	China	USA	Sri Lanka
(i)	Infant Mortality Rate/1000 live births	34	8	5.7	7.5
(ii)	Under-5, Mortality Rate/1000 live births	39.4	9.3	6.6	8.8
(iii)	Infants Immunised (DTP) in %	88	99	95	99
(iv)	Government Health spendings as a % of GDP	3.9	5.7	16.8	3

Sources : HDI 2018 and WDI 2018

8. Using a hypothetical example, elaborate the working of investment multiplier in an economy. 3
9. (a) (i) From the following data, calculate the value of Gross National Product at Factor Cost (GNP_{FC}) : 3

S. No.	Items	Amount in (₹ Crores)
(i)	Compensation of Employees	12,000
(ii)	Rent and Interest	1,800
(iii)	Indirect taxes	1,120
(iv)	Profits	1,500
(v)	Depreciation	1,100
(vi)	Subsidies	210
(vii)	Net Factor Income from Abroad	(-) 120
(viii)	Mixed Income of Self Employed	1,300

- (ii) Distinguish between Rent and Royalty. 2

OR



- (b) (i) दिए गए आँकड़ों के आधार पर, साधन लागत पर शुद्ध मूल्य वृद्धि की गणना करें : 3

क्रम सं.	चर	राशि(₹' 000 में)
(i)	बाजार में चावल का विक्रय	580
(ii)	ट्रैक्टर व थ्रेशर का क्रय	400
(iii)	सरकार द्वारा चावल का क्रय	20
(iv)	वर्ष के दौरान चावल का स्व-उपभोग	15
(v)	ट्रैक्टर व थ्रेशर के संचालन व रखरखाव पर व्यय	20
(vi)	सरकार द्वारा प्राप्त उर्वरक उपदान	3

- (ii) 'उत्पादन के मूल्य' व 'मूल्य वर्धन' में विभेद करें। 2

10. 'मार्च 2020 में कोविड तालाबंदी उपरांत भारत माँग में कमी की समस्या से जूझ रहा है।' भारत में माँग की कमी की स्थिति से निपटने के लिए किन्हीं दो मौद्रिक नीति उपायों का उल्लेख व वर्णन करें। 5

11. (i) "हाल के दिनों में भारत सरकार ने भारतीय चिकित्सा पद्धति को पुनर्जीवित व लोकप्रिय करने के लिए महत्वपूर्ण कदम उठाए हैं।"

क्या आप दिए गए कथन से सहमत हैं ? मान्य कारणों द्वारा अपने उत्तर की पुष्टि करें। 2

- (ii) "कार्यबल का अनऔपचारिकरण भारतीय अर्थव्यवस्था की एक चिरस्थायी समस्या रही है।" मान्य तर्कों द्वारा दिए गए कथन की पुष्टि करें। 3

निम्नलिखित गद्य का ध्यानपूर्वक अध्ययन करें तथा प्रश्न संख्या 12 व 13 के उत्तर दें :

चीन की अर्थव्यवस्था में बाजार की अपेक्षा से अधिक मंदी का खतरा – ब्लूमबर्ग, 24 अक्टूबर, 2021

चीन की अर्थव्यवस्था में मंदी का भय वैश्विक निवेशकों की आशंका से अधिक है। चीन अपनी रियल एस्टेट (Real Estate) पर निर्भरता कम करने का प्रयास कर रहा है। विद्युत की कमी व महामारी के कारण, चीन ने शिक्षा से लेकर प्रौद्योगिकी क्षेत्रों को विनियमित करना आरंभ कर दिया है।



- (b) (i) Calculate the value of 'Net Value Added at Factor Cost' (NVA_{FC}) using the given data :

3

S. No.	Items	Amount in (₹ '000)
(i)	Sale of Rice in the market.	580
(ii)	Purchase of Tractor and Thrasher	400
(iii)	Procurement of Rice by the government	20
(iv)	Self consumption of Rice during the year	15
(v)	Expenditure on running and maintenance of Tractor and Thrasher	20
(vi)	Fertilizer subsidies received from the government	3

- (ii) Distinguish between 'value of output' and 'value addition'.

2

10. 'India has been dealing with the problem of Deficient Demand, since the imposition of Covid lockdown in March 2020'.

State and discuss any two monetary policy measures to combat the situation of Deficient Demand in India.

5

11. (i) 'In the recent past the Government of India has taken vital steps to revive and popularise Indian System of Medicine (ISM)'.

Do you agree with the given statement ? Justify your answer with valid reasons.

2

- (ii) 'Casualization of workforce has become a perennial problem of the Indian economy.' Justify the given statement with valid arguments.

3

Read the following text carefully and answer, Q. No.-12 and 13, given below :

Chinese Economy Risks Deeper Slowdown than Markets Realise – (Bloomberg, 24th October, 2021)

China's Economy risks slowdown faster than global investors realise. It is pushing to cut its dependence on real-estate. It has started regulating sectors from education to technology, as it is facing power shortage and the pandemic.



कई अर्थशास्त्रियों ने वर्तमान वर्ष में GDP वृद्धि दर के 8.2% तक तथा आगामी वर्ष में 5% से नीचे आने की चेतावनी दी है।

चीन अब, ऋण वृद्धि को स्थिर करने, असमानता पर अंकुश लगाने व संसाधनों को अत्याधुनिक विनिर्माण में लगाने की योजना बना रहा है। गत सप्ताह जारी किये गये आँकड़ों में, तीसरी तिमाही में GDP वृद्धि दर गत तिमाही के 7.9% से गिर कर 4.9% दर्शायी गई है। विद्युत की कमी व आगामी दिनों में कोविड-19 में वृद्धि के कारण यह समस्या और अधिक हो सकती है।

महामारी से पूर्व, ऋण जोखिमों को कम करने के कारण पहले ही चीन धीमी विकास दर से अर्थशास्त्रियों को अचलित किए हुए था। चीन के प्रधानमंत्री ली केकियांग ने मार्च में आगामी वित्त वर्ष में 6% से अधिक के विकास लक्ष्य की घोषणा की है। चीन ने हाल के हफ्तों में, कुछ नीतियों में ढील देने के संकेत दिए हैं, जैसे कि बैंकों द्वारा ऋणों को अल्पकालिक प्रोत्साहन देना। पीपल्स बैंक ऑफ चाइना के गवर्नर यी गैंग ने हाल ही में कहा था कि, उन्हें इस वर्ष 8% की वृद्धि दर की उम्मीद है।

कोविड-19 का भय कम होने के साथ, चीन में मंदी आ रही है। चीन में निवेश गिरने से, वस्तु निर्यातक राष्ट्रों जैसे दक्षिण अफ्रीका, ऑस्ट्रेलिया, चिली, पेरू व ब्राजील जैसे राष्ट्रों में भी जोखिम दिखाई दे रहा है। धीमा व्यापार मलेशिया, सिंगापुर व थाईलैंड जैसे राष्ट्रों को भी प्रभावित कर सकता है।

एक अन्य भय यह भी है कि, चीन के नीति निर्माताओं को वापस विकास पथ पर आने के लिए संघर्ष करना पड़ सकता है। अर्थशास्त्रियों के अनुसार विद्युत की कमी जो कि औद्योगिक उत्पादन को कम कर रही है, बुनियादी संरचना में निवेश में वृद्धि को भी कम कर देगी। इस प्रकार की नीति अगले वर्ष तभी काम कर सकती है जबकि विद्युत की किल्लत कम होगी।

- | | |
|---|---|
| 12. चीनी अर्थव्यवस्था में मंदी दर्शाने वाले किन्हीं दो कारणों का उल्लेख व वर्णन करें। | 3 |
| 13. ऐसे किन्हीं दो उपायों की व्याख्या करें, जिन्हें आप चीन के आर्थिक सलाहकार के रूप में बता सकते हैं। | 3 |



Many economists have warned that the GDP growth rate will fall to 8.2% this year and to below 5% in the next year.

China is now planning to stabilise debt growth, curb inequality and channelise resources into hi-tech manufacturing. Data released in last week already showed a sharp slowdown in third quarter GDP growth to 4.9% from 7.9% in the previous quarter. There is more pain likely to come as electricity shortage persist, while new COVID-19 infections are expected to rise in coming days.

Even before the pandemic hit, China was surprising economists with slower-than-expected growth rate caused by the easing off debt risks. China's Premier Li Keqiang, announced in March a growth target of "above 6%" in the coming financial year.

China has signalled, in recent weeks that it could loosen some policies like telling banks to pick up the pace of mortgage lending as a short term stimulus. Governor of People's Bank of China Yi Gang, recently said he sees an expansion of about 8% for this year.

China's slowdown comes as the global recovery from COVID-19 risks loses momentum. Among those at risks from falling investments in China are commodity exporters like Australia, South Africa, Chile, Peru and Brazil. Slower trades could also hit countries like Malaysia, Singapore and Thailand.

The other risk is that China's policy-makers may struggle to flick the switch back to growth model if they feel that's needed. Economists noted that the electricity shortages that are crimping industrial production will make it harder to cushion growth by boosting investment in infrastructure. That kind of policy could only work next year once the power crunch eases.

12. State and discuss any two reasons that exhibit slowdown in the Chinese economy. 3
13. Discuss briefly any two measures, which you may suggest as an economic advisor to the government of China. 3



Series : AAB3/1



SET-2

प्रश्न-पत्र कोड नं. **58/1/2**
Question Paper Code No.

रोल नं.

Roll No.

--	--	--	--	--	--	--	--

परीक्षार्थी कोड को उत्तर-पुस्तिका के मुख-पृष्ठ पर अवश्य लिखें।

Candidates must write the Code on the title page of the answer-book.

- कृपया जाँच कर लें कि इस प्रश्न-पत्र में मुद्रित पृष्ठ 12 हैं।
- प्रश्न-पत्र में दाहिने हाथ की ओर दिए गए कोड नम्बर को छात्र उत्तर-पुस्तिका के मुख-पृष्ठ पर लिखें।
- कृपया जाँच कर लें कि इस प्रश्न-पत्र में 13 प्रश्न हैं।
- कृपया प्रश्न का उत्तर लिखना शुरू करने से पहले, उत्तर-पुस्तिका में प्रश्न का क्रमांक अवश्य लिखें।
- इस प्रश्न-पत्र को पढ़ने के लिए 15 मिनट का समय दिया गया है। प्रश्न-पत्र का वितरण पूर्वाह्न में 10.15 बजे किया जाएगा। 10.15 बजे से 10.30 बजे तक छात्र केवल प्रश्न-पत्र को पढ़ेंगे और इस अवधि के दौरान वे उत्तर-पुस्तिका पर कोई उत्तर नहीं लिखेंगे।
- Please check that this question paper contains 12 printed pages.
- Code number given on the right hand side of the question paper should be written on the title page of the answer-book by the candidate.
- Please check that this question paper contains 13 questions.
- **Please write down the Serial Number of the question in the answer-book before attempting it.**
- 15 minute time has been allotted to read this question paper. The question paper will be distributed at 10.15 a.m. From 10.15 a.m. to 10.30 a.m., the students will read the question paper only and will not write any answer on the answer-book during this period.



अर्थशास्त्र ECONOMICS

निर्धारित समय : 2 घण्टे

Time allowed : 2 hours

अधिकतम अंक : 40

Maximum Marks : 40

58/1/2

278 B

1

P.T.O.

सामान्य निर्देश :

- (i) इस प्रश्न-पत्र में कुल 13 प्रश्न हैं।
- (ii) सभी प्रश्न अनिवार्य हैं। प्रत्येक प्रश्न के समक्ष अंक अंकित किए गए हैं।
- (iii) इस प्रश्न-पत्र में 2 अंकों के 5 प्रश्न, 3 अंकों के 5 प्रश्न तथा 5 अंकों के 3 प्रश्न हैं।
- (iv) 2 अंकों वाले प्रश्न लघु-उत्तरीय प्रश्न हैं तथा इनके उत्तर 30-50 शब्दों में दीजिए।
- (v) 3 अंकों वाले प्रश्न लघु-उत्तरीय प्रश्न हैं तथा इनके उत्तर 50-80 शब्दों में दीजिए।
- (vi) 5 अंकों वाले प्रश्न दीर्घ-उत्तरीय प्रश्न हैं तथा इनके उत्तर 80-120 शब्दों में दीजिए।
- (vii) प्रश्न-पत्र में किसी भी प्रकार का समग्र विकल्प नहीं है। हालाँकि, कुछ प्रश्नों में आंतरिक विकल्प दिए गए हैं। परीक्षार्थी इन प्रश्नों में से केवल एक प्रश्न का ही उत्तर दें।
- (viii) इस प्रश्न-पत्र में केस/स्रोत आधारित प्रश्न भी हैं।

1. (a) वैश्विक उष्णता के किन्हीं दो हानिकारक प्रभावों का उल्लेख करें। 2
अथवा
(b) 'सतत् विकास' के किन्हीं दो लाभों का उल्लेख करें। 2
2. मान्य तर्क द्वारा निम्नलिखित कथन की पुष्टि करें :
'सामान्यतः आय के उच्च स्तर पर लोगों की सीमांत उपभोग प्रवृत्ति कम होती है।' 2
3. (a) उपयुक्त उदाहरण द्वारा, सकारात्मक बाध्यताओं और नकारात्मक बाध्याताओं में अंतर स्पष्ट करें। 2
अथवा
(b) उपयुक्त उदाहरण द्वारा, स्टॉक चरों व प्रवाह चरों में अंतर स्पष्ट करें। 2



General Instructions :

- (i) This question paper contains **13** questions.
- (ii) **All** questions are compulsory. Marks are indicated against each question.
- (iii) This question paper contains **5** questions of **2** marks each, **5** questions of **3** marks each and **3** questions of **5** marks each.
- (iv) **2** marks questions are Short Answer Type questions and are to be answered in **30 – 50** words.
- (v) **3** marks questions are Short Answer Type questions and are to be answered in **50 – 80** words.
- (vi) **5** marks questions are Long Answer Type questions and are to be answered in **80 – 120** words.
- (vii) There is no overall choice in the question paper. However, internal choice has been provided in few questions. The candidates need to attempt only one question from such questions.
- (viii) This question paper contains Case/Source Based Question also.

1. (a) State any two harmful effects of Global warming. **2**

OR

- (b) State any two advantages of 'sustainable development'. **2**

2. Justify the following statement with valid argument :

'At higher levels of income people generally have lower Marginal Propensity to Consume (MPC). **2**

3. (a) Using a suitable example, distinguish between positive externalities and negative externalities. **2**

OR

- (b) Using a suitable example, distinguish between stock variables and flow variables. **2**



4. किसी राष्ट्र में जैसे-जैसे आय में वृद्धि होती है, बुनियादी ढाँचे की संरचना की आवश्यकताओं में काफी परिवर्तन आता है।
क्या आप दिए गए कथन से सहमत हैं ? उपयुक्त तर्क द्वारा अपने उत्तर का समर्थन करें। 2
5. (a) एक काल्पनिक अर्थव्यवस्था के लिये आय के संतुलन स्तर की गणना करें, जिसके बारे में यह ज्ञात है, कि :
(i) स्वायत्त निवेश (I_0) = ₹ 20,000 करोड़ तथा
(ii) उपभोग फलन; $C = 4000 + 0.8Y$,
जहाँ C = उपभोग व Y = आय 2
- अथवा**
- (b) एक काल्पनिक अर्थव्यवस्था के लिए, आय में परिवर्तन (ΔY) की गणना करें, जिसके बारे में यह ज्ञात है, कि :
(i) सीमांत बचत प्रवृत्ति (MPS) = 0.25, तथा
(ii) निवेश में परिवर्तन (ΔI) = ₹ 10,000 करोड़ 2
6. (a) एक काल्पनिक अर्थव्यवस्था में मौद्रिक सकल घरेलू उत्पाद के मूल्य की गणना करें, जबकि यह ज्ञात है कि वास्तविक सकल घरेलू उत्पाद व मूल्य सूचकांक क्रमशः ₹ 1,000 करोड़ व 250 हैं। 3
- अथवा**
- (b) मान्य कारणों द्वारा स्पष्ट करें कि, निम्नलिखित में से क्या भारत की राष्ट्रीय आय में सम्मिलित नहीं होंगे ?
(i) बॉम्बे स्टॉक बाजार में अंशों (Shares) की एक निवेशक द्वारा खरीद।
(ii) रूस में भारतीय दूतावास में कार्यरत रूसियों को वेतन का भुगतान।
(iii) स्वयं निवासरत घरों का आरोपित किराया 3
7. एक काल्पनिक उदाहरण द्वारा, एक अर्थव्यवस्था में निवेश गुणक की कार्यप्रणाली की विवेचना करें। 3



4. 'In any country, as the income rises the composition of infrastructure requirements changes significantly.'

Do you agree with the given statement ? Support your answer with suitable argument.

2

5. (a) Calculate equilibrium level of income for a hypothetical economy for which it is given that :

(i) Autonomous Investment (I_0) = ₹ 20,000 crores, and

(ii) Consumption function; $C = 4000 + 0.8Y$

Where C = Consumption and Y = Income.

2

OR

- (b) Calculate, change of income (ΔY) for a hypothetical economy, for which it is given that :

(i) Marginal Propensity to Save (MPS) = 0.25, and

(ii) Change in Investments (ΔI) = ₹ 10,000 crores.

2

6. (a) Calculate the value of Nominal Gross Domestic Product (GDP) for a hypothetical economy. The values of Real Gross Domestic Product (GDP) and Price Index are given as ₹ 1,000 crores and 250 respectively.

3

OR

- (b) Giving valid reasons explain, which of the following will not be included in the estimation of National Income in India ?

3

(i) Purchase of shares by an investor in the Bombay Stock Exchange.

(ii) Salaries paid to Russians working in Indian Embassy in Russia.

(iii) Imputed rent of self occupied houses.

7. Using a hypothetical example, elaborate the working of investment multiplier in an economy.

3



8. दी गई अनुसूची में से किन्हीं दो संकेतकों के आधार पर भारत और अमेरिका की स्वास्थ्य स्थिति की तुलना और विश्लेषण करें :

अन्य राष्ट्रों के साथ भारत की तुलना (स्वास्थ्य संकेतक) (2015-17)

3

क्रम संख्या	संकेतक	भारत	चीन	अमेरिका	श्रीलंका
(i)	शिशु मृत्यु दर /1000 जीवित जन्म	34	8	5.7	7.5
(ii)	5 वर्ष से कम मृत्यु दर /1000 जीवित जन्म	39.4	9.3	6.6	8.8
(iii)	शिशुओं का टीकाकरण (DTP) % में	88	99	95	99
(iv)	सरकारी स्वास्थ्य व्यय (GDP के % के रूप में)	3.9	5.7	16.8	3

स्रोत : HDI 2018 व WDI 2018

9. 'कीन्स ने अर्थव्यवस्था में प्रचलित स्फीतिकारी अंतराल की स्थिति से निपटने के लिए विभिन्न उपकरणों के उपयोग का सुझाव दिया था ।'

एक काल्पनिक अर्थव्यवस्था में स्फीतिकारी अंतराल की स्थिति से बचने के लिए किन्हीं दो मौद्रिक नीति उपायों का उल्लेख व वर्णन करें ।

5

10. (a) (i) निम्नलिखित आँकड़ों के आधार पर, साधन लागत पर सकल राष्ट्रीय उत्पाद के मूल्य की गणना करें :

3

क्रम सं.	चर	राशि (₹ करोड़ में)
(i)	श्रमिकों का पारिश्रमिक	12,000
(ii)	किराया व ब्याज	1,800
(iii)	अप्रत्यक्ष कर	1,120
(iv)	लाभ	1,500
(v)	मूल्यहास	1,100
(vi)	उपदान	210
(vii)	विदेशों से प्राप्त शुद्ध साधन आय	(-) 120
(viii)	स्वनियोजितों की मिश्रित आय	1,300

- (ii) किराया व रॉयल्टी में विभेद करें ।

2

अथवा



8. Compare and analyse the health status of India and USA, on the basis of any two indicators from the given schedule : 3

Indicators of Health in India in Comparison with other nations, 2015-17.

S. No.	Indicators	India	China	USA	Sri Lanka
(i)	Infant Mortality Rate/1000 live Births	34	8	5.7	7.5
(ii)	Under-5, Mortality Rate/1000 live Births	39.4	9.3	6.6	8..8
(iii)	Infants Immunised (DTP) in %	88	99	95	99
(iv)	Government Health spending as a % of GDP	3.9	5.7	16.8	3

Sources : HDI 2018 and WDI 2018.

9. 'Keynes suggested the use of various tools to deal with the situation of Inflationary Gap prevailing in an economy.
State and discuss any two monetary policy measures to combat the situation of Inflationary gap in a hypothetical economy. 5
10. (a) (i) From the following data, calculate the value of Gross National Product at Factor Cost (GNP_{FC}) : 3

S. No.	Items	Amount in (₹ Crores)
(i)	Compensation of Employees	12,000
(ii)	Rent and Interest	1,800
(iii)	Indirect taxes	1,120
(iv)	Profits	1,500
(v)	Depreciation	1,100
(vi)	Subsidies	210
(vii)	Net Factor Income from Abroad	(-) 120
(viii)	Mixed Income of Self Employed	1,300

- (ii) Distinguish between Rent and Royalty. 2

OR



- (b) (i) दिए गए आँकड़ों के आधार पर, साधन लागत पर शुद्ध मूल्य वृद्धि की गणना करें :

3

क्रम सं.	चर	राशि(₹' 000 में)
(i)	बाजार में चावल का विक्रय	580
(ii)	ट्रैक्टर व श्रेशर का क्रय	400
(iii)	सरकार द्वारा चावल का क्रय	20
(iv)	वर्ष के दौरान चावल का स्व-उपभोग	15
(v)	ट्रैक्टर व श्रेशर के संचालन व रखरखाव पर व्यय	20
(vi)	सरकार द्वारा प्राप्त उर्वरक उपदान	3

- (ii) 'उत्पादन के मूल्य' व 'मूल्य वर्धन' में विभेद करें ।

2

11. (i) “हाल के दिनों में भारत सरकार ने भारतीय चिकित्सा पद्धति को पुनर्जीवित व लोकप्रिय करने के लिए महत्वपूर्ण कदम उठाए हैं ।”

क्या आप दिए गए कथन से सहमत हैं ? मान्य कारणों द्वारा अपने उत्तर की पुष्टि करें ।

2

- (ii) “कार्यबल का अनऔपचारिकरण भारतीय अर्थव्यवस्था की एक चिरस्थायी समस्या रही है ।” मान्य तर्कों द्वारा दिए गए कथन की पुष्टि करें ।

3

निम्नलिखित गद्य का ध्यानपूर्वक अध्ययन करें तथा प्रश्न संख्या 12 व 13 के उत्तर दें :

चीन की अर्थव्यवस्था में बाजार की अपेक्षा से अधिक मंदी का खतरा – ब्लूमबर्ग, 24 अक्टूबर, 2021

चीन की अर्थव्यवस्था में मंदी का भय वैश्विक निवेशकों की आशंका से अधिक है । चीन अपनी रियल एस्टेट (Real Estate) पर निर्भरता कम करने का प्रयास कर रहा है । विद्युत की कमी व महामारी के कारण, चीन ने शिक्षा से लेकर प्रौद्योगिकी क्षेत्रों को विनियमित करना आरंभ कर दिया है ।

कई अर्थशास्त्रियों ने वर्तमान वर्ष में GDP वृद्धि दर के 8.2% तक तथा आगामी वर्ष में 5% से नीचे आने की चेतावनी दी है ।



- (b) (i) Calculate the value of 'Net Value Added at Factor Cost' (NVA_{FC}) using the given data :

3

S. No.	Items	Amount in (₹ '000)
(i)	Sale of Rice in the market.	580
(ii)	Purchase of Tractor and Thrasher	400
(iii)	Procurement of Rice by the government	20
(iv)	Self consumption of Rice during the year	15
(v)	Expenditure on running and maintenance of Tractor and Thrasher	20
(vi)	Fertilizer subsidies received from the government	3

- (ii) Distinguish between 'value of output' and 'value addition'.

2

11. (i) 'In the recent past the Government of India has taken vital steps to revive and popularise Indian System of Medicine (ISM)'.

Do you agree with the given statement ? Justify your answer with valid reasons.

2

- (ii) 'Casualization of workforce has become a perennial problem of the Indian economy.' Justify the given statement with valid arguments.

3

Read the following text carefully and answer, Q. No.-12 and 13, given below :

Chinese Economy Risks Deeper Slowdown than Markets Realise – (Bloomberg, 24th October, 2021)

China's Economy risks slowdown faster than global investors realise. It is pushing to cut its dependence on real-estate. It has started regulating sectors from education to technology, as it is facing power shortage and the pandemic.

Many economists have warned that the GDP growth rate will fall to 8.2% this year and to below 5% in the next year.



चीन अब, ऋण वृद्धि को स्थिर करने, असमानता पर अंकुश लगाने व संसाधनों को अत्याधुनिक विनिर्माण में लगाने की योजना बना रहा है। गत सप्ताह जारी किये गये आँकड़ों में, तीसरी तिमाही में GDP वृद्धि दर गत तिमाही के 7.9% से गिर कर 4.9% दर्शायी गई है। विद्युत की कमी व आगामी दिनों में कोविड-19 में वृद्धि के कारण यह समस्या और अधिक हो सकती है।

महामारी से पूर्व, ऋण जोखिमों को कम करने के कारण पहले ही चीन धीमी विकास दर से अर्थशास्त्रियों को अचलित किए हुए था। चीन के प्रधानमंत्री ली केकियांग ने मार्च में आगामी वित्त वर्ष में 6% से अधिक के विकास लक्ष्य की घोषणा की है। चीन ने हाल के हफ्तों में, कुछ नीतियों में ढील देने के संकेत दिए हैं, जैसे कि बैंकों द्वारा ऋणों को अल्पकालिक प्रोत्साहन देना। पीपल्स बैंक ऑफ चाइना के गवर्नर यी गेंग ने हाल ही में कहा था कि, उन्हें इस वर्ष 8% की वृद्धि दर की उम्मीद है।

कोविड-19 का भय कम होने के साथ, चीन में मंदी आ रही है। चीन में निवेश गिरने से, वस्तु निर्यातक राष्ट्रों जैसे दक्षिण अफ्रीका, ऑस्ट्रेलिया, चिली, पेरू व ब्राजील जैसे राष्ट्रों में भी जोखिम दिखाई दे रहा है। धीमा व्यापार मलेशिया, सिंगापुर व थाईलैंड जैसे राष्ट्रों को भी प्रभावित कर सकता है।

एक अन्य भय यह भी है कि, चीन के नीति निर्माताओं को वापस विकास पथ पर आने के लिए संघर्ष करना पड़ सकता है। अर्थशास्त्रियों के अनुसार विद्युत की कमी जो कि औद्योगिक उत्पादन को कम कर रही है, बुनियादी संरचना में निवेश में वृद्धि को भी कम कर देगी। इस प्रकार की नीति अगले वर्ष तभी काम कर सकती है जबकि विद्युत की किल्लत कम होगी।

12. चीनी अर्थव्यवस्था में मंदी दर्शाने वाले किन्हीं दो कारणों का उल्लेख व वर्णन करें। 3
13. ऐसे किन्हीं दो उपायों की व्याख्या करें, जिन्हें आप चीन के आर्थिक सलाहकार के रूप में बता सकते हैं। 3



China is now planning to stabilise debt growth, curb inequality and channelise resources into hi-tech manufacturing. Data released in last week already showed a sharp slowdown in third quarter GDP growth to 4.9% from 7.9% in the previous quarter. There is more pain likely to come as electricity shortage persist, while new COVID-19 infections are expected to rise in coming days.

Even before the pandemic hit, China was surprising economists with slower-than-expected growth rate caused by the easing off debt risks. China's Premier Li Keqiang, announced in March a growth target of "above 6%" in the coming financial year.

China has signalled, in recent weeks that it could loosen some policies like telling banks to pick up the pace of mortgage lending as a short term stimulus. Governor of People's Bank of China Yi Gang, recently said he sees an expansion of about 8% for this year.

China's slowdown comes as the global recovery from COVID-19 risks loses momentum. Among those at risks from falling investments in China are commodity exporters like Australia, South Africa, Chile, Peru and Brazil. Slower trades could also hit countries like Malaysia, Singapore and Thailand.

The other risk is that China's policy-makers may struggle to flick the switch back to growth model if they feel that's needed. Economists noted that the electricity shortages that are crimping industrial production will make it harder to cushion growth by boosting investment in infrastructure. That kind of policy could only work next year once the power crunch eases.

12. State and discuss any two reasons that exhibit slowdown in the Chinese economy. 3
13. Discuss briefly any two measures, which you may suggest as an economic advisor to the government of China. 3



Series : AAB3/1



SET-3

प्रश्न-पत्र कोड नं. **58/1/3**
Question Paper Code No.

रोल नं.

Roll No.

--	--	--	--	--	--	--	--

परीक्षार्थी कोड को उत्तर-पुस्तिका के मुख-पृष्ठ पर अवश्य लिखें।

Candidates must write the Code on the title page of the answer-book.

- कृपया जाँच कर लें कि इस प्रश्न-पत्र में मुद्रित पृष्ठ 12 हैं।
- प्रश्न-पत्र में दाहिने हाथ की ओर दिए गए कोड नम्बर को छात्र उत्तर-पुस्तिका के मुख-पृष्ठ पर लिखें।
- कृपया जाँच कर लें कि इस प्रश्न-पत्र में 13 प्रश्न हैं।
- कृपया प्रश्न का उत्तर लिखना शुरू करने से पहले, उत्तर-पुस्तिका में प्रश्न का क्रमांक अवश्य लिखें।
- इस प्रश्न-पत्र को पढ़ने के लिए 15 मिनट का समय दिया गया है। प्रश्न-पत्र का वितरण पूर्वाह्न में 10.15 बजे किया जाएगा। 10.15 बजे से 10.30 बजे तक छात्र केवल प्रश्न-पत्र को पढ़ेंगे और इस अवधि के दौरान वे उत्तर-पुस्तिका पर कोई उत्तर नहीं लिखेंगे।
- Please check that this question paper contains 12 printed pages.
- Code number given on the right hand side of the question paper should be written on the title page of the answer-book by the candidate.
- Please check that this question paper contains 13 questions.
- **Please write down the Serial Number of the question in the answer-book before attempting it.**
- 15 minute time has been allotted to read this question paper. The question paper will be distributed at 10.15 a.m. From 10.15 a.m. to 10.30 a.m., the students will read the question paper only and will not write any answer on the answer-book during this period.



अर्थशास्त्र ECONOMICS

निर्धारित समय : 2 घण्टे

Time allowed : 2 hours

अधिकतम अंक : 40

Maximum Marks : 40

58/1/3

278 C

1

P.T.O.

सामान्य निर्देश :

- (i) इस प्रश्न-पत्र में कुल **13** प्रश्न हैं।
- (ii) **सभी** प्रश्न अनिवार्य हैं। प्रत्येक प्रश्न के समक्ष अंक अंकित किए गए हैं।
- (iii) इस प्रश्न-पत्र में **2** अंकों के **5** प्रश्न, **3** अंकों के **5** प्रश्न तथा **5** अंकों के **3** प्रश्न हैं।
- (iv) **2** अंकों वाले प्रश्न लघु-उत्तरीय प्रश्न हैं तथा इनके उत्तर **30-50** शब्दों में दीजिए।
- (v) **3** अंकों वाले प्रश्न लघु-उत्तरीय प्रश्न हैं तथा इनके उत्तर **50-80** शब्दों में दीजिए।
- (vi) **5** अंकों वाले प्रश्न दीर्घ-उत्तरीय प्रश्न हैं तथा इनके उत्तर **80-120** शब्दों में दीजिए।
- (vii) प्रश्न-पत्र में किसी भी प्रकार का समग्र विकल्प नहीं है। हालाँकि, कुछ प्रश्नों में आंतरिक विकल्प दिए गए हैं। परीक्षार्थी इन प्रश्नों में से केवल एक प्रश्न का ही उत्तर दें।
- (viii) इस प्रश्न-पत्र में केस/स्रोत आधारित प्रश्न भी हैं।

1. मान्य तर्क द्वारा निम्नलिखित कथन की पुष्टि करें :

‘सामान्यतः आय के उच्च स्तर पर लोगों की सीमांत उपभोग प्रवृत्ति कम होती है।’ 2

2. (a) वैश्विक उष्णता के किन्हीं दो हानिकारक प्रभावों का उल्लेख करें। 2

अथवा

- (b) ‘सतत् विकास’ के किन्हीं दो लाभों का उल्लेख करें। 2

3. किसी राष्ट्र में जैसे-जैसे आय में वृद्धि होती है, बुनियादी ढाँचे की संरचना की आवश्यकताओं में काफी परिवर्तन आता है।

क्या आप दिए गए कथन से सहमत हैं ? उपयुक्त तर्क द्वारा अपने उत्तर का समर्थन करें। 2



General Instructions :

- (i) *This question paper contains **13** questions.*
- (ii) ***All** questions are compulsory. Marks are indicated against each question.*
- (iii) *This question paper contains **5** questions of **2** marks each, **5** questions of **3** marks each and **3** questions of **5** marks each.*
- (iv) ***2** marks questions are Short Answer Type questions and are to be answered in **30 – 50** words.*
- (v) ***3** marks questions are Short Answer Type questions and are to be answered in **50 – 80** words.*
- (vi) ***5** marks questions are Long Answer Type questions and are to be answered in **80 – 120** words.*
- (vii) *There is no overall choice in the question paper. However, internal choice has been provided in few questions. The candidates need to attempt only one question from such questions.*
- (viii) *This question paper contains Case/Source Based Question also.*

1. Justify the following statement with valid argument :

‘At higher levels of income people generally have lower Marginal Propensity to Consume (MPC).’

2

2. (a) State any two harmful effects of Global warming.

2

OR

- (b) State any two advantages of ‘sustainable development’.

2

3. ‘In any country, as the income rises the composition of infrastructure requirements changes significantly.’

Do you agree with the given statement ? Support your answer with suitable argument.

2



4. (a) उपयुक्त उदाहरण द्वारा, सकारात्मक बाध्यताओं और नकारात्मक बाध्यताओं में अंतर स्पष्ट करें। 2

अथवा

- (b) उपयुक्त उदाहरण द्वारा, स्टॉक चरों व प्रवाह चरों में अंतर स्पष्ट करें। 2

5. (a) एक काल्पनिक अर्थव्यवस्था के लिए आय के संतुलन स्तर की गणना करें, जिसके बारे में यह ज्ञात है कि :

(i) स्वायत्त निवेश (I_0) = ₹ 10,000 करोड़, तथा

(ii) उपभोग फलन; $C = 2000 + 0.75Y$;

जहाँ C = उपभोग व Y = आय

2

अथवा

- (b) एक काल्पनिक अर्थव्यवस्था के लिए आय में परिवर्तन (ΔY) की गणना करें, जिसके बारे में यह ज्ञात है, कि :

(i) निवेश में परिवर्तन (ΔI) = ₹ 5,000 करोड़

(ii) सीमांत उपभोग प्रवृत्ति (MPC) = 0.75

2

6. (a) एक काल्पनिक अर्थव्यवस्था में मौद्रिक सकल घरेलू उत्पाद के मूल्य का अनुमान लगाएँ, जबकि यह ज्ञात है कि वास्तविक सकल घरेलू उत्पाद व मूल्य सूचकांक क्रमशः ₹ 500 करोड़ व 125 हैं। 3

अथवा

- (b) मान्य कारणों द्वारा स्पष्ट करें कि, निम्नलिखित में से क्या भारत की राष्ट्रीय आय में सम्मिलित नहीं होंगे ?

(i) बॉम्बे स्टॉक बाजार में सेठी लिमिटेड के अंशों (Shares) की एक निवेशक द्वारा खरीद।

(ii) जापान स्थित भारतीय दूतावास द्वारा स्थानीय श्रमिकों को वेतन का भुगतान।

(iii) पूँजीगत संपत्तियों पर फर्मों द्वारा लगाया गया मूल्यहास

3

7. एक काल्पनिक उदाहरण द्वारा, एक अर्थव्यवस्था में निवेश गुणक की कार्यप्रणाली की विवेचना करें। 3



4. (a) Using a suitable example, distinguish between positive externalities and negative externalities. 2

OR

- (b) Using a suitable example, distinguish between stock variables and flow variables. 2
5. (a) Calculate equilibrium level of income for a hypothetical economy for which it is given that :
- (i) Autonomous Investment (I_0) = ₹ 10,000 crores, and
- (ii) Consumption Function; $C = 2000 + 0.75Y$;
where C = Consumption and Y = Income. 2

OR

- (b) Calculate, Change of Income (ΔY) for a hypothetical economy, for which it is given that :
- (i) Change in Investment (ΔI) = 5,000 crores.
- (ii) Marginal Propensity to Consume (MPC) = 0.75. 2
6. (a) Estimate the value of Nominal Gross Domestic Product (GDP) for a hypothetical economy. The values of Real Gross Domestic Product (GDP) and Price Index are given as ₹ 500 crores and 125 respectively. 3

OR

- (b) Giving valid reasons explain, which of the following will not be included in the estimation of National Income of India ?
- (i) Purchase of shares of Sethi Ltd. by an investor in the Bombay Stock Exchange.
- (ii) Salaries paid by Indian Embassy situated at Japan, to the local workers.
- (iii) Depreciation on capital assets charged by firms. 3
7. Using a hypothetical example, elaborate the working of investment multiplier in an economy. 3



8. दी गई अनुसूची में से किन्हीं दो संकेतकों के आधार पर भारत व चीन की स्वास्थ्य स्थिति की तुलना और विश्लेषण करें :

अन्य राष्ट्रों के साथ भारत की तुलना (स्वास्थ्य संकेतक) (2015-17)

3

क्रम संख्या	संकेतक	भारत	चीन	अमेरिका	श्रीलंका
(i)	शिशु मृत्यु दर /1000 जीवित जन्म	34	8	5.7	7.5
(ii)	5 वर्ष से कम मृत्यु दर /1000 जीवित जन्म	39.4	9.3	6.6	8.8
(iii)	शिशुओं का टीकाकरण (DTP) % में	88	99	95	99
(iv)	सरकारी स्वास्थ्य व्यय (GDP के % के रूप में)	3.9	5.7	16.8	3

स्रोत : HDI 2018 व WDI 2018.

9. 'कीन्स ने अर्थव्यवस्था में प्रचलित स्फीतिकारी अंतराल की स्थिति से निपटने के लिए विभिन्न उपकरणों के उपयोग का सुझाव दिया था ।'

एक काल्पनिक अर्थव्यवस्था में स्फीतिकारी अंतराल की स्थिति से बचने के लिए किन्हीं दो मौद्रिक नीति उपायों का उल्लेख व वर्णन करें ।

5

10. (i) “हाल के दिनों में भारत सरकार ने भारतीय चिकित्सा पद्धति को पुनर्जीवित व लोकप्रिय करने के लिए महत्वपूर्ण कदम उठाए हैं ।”

क्या आप दिए गए कथन से सहमत हैं ? मान्य कारणों द्वारा अपने उत्तर की पुष्टि करें ।

2

- (ii) “कार्यबल का अनऔपचारिकरण भारतीय अर्थव्यवस्था की एक चिरस्थायी समस्या रही है ।” मान्य तर्कों द्वारा दिए गए कथन की पुष्टि करें ।

3



8. Compare and analyse the health status of India and China, on the basis of any two indicators from the given schedule : 3

Indicators of Health in India in Comparison with other nations, 2015-17.

S. No.	Indicators	India	China	USA	Sri Lanka
(i)	Infant Mortality Rate/1000 live Births	34	8	5.7	7.5
(ii)	Under-5, Mortality Rate/1000 live Births	39.4	9.3	6.6	8.8
(iii)	Infants Immunised (DTP) in %	88	99	95	99
(iv)	Government Health spending as a % of GDP	3.9	5.7	16.8	3

Sources : HDI 2018 and WDI 2018.

9. 'Keynes suggested the use of various tools to deal with the situation of Inflationary Gap prevailing in an economy.

State and discuss any two monetary policy measures to combat the situation of Inflationary gap in a hypothetical economy. 5

10. (i) 'In the recent past the Government of India has taken vital steps to revive and popularise Indian System of Medicine (ISM).'

Do you agree with the given statement ? Justify your answer with valid reasons. 2

- (ii) 'Casualization of workforce has become a perennial problem of the Indian economy.' Justify the given statement with valid arguments. 3



11. (a) (i) निम्नलिखित आँकड़ों के आधार पर, साधन लागत पर सकल राष्ट्रीय उत्पाद के मूल्य की गणना करें :

3

क्रम सं.	चर	राशि (₹ करोड़ में)
(i)	श्रमिकों का पारिश्रमिक	12,000
(ii)	किराया व ब्याज	1,800
(iii)	अप्रत्यक्ष कर	1,120
(iv)	लाभ	1,500
(v)	मूल्यहास	1,100
(vi)	उपदान	210
(vii)	विदेशों से प्राप्त शुद्ध साधन आय	(-) 120
(viii)	स्वनियोजितों की मिश्रित आय	1,300

- (ii) किराया व रॉयल्टी में विभेद करें ।

2

अथवा

- (b) (i) दिए गए आँकड़ों के आधार पर, साधन लागत पर शुद्ध मूल्य वृद्धि की गणना करें :

3

क्रम सं.	चर	राशि(₹' 000 में)
(i)	बाजार में चावल का विक्रय	580
(ii)	ट्रैक्टर व थ्रेशर का क्रय	400
(iii)	सरकार द्वारा चावल का क्रय	20
(iv)	वर्ष के दौरान चावल का स्व-उपभोग	15
(v)	ट्रैक्टर व थ्रेशर के संचालन व रखरखाव पर व्यय	20
(vi)	सरकार द्वारा प्राप्त उर्वरक उपदान	3

- (ii) 'उत्पादन के मूल्य' व 'मूल्य वर्धन' में विभेद करें ।

2

निम्नलिखित गद्य का ध्यानपूर्वक अध्ययन करें तथा प्रश्न संख्या 12 व 13 के उत्तर दें :

चीन की अर्थव्यवस्था में बाजार की अपेक्षा से अधिक मंदी का खतरा – ब्लूमबर्ग, 24 अक्टूबर, 2021

चीन की अर्थव्यवस्था में मंदी का भय वैश्विक निवेशकों की आशंका से अधिक है । चीन अपनी रियल एस्टेट (Real Estate) पर निर्भरता कम करने का प्रयास कर रहा है । विद्युत की कमी व महामारी के कारण, चीन ने शिक्षा से लेकर प्रौद्योगिकी क्षेत्रों को विनियमित करना आरंभ कर दिया है ।



11. (a) (i) From the following data, calculate the value of Gross National Product at Factor Cost (GNP_{FC}) :

3

S. No.	Items	Amount in (₹ Crores)
(i)	Compensation of Employees	12,000
(ii)	Rent and Interest	1,800
(iii)	Indirect taxes	1,120
(iv)	Profits	1,500
(v)	Depreciation	1,100
(vi)	Subsidies	210
(vii)	Net Factor Income from Abroad	(-) 120
(viii)	Mixed Income of Self Employed	1,300

- (ii) Distinguish between Rent and Royalty.

2

OR

- (b) (i) Calculate the value of 'Net Value Added at Factor Cost' (NVA_{FC}) using the given data :

3

S. No.	Items	Amount in (₹ '000)
(i)	Sale of Rice in the market.	580
(ii)	Purchase of Tractor and Thrasher	400
(iii)	Procurement of Rice by the government	20
(iv)	Self consumption of Rice during the year	15
(v)	Expenditure on running and maintenance of Tractor and Thrasher	20
(vi)	Fertilizer subsidies received from the government	3

- (ii) Distinguish between 'value of output' and 'value addition'.

2

Read the following test carefully and answer, Q. No.-12 and 13, given below :

Chinese Economy Risks Deeper Slowdown than Markets Realise – (Bloomberg, 24th October, 2021)

China's Economy risks slowdown faster than global investors realise. It is pushing to cut its dependence on real-estate. It has started regulating sectors from education to technology, as it is facing power shortage and the pandemic.



कई अर्थशास्त्रियों ने वर्तमान वर्ष में GDP वृद्धि दर के 8.2% तक तथा आगामी वर्ष में 5% से नीचे आने की चेतावनी दी है।

चीन अब, ऋण वृद्धि को स्थिर करने, असमानता पर अंकुश लगाने व संसाधनों को अत्याधुनिक विनिर्माण में लगाने की योजना बना रहा है। गत सप्ताह जारी किये गये आँकड़ों में, तीसरी तिमाही में GDP वृद्धि दर गत तिमाही के 7.9% से गिर कर 4.9% दर्शायी गई है। विद्युत की कमी व आगामी दिनों में कोविड-19 में वृद्धि के कारण यह समस्या और अधिक हो सकती है।

महामारी से पूर्व, ऋण जोखिमों को कम करने के कारण पहले ही चीन धीमी विकास दर से अर्थशास्त्रियों को अचलित किए हुए था। चीन के प्रधानमंत्री ली केकियांग ने मार्च में आगामी वित्त वर्ष में 6% से अधिक के विकास लक्ष्य की घोषणा की है। चीन ने हाल के हफ्तों में, कुछ नीतियों में ढील देने के संकेत दिए हैं, जैसे कि बैंकों द्वारा ऋणों को अल्पकालिक प्रोत्साहन देना। पीपल्स बैंक ऑफ चाइना के गवर्नर यी गैंग ने हाल ही में कहा था कि, उन्हें इस वर्ष 8% की वृद्धि दर की उम्मीद है।

कोविड-19 का भय कम होने के साथ, चीन में मंदी आ रही है। चीन में निवेश गिरने से, वस्तु निर्यातक राष्ट्रों जैसे दक्षिण अफ्रीका, ऑस्ट्रेलिया, चिली, पेरू व ब्राजील जैसे राष्ट्रों में भी जोखिम दिखाई दे रहा है। धीमा व्यापार मलेशिया, सिंगापुर व थाईलैंड जैसे राष्ट्रों को भी प्रभावित कर सकता है।

एक अन्य भय यह भी है कि, चीन के नीति निर्माताओं को वापस विकास पथ पर आने के लिए संघर्ष करना पड़ सकता है। अर्थशास्त्रियों के अनुसार विद्युत की कमी जो कि औद्योगिक उत्पादन को कम कर रही है, बुनियादी संरचना में निवेश में वृद्धि को भी कम कर देगी। इस प्रकार की नीति अगले वर्ष तभी काम कर सकती है जबकि विद्युत की किल्लत कम होगी।

- | | |
|---|---|
| 12. चीनी अर्थव्यवस्था में मंदी दर्शाने वाले किन्हीं दो कारणों का उल्लेख व वर्णन करें। | 3 |
| 13. ऐसे किन्हीं दो उपायों की व्याख्या करें, जिन्हें आप चीन के आर्थिक सलाहकार के रूप में बता सकते हैं। | 3 |



Many economists have warned that the GDP growth rate will fall to 8.2% this year and to below 5% in the next year.

China is now planning to stabilise debt growth, curb inequality and channelise resources into hi-tech manufacturing. Data released in last week already showed a sharp slowdown in third quarter GDP growth to 4.9% from 7.9% in the previous quarter. There is more pain likely to come as electricity shortage persist, while new COVID-19 infections are expected to rise in coming days.

Even before the pandemic hit, China was surprising economists with slower-than-expected growth rate caused by the easing off debt risks. China's Premier Li Keqiang, announced in March a growth target of "above 6%" in the coming financial year.

China has signalled, in recent weeks that it could loosen some policies like telling banks to pick up the pace of mortgage lending as a short term stimulus. Governor of People's Bank of China Yi Gang, recently said he sees an expansion of about 8% for this year.

China's slowdown comes as the global recovery from COVID-19 risks loses momentum. Among those at risks from falling investments in China are commodity exporters like Australia, South Africa, Chile, Peru and Brazil. Slower trades could also hit countries like Malaysia, Singapore and Thailand.

The other risk is that China's policy-makers may struggle to flick the switch back to growth model if they feel that's needed. Economists noted that the electricity shortages that are crimping industrial production will make it harder to cushion growth by boosting investment in infrastructure. That kind of policy could only work next year once the power crunch eases.

12. State and discuss any two reasons that exhibit slowdown in the Chinese economy. 3
13. Discuss briefly any two measures, which you may suggest as an economic advisor to the government of China. 3

