

# **CAREERS 360**

## **PREPARATION** **Series**

# **Maharashtra SSC**

---

# **Social Sciences - II**

## **(Geography)**

# **Question Paper 2024**

Seat No.

--	--	--	--	--	--	--

2024	III	26	1100	<b>N 669</b>	(E)
<b>SOCIAL SCIENCES (73) GEOGRAPHY PAPER-II</b>					
<b>(REVISED COURSE)</b>					
<b>Time : 2 Hours</b>		<b>(Pages 8)</b>		<b>Max. Marks : 40</b>	

**Notes :**

- (1) All questions/activities are compulsory.
- (2) Figures to the right indicate full marks.
- (3) For Q. No. 4 (A) use supplied outline map of Brazil and tie it to your answer-book.
- (4) For Q. No. 6(A) use the graph paper supplied to you and attach it to the main answer-book.
- (5) Use of stencil is allowed for drawing map.
- (6) Draw neat diagrams and sketches wherever necessary.
- (7) Answers should be written in Black or Blue ink only. Answers written with pencil will not be considered.
- (8) Use of Pencil/Colour Pencil is allowed for drawing diagrams, sketches and map work.

P.T.O

## 2/N 669

1. Choose the correct alternatives and complete the sentences : 4

- (1) In the swampy areas of Pantanal \_\_\_\_\_ are found.
- (i) condor
  - (ii) pink dolphins
  - (iii) huge anacondas
  - (iv) macaws
- (2) On the distribution of population \_\_\_\_\_ factor affects.
- (i) physiographic
  - (ii) sex-ratio
  - (iii) literacy
  - (iv) life expectancy
- (3) The most common method of transportation in Brazil is \_\_\_\_\_.
- (i) airways
  - (ii) waterways
  - (iii) roadways
  - (iv) railways
- (4) We should carry \_\_\_\_\_ for a field visit to collect information.
- (i) chair
  - (ii) black board
  - (iii) water bottle
  - (iv) questionnaire

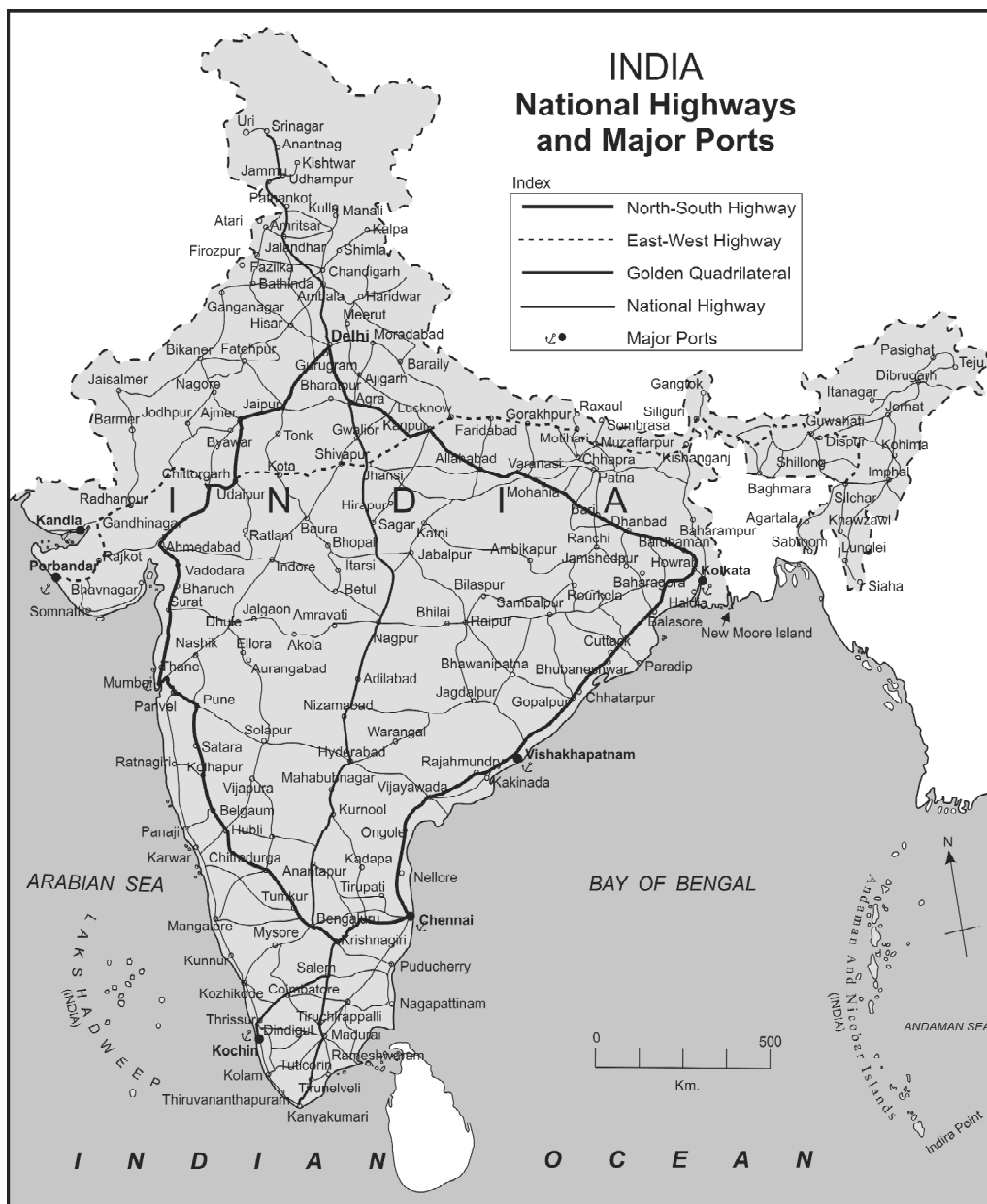
2. Choose the odd man out :

4

- (1) Coastal states in Brazil
  - (i) Rio de Janeiro
  - (ii) Paraiba
  - (iii) Amapa
  - (iv) Acre
- (2) Region with very high rainfall in India.
  - (i) Western part of Rajasthan
  - (ii) Western ghats
  - (iii) Meghalaya plateau
  - (iv) Arunachal Pradesh
- (3) Tributary of river Amazon.
  - (i) Paru river
  - (ii) Purus river
  - (iii) Parana river
  - (iv) Juruika river
- (4) Animals found in the Peninsular region of India.
  - (i) Indian Bisons
  - (ii) Deer
  - (iii) Antelopes
  - (iv) Yaks

3. **Write short notes (any *two*) :** **4**
- (1) Retreating monsoon
  - (2) Deciduous forests of India
  - (3) Historical background of Brazil
4. **(A) Mark the following in the outline map of Brazil.** **4**
- Write the names and give index (any *four*) :**
- (1) Highest peak in Brazil
  - (2) Sao Francisco river
  - (3) Marajo island
  - (4) Pampas
  - (5) Equator
  - (6) Capital of Brazil
- (B) Observe the map of India and answer the following** **4**
- questions (any *four*) :**

5/N 669



**Questions :**

- (1) What is the title and subtitle of the map?
- (2) Which part has more density of roadways?
- (3) Name two parts to the western coast.
- (4) Name the highway that connects Porbandar and Silchar.
- (5) Name the island near Kolkata.

P.T.O

## 6/N 669

5. Give geographical reasons (*any two*) : 6

- (1) Vegetation is scarce in the high altitudes of Himalayas.
- (2) Tropical cyclones occur rarely in Brazil.
- (3) Settlements become sparse as we move towards the Amazon river basin.
- (4) Fishing plays an important role in the economy of India.

6. (A) With the help of given statistical data, prepare a simple bar graph and answer the following questions : 6

**Trend of Urbanisation in India**  
(1961 to 2011)

Years	Percentage of Urban Population
1961	18·0
1971	18·2
1981	23·3
1991	25·7
2001	27·8
2011	31·2

**Questions :**

- (1) What was the percentage of urbanisation in the year 1961?
- (2) In which decade was the growth of urbanisation lowest?
- (3) What was the percentage of urbanisation in the year 1991?

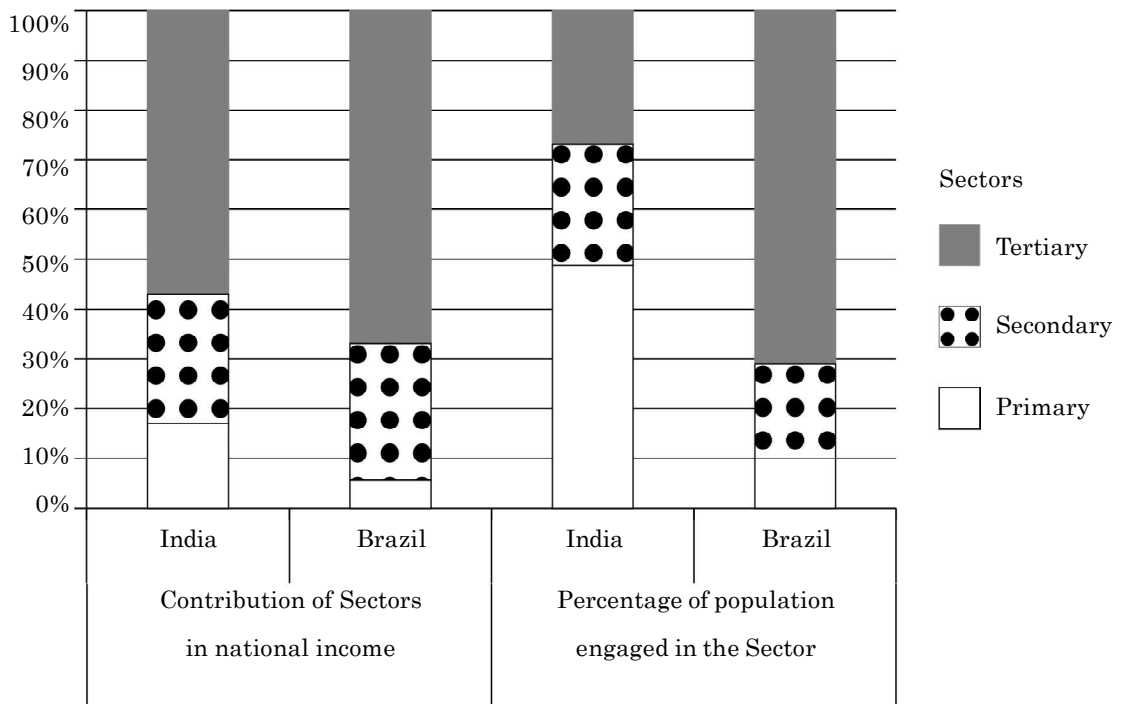
**OR**

(B) Read the graph and answer the following questions :

6

**India and Brazil**

**Contribution of sectors in national income and  
percentage of population engaged in the sector**

**Questions :**

- (1) Name the sectors mentioned in the graph.
- (2) Which sector contributes the highest in National income in India?
- (3) How much percent of population is engaged in primary sector in Brazil?



8/N 669

- (4) Out of given two countries, the share of primary sector to the national income is less.
- (5) Which country's contribution of tertiary sector to the national income is less?
- (6) In which sector 19% population of Brazil is engaged?

7. **Answer in detail (any *two*) :**

8

- (1) Prepare a questionnaire for a field visit to a factory.
- (2) Give information of the coastal region of Brazil.
- (3) Which factors affect the distribution of population of India?



Seat No.

बैठक क्र.

--	--	--	--	--	--	--

2024	III	26	1100	<b>N 676</b>	(H)
२०२४	०३	२६	११००		(ह)
<b>SOCIAL SCIENCES (73) GEOGRAPHY PAPER-II</b> <b>सामाजिक शास्त्र ( ७३ ) भूगोल पेपर - २</b> <b>(REVISED COURSE)</b>					
<b>Time : 2 Hours</b>		<b>(Pages - 8)</b>		<b>Max. Marks : 40</b>	
<b>समय - २ घण्टे</b>		<b>( पृष्ठ - ८ )</b>		<b>कुल योग - ४०</b>	

सूचना :

- (1) सभी प्रश्न/कृति अनिवार्य हैं।
- (2) दाहिनी ओर के अंक प्रश्नों के लिए पूर्णांक हैं।
- (3) प्रश्न क्रमांक 4(अ) के ब्राजील के मानचित्र के खाके का उपयोग कीजिए तथा उत्तर-पत्रिका के साथ बाँधिए।
- (4) प्रश्न क्रमांक 6(अ) के लिए दिए गए आलेख पेपर का उपयोग कीजिए तथा उत्तर-पत्रिका के साथ बाँधिए।
- (5) मानचित्र बनाने के लिए स्टेन्सिल का उपयोग कर सकते हैं।
- (6) आवश्यकतानुसार सुस्पष्ट आकृति एवं रेखाचित्र खींचिए।
- (7) उत्तर लिखने के लिए काले या नीले रंग की स्याही का उपयोग कीजिए। पेंसिल द्वारा लिखे गए उत्तर मान्य नहीं होंगे।
- (8) पेंसिल/रंगीन पेंसिल का उपयोग आकृति, रेखाचित्र एवं मानचित्र कार्य के लिए कर सकते हैं।

P.T.O

1. निम्नलिखित में से उचित पर्याय चुनकर वाक्य पूर्ण कीजिए :

4

(1) पेंटानल के दलदली क्षेत्रों में ..... पाए जाते हैं।

- (i) कोंडोर
- (ii) गुलाबी डॉल्फिन
- (iii) विशाल एनाकोंडा
- (iv) मकाऊ

(2) जनसंख्या वितरण पर ..... घटक परिणाम करता / प्रभाव डालता है।

- (i) प्राकृतिक रचना
- (ii) लिंग अनुपात
- (iii) साक्षरता
- (iv) औसत जीवन प्रत्याशा

(3) ब्राज़ील में परिवहन के लिए ..... का सर्वाधिक उपयोग किया जाता है।

- (i) हवाई मार्गों
- (ii) जलमार्गों
- (iii) सड़क मार्गों
- (iv) रेलमार्गों

(4) क्षेत्र अध्ययन के समय जानकारी संकलन हेतु ..... की आवश्यकता होती है।

- (i) कुर्सी
- (ii) फलक
- (iii) पानी की बोतल
- (iv) नमूना प्रश्नावली

2. भिन्न घटक पहचानिए :

4

(1) ब्राज़ील के तट पर स्थित राज्य -

- (i) रिओ डि जनेरो
- (ii) पराईबा
- (iii) अमापा
- (iv) अक्रे

(2) भारत में सर्वाधिक वर्षा वाला क्षेत्र -

- (i) पश्चिमी राजस्थान
- (ii) पश्चिमी घाट
- (iii) मेघालय का पठार
- (iv) अरुणाचल प्रदेश

(3) अमेज़न नदी की उपनदी -

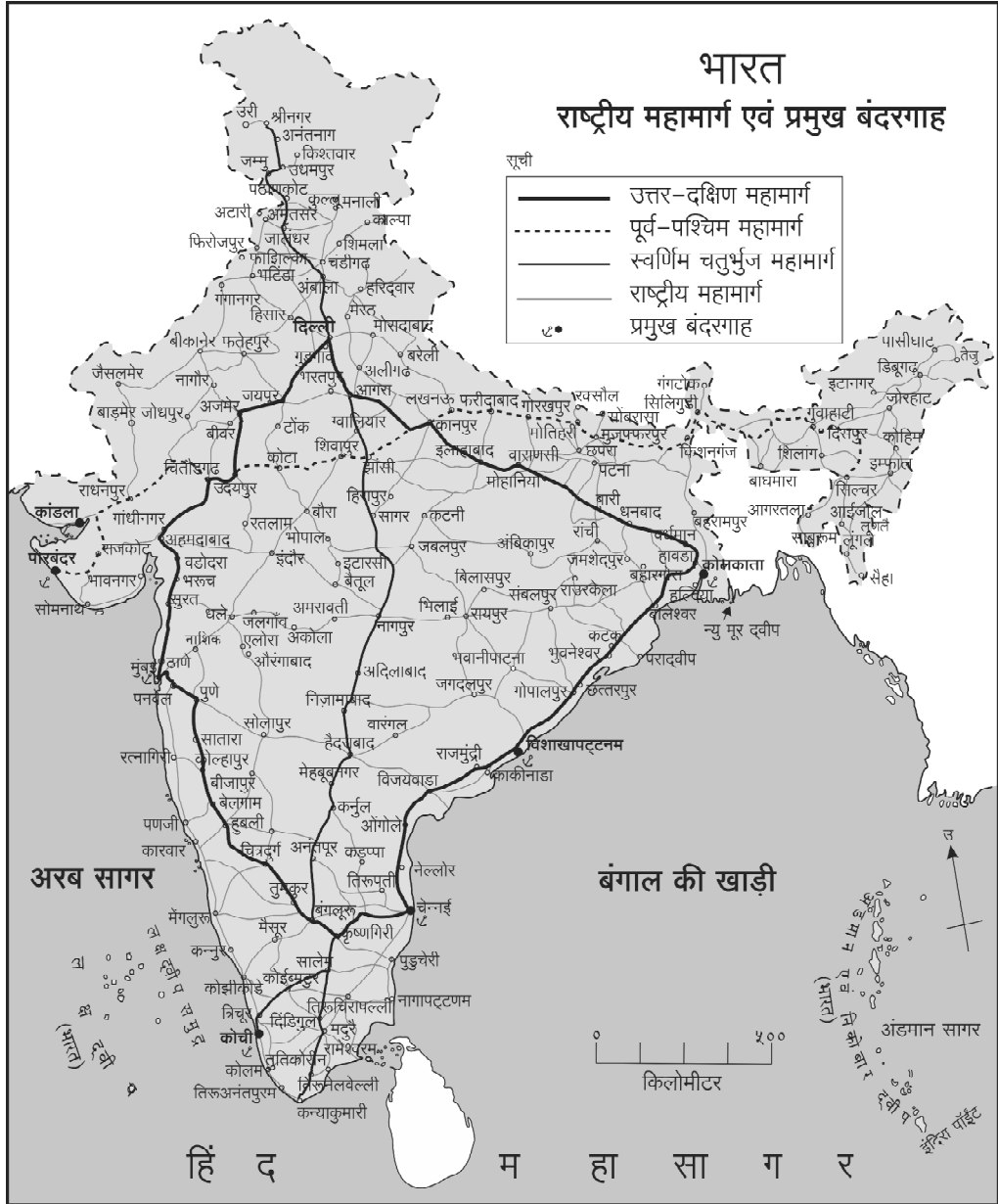
- (i) पारू नदी
- (ii) पुरुस नदी
- (iii) पराना नदी
- (iv) जुरूका नदी

(4) भारत के प्रायद्वीपीय क्षेत्र में पाए जाने वाले प्राणी -

- (i) जंगली भैंसा
- (ii) हिरण
- (iii) मृग
- (iv) चमरी (याक)

3. संक्षिप्त टिप्पणी लिखिए ( कोई दो ) : 4
- (1) मानसून की वापसी
  - (2) भारत के पर्णपाती वन
  - (3) ब्राज़ील की ऐतिहासिक पृष्ठभूमि
4. ( अ ) दिए गए ब्राज़ील के मानचित्र में निम्नलिखित को दर्शाइए, 4  
सूची बनाइए तथा नाम भी लिखिए ( कोई चार ):
- (1) ब्राज़ील की सबसे ऊँची चोटी
  - (2) साओ फ्रांसिस्को नदी
  - (3) मराजो द्वीप
  - (4) पंपास
  - (5) विषुवत् रेखा
  - (6) ब्राज़ील की राजधानी
- ( आ ) नीचे दिए गए भारत के मानचित्र का निरीक्षण कीजिए तथा पूछे गए प्रश्नों के उत्तर दीजिए ( कोई चार ) : 4

5/N 676



प्रश्न :

- (1) मानचित्र का शीर्षक एवं उपशीर्षक क्या है?
- (2) सर्वाधिक सड़क घनत्व किस क्षेत्र में है?
- (3) पश्चिमी तट पर दो बंदरगाहों के नाम लिखिए।
- (4) पोरबंदर से सिल्वर राजमार्ग का नाम लिखिए।
- (5) कोलकाता के पास स्थित द्वीप का नाम लिखिए।

P.T.O

5. भौगोलिक कारण लिखिए ( कोई दो ) :

6

- (1) हिमालय के ऊँचे भागों में वनस्पतियों की संख्या विरल है।
- (2) ब्राज़ील में उष्ण कटिबंधीय चक्रवात कम ही आते हैं।
- (3) ब्राज़ील में अमेज़न नदी की घाटी की ओर मानव बस्तियाँ अधिक विरल हो जाती हैं।
- (4) भारत की अर्थव्यवस्था में मत्स्य पालन एक महत्वपूर्ण भूमिका निभाता है।

6. ( अ ) दी गई सांख्यिकी-जानकारी के आधार पर साधारण स्तंभ आलेख

6

बनाइए एवं निम्नलिखित प्रश्नों के उत्तर दीजिए :

भारत - नगरीकरण का कल

(1961 - 2011)

वर्ष	नगरीकरण प्रतिशत %
1961	18.0
1971	18.2
1981	23.3
1991	25.7
2001	27.8
2011	31.2

7/N 676

प्रश्न :

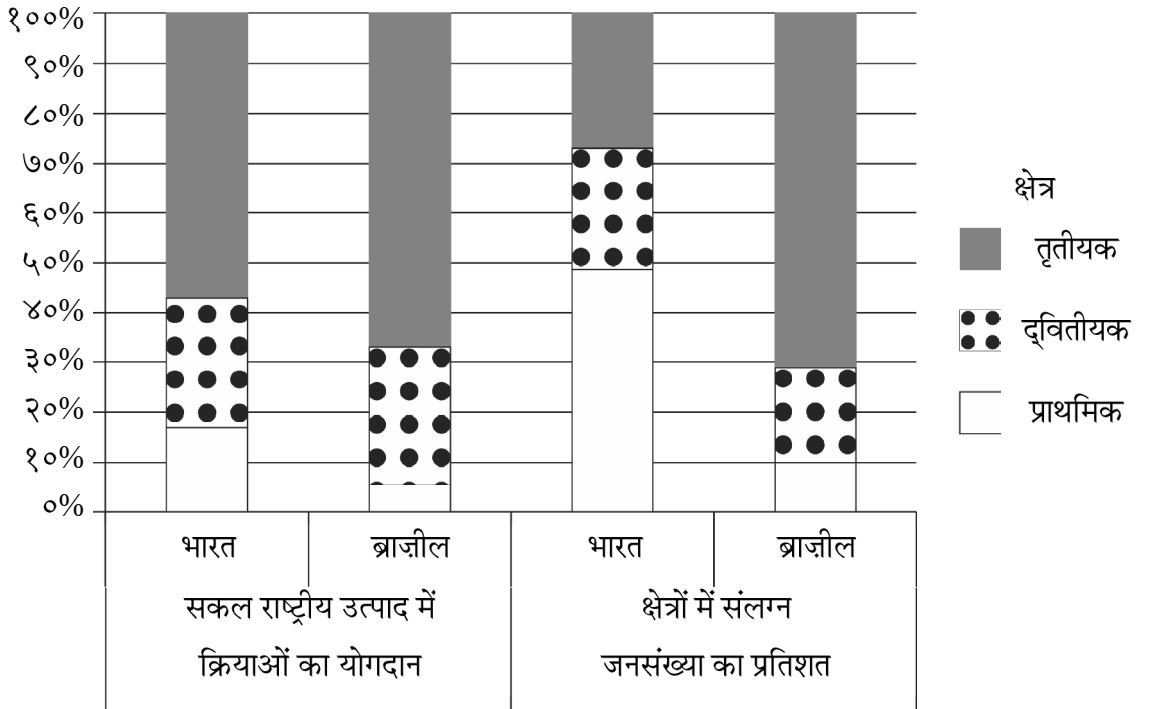
- (1) सन् 1961 में नगरीकरण कितने प्रतिशत था?
- (2) किस दशक में नगरीकरण सबसे कम था?
- (3) सन् 1991 में नगरीकरण कितने प्रतिशत था?

अथवा

( आ ) आलेख का निरीक्षण कीजिए तथा दिए गए प्रश्नों के उत्तर दीजिए: 6

भारत एवं ब्राज़ील

राष्ट्रीय उत्पाद में योगदान तथा उसमें संलग्न जनसंख्या



प्रश्न :

- (1) आलेख में कौन-से क्षेत्र दिखाए गए हैं?
- (2) भारत के सकल राष्ट्रीय उत्पाद में कौन-सा क्षेत्र सर्वाधिक योगदान देता है?

P.T.O



- (3) ब्राज़ील की कितने प्रतिशत जनसंख्या प्राथमिक क्षेत्र में कार्यरत है?
- (4) दिए गए दो देशों में से किस देश में राष्ट्रीय आय में प्राथमिक क्षेत्र का योगदान सबसे कम है?
- (5) सकल राष्ट्रीय उत्पाद में तृतीयक क्षेत्र का योगदान किस देश का कम है?
- (6) ब्राज़ील की 19% जनसंख्या किस उत्पाद क्षेत्र में लगी है?

7. सविस्तार उत्तर लिखिए ( कोई दो ):

8

- (1) कारखाने क्षेत्र-अध्ययन करने के लिए प्रश्नावली तैयार कीजिए।
- (2) ब्राज़ील के तटीय प्रदेश की जानकारी लिखिए।
- (3) भारत में जनसंख्या वितरण को कौन-से कारक प्रभावित करते हैं?

