

# CAREERS 360

## NIOS 10th Social Science Question Paper (Jan-Feb 2021)



This Question Paper consists of **29** questions and **10** printed pages + **one** outline map of **India**.  
इस प्रश्न-पत्र में **29** प्रश्न तथा **10** मुद्रित पृष्ठ + भारत का एक रेखा-मानचित्र है।

Roll No. 

--	--	--	--	--	--	--	--	--	--	--

  
अनुक्रमांक

Code No. **60/AS/4**  
कोड नं.

Set / सेट – 

<b>A</b>
----------

**SOCIAL SCIENCE**  
(सामाजिक विज्ञान)  
(213)

**Day and Date of Examination**  
(परीक्षा का दिन व दिनांक)

**Signature of Invigilators** 1. \_\_\_\_\_  
(निरीक्षकों के हस्ताक्षर)  
2. \_\_\_\_\_

**General Instructions :**

- 1 Candidate must write his/her Roll Number on the first page of the Question Paper.
- 2 Please check the Question Paper to verify that the total pages and the total number of questions contained in the Question Paper are the same as those printed on the top of the first page. Also check to see that the questions are in sequential order.
- 3 For the objective type of questions, you have to choose any **one** of the four alternatives given in the question i.e. (A), (B), (C) and (D) and indicate your correct answer in the Answer-Book given to you.
- 4 All the questions including objective type questions are to be answered within the allotted time and no separate time limit is fixed for answering objective type questions.
- 5 Making any identification mark in the Answer-Book or writing Roll Number anywhere other than the specified places will lead to disqualification of the candidate.
- 6 Write your Question Paper Code No. **60/AS/4, Set – A** on the Answer-Book.
- 7 (a) The Question Paper is in English/Hindi medium only. However, if you wish, you can answer in any one of the languages listed below :  
English, Hindi, Urdu, Punjabi, Bengali, Tamil, Malayalam, Kannada, Telugu, Marathi, Oriya, Gujarati, Konkani, Manipuri, Assamese, Nepali, Kashmiri, Sanskrit and Sindhi.  
You are required to indicate the language you have chosen to answer in the box provided in the Answer-Book.  
(b) If you choose to write the answer in the language other than Hindi and English, the responsibility for any errors/mistakes in understanding the question will be yours only.



**सामान्य अनुदेश :**

- 1 परीक्षार्थी प्रश्नपत्र के पहले पृष्ठ पर अपना अनुक्रमांक अवश्य लिखें ।
- 2 कृपया प्रश्नपत्र को जाँच लें कि प्रश्नपत्र के कुल पृष्ठों तथा प्रश्नों की उतनी ही संख्या है जितनी प्रथम पृष्ठ के सबसे ऊपर छपी है । इस बात की जाँच भी कर लें कि प्रश्न क्रमिक रूप में हैं ।
- 3 वस्तुनिष्ठ प्रश्नों में आपको चार विकल्पों (A), (B), (C) तथा (D) में से कोई एक उत्तर चुनना है तथा दी गई उत्तर-पुस्तिका में आप सही उत्तर लिखिए ।
- 4 वस्तुनिष्ठ प्रश्नों के साथ-साथ सभी प्रश्नों के उत्तर निर्धारित अवधि के भीतर ही देने हैं । वस्तुनिष्ठ प्रश्नों के लिए अलग से समय नहीं दिया जाएगा ।
- 5 उत्तर-पुस्तिका में पहचान-चिह्न बनाने अथवा निर्दिष्ट स्थानों के अतिरिक्त कहीं भी अनुक्रमांक लिखने पर परीक्षार्थी को अयोग्य ठहराया जायेगा ।
- 6 अपनी उत्तर-पुस्तिका पर प्रश्नपत्र की कोड संख्या **60/AS/4, सेट – A** लिखें ।
- 7 (क) प्रश्नपत्र केवल हिंदी/अंग्रेजी में है । फिर भी, यदि आप चाहें तो नीचे दी गई किसी एक भाषा में उत्तर दे सकते हैं :

अंग्रेजी, हिंदी, उर्दू, पंजाबी, बंगला, तमिल, मलयालम, कन्नड़, तेलुगु, मराठी, उड़िया, गुजराती, कोंकणी, मणिपुरी, असमिया, नेपाली, कश्मीरी, संस्कृत और सिंधी ।

कृपया उत्तर-पुस्तिका में दिए गए बॉक्स में लिखें कि आप किस भाषा में उत्तर लिख रहे हैं ।

- (ख) यदि आप हिंदी एवं अंग्रेजी के अतिरिक्त किसी अन्य भाषा में उत्तर लिखते हैं तो प्रश्न को समझने में होने वाली त्रुटियों / गलतियों की जिम्मेदारी केवल आपकी होगी ।



# SOCIAL SCIENCE

(सामाजिक विज्ञान)

(213)

Time : 3 Hours]

[Maximum Marks : 100

समय : 3 घण्टे]

[पूर्णांक : 100

- Note :**
- (1) All questions are **compulsory** and carry marks as indicated against each question.
  - (2) For Multiple Choice Questions **four** options are given. You have to choose right option and indicate it in your answer book.
  - (3) Attach the map with your answer book.

- निर्देश :**
- (1) सभी प्रश्न अनिवार्य हैं और प्रत्येक प्रश्न के अंक उसके सामने दिये गये हैं।
  - (2) बहुविकल्पीय प्रश्नों के चार-चार विकल्प दिये गये हैं। आप सही विकल्प चुनिये और अपनी उत्तर-पुस्तिका में लिखिये।
  - (3) दिये गये मानचित्र को उत्तर-पुस्तिका के साथ संलग्न कीजिए।

1 'Mesopotamian Civilization' lay between which one of the following rivers ? 1

- (A) Tigris and Euphrates (B) Ganga and Yamuna  
(C) Krishna and Kaveri (D) Congo and Nile

‘मेसोपोटामिया की सभ्यता’ निम्नलिखित नदियों में से किन के बीच स्थित थी?

- (A) दलजा और फरात (B) गंगा और यमुना  
(C) कृष्णा और कावेरी (D) कांगो और नील



2 Mangal Pandey is related to which one of the following cities ? 1

- (A) Barrackpore (B) Meerut  
(C) Delhi (D) Agra

मंगल पाण्डे का संबंध निम्नलिखित शहरों में से किस से है ?

- (A) बैरकपुर (B) मेरठ  
(C) दिल्ली (D) आगरा

3 The Southern most point of Indian main land is : 1

- (A) Thiruvananthapuram (B) Indira Point  
(C) Kanya Kumari (D) Tuticorin

भारत की मुख्य भूमि का दक्षिणतम बिंदु है –

- (A) तिरुवनन्तपुरम (B) इंदिरा प्वाइन्ट  
(C) कन्याकुमारी (D) तूतीकोरीन

4 In which one of the following years did the 'French Revolution' take place ? 1

- (A) 1780 (B) 1789  
(C) 1798 (D) 1790

निम्नलिखित वर्षों में से किस वर्ष में फ्रांसीसी क्रांति हुई ?

- (A) 1780 (B) 1789  
(C) 1798 (D) 1790



- 5 Mention any two features of 'town planning' of the 'Harappan Civilization'.  $2 \times 1 = 2$

‘हड़प्पा सभ्यता’ की ‘नगर योजना’ की किन्हीं दो विशेषताओं का उल्लेख कीजिए।

- 6 Mention any two reforms brought by Swami Dayanand Saraswati  $1 + \frac{1}{2} + \frac{1}{2} = 2$  in the field of education.

स्वामी दयानंद सरस्वती द्वारा शिक्षा के क्षेत्र में किए गए किन्हीं दो सुधारों का उल्लेख कीजिए।

- 7 Mention any two features of the Western Ghats.  $2 \times 1 = 2$

पश्चिमी घाट की किन्हीं दो विशेषताओं का उल्लेख कीजिए।

- 8 Explain the provisions under the ‘Right against Exploitation’ given in the Indian Constitution.  $2 \times 1 = 2$

भारतीय संविधान में ‘शोषण के विरुद्ध अधिकार’ के अन्तर्गत दिए गये प्रावधानों की व्याख्या कीजिए।

- 9 Describe any four characteristics of Indian economy during the Medieval period.  $4 \times 1 = 4$

मध्यकाल के दौरान भारतीय अर्थव्यवस्था की किन्हीं चार विशेषताओं का वर्णन कीजिए।

- 10 Explain the negative impacts of ‘Imperialism’ in the world.  $4 \times 1 = 4$

संसार में ‘साम्राज्यवाद’ के नकारात्मक प्रभावों को स्पष्ट कीजिए।

- 11 Highlight the impacts of British on Indian society in the 19<sup>th</sup> century.  $4 \times 1 = 4$

19वीं सदी में भारतीय समाज पर ब्रिटिश के प्रभावों को उजागर कीजिए।



- 12 Explain the contribution of Swami Vivekananda in the religious and social reform movement in India.  $4 \times 1 = 4$

भारत में धार्मिक और सामाजिक सुधार आंदोलन में स्वामी विवेकानन्द के योगदान की व्याख्या कीजिए।

- 13 Describe any four main features of 'Hot Weather Season' in India.  $4 \times 1 = 4$

भारत में 'ग्रीष्म ऋतु' की किन्हीं चार प्रमुख विशेषताओं का वर्णन कीजिए।

- 14 Describe any four characteristics of Thorn forests in India.  $4 \times 1 = 4$

भारत में कंटीले वनों की किन्हीं चार विशेषताओं का वर्णन कीजिए।

- 15 Explain any four causes responsible for farmers' suicide in India.  $4 \times 1 = 4$

भारत में किसानों की आत्महत्या के लिए जिम्मेवार किन्हीं चार कारणों को स्पष्ट कीजिए।

- 16 Why is there dense rail network in the Gangetic Plain than in hilly and desert areas ? Explain any four reasons. 4

पहाड़ी और मरुस्थलीय क्षेत्रों की अपेक्षा गंगा के मैदान में घना रेल जाल क्यों पाया जाता है ? किन्हीं चार कारणों की व्याख्या कीजिये।

- 17 Mention any eight values expressed in the 'Preamble' of the Indian Constitution.  $8 \times \frac{1}{2} = 4$

भारतीय संविधान की 'प्रस्तावना' में अभिव्यक्त किन्हीं आठ मूल्यों का उल्लेख कीजिए।

- 18 "The Directive Principles of State Policy are guidelines to the Central and State Governments of India." Support the statement.  $4 \times 1 = 4$

"राज्य के नीति निर्देशक तत्व भारत की केन्द्रीय तथा राज्य सरकारों के लिए दिशा निर्देश हैं।" कथन की पुष्टि कीजिए।



- 19 “The 74<sup>th</sup> Constitutional Amendment Act 1992 brought about significant changes in the structure and functioning of urban local governments.” Explain any four changes. 4×1=4

“1992 में किए गए 74वें संविधान संशोधन में शहरी स्थानीय निकायों की संरचना तथा कार्यों में महत्वपूर्ण परिवर्तन किए गए।” किन्हीं चार परिवर्तनों की व्याख्या कीजिए।

- 20 Explain the functions of the State Legislature. 4×1=4

राज्य विधायिका के कार्यों की व्याख्या कीजिए।

- 21 “Discrimination against girls and women exists in every walk of life”. Support the statement. 4

“जीवन के प्रत्येक कदम में लड़कियों और महिलाओं के विरुद्ध भेदभाव विद्यमान है।” कथन की पुष्टि कीजिए।

- 22 “The extremist movements going on in different parts of the country are a challenge to national integration”. Support the statement with examples. 4

“देश के कई भागों में चलाए जा रहे उग्रवादी आंदोलन राष्ट्रीय समाकलन के लिए एक बड़ी चुनौती बने हुए हैं।” कथन की उदाहरणों सहित पुष्टि कीजिए।

- 23 Explain the role of ‘revolutionaries’ and secret societies in the National Movement. 4

राष्ट्रीय आंदोलन में ‘क्रांतिकारियों’ तथा गुप्त समूहों के योगदान की व्याख्या कीजिए।

- 24 Describe Mahatma Gandhi's detailed programme of Non co-operation movement 1920. 5×1=5

1920 में असहयोग आंदोलन के दौरान महात्मा गाँधी के विस्तृत कार्यक्रम का वर्णन कीजिए।



- 25 “People’s participation does not begin and end with their voting in election.” Examine the statement with examples. 5

“जन सहभागिता का आरंभ और अंत केवल चुनाव में मतदान करने से नहीं होता।” कथन का उदाहरणों सहित परख कीजिए।

- 26 Why is the Prime Minister considered as the most powerful functionary of the Union Government ? Explain with examples. 5×1=5

संघीय सरकार में प्रधानमंत्री को सबसे अधिक शक्तिशाली क्यों माना जाता है ? उदाहरणों सहित व्याख्या कीजिए।

- 27 Analyze the steps taken by the Government of India for economic empowerment of economically and socially disadvantaged groups. 5×1=5

सामाजिक और आर्थिक रूप से अभावग्रस्त वर्गों के आर्थिक सशक्तीकरण के लिए भारत सरकार द्वारा किए गए प्रयासों का विश्लेषण कीजिए।

- 28 On the given outline political map of India mark and label the following with appropriate symbols : 1×4=4

(28.1) Lakshadweep Islands

(28.2) River Tapi

(28.3) Indira Gandhi International Airport

(28.4) Gir National Park

दिए गए भारत के राजनीतिक रेखा मानचित्र में निम्नलिखित को उपयुक्त चिह्नों से दर्शाइए और उनके नाम लिखिए :

(28.1) लक्षद्वीप समूह

(28.2) तापी नदी

(28.3) इंदिरा गांधी अंतर्राष्ट्रीय हवाई अड्डा

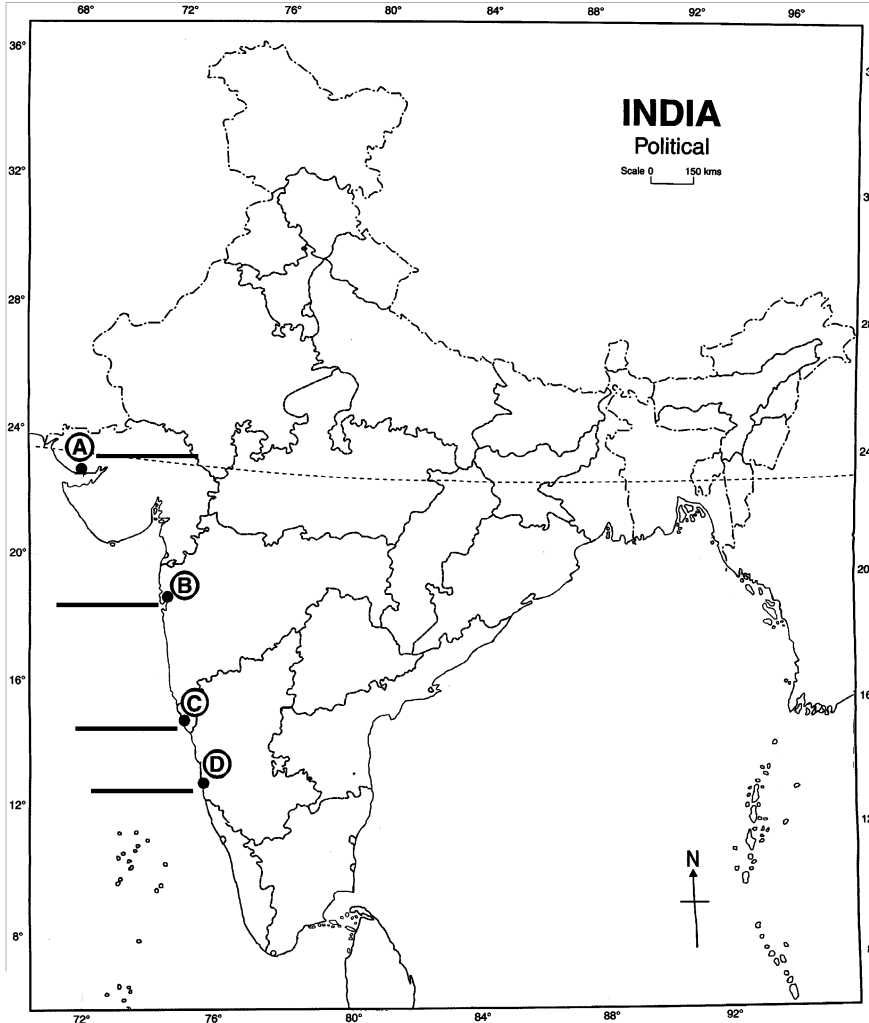
(28.4) गिर राष्ट्रीय अभ्यारण्य



- 29 Identify and write in your answer book the correct names of four major sea ports located on the Western Coast of India marked as A, B, C and D on the given outline political map of India.  $1 \times 4 = 4$

दिए गए भारत के राजनीतिक रेखा मानचित्र में भारत के पश्चिमी तट पर स्थित चार प्रमुख समुद्री बंदरगाहों को A, B, C और D से अंकित किया गया है। इन्हें पहचानिए तथा इनके सही नाम अपनी उत्तर-पुस्तिका में लिखिए।

**Political Map  
of India**



**Note :** Following questions are for visually impaired candidates only in place of questions 28 and 29. Answer to these questions must not be in more than one sentence.  $2 \times 4 = 8$

- (29.1) Name any two States sharing border with Bangladesh.
- (29.2) Name the Capitals of Nagaland and Andhra Pradesh
- (29.3) Name any two major cotton producing States of India.
- (29.4) Name any two major rivers of Peninsular India.

**नोट :** निम्नलिखित प्रश्न केवल दृष्टिबाधित परीक्षार्थियों के लिए प्रश्न संख्या 28 तथा 29 के स्थान पर हैं। इन प्रश्नों में से प्रत्येक का उत्तर मात्र एक वाक्य में दीजिए।

- (29.1) बांग्लादेश की सीमा से लगे दो राज्यों के नाम लिखिए।
- (29.2) नागालैंड और आंध्र प्रदेश राज्यों की राजधानियों के नाम लिखिए।
- (28.3) भारत के किन्हीं दो प्रमुख कपास उत्पादक राज्यों के नाम लिखिए।
- (29.4) प्रायद्वीपीय भारत की किन्हीं दो प्रमुख नदियों के नाम लिखिए।



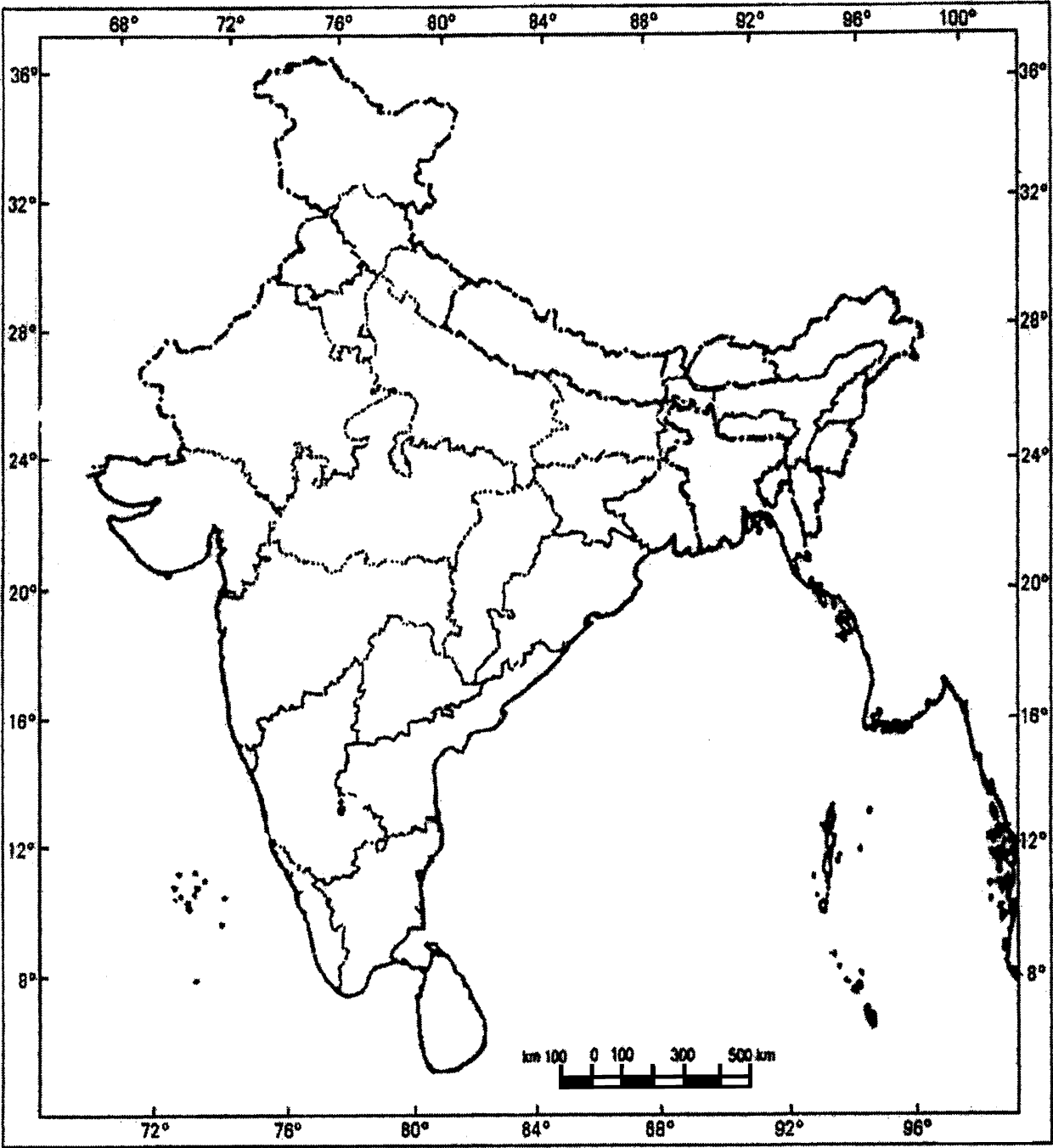
BLANK PAGE



Roll No.

--	--	--	--	--	--	--	--	--	--	--	--

Political Map of India



This Question Paper consists of **29** questions and **10** printed pages + **one** outline map of **India**.  
इस प्रश्न-पत्र में **29** प्रश्न तथा **10** मुद्रित पृष्ठ + भारत का एक रेखा-मानचित्र है।

Roll No. 

--	--	--	--	--	--	--	--	--	--	--

  
अनुक्रमांक

Code No. **60/AS/4**  
कोड नं.

Set / सेट – 

<b>C</b>
----------

**SOCIAL SCIENCE**  
(सामाजिक विज्ञान)  
(213)

**Day and Date of Examination**  
(परीक्षा का दिन व दिनांक)

**Signature of Invigilators**      1. \_\_\_\_\_  
(निरीक्षकों के हस्ताक्षर)  
2. \_\_\_\_\_

**General Instructions :**

- 1 Candidate must write his/her Roll Number on the first page of the Question Paper.
- 2 Please check the Question Paper to verify that the total pages and the total number of questions contained in the Question Paper are the same as those printed on the top of the first page. Also check to see that the questions are in sequential order.
- 3 For the objective type of questions, you have to choose any **one** of the four alternatives given in the question i.e. (A), (B), (C) and (D) and indicate your correct answer in the Answer-Book given to you.
- 4 All the questions including objective type questions are to be answered within the allotted time and no separate time limit is fixed for answering objective type questions.
- 5 Making any identification mark in the Answer-Book or writing Roll Number anywhere other than the specified places will lead to disqualification of the candidate.
- 6 Write your Question Paper Code No. **60/AS/4, Set – C** on the Answer-Book.
- 7 (a) The Question Paper is in English/Hindi medium only. However, if you wish, you can answer in any one of the languages listed below :  
English, Hindi, Urdu, Punjabi, Bengali, Tamil, Malayalam, Kannada, Telugu, Marathi, Oriya, Gujarati, Konkani, Manipuri, Assamese, Nepali, Kashmiri, Sanskrit and Sindhi.  
You are required to indicate the language you have chosen to answer in the box provided in the Answer-Book.  
(b) If you choose to write the answer in the language other than Hindi and English, the responsibility for any errors/mistakes in understanding the question will be yours only.



**सामान्य अनुदेश :**

- 1 परीक्षार्थी प्रश्नपत्र के पहले पृष्ठ पर अपना अनुक्रमांक अवश्य लिखें ।
- 2 कृपया प्रश्नपत्र को जाँच लें कि प्रश्नपत्र के कुल पृष्ठों तथा प्रश्नों की उतनी ही संख्या है जितनी प्रथम पृष्ठ के सबसे ऊपर छपी है । इस बात की जाँच भी कर लें कि प्रश्न क्रमिक रूप में हैं ।
- 3 वस्तुनिष्ठ प्रश्नों में आपको चार विकल्पों (A), (B), (C) तथा (D) में से कोई एक उत्तर चुनना है तथा दी गई उत्तर-पुस्तिका में आप सही उत्तर लिखिए ।
- 4 वस्तुनिष्ठ प्रश्नों के साथ-साथ सभी प्रश्नों के उत्तर निर्धारित अवधि के भीतर ही देने हैं । वस्तुनिष्ठ प्रश्नों के लिए अलग से समय नहीं दिया जाएगा ।
- 5 उत्तर-पुस्तिका में पहचान-चिह्न बनाने अथवा निर्दिष्ट स्थानों के अतिरिक्त कहीं भी अनुक्रमांक लिखने पर परीक्षार्थी को अयोग्य ठहराया जायेगा ।
- 6 अपनी उत्तर-पुस्तिका पर प्रश्नपत्र की कोड संख्या **60/AS/4, सेट – C** लिखें ।
- 7 (क) प्रश्नपत्र केवल हिंदी/अंग्रेजी में है । फिर भी, यदि आप चाहें तो नीचे दी गई किसी एक भाषा में उत्तर दे सकते हैं :

अंग्रेजी, हिंदी, उर्दू, पंजाबी, बंगला, तमिल, मलयालम, कन्नड़, तेलुगु, मराठी, उड़िया, गुजराती, कोंकणी, मणिपुरी, असमिया, नेपाली, कश्मीरी, संस्कृत और सिंधी ।

कृपया उत्तर-पुस्तिका में दिए गए बॉक्स में लिखें कि आप किस भाषा में उत्तर लिख रहे हैं ।

- (ख) यदि आप हिंदी एवं अंग्रेजी के अतिरिक्त किसी अन्य भाषा में उत्तर लिखते हैं तो प्रश्न को समझने में होने वाली त्रुटियों / गलतियों की जिम्मेदारी केवल आपकी होगी ।



# SOCIAL SCIENCE

(सामाजिक विज्ञान)

(213)

Time : 3 Hours]

[Maximum Marks : 100

समय : 3 घण्टे]

[पूर्णांक : 100

- Note :**
- (1) All questions are **compulsory** and carry marks as indicated against each question.
  - (2) For Multiple Choice Questions **four** options are given. You have to choose right option and indicate it in your answer book.
  - (3) Attach the map with your answer book.

- निर्देश :**
- (1) सभी प्रश्न अनिवार्य हैं और प्रत्येक प्रश्न के अंक उसके सामने दिये गये हैं।
  - (2) बहुविकल्पीय प्रश्नों के चार-चार विकल्प दिये गये हैं। आप सही विकल्प चुनिये और अपनी उत्तर-पुस्तिका में लिखिये।
  - (3) दिये गये मानचित्र को उत्तर-पुस्तिका के साथ संलग्न कीजिए।

1 Mangal Pandey is related to which one of the following cities ? 1

- (A) Barrackpore (B) Meerut  
(C) Delhi (D) Agra

मंगल पाण्डे का संबंध निम्नलिखित शहरों में से किस से है?

- (A) बैरकपुर (B) मेरठ  
(C) दिल्ली (D) आगरा



2 The Southern most point of Indian main land is : 1

- (A) Thiruvananthapuram (B) Indira Point  
(C) Kanya Kumari (D) Tuticorin

भारत की मुख्य भूमि का दक्षिणतम बिंदु है –

- (A) तिरुवनन्तपुरम (B) इंदिरा प्वाइन्ट  
(C) कन्याकुमारी (D) तूतीकोरीन

3 'Mesopotamian Civilization' lay between which one of the following rivers ? 1

- (A) Tigris and Euphrates (B) Ganga and Yamuna  
(C) Krishna and Kaveri (D) Congo and Nile

'मेसोपोटामिया की सभ्यता' निम्नलिखित नदियों में से किन के बीच स्थित थी ?

- (A) दलजा और फरात (B) गंगा और यमुना  
(C) कृष्णा और कावेरी (D) कांगो और नील

4 In which one of the following years the Russian Revolution occurred ?

- (A) 1917 (B) 1916  
(C) 1915 (D) 1914

निम्नलिखित वर्षों में से किस में रूसी क्रांति हुई ?

- (A) 1917 (B) 1916  
(C) 1915 (D) 1914



- 5 Mention any two reforms brought by Swami Dayanand Saraswati  $1 + \frac{1}{2} + \frac{1}{2} = 2$  in the field of education.

स्वामी दयानंद सरस्वती द्वारा शिक्षा के क्षेत्र में किए गए किन्हीं दो सुधारों का उल्लेख कीजिए।

- 6 Mention any two features of the Western Ghats.  $2 \times 1 = 2$

पश्चिमी घाट की किन्हीं दो विशेषताओं का उल्लेख कीजिए।

- 7 Mention any two features of 'town planning' of the 'Harappan Civilization'.  $2 \times 1 = 2$

'हड़प्पा सभ्यता' की 'नगर योजना' की किन्हीं दो विशेषताओं का उल्लेख कीजिए।

- 8 Mention any two provisions under 'Right to Religion' given in the 'Indian Constitution'.  $2 \times 1 = 2$

'भारतीय संविधान' में दिए गए 'धार्मिक स्वतंत्रता के अधिकार' के अन्तर्गत किन्हीं दो प्रावधानों का उल्लेख कीजिए।

- 9 Explain the negative impacts of 'Imperialism' in the world.  $4 \times 1 = 4$

संसार में 'साम्राज्यवाद' के नकारात्मक प्रभावों को स्पष्ट कीजिए।

- 10 Highlight the impacts of British on Indian society in the 19<sup>th</sup> century.  $4 \times 1 = 4$

19वीं सदी में भारतीय समाज पर ब्रिटिश के प्रभावों को उजागर कीजिए।

- 11 Describe any four characteristics of Indian economy during the Medieval period.  $4 \times 1 = 4$

मध्यकाल के दौरान भारतीय अर्थव्यवस्था की किन्हीं चार विशेषताओं का वर्णन कीजिए।



- 12 Describe the contribution of Annie Besant in the development of Modern India. 1+3=4

आधुनिक भारत के विकास में एने बेसन्ट के योगदान का वर्णन कीजिए।

- 13 Describe the main features of Retreating or Post Monsoon season in India. 4×1=4

भारत में पीछे हटते मानसून की प्रमुख विशेषताओं का वर्णन कीजिए।

- 14 Describe the main objectives for establishing 'Biosphere Reserves' in India. 4×1=4

भारत में 'जैव आरक्षित क्षेत्रों' को स्थापित करने के प्रमुख उद्देश्यों का वर्णन कीजिए।

- 15 Why is there dense rail network in the Gangetic Plain than in hilly and desert areas ? Explain any four reasons. 4

पहाड़ी और मरुस्थलीय क्षेत्रों की अपेक्षा गंगा के मैदान में घना रेल जाल क्यों पाया जाता है ?  
किन्हीं चार कारणों की व्याख्या कीजिये।

- 16 Explain any four causes responsible for farmers' suicide in India. 4×1=4

भारत में किसानों की आत्महत्या के लिए जिम्मेवार किन्हीं चार कारणों को स्पष्ट कीजिए।

- 17 "The Directive Principles of State Policy are guidelines to the Central and State Governments of India." Support the statement. 4×1=4

"राज्य के नीति निर्देशक तत्व भारत की केन्द्रीय तथा राज्य सरकारों के लिए दिशा निर्देश हैं।"  
कथन की पुष्टि कीजिए।



- 18 “The 74<sup>th</sup> Constitutional Amendment Act 1992 brought about significant changes in the structure and functioning of urban local governments.” Explain any four changes. 4×1=4

“1992 में किए गए 74वें संविधान संशोधन में शहरी स्थानीय निकायों की संरचना तथा कार्यों में महत्वपूर्ण परिवर्तन किए गए।” किन्हीं चार परिवर्तनों की व्याख्या कीजिए।

- 19 Explain the functions of the State Legislature. 4×1=4

राज्य विधायिका के कार्यों की व्याख्या कीजिए।

- 20 “Discrimination against girls and women exists in every walk of life”. Support the statement. 4

“जीवन के प्रत्येक कदम में लड़कियों और महिलाओं के विरुद्ध भेदभाव विद्यमान है।” कथन की पुष्टि कीजिए।

- 21 Mention any eight values expressed in the ‘Preamble’ of the Indian Constitution.  $8 \times \frac{1}{2} = 4$

भारतीय संविधान की ‘प्रस्तावना’ में अभिव्यक्त किन्हीं आठ मूल्यों का उल्लेख कीजिए।

- 22 Explain the role of ‘revolutionaries’ and secret societies in the National Movement. 4

राष्ट्रीय आंदोलन में ‘क्रांतिकारियों’ तथा गुप्त समूहों के योगदान की व्याख्या कीजिए।

- 23 “The extremist movements going on in different parts of the country are a challenge to national integration”. Support the statement with examples. 4

“देश के कई भागों में चलाए जा रहे उग्रवादी आंदोलन राष्ट्रीय समाकलन के लिए एक बड़ी चुनौती बने हुए हैं।” कथन की उदाहरणों सहित पुष्टि कीजिए।



- 24 Describe the nature of popular resistance movements against British Rule. 5×1=5

ब्रिटिश शासन के विरुद्ध लोकप्रिय विद्रोही आंदोलनों की प्रकृति का वर्णन कीजिए।

- 25 “Elections, are the most important expression of ‘Public Opinion’.” 5  
Examine the statement with examples.

“चुनाव जनमत को व्यक्त करने का महत्वपूर्ण माध्यम है।” कथन का उदाहरणों सहित परख कीजिए।

- 26 Analyze the steps taken by the Government of India for economic empowerment of economically and socially disadvantaged groups. 5×1=5

सामाजिक और आर्थिक रूप से अभावग्रस्त वर्गों के आर्थिक सशक्तीकरण के लिए भारत सरकार द्वारा किए गए प्रयासों का विश्लेषण कीजिए।

- 27 Why is the Prime Minister considered as the most powerful functionary of the Union Government ? Explain with examples. 5×1=5

संघीय सरकार में प्रधानमंत्री को सबसे अधिक शक्तिशाली क्यों माना जाता है ? उदाहरणों सहित व्याख्या कीजिए।

- 28 On the given outline political map of India mark and label the following with appropriate symbols : 1×4=4

(28.1) Lakshadweep Islands

(28.2) River Tapi

(28.3) Indira Gandhi International Airport

(28.4) Gir National Park

दिए गए भारत के राजनीतिक रेखा मानचित्र में निम्नलिखित को उपयुक्त चिह्नों से दर्शाइए और उनके नाम लिखिए :

(28.1) लक्षद्वीप समूह

(28.2) तापी नदी

(28.3) इंदिरा गांधी अंतर्राष्ट्रीय हवाई अड्डा

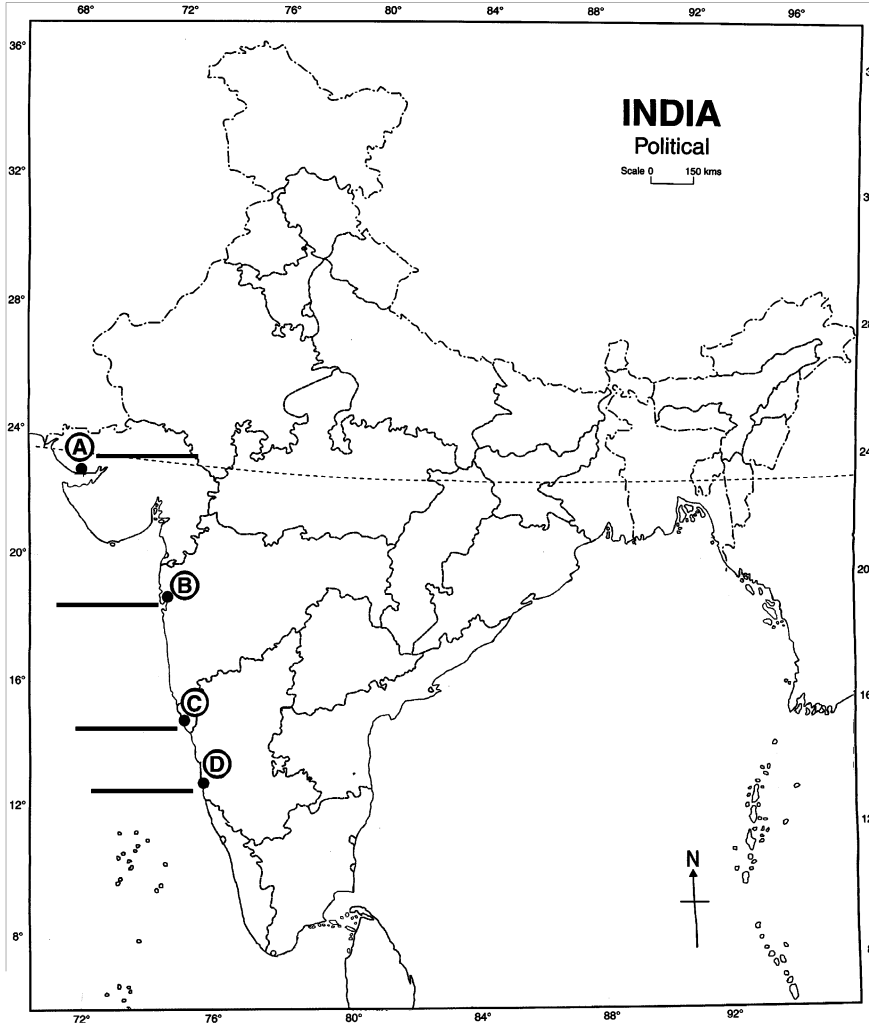
(28.4) गिर राष्ट्रीय अभ्यारण्य



- 29 Identify and write in your answer book the correct names of four major sea ports located on the Western Coast of India marked as A, B, C and D on the given outline political map of India.  $1 \times 4 = 4$

दिए गए भारत के राजनीतिक रेखा मानचित्र में भारत के पश्चिमी तट पर स्थित चार प्रमुख समुद्री बंदरगाहों को A, B, C और D से अंकित किया गया है। इन्हें पहचानिए तथा इनके सही नाम अपनी उत्तर-पुस्तिका में लिखिए।

**Political Map  
of India**



**Note :** Following questions are for visually impaired candidates only in place of questions 28 and 29. Answer to these questions must not be in more than one sentence.  $2 \times 4 = 8$

- (29.1) Name any two States sharing border with Bangladesh.  
 (29.2) Name the Capitals of Nagaland and Andhra Pradesh  
 (29.3) Name any two major cotton producing States of India.  
 (29.4) Name any two major rivers of Peninsular India.

**नोट :** निम्नलिखित प्रश्न केवल दृष्टिबाधित परीक्षार्थियों के लिए प्रश्न संख्या 28 तथा 29 के स्थान पर हैं। इन प्रश्नों में से प्रत्येक का उत्तर मात्र एक वाक्य में दीजिए।

- (29.1) बांग्लादेश की सीमा से लगे दो राज्यों के नाम लिखिए।  
 (29.2) नागालैंड और आंध्र प्रदेश राज्यों की राजधानियों के नाम लिखिए।  
 (28.3) भारत के किन्हीं दो प्रमुख कपास उत्पादक राज्यों के नाम लिखिए।  
 (29.4) प्रायद्वीपीय भारत की किन्हीं दो प्रमुख नदियों के नाम लिखिए।



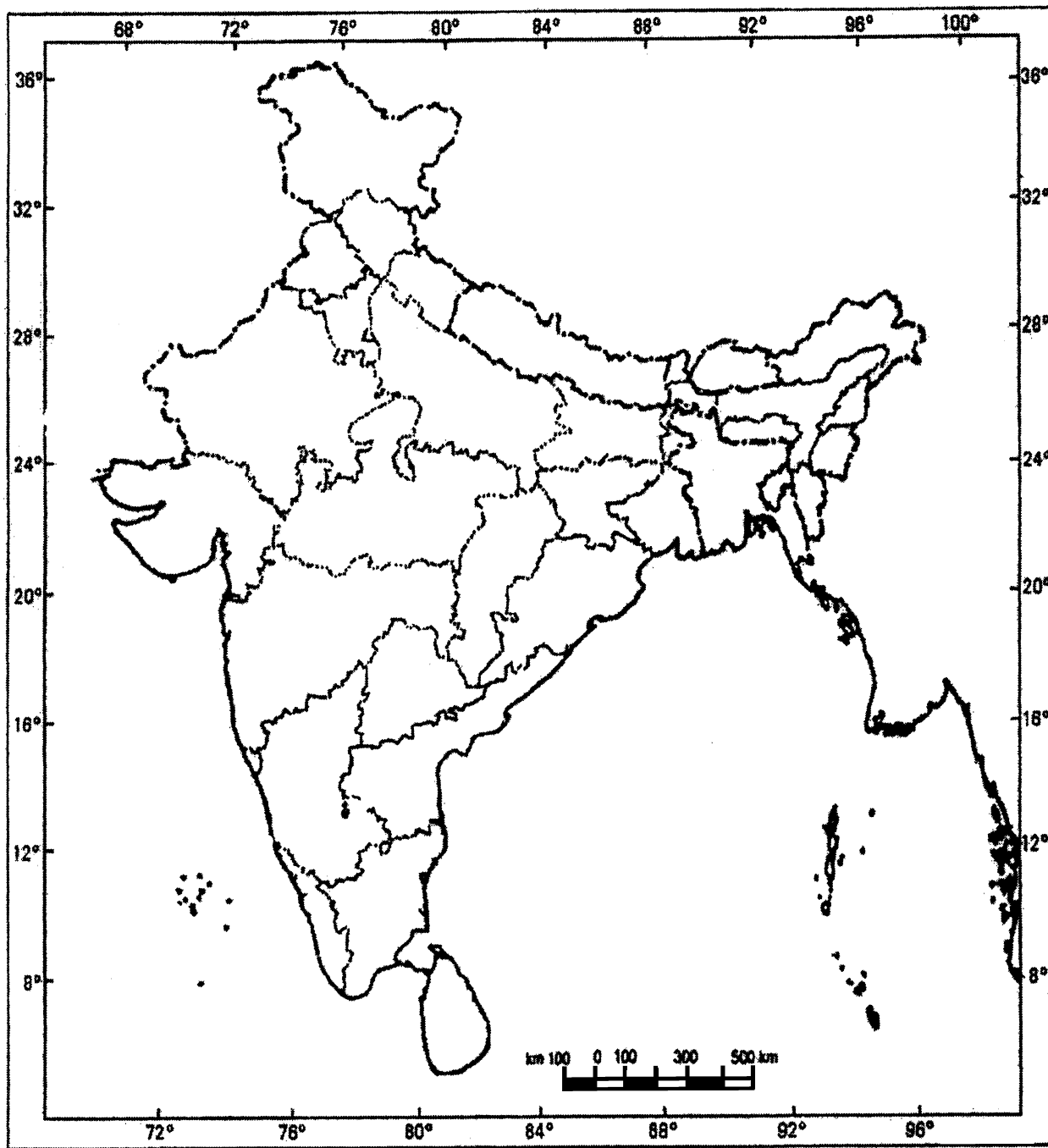
BLANK PAGE



Roll No.

--	--	--	--	--	--	--	--	--	--	--	--

## Political Map of India



This Question Paper consists of 29 questions and 6 printed pages + one outline map of India.  
આ પ્રશ્નપત્રમાં 29 પ્રશ્નો અને 6 છપાયેલાં પાનાં છે + ભારતનો એક રેખાંકિત નકશો.

Roll No. 

--	--	--	--	--	--	--	--	--	--	--

  
રોલ નંબર

Code No. 60/S/A/G  
કોડ નં.

Set - 

A
---

**SOCIAL SCIENCE**  
(સામાજિક વિજ્ઞાન)  
(213-G)

Day and Date of Examination  
(પરીક્ષાનો વાર અને તારીખ)

Signature of Invigilators  
(નિરીક્ષકની સહી)

1. \_\_\_\_\_  
2. \_\_\_\_\_

**General Instructions :**

- 1 Candidate must write his/her Roll Number on the first page of the Question Paper.
- 2 Please check the Question Paper to verify that the total pages and the total number of questions contained in the Question Paper are the same as those printed on the top of the first page. Also check to see that the questions are in sequential order.
- 3 For the objective type of questions, you have to choose any **one** of the four alternatives given in the question i.e. (A), (B), (C) or (D) and indicate your correct answer in the Answer-Book given to you.
- 4 All the questions including objective type questions are to be answered within the allotted time and no separate time limit is fixed for answering objective type questions.
- 5 Making any identification mark in the Answer-Book or writing Roll Number anywhere other than the specified places will lead to disqualification of the candidate.
- 6 Write your Question Paper code No. **60/S/A/G-A** on the Answer-Book.
- 7 The Question Paper is bilingual. In case of doubt, the English version should be considered as authentic.



**સામાન્ય નિર્દેશ :**

- 1 વિદ્યાર્થી તેનો રોલ નંબર પ્રશ્નપત્રના પહેલા પાને લખે.
- 2 પહેલાં પ્રશ્નપત્રને ચકાસી લેવું. પ્રશ્નપત્રમાં આપેલાં કુલ પાનાં અને પ્રશ્નોની સંખ્યા એટલી જ છે જેટલી પ્રથમ પાનાં ઉપર છે તે જોઈ લેવું અને પ્રશ્નો ક્રમવાર છે કે નહીં તે ચકાસી લેવું.
- 3 બહુવિકલ્પીય પ્રશ્નોના વિકલ્પો દા.ત. (A), (B), (C) અને (D) માંથી જે ઉત્તર લખવો હોય તેને આપેલી ઉત્તર પુસ્તિકામાં લખવો.
- 4 બહુવિકલ્પીય પ્રશ્નોની સાથે બધા પ્રશ્નોના ઉત્તર નિર્ધારિત કરેલા સમયમાં આપવા. બહુવિકલ્પીય પ્રશ્નો માટે અલગથી સમય નહીં આપવામાં આવે.
- 5 ઉત્તર પુસ્તિકામાં નિર્દેશ કરેલ સ્થાન સિવાય બીજા કોઈ પણ સ્થાને રોલ નંબર તથા અન્ય ચિહ્ન લખવાથી પરીક્ષાર્થીને અયોગ્ય ઠરાવવામાં આવશે.
- 6 પોતાની ઉત્તર પુસ્તિકા પર પ્રશ્નપત્રની કોડ સંખ્યા **60/S/A/G-A** લખવી.
- 7 પ્રશ્નપત્ર બે ભાષામાં છે. કોઈ પણ શંકા નિર્માણ થાય તો અંગ્રેજી ભાષાંતરને પ્રમાણભૂત ગણવું.



**SOCIAL SCIENCE**  
**(સામાજિક વિજ્ઞાન)**  
**(213-G)**

Time : 3 Hours]  
સમય : 3 કલાક]

[Maximum Marks : 100  
[કુલ ગુણ : 100

- Note :** (1) All questions are **compulsory** and carry marks as indicated against each question.  
(2) For Multiple Choice Questions **four** options are given. You have to choose right option and indicate it in your answer book.  
(3) Attach the map with answer script.
- નોંધ :** (1) બધા પ્રશ્નો અનિવાર્ય છે અને પ્રત્યેક પ્રશ્નની સામે તેના ગુણ દર્શાવ્યા છે.  
(2) બહુવિકલ્પીય પ્રશ્નો માટે ચાર વિકલ્પ આપવામાં આવ્યા છે. સાચા વિકલ્પને પસંદ કરી તમને આપેલ ઉત્તર પુસ્તિકામાં દર્શાવો.  
(3) નકશાને ઉત્તર પુસ્તિકા સાથે જોડી દેવો.

- 1 Hieroglyphics, the ancient script was related to which one of the following civilizations ? 1  
(A) Indian (B) Egyptian  
(C) Chinese (D) Mesopotamian  
નીચેનામાંથી કઈ સંસ્કૃતિ હાઈરોગ્લિફિક લિપિ સાથે સંબંધિત છે ?  
(A) ભારતીય (B) ઈજિપ્શીયન  
(C) ચાઈનીઝ (D) મેસોપોટેમીઅન
- 2 Which one of the following statements denotes the term 'Socialism' ? 1  
(A) Freedom to profess, preach and practise any religion.  
(B) Promoting social change to end all forms of inequalities.  
(C) Equal treatment without any discrimination.  
(D) Complete political freedom and supreme authority.  
નીચે આપેલા નિવેદનોમાંથી કયું એક 'સમાજવાદ' સૂચવે છે ?  
(A) કોઈ પણ ધર્મનો પ્રચાર, ઉપદેશ અને આચરણ કરવાની સ્વતંત્રતા  
(B) તમામ પ્રકારની અસમાનતાઓના અંત માટે સામાજિક પરિવર્તનને પ્રોત્સાહિત કરવું  
(C) કોઈ પણ ભેદભાવ વિના સમાન વ્યવહાર  
(D) સંપૂર્ણ રાજકીય સ્વતંત્રતા અને સર્વોચ્ચ અધિકાર
- 3 Which one of the following is related to man-made component of environment ? 1  
(A) Biosphere (B) Lithosphere  
(C) Hydrosphere (D) Agricultural fields  
નીચેનામાંથી કયું પર્યાવરણના માનવસર્જિત ઘટક સાથે જોડાયેલું છે ?  
(A) જૈવિક આવરણ (B) મૃદાવરણ  
(C) જલાવરણ (D) કૃષિક્ષેત્ર



- 4 Identify among the following 'Abiotic' component of environment. 1  
 (A) Plants (B) Animals  
 (C) Land (D) Humans  
 નીચેનામાંથી પર્યાવરણનું અજૈવિક ઘટક ઓળખો.  
 (A) છોડવા (B) પ્રાણીઓ  
 (C) જમીન (D) માનવી
- 5 Explain any two jewels of Jainism. 1×2=2  
 જૈન ધર્મના મુખ્ય બે આધારસ્તંભો જણાવો.
- 6 Explain with examples, any two causes that are responsible for the 2  
 loss of bio-diversity.  
 જૈવિક વિવિધતાનાં નુકસાન માટે જવાબદાર કોઈ પણ બે કારણો ઉદાહરણો દ્વારા સમજાવો.
- 7 Explain the two provisions that have been made under the 'Cultural 2  
 and Educational Rights'.  
 સાંસ્કૃતિક અને શૈક્ષણિક અધિકારો અંતર્ગત કોઈ પણ બે જોગવાઈઓ જણાવો.
- 8 Why is illiteracy still considered a major challenge to Indian democracy? Explain. 2  
 નિરક્ષરતા ભારતીય લોકશાહીનો મુખ્ય પડકાર શા માટે છે ? સમજાવો.
- 9 Describe the features of 'Arab Civilization' during the medieval period. 1×4=4  
 મધ્યયુગ દરમિયાન 'અરબ સભ્યતા'ની વિશેષતા જણાવો.
- 10 Describe the strategies used by the German leaders for the 1×4=4  
 unification of Germany.  
 જર્મનીના એકીકરણ માટે જર્મન નેતાઓ દ્વારા ઉપયોગમાં લેવાયેલી વ્યૂહરચનાઓનું વર્ણન કરો.
- 11 Describe the innovations and technological changes that took place 2+2=4  
 during the 'Industrial Revolution'.  
 ઔદ્યોગિક ક્રાંતિ દરમિયાન થયેલા ટેકનોલોજિકલ પરિવર્તનો અને નવીન શોધખોળોનું વર્ણન કરો.
- 12 Who introduced the 'Permanent Settlement' in Bengal and Bihar in 1793 ? 1+3=4  
 Describe any three features of the 'Permanent Settlement'.  
 ઈ.સ. 1793માં બંગાળ અને બિહારમાં કોણે સ્થાયી બંદોબસ્ત કરાવેલ ? સ્થાયી બંદોબસ્તની  
 કોઈ પણ ત્રણ લાક્ષણિકતાઓ વર્ણવો.
- 13 Explain the role of Swami Dayanand Saraswati as a socio-religious reformer. 1×4=4  
 સામાજિક-ધાર્મિક સુધારક તરીકે સ્વામી દયાનંદ સરસ્વતીની ભૂમિકા સમજાવો.
- 14 Why did some Tribal groups revolt against the British ? Explain. 1×4=4  
 શા માટે કેટલાંક આદિજાતિ જૂથોએ બ્રિટિશર્સ વિરુદ્ધ વિદ્રોહ કરેલો ? સમજાવો.
- 15 Classify the Deccan Plateau in two parts. Explain three features of each part. 1+3=4  
 ડેક્કનનાં ઉચ્ચપ્રદેશનું બે ભાગોમાં વર્ગીકરણ કરી, દરેકની ત્રણ વિશેષતા જણાવો.



- 16 “Indian Agriculture is facing challenges”. Support the statement. 4  
ભારતીય કૃષિક્ષેત્ર જે પડકારોનો સામનો કરી રહ્યું છે, તેના અનુસંધાનમાં નિવેદન આપો.
- 17 How are human activities responsible for global warming ? 1×4=4  
Explain with examples.  
માનવીની પ્રવૃત્તિઓ વૈશ્વિક તાપમાન માટે કેવી રીતે જવાબદાર છે ? ઉદાહરણ સહિત સમજાવો.
- 18 Mention the Directive Principles related to International Peace and Security. 1×4=4  
આંતરરાષ્ટ્રીય શાંતિ અને સલામતી સંબંધિત નિર્દેશિત સિદ્ધાંતોનો ઉલ્લેખ કરો.
- 19 State the main features of the composition of Zila Parishad. 1×4=4  
જિલ્લા પરિષદનાં બંધારણની મુખ્ય વિશેષતાઓ જણાવો.
- 20 Explain the discretionary powers of the Governor. 1×4=4  
રાજ્યપાલની વિવેકાધીન શક્તિઓનું વર્ણન કરો.
- 21 Explain the ‘Legislative’ and ‘Executive’ functions of Parliament. 2+2=4  
સંસદનાં કાયદાકીય અને કારોબારી કાર્યોને સમજાવો.
- 22 How is the ideology of Bhartiya Janta Party different from that of Indian National Congress Party ? Explain with examples. 4  
ભારતીય જનતા પાર્ટીની વિચારધારા, ભારતીય રાષ્ટ્રીય કોંગ્રેસથી કેવી રીતે જુદી પડે છે ? ઉદાહરણ સાથે સમજાવો.
- 23 How are ‘Linguism’ and ‘Extremism’ challenges to national integration ? 2+2=4  
Explain with examples.  
ભાષાવાદ અને ઉગ્રવાદ રાષ્ટ્રીય એકતા સામે કેવા પડકારો ઊભા કરે છે ? ઉદાહરણ સહિત સમજાવો.
- 24 Describe the main features of the elaborate programme laid down by Gandhiji during the Non-co-operation Movement against the British Government. 1×5=5  
બ્રિટિશ સરકાર સામેની ગાંધીજીની અસહકારની ચળવળ દરમિયાનના કાર્યક્રમને વિસ્તારથી સમજાવો.
- 25 Define the term ‘Sex Ratio’. Why is sex ratio unfavourable to women in India ? Explain. 1+4=5  
‘લિંગ પ્રમાણ’નો અર્થ આપી, ભારતમાં કેમ લિંગ પ્રમાણ સ્ત્રીઓ માટે પ્રતિકૂળ છે તે સમજાવો.
- 26 Explain the importance of different agencies and institutions that have been contributing to the formulation of Public Opinion. 1×5=5  
લોકમત (લોકોના અભિપ્રાયો)ના ઘડતરમાં ફાળો આપતી વિવિધ એજન્સીઓ અને સંસ્થાઓના મહત્વને સમજાવો.
- 27 “There are very wide regional disparities in India”. Support the statement. 1×5=5  
“ભારતમાં ખૂબ જ વિશાળ પ્રાદેશિક વિષમતા જોવા મળે છે.” આ વિધાનને સમર્થન આપો.



28 In the given political outline map of India, locate and label the following with appropriate symbols : 4×1=4

- (28.1) Aravalli Mountain range (28.2) Kaveri River  
(28.3) The Leading Coffee producing state (28.4) Dudwa Wildlife Sanctuary.

ભારતના રાજકીય રૂપરેખાના નકશામાં નીચેનાને યોગ્ય પ્રતીકો સાથે દર્શાવો અને લખો :

- (28.1) અરવલ્લી પર્વતમાળા (28.2) કાવેરી નદી  
(28.3) સૌથી વધુ કોફી ઉત્પન્ન કરતું રાજ્ય (28.4) દુડવા વન્યજીવન અભયારણ્ય

29 Identify the four major sea-ports shown as A, B, C and D on the given 4×1=4

political outline map of India and write their correct names in your answer book.

ભારતના રાજકીય રૂપરેખા દર્શાવતા નકશામાં A, B,

C અને D તરીકે

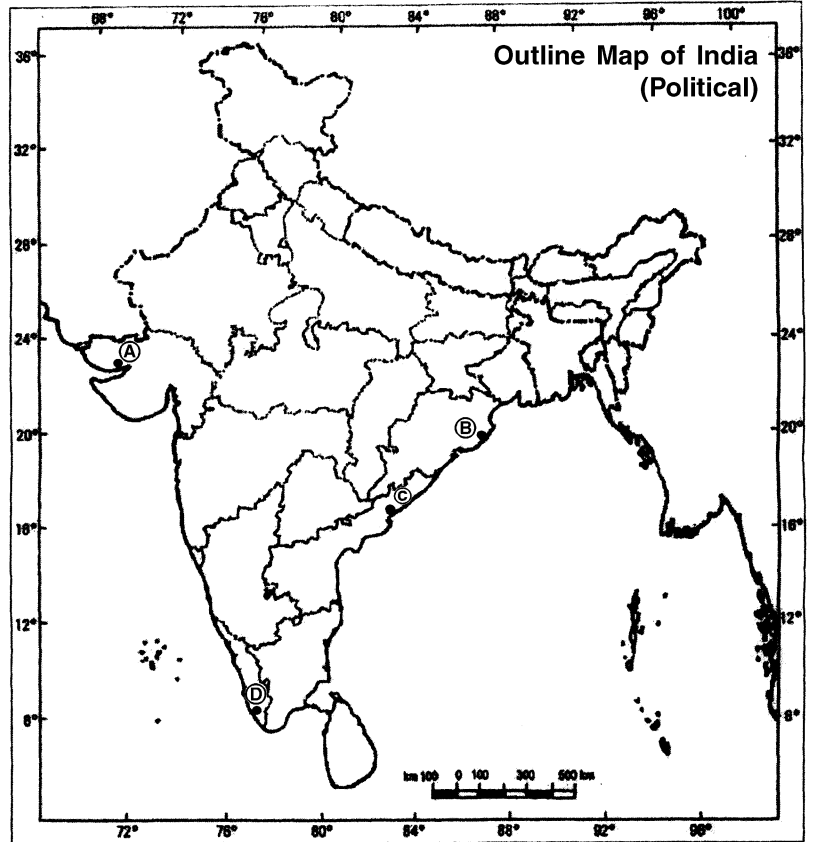
દર્શાવવામાં આવેલા ચાર

મોટા સમુદ્ર બંદરોની

ઓળખ કરો અને

તેનું સાચું નામ તમારી

ઉત્તર પુસ્તિકામાં લખો.



**Note :** The following questions are for the Visually Impaired Candidates only, in lieu of Q. No. 28 and 29.

(29.1) Name the highest peak of the world and highest peak of Himalayas in India. 1+1=2

(29.2) Name the two major rivers that form deltas in Andhra Pradesh. 1+1=2

(29.3) Name any two major plantation crops. 1+1=2

(29.4) Name the two major sea-ports located in West Bengal. 1+1=2

**નોંધ :** નીચેના પ્રશ્નો માત્ર દૃષ્ટિબાધિત ઉમેદવારો માટે જ પ્રશ્ન નં. 28 અને 29 ના સ્થાને આપેલ છે.

(29.1) વિશ્વનું સર્વોચ્ચ શિખર અને ભારતના હિમાલયના સર્વોચ્ચ શિખરનું નામ આપો.

(29.2) આંધ્રપ્રદેશની મુખ્ય બે નદીઓનાં નામ આપો, જે મુખત્રિકોણ પ્રદેશ બનાવે છે.

(29.3) મુખ્ય બે વાવેતર (બાગાયત) પાકનાં નામ આપો.

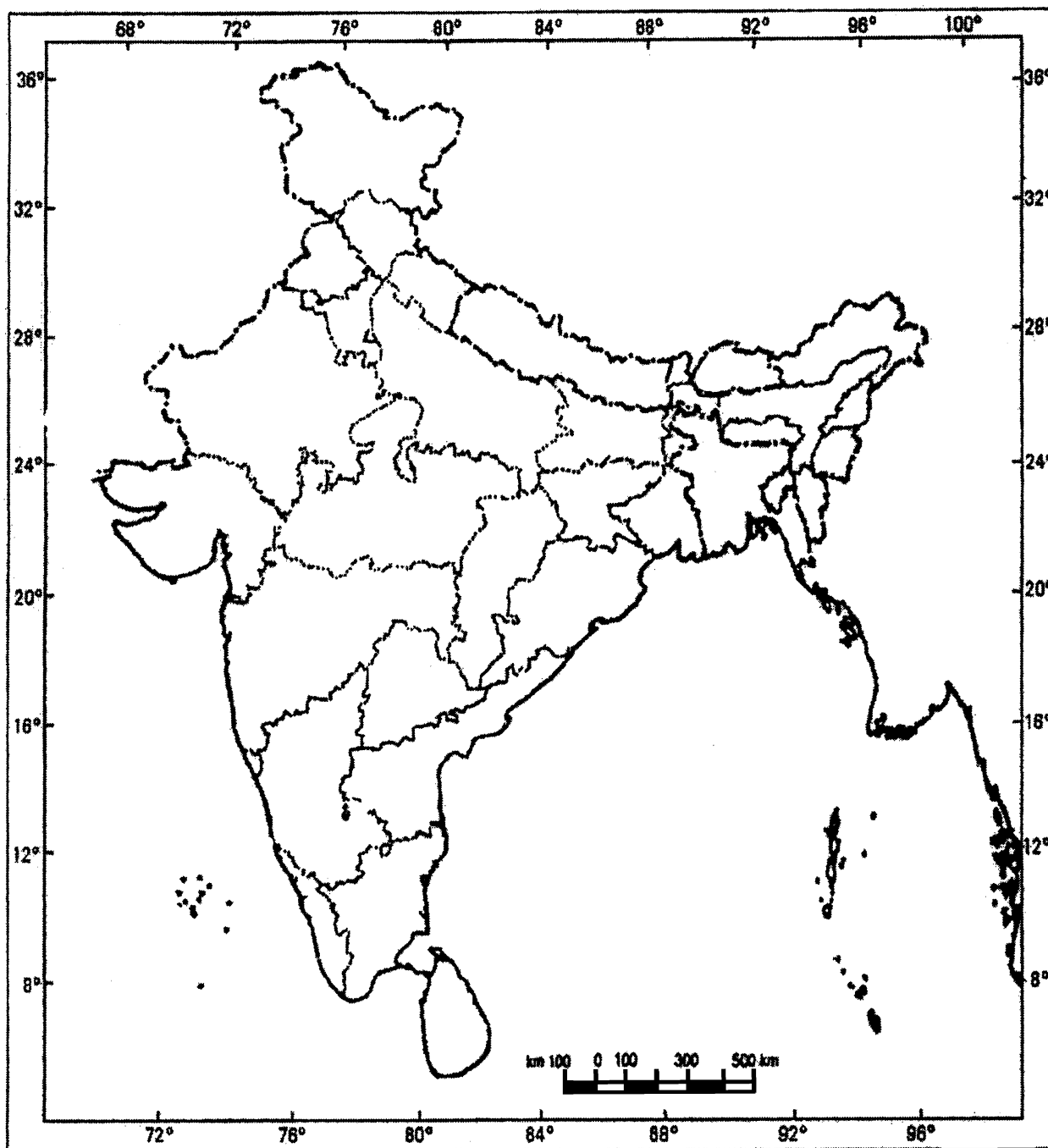
(29.4) પશ્ચિમ બંગાળના મુખ્ય બે સમુદ્ર બંદરોનાં નામ આપો.



Roll No.

--	--	--	--	--	--	--	--	--	--	--	--

## Political Map of India



This Question Paper consists of 29 questions and 6 printed pages + one outline map of India.  
ह्या प्रश्नपत्रिकेत एकूण 29 प्रश्न आणि 6 छपील पाने + भारताच्या नकाशा आहेत.

Roll No. 

--	--	--	--	--	--	--	--	--	--	--

  
अनुक्रमांक

Code No. 60/S/A/M  
कोड नं.

Set - **A**

**SOCIAL SCIENCE**  
(सामाजिक विज्ञान)  
(213-M)

Day and Date of Examination  
(परीक्षेचा दिवस आणि तारीख)

Signature of Invigilators  
(निरीक्षकाची सही)

1. \_\_\_\_\_  
2. \_\_\_\_\_

**General Instructions :**

- 1 Candidate must write his/her Roll Number on the first page of the Question Paper.
- 2 Please check the Question Paper to verify that the total pages and the total number of questions contained in the Question Paper are the same as those printed on the top of the first page. Also check to see that the questions are in sequential order.
- 3 For the objective type of questions, you have to choose any **one** of the four alternatives given in the question i.e. (A), (B), (C) or (D) and indicate your correct answer in the Answer-Book given to you.
- 4 All the questions including objective type questions are to be answered within the allotted time and no separate time limit is fixed for answering objective type questions.
- 5 Making any identification mark in the Answer-Book or writing Roll Number anywhere other than the specified places will lead to disqualification of the candidate.
- 6 Write your Question Paper code No. **60/S/A/M-A** on the Answer-Book.
- 7 The Question Paper is bilingual. In case of doubt, the English version should be considered as authentic.



**सामान्य सूचना :**

- 1** परीक्षार्थीने प्रश्नपत्रिकेच्या पहिल्या पृष्ठावर आपला अनुक्रमांक लिहावा.
- 2** कृपया प्रश्न-पत्र तपासून पहा. एकूण पृष्ठांची संख्या छापलेली आहे तेवढेच प्रश्न क्रमाने आहेत का ते पहा.
- 3** बहुपर्यायी प्रश्नांचे उत्तर लिहितांना दिलेल्या पर्यायांपैकी अचूक पर्याय (A), (B), (C), (D) निवडून उत्तरपत्रिकेत लिहा.
- 4** बहुपर्यायी प्रश्नांची उत्तर निर्धारित वेळेतच द्यावयाची आहेत यासाठी जास्त वेळ दिला जाणार नाही.
- 5** उत्तर-पत्रिकेत उमेदवाराची ओळख होईल किंवा योग्य त्या जागे व्यतिरिक्त बैठक क्रमांक लिहिणाऱ्या उमेदवारास अपात्र ठरविण्यात येईल.
- 6** आपल्या उत्तर-पत्रिकेत प्रश्नपत्रिकेचा कोड संख्या **60/S/A/M-A** अवश्य लिहावा.
- 7** प्रश्नपत्रिका दोन भाषांमध्ये आहे. प्रश्नांबाबत काही शंका असल्यास इंग्रजी रूपांतर प्रमाणभूत मानावे.



**SOCIAL SCIENCE**  
(सामाजिक विज्ञान)  
(213-M)

Time : 3 Hours]

वेळ : 3 तास]

[Maximum Marks : 100

[एकूण गुण : 100

- Note :** (1) All Questions are **compulsory** and carry marks as indicated against each question.  
(2) For Multiple Choice Questions **four** options are given. You have to choose right option and indicate it in your answer book.  
(3) Attach the map with answer script.
- सूचना :** (1) सर्व प्रश्न सोडविणे आवश्यक आहेत. प्रश्नांच्या समोर पूर्ण गुण दर्शविलेले आहेत.  
(2) बहुपर्यायी प्रश्नांसाठी चार पर्याय दिलेले असून अचूक पर्याय निवडून तुमच्या उत्तरपत्रिकेत लिहा.  
(3) तुम्हास पुरविलेला नकाशा मूळ उत्तरपत्रिकेस जोडा.

- 1 Hieroglyphics, the ancient script was related to which one of the following civilizations ? 1  
(A) Indian (B) Egyptian  
(C) Chinese (D) Mesopotamian  
हिरोग्लिफिक्स ही प्राचीन लिपी खालील पैकी कोणत्या संस्कृतीशी संबंधित आहे ?  
(A) भारतीय (B) इजिप्शीयन  
(C) चिनी (D) मेसोपोटॅमियन
- 2 Which one of the following statements denotes the term 'Socialism' ? 1  
(A) Freedom to profess, preach and practise any religion.  
(B) Promoting social change to end all forms of inequalities.  
(C) Equal treatment without any discrimination.  
(D) Complete political freedom and supreme authority.  
'समाजवाद' ही संकल्पना कोणत्या विधानाशी संबंधित आहे ?  
(A) धर्म प्रचार, धार्मिक कार्य आणि प्रसार याचे स्वातंत्र्य.  
(B) सामाजिक विषमता निर्माण करून सामाजिक बदल घडविणे.  
(C) कोणताही भेदभाव न करता समानतेची वागणूक.  
(D) राजकीय पूर्ण स्वातंत्र्य आणि सर्वोच्च अधिकार.
- 3 Which one of the following is related to man-made component of environment ? 1  
(A) Biosphere (B) Lithosphere  
(C) Hydrosphere (D) Agricultural fields  
खालील पैकी पर्यावरणातील मानवनिर्मित घटक कोणता ?  
(A) जीवावरण (B) मृदावरण  
(C) जलावरण (D) कृषि क्षेत्र



- 4 Identify among the following 'Abiotic' component of environment. 1  
 (A) Plants (B) Animals  
 (C) Land (D) Humans  
 खालील पैकी पर्यावरणातील अजैविक घटक ओळखा.  
 (A) वनस्पती (B) प्राणी  
 (C) जमीन (D) मानव
- 5 Explain any two jewels of Jainism. 1×2=2  
 जैन धर्माची कोणतीही दोन तत्त्वे स्पष्ट करा.
- 6 Explain with examples, any two causes that are responsible for the loss of bio-diversity. 2  
 जैव विविधतेच्या विनाशाला कारणीभूत असणारी दोन कारणे उदाहरणे देऊन स्पष्ट करा.
- 7 Explain the two provisions that have been made under the 'Cultural and Educational Rights'. 2  
 'सांस्कृतिक व शैक्षणिक हक्का' संदर्भात घटनेतील दोन तरतूदी स्पष्ट करा.
- 8 Why is illiteracy still considered a major challenge to Indian democracy? Explain. 2  
 भारतीय लोकशाही मध्ये 'निरक्षरता' कसे मोठे आव्हान आहे ? स्पष्ट करा.
- 9 Describe the features of 'Arab Civilization' during the medieval period. 1×4=4  
 मध्ययुगीन काळातील अरब संस्कृतीची वैशिष्ट्ये लिहा.
- 10 Describe the strategies used by the German leaders for the unification of Germany. 1×4=4  
 जर्मनीच्या एकत्रीकरणासाठी जर्मन नेत्यांनी कोणती पद्धत वापरली ते लिहा.
- 11 Describe the innovations and technological changes that took place during the 'Industrial Revolution'. 2+2=4  
 औद्योगिक क्रांतीच्या काळात नवीन शोध आणि तांत्रिक ज्ञानामुळे कोणते बदल झाले ?
- 12 Who introduced the 'Permanent Settlement' in Bengal and Bihar in 1793 ? 1+3=4  
 Describe any three features of the 'Permanent Settlement'.  
 सन 1793 मध्ये बंगाल आणि बिहार मध्ये कोणी 'कायमधारा की पद्धती' सुरू केली ? कायमधारा कर पद्धतीच्या तीन घटकांचे वर्णन करा.
- 13 Explain the role of Swami Dayanand Saraswati as a socio-religious reformer. 1×4=4  
 सामाजिक व धार्मिक सुधारक म्हणून स्वामी दयानंद सरस्वती यांचे कार्य स्पष्ट करा.
- 14 Why did some Tribal groups revolt against the British ? Explain. 1×4=4  
 ब्रिटीश राजवटीच्या विरुद्ध काही जमाती व टोळ्यांनी उठाव का केला ? स्पष्ट करा.
- 15 Classify the Deccan Plateau in two parts. Explain three features of each part. 1+3=4  
 दखनच्या पठाराचे दोन भाग लिहा. व प्रत्येक भागाची तीन वैशिष्ट्ये स्पष्ट करा.



- 16 “Indian Agriculture is facing challenges”. Support the statement. 4  
 “भारतीय शेतीसमोर आव्हाने आहेत” या विधानाचे स्पष्टीकरण द्या.
- 17 How are human activities responsible for global warming ? 1×4=4  
 Explain with examples.  
 जागतिक तापमानवाढीला मानवी व्यवसाय कसे कारणीभूत ठरतात ? उदाहरणे देऊन स्पष्ट करा.
- 18 Mention the Directive Principles related to International Peace and Security. 1×4=4  
 आंतरराष्ट्रीय शांतता व सुरक्षेशी संबंधित मार्गदर्शक तत्त्व नमूद करा.
- 19 State the main features of the composition of Zila Parishad. 1×4=4  
 जिल्हापरिषदेच्या रचनेची प्रमुख वैशिष्ट्ये स्पष्ट करा.
- 20 Explain the discretionary powers of the Governor. 1×4=4  
 राज्यपालांचे विवेकाधिकार स्पष्ट करा.
- 21 Explain the ‘Legislative’ and ‘Executive’ functions of Parliament. 2+2=4  
 संसदेचे कायदे करणे व कार्यकारी अधिकार ही कामे स्पष्ट करा.
- 22 How is the ideology of Bhartiya Janta Party different from that of Indian National Congress Party ? Explain with examples. 4  
 भारतीय जनता पक्षाची तत्त्वे ही भारतीय राष्ट्रीय काँग्रेसपक्षा पेक्षा कशी भिन्न आहेत ? उदाहरणासह स्पष्ट करा.
- 23 How are ‘Linguism’ and ‘Extremism’ challenges to national integration ? 2+2=4  
 Explain with examples.  
 ‘भाषावाद’ आणि ‘कट्टरतावाद’ हे राष्ट्रीय एकात्मतेसाठी कसे आव्हानात्मक आहेत ? उदाहरणासह स्पष्ट करा.
- 24 Describe the main features of the elaborate programme laid down by Gandhiji during the Nonco-operation Movement against the British Government. 1×5=5  
 ब्रिटीश धोरणांच्या विरुद्ध गांधीजींनी राबविलेल्या असहकार चळवळीच्या मुख्य वैशिष्ट्यांचे वर्णन करा.
- 25 Define the term ‘Sex Ratio’. Why is sex ratio unfavourable to women in India ? Explain. 1+4=5  
 “स्त्री-पुरुष प्रमाण” म्हणजे काय ? स्त्री-पुरुष प्रमाणाचा भारतीय स्त्रीयांवर होणारा प्रतिकूल परिणाम स्पष्ट करा.
- 26 Explain the importance of different agencies and institutions that have been contributing to the formulation of Public Opinion. 1×5=5  
 जनमत चाचणी घेणाऱ्या विविध माध्यमांचे व संस्थांच्या सहभागाचे महत्त्व स्पष्ट करा.
- 27 “There are very wide regional disparities in India”. Support the statement. 1×5=5  
 ‘भारतामध्ये मोठ्या प्रमाणात प्रादेशिक विषमता आहे.’ विधानाचे समर्थन करा.



28 In the given political outline map of India, locate and label the following with appropriate symbols. 4×1=4

- (28.1) Aravalli Mountain range (28.2) Kaveri River  
(28.3) The Leading Coffee producing state (28.4) Dudwa Wildlife Sanctuary.

खाली दिलेल्या भारताच्या राजकीय नकाशा आराखड्यामध्ये पुढील बाबी भरा, त्यास नावे द्या.  
व सुयोग्य सूची तयार करा.

- (28.1) अरवली पर्वत रांगा (28.2) कावेरी नदी  
(28.3) कॉफी उत्पादनातील अग्रेसर राज्य (28.4) दुधवा अभयारण्य

29 Identify the four major sea-ports shown as A, B, C and D on the given political outline map of India and write their correct names in your answer book. 4×1=4

भारताच्या नकाशा

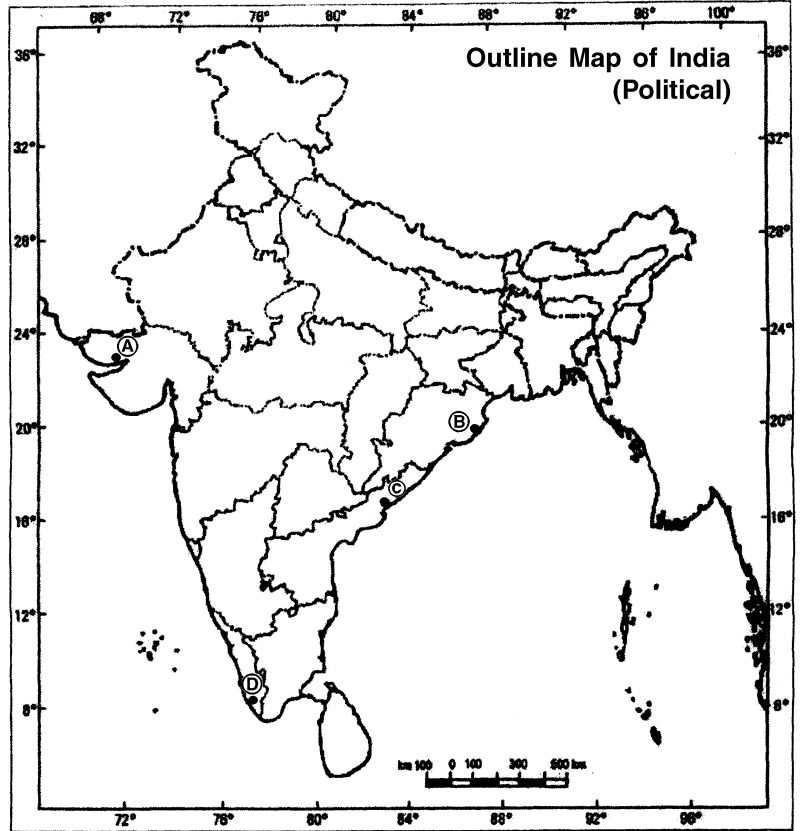
आराखड्यात क्रमांक

(A), (B), (C) आणि

(D) ने दर्शविलेल्या

चार बंदरांची अचूक

नावे लिहा.



**Note :** The following questions are for the Visually Impaired Candidates only, in lieu of Q. No. 28 and 29.

- (29.1) Name the highest peak of the world and highest peak of Himalayas in India. 1+1=2  
(29.2) Name the two major rivers that form deltas in Andhra Pradesh. 1+1=2  
(29.3) Name any two major plantation crops. 1+1=2  
(29.4) Name the two major sea-ports located in West Bengal. 1+1=2

**सूचना :** प्रश्न क्रमांक 28 आणि 29 ला पर्यायी प्रश्न फक्त अंध उमेदवारांसाठीच आहेत.

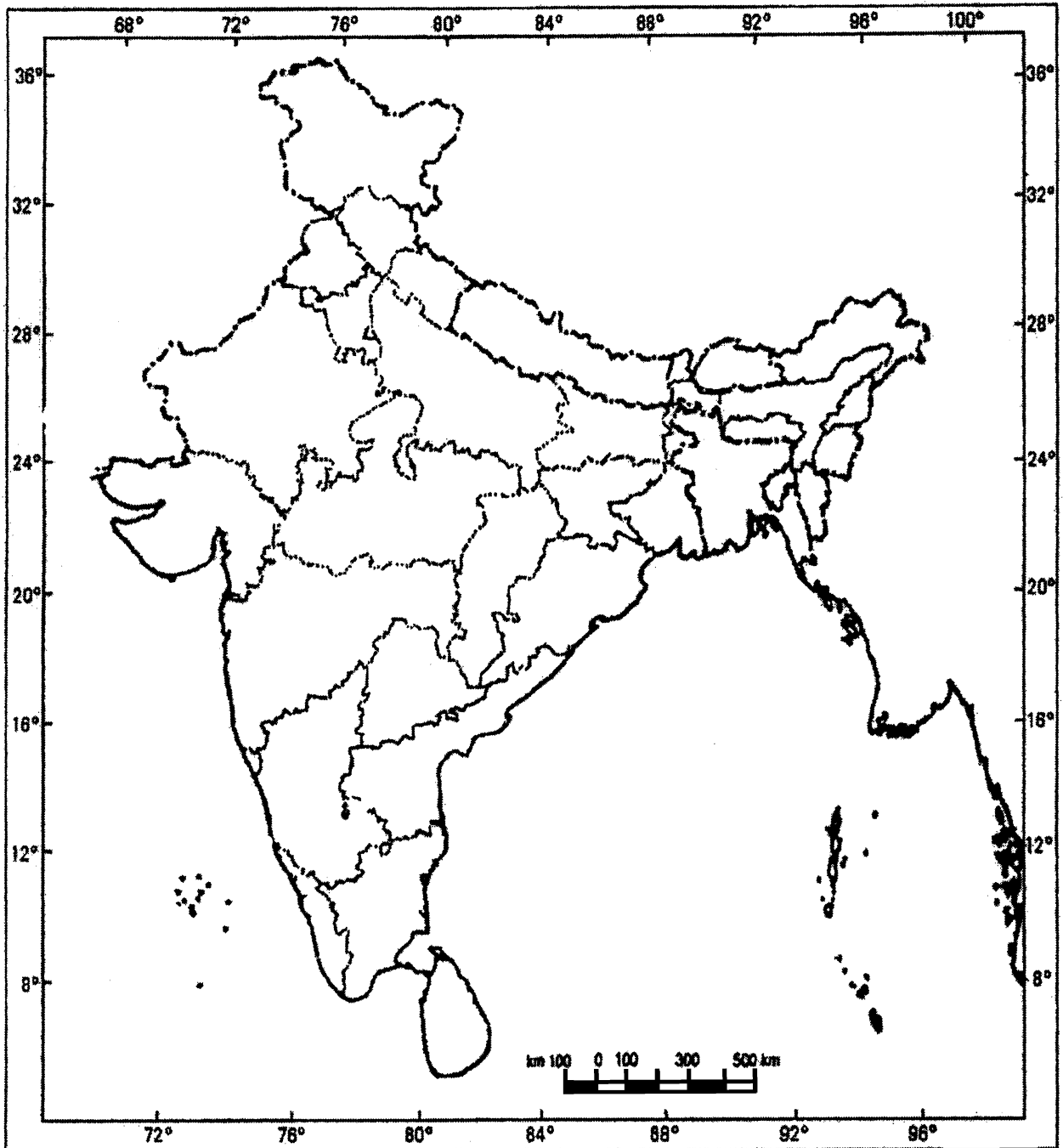
- (29.1) जगातील व भारतातील सर्वोच्च उंचीच्या हिमालयीन पर्वत शिखरांची नावे लिहा.  
(29.2) आंध्रप्रदेशातील त्रिभुज प्रदेश निर्माण करणाऱ्या दोन प्रमुख नद्यांची नावे लिहा.  
(29.3) मळयाच्या शेतीतील प्रमुख दोन पिकांची नावे लिहा.  
(29.4) पश्चिम बंगाल मधील दोन सागरी बंदरांची नावे लिहा.



Roll No.

--	--	--	--	--	--	--	--	--	--	--	--

## Political Map of India



**This question paper consists of 29 questions and 10 printed pages + one outline map of India.**

ଏହି ପ୍ରଶ୍ନପତ୍ରରେ ମୋଟ 29 ଟି ପ୍ରଶ୍ନ ଅଛି ଏବଂ 10 ମୁଦ୍ରିତ ପୃଷ୍ଠା ଅଛି + ଗୋଟିଏ ଭାରତ ମାନ ଚିତ୍ର ଅଛି ।

**Roll No.**

ରୋଲ୍ ନମ୍ବର

--	--	--	--	--	--	--	--	--	--	--	--

**Code No. 60/S/A/OR**

କୋଡ୍ ନମ୍ବର

**Set - A**

## **SOCIAL SCIENCE**

(ସାମାଜିକ ବିଜ୍ଞାନ)

**(213-OR)**

**Day and Date of Examination**

ପରୀକ୍ଷା ତାରିଖ ଓ ଦିନ

---

**Signature of Invigilators**

1.

---

ନିରୀକ୍ଷକଙ୍କ ସ୍ୱାକ୍ଷର

2.

---

### **General Instructions :**

- 1 Candidate must write his/her Roll Number on the first page of the Question Paper.
- 2 Please check the Question Paper to verify that the total pages and the total number of questions contained in the Question Paper are the same as those printed on the top of the first page. Also check to see that the questions are in sequential order.
- 3 For the objective type of questions, you have to choose any **one** of the four alternatives given in the question i.e. (A), (B), (C) or (D) and indicate your correct answer in the Answer-Book given to you.
- 4 All the questions including objective type questions are to be answered within the allotted time and no separate time limit is fixed for answering objective type questions.
- 5 Making any identification mark in the Answer-Book or writing Roll Number anywhere other than the specified places will lead to disqualification of the candidate.
- 6 Write your Question Paper code No. **60/S/A/OR-A** on the Answer-Book.
- 7 The Question Paper is bilingual. In case of doubt, the English version should be considered as authentic.



## ପରୀକ୍ଷାର୍ଥୀଙ୍କ ପାଇଁ ବିଶେଷସୂଚନା

- 1 ଏହି ପ୍ରଶ୍ନ ପତ୍ରର ଉପରେ ଥିବା ଯଥା ସ୍ଥାନରେ ତୁମର ରୋଲ୍ ନମ୍ବର ଲେଖ । (ଗୋଟିଏ କୋଠାରେ କେବଳ ଗୋଟିଏ ଅଙ୍କ ରହିବ)
- 2 ପ୍ରଶ୍ନ ପତ୍ର ପାଇବା କ୍ଷଣି ସେଥିରେ ଥିବା ମୋଟ ପୃଷ୍ଠା ସଂଖ୍ୟା ଏବଂ ମୋଟ ପ୍ରଶ୍ନ ସଂଖ୍ୟା ଏହି ପୃଷ୍ଠାର ଉପରେ ଲେଖା ଯାଇଥିବା ସଂଖ୍ୟା ସହ ଠିକ୍ ଅଛି କି ନାହିଁ ଦେଖିନିଅ । ପ୍ରଶ୍ନଗୁଡ଼ିକ କ୍ରମାନୁସାରେ ଅଛି କି ନାହିଁ ଦେଖ ।
- 3 ବସ୍ତୁନିଷ୍ଠ ପ୍ରଶ୍ନରେ (A), (B), (C) ଓ (D) ଭାବେ ଚାରୋଟି ବିକଳ୍ପ ଉତ୍ତର ଅଛି । ସେଥି ମଧ୍ୟରୁ ଠିକ୍ ଉତ୍ତରଟିକୁ ବାଛି ତୁମକୁ ଦିଆଯାଇଥିବା ଉତ୍ତର ଖାତାରେ ଲେଖ ।
- 4 ବସ୍ତୁନିଷ୍ଠ ପ୍ରଶ୍ନଗୁଡ଼ିକୁ ମିଶାଇ ସମସ୍ତ ପ୍ରଶ୍ନର ଉତ୍ତର ନିର୍ଦ୍ଧାରିତ ସମୟ ଅବଧି ମଧ୍ୟରେ କରିବାକୁ ହେବ ଏବଂ ବସ୍ତୁନିଷ୍ଠ ପ୍ରଶ୍ନଗୁଡ଼ିକର ଉତ୍ତର କରିବାପାଇଁ ଅଲଗା ସମୟ ଦିଆଯିବ ନାହିଁ ।
- 5 ଉତ୍ତର ଖାତାରେ କୌଣସି ସଂକେତ ଲେଖିଲେ କିମ୍ବା ଦର୍ଶାଯାଇଥିବା ସ୍ଥାନ ବ୍ୟତୀତ ଅନ୍ୟ କେଉଁଠି ରୋଲ୍ ନମ୍ବର ଲେଖିଲେ ତୁମକୁ ଅଯୋଗ୍ୟ କରାଯିବ ।
- 6 ଏହି ପ୍ରଶ୍ନପତ୍ରର ଉପରେ ଲେଖାଯାଇଥିବା କୋଡ୍ ନମ୍ବର **60/S/A/OR-A** ତୁମକୁ ଦିଆଯାଇଥିବା ଉତ୍ତରଖାତାର ଯଥା ସ୍ଥାନରେ ଲେଖ ।
- 7 ଏହି ପ୍ରଶ୍ନପତ୍ର ଦୁଇ ଭାଷାରେ ଉପଲବ୍ଧ । କୌଣସି ପରିସ୍ଥିତିରେ ସନ୍ଦେହ ହେଲେ ଇଂରାଜୀ ରୂପାନ୍ତରକୁ ମାନ୍ୟ ବିବେଚନା କରାଯିବ ।



# SOCIAL SCIENCE

(ସାମାଜିକ ବିଜ୍ଞାନ)

(213-OR)

Time : 3 Hours]

[Maximum Marks : 100

ସମୟ : 3 ଘଣ୍ଟା]

[ସର୍ବାଧିକ ମାର୍କସ : 100

- Note :**
- (1) All questions are **compulsory** and carry marks as indicated against each question.
  - (2) For Multiple Choice Questions **four** options are given. You have to choose right option and indicate it in your answer book.
  - (3) Attach the map with answer script.

- ସୂଚନା :**
- (1) ସମସ୍ତ ପ୍ରଶ୍ନ ଗୁଡ଼ିକ ବାଧ୍ୟତାମୂଳକ ଅଟେ ଏବଂ ପ୍ରତ୍ୟେକ ପ୍ରଶ୍ନ କଡ଼ରେ ସୂଚାଯିବାପରି ମାର୍କସ ଥିବା ସହାର ମୂଲ୍ୟ ଅଟେ ।
  - (2) ମଲ୍ଟିପୁଲ୍ ଚଏସ ପ୍ରଶ୍ନର ଚାରିଟି ବିକଳ୍ପ ଦିଆଯାଇଛି । ସଠିକ ଉତ୍ତର ଚିହ୍ନି ବାଛି ତୁମ ଉତ୍ତର ଖାତାରେ ଲେଖ ।
  - (3) ଦିଆଯାଇଥିବା ମାନଚିତ୍ର ଉତ୍ତର ପୁସ୍ତିକା ସାଙ୍ଗରେ ଜୋଡ଼ି ଦିଅ ।

1 Hieroglyphics, the ancient script was related to which one of the following civilizations ? 1

- (A) Indian (B) Egyptian  
(C) Chinese (D) Mesopotamian

ନିମ୍ନଲିଖିତ ସଭ୍ୟତା ମଧ୍ୟରୁ ଛବିଲିପି, ପ୍ରାଚୀନ ଲିପି କାହା ସଂପର୍କିତ ?

- (A) ଭାରତୀୟ (B) ମିଶରୀୟ  
(C) ଚୀନ (D) ମେସୋପଟାମିଆ



2 Which one of the following statements denotes the term ‘Socialism’ ? 1

- (A) Freedom to profess, preach and practise any religion.
- (B) Promoting social change to end all forms of inequalities.
- (C) Equal treatment without any discrimination.
- (D) Complete political freedom and supreme authority.

ନିମ୍ନଲିଖିତ କେଉଁ ତତ୍ତ୍ୱ ‘ସମାଜବାଦ’କୁ ନିର୍ଦ୍ଦେଶ କରେ ?

- (A) ଯେ କୌଣସି ଧର୍ମକୁ ମୁକ୍ତଭାବେ ପେଷା, ପ୍ରଚାର ଓ ବ୍ୟବହାର କରିବା ।
- (B) ଅସମାନତାକୁ ବନ୍ଦ କରି ସାମାଜିକ ପରିବର୍ତ୍ତନରେ ବୃଦ୍ଧି ।
- (C) ବାଛ ବିଚାର ବିନା ସମାନ ବ୍ୟବହାର ।
- (D) ସଂପୂର୍ଣ୍ଣ ରାଜନୈତିକ ସ୍ୱାଧୀନତା ଏବଂ ସର୍ବୋଚ୍ଚ କର୍ତ୍ତୃପକ୍ଷ ।

3 Which one of the following is related to man-made component of environment ? 1

- (A) Biosphere
- (B) Lithosphere
- (C) Hydrosphere
- (D) Agricultural fields

ନିମ୍ନଲିଖିତ ମଧ୍ୟରୁ କେଉଁ ଗୋଟିକ ମନୁଷ୍ୟକୃତ ପରିବେଶ ?

- (A) ବାୟୋସ୍ଫିୟର
- (B) ଲିଥୋସ୍ଫିୟର
- (C) ହାଇଡ୍ରୋସ୍ଫିୟର
- (D) ଚାଷ ଜମି

4 Identify among the following ‘Abiotic’ component of environment. 1

- (A) Plants
- (B) Animals
- (C) Land
- (D) Humans

ନିମ୍ନଲିଖିତ ମଧ୍ୟରୁ ପରିବେଶର ନିର୍ଜୀବ ଉପାଦାନ -

- (A) ଉଦ୍ଭିଦ
- (B) ଜୀବଜନ୍ତୁ
- (C) ଭୂମି
- (D) ମନୁଷ୍ୟ



5 Explain any two jewels of Jainism. 1×2=2

ଜୈନଧର୍ମର ଦୁଇଟି ରତ୍ନ ଉଲ୍ଲେଖ କର ।

6 Explain with examples, any two causes that are responsible for the loss of bio-diversity. 2

ଜୈବ-ବିଭିଧତା ପତନର ଦୁଇଟି କାରଣ ଉଦାହରଣ ସହ ବର୍ଣ୍ଣନା କର ।

7 Explain the two provisions that have been made under the ‘Cultural and Educational Rights’. 2

ସାଂସ୍କୃତିକ-ଶିକ୍ଷା ଅଧିକାରରେ କେଉଁ ଦୁଇଟି ବ୍ୟବସ୍ଥା ଆସୁଛି ଉଲ୍ଲେଖ କର ।

8 Why is illiteracy still considered a major challenge to Indian democracy ? Explain. 2

ନିରକ୍ଷରତା ଭାରତୀୟ ଗଣତନ୍ତ୍ର ପାଇଁ ଆହ୍ୱାନ କାହିଁକି ? ବ୍ୟାଖ୍ୟା କର ।

9 Describe the features of ‘Arab Civilization’ during the medieval period. 1×4=4

ମଧ୍ୟଯୁଗରେ ଆରବ ସଭ୍ୟତାର ବୈଶିଷ୍ଟ୍ୟମାନ ବର୍ଣ୍ଣନା କର ।

10 Describe the strategies used by the German leaders for the unification of Germany. 1×4=4

ଜର୍ମାନୀ ଏକତ୍ରିକରଣରେ ଜର୍ମାନୀ ନେତୃବୃନ୍ଦଙ୍କ କୌଶଳ ବର୍ଣ୍ଣନା କର ।

11 Describe the innovations and technological changes that took place during the ‘Industrial Revolution’. 2+2=4

ଶିଳ୍ପ ବିପ୍ଳବରେ ନୂତନ କୌଶଳ ଏବଂ ବୈଷୟିକ ପରିବର୍ତ୍ତନର ଉଲ୍ଲେଖ କର ।



- 12 Who introduced the 'Permanent Settlement' in Bengal and Bihar in 1793 ? 1+3=4  
Describe any three features of the 'Permanent Settlement'.

1793 ରେ ବେଙ୍ଗଲ ଓ ବିହାରରେ କିଏ ଚିରସ୍ଥାୟୀ ବନ୍ଦୋବସ୍ତ ପ୍ରଚଳନ କରିଥିଲେ ?  
ଚିରସ୍ଥାୟୀ ବନ୍ଦୋବସ୍ତର ତିନୋଟି ବୈଶିଷ୍ଟ୍ୟମାନ ଉଲ୍ଲେଖ କର ।

- 13 Explain the role of Swami Dayanand Saraswati as a socio-religious reformer. 1×4=4

ସାମାଜିକ-ଧାର୍ମିକ ସଂସ୍କାରକ ଭାବେ ଦୟାନନ୍ଦ ସରସ୍ୱତୀଙ୍କ ଭୂମିକା ଉଲ୍ଲେଖ କର ।

- 14 Why did some Tribal groups revolt against the British ? Explain. 1×4=4

ଈଋଜମାନଙ୍କ ବିରୁଦ୍ଧରେ କାହିଁକି କେତେକ ଆଦିବାସୀ ଗୋଷ୍ଠି ବିପ୍ଳବ କରିଥିଲେ ? ଉଲ୍ଲେଖ କର ।

- 15 Classify the Deccan Plateau in two parts. Explain three features of each part. 1+3=4

ଦାକ୍ଷୀଣାତ୍ୟ ମାଳଭୂମିର ଦୁଇ ବର୍ଗିକରଣ କର । ପ୍ରତ୍ୟେକ ବର୍ଗର ତିନୋଟି ବୈଶିଷ୍ଟ୍ୟ ବ୍ୟାଖ୍ୟା କର ।

- 16 "Indian Agriculture is facing challenges". Support the statement. 4

ଭାରତୀୟ କୃଷି ଆହ୍ୱାନର ସମ୍ମୁଖିନ ହେଉଛି । ଉଚ୍ଛିର ସତ୍ୟତା ପ୍ରତିପାଦନ କର ।

- 17 How are human activities responsible for global warming ? 1×4=4  
Explain with examples.

ବିଶ୍ୱତାପାୟନ ପାଇଁ ମନୁଷ୍ୟର କାର୍ଯ୍ୟକଳାପ କିପରି ଦାୟୀ ? ଉଦାହରଣ ସହ ଉଲ୍ଲେଖ କର ।

- 18 Mention the Directive Principles related to International Peace and Security. 1×4=4

ଆନ୍ତର୍ଜାତୀୟ ଶାନ୍ତି ଓ ସୁରକ୍ଷା ପାଇଁ ରାଷ୍ଟ୍ରୀୟ ନିର୍ଦ୍ଦେଶାବଳୀ କେତେଦୂର ଦାୟୀ ଉଲ୍ଲେଖ କର ।



**19** State the main features of the composition of Zila Parishad. **1×4=4**

ଜିଲ୍ଲା ପରିଷଦ ଗଠନରେ ମୁଖ୍ୟ ବୈଶିଷ୍ଟ୍ୟମାନ ବ୍ୟକ୍ତ କର ।

**20** Explain the discretionary powers of the Governor. **1×4=4**

ରାଜ୍ୟପାଳଙ୍କ ଇଚ୍ଛାଧୀନ କ୍ଷମତା ବ୍ୟାଖ୍ୟା କର ।

**21** Explain the ‘Legislative’ and ‘Executive’ functions of Parliament. **2+2=4**

ସଂସଦର ବ୍ୟବସ୍ଥାପିକା ଓ କାର୍ଯ୍ୟପାଳିକା କାର୍ଯ୍ୟମାନ ଉଲ୍ଲେଖ କର ।

**22** How is the ideology of Bhartiya Janta Party different from that of Indian National Congress Party ? Explain with examples. **4**

ଭାରତୀୟ ଜନତା ଦଳର ଆଦର୍ଶ କିପରି ଭାବେ ଭାରତୀୟ କଂଗ୍ରେସ ଠାରୁ ଭିନ୍ନ ଥିଲା ?  
ଉଦାହରଣ ସହ ଉଲ୍ଲେଖ କର ।

**23** How are ‘Linguism’ and ‘Extremism’ challenges to national integration ? **2+2=4**  
Explain with examples.

କିପରି ଭାବେ ‘ଭାଷାବାଦ’ ଏବଂ ‘ଉଗ୍ରବାଦ’ ଜାତୀୟ ସଂହତି ପାଇଁ ଆହ୍ୱାନ ? ଉଦାହରଣ ସହ  
ବ୍ୟାଖ୍ୟା କର ।

**24** Describe the main features of the elaborate programme laid down by Gandhiji during the Nonco-operation Movement against the British Government. **1×5=5**

ବ୍ରିଟିଶ ସରକାରଙ୍କ ବିରୁଦ୍ଧରେ ଅସହଯୋଗ ଆନ୍ଦୋଳନ ସମୟରେ ଗାନ୍ଧିଜୀଙ୍କ ଦ୍ୱାରା ଛିରିକୃତ ବିସ୍ତୃତ  
କାର୍ଯ୍ୟକ୍ରମର ମୁଖ୍ୟ ବୈଶିଷ୍ଟ୍ୟ ଗୁଡ଼ିକୁ ବର୍ଣ୍ଣନା କର ।



- 25 Define the term ‘Sex Ratio’. Why is sex ratio unfavourable to women in India ? Explain. 1+4=5

‘ଲିଙ୍ଗ ଅନୁପାତ’ର ସଂଜ୍ଞା ଲେଖ । କାହିଁକି ଲିଙ୍ଗ ଅନୁପାତ ଭାରତୀୟ ନାରୀଙ୍କ ସପକ୍ଷରେ ଯାଏନାହିଁ ? ବର୍ଣ୍ଣନା କର ।

- 26 Explain the importance of different agencies and institutions that have been contributing to the formulation of Public Opinion. 1×5=5

ଜନମତ ଗଠନ ପାଇଁ ବିଭିନ୍ନ ସଂସ୍ଥା ଓ ଅନୁଷ୍ଠାନର ଗୁରୁତ୍ୱ ଓ ଅବଦାନ ବର୍ଣ୍ଣନା କର ।

- 27 “There are very wide regional disparities in India”. Support the statement. 1×5=5

“ଭାରତରେ ଆଞ୍ଚଳିକ ବୈଷମ୍ୟ ବାଦ ବହୁଳଭାବେ ଦେଖାଯାଏ ।” ଉକ୍ତିର ସତ୍ୟତା ପ୍ରତିପାଦନ କର ।

- 28 In the given political outline map of India, locate and label the following with appropriate symbols. 4×1=4

(28.1) Aravalli Mountain range

(28.2) Kaveri River

(28.3) The Leading Coffee producing state

(28.4) Dudwa Wildlife Sanctuary.

ପ୍ରଦତ୍ତ ଭାରତର ରାଜନୈତିକ ରୈଖିକ ମାନଚିତ୍ରର ନିମ୍ନୋକ୍ତ ଗୁଡ଼ିକୁ ସଠିକ୍ ଚିହ୍ନ ସହ ଦର୍ଶାଅ :

(28.1) ଆରାବଲୀ ପର୍ବତମାଳା

(28.2) କାବେରୀ - ନଦୀ

(28.3) ମୁଖ୍ୟ କଫି ଉତ୍ପାଦନକାରୀ ରାଜ୍ୟ

(28.4) ଦୁଧୱା ବନ୍ୟଜନ୍ତୁ ଅଭୟାରଣ୍ୟ

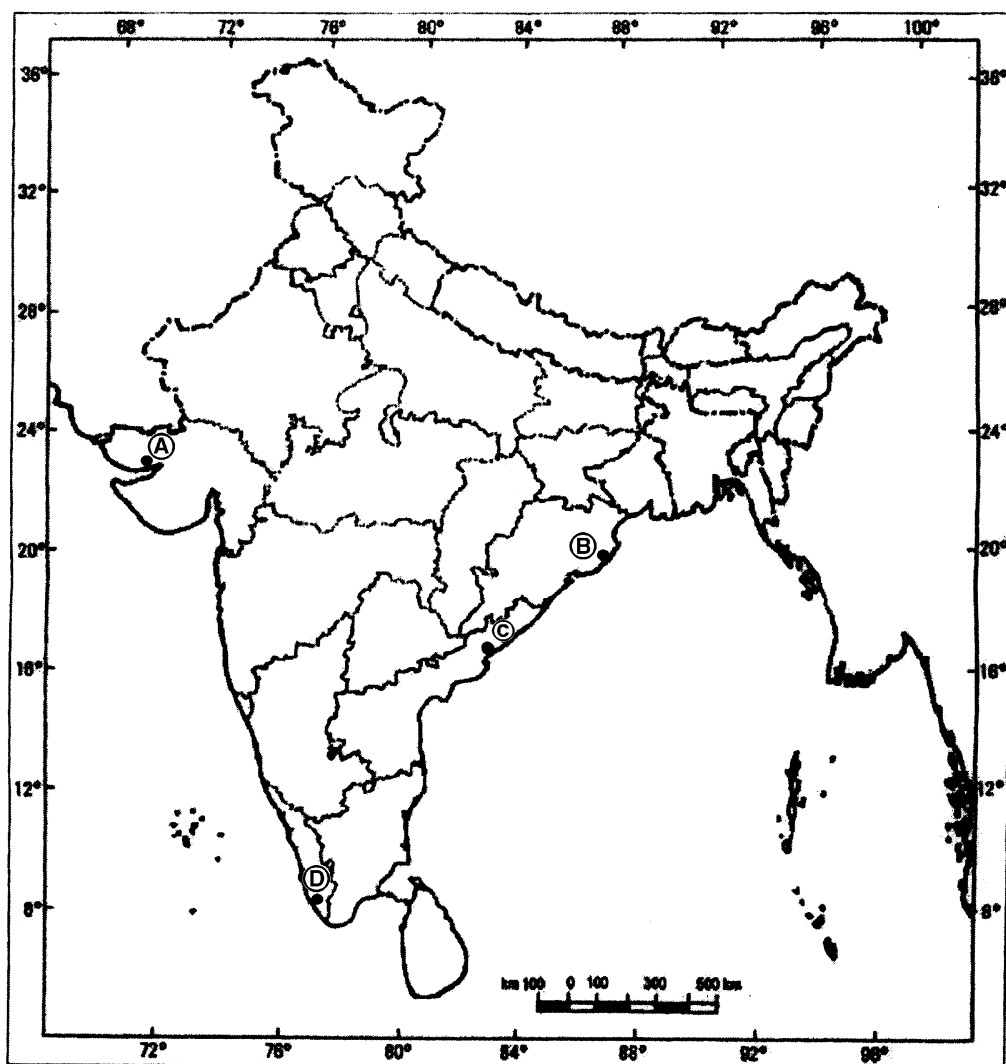


- 29 Identify the four major sea-ports shown as A, B, C and D on the given political outline map of India and write their correct names in your answer book.

4×1=4

ପ୍ରଦତ୍ତ ଭାରତୀୟ ରାଜନୈତିକ ରୈଖିକ ମାନଚିତ୍ରରେ A, B, C ଏବଂ D ଲିଖିତ ସ୍ଥାନ ମାନଙ୍କରେ ଚାରୋଟି ପ୍ରମୁଖ ସାମୁଦ୍ରିକ ବନ୍ଦର ଚିହ୍ନିତ ଓ ସଠିକ୍ ନାମ ନିଜ ଉତ୍ତର ଖାତାରେ ଲେଖ ।

### Outline Map of India (Political)



**Note :** The following questions are for the Visually Impaired Candidates only, in lieu of **Q. No. 28 and 29.**

- (29.1) Name the highest peak of the world and highest peak of Himalayas in India. **1+1=2**
- (29.2) Name the two major rivers that form deltas in Andhra Pradesh. **1+1=2**
- (29.3) Name any two major plantation crops. **1+1=2**
- (29.4) Name the two major sea-ports located in West Bengal. **1+1=2**

**ଟିପ୍ପଣୀ :** ନିମ୍ନସ୍ଥ ପ୍ରଶ୍ନ କେବଳ ଦୃଷ୍ଟିବାଧିତ ପରୀକ୍ଷାର୍ଥୀଙ୍କ ପାଇଁ ଉଦ୍ଦିଷ୍ଟ ଉପରୋକ୍ତ ପ୍ରଶ୍ନ **28 ଏବଂ 29** ପରିବର୍ତ୍ତେ ।

- (29.1) ପୃଥିବୀର ସର୍ବୋଚ୍ଚ ଶିଖର କିଏ ଓ ଭାରତରେ ହିମାଳୟର ସର୍ବୋଚ୍ଚ ଶିଖର କିଏ ?
- (29.2) ଆନ୍ଧ୍ରପ୍ରଦେଶର ଡେଲ୍ଟା ପ୍ରସ୍ତୁତିରେ ମୁଖ୍ୟ ଦୁଇ ନଦୀଙ୍କ ନାମ ଲେଖ ।
- (29.3) ଦୁଇଟି ମୁଖ୍ୟ ଶସ୍ୟ ଉତ୍ପାଦନର ନାମ ଲେଖ ।
- (29.4) ପଶ୍ଚିମ-ବଙ୍ଗଳାର ଦୁଇ ପ୍ରମୁଖ ସାମୁଦ୍ରିକ ବନ୍ଦରର ନାମ ଲେଖ ।
- 

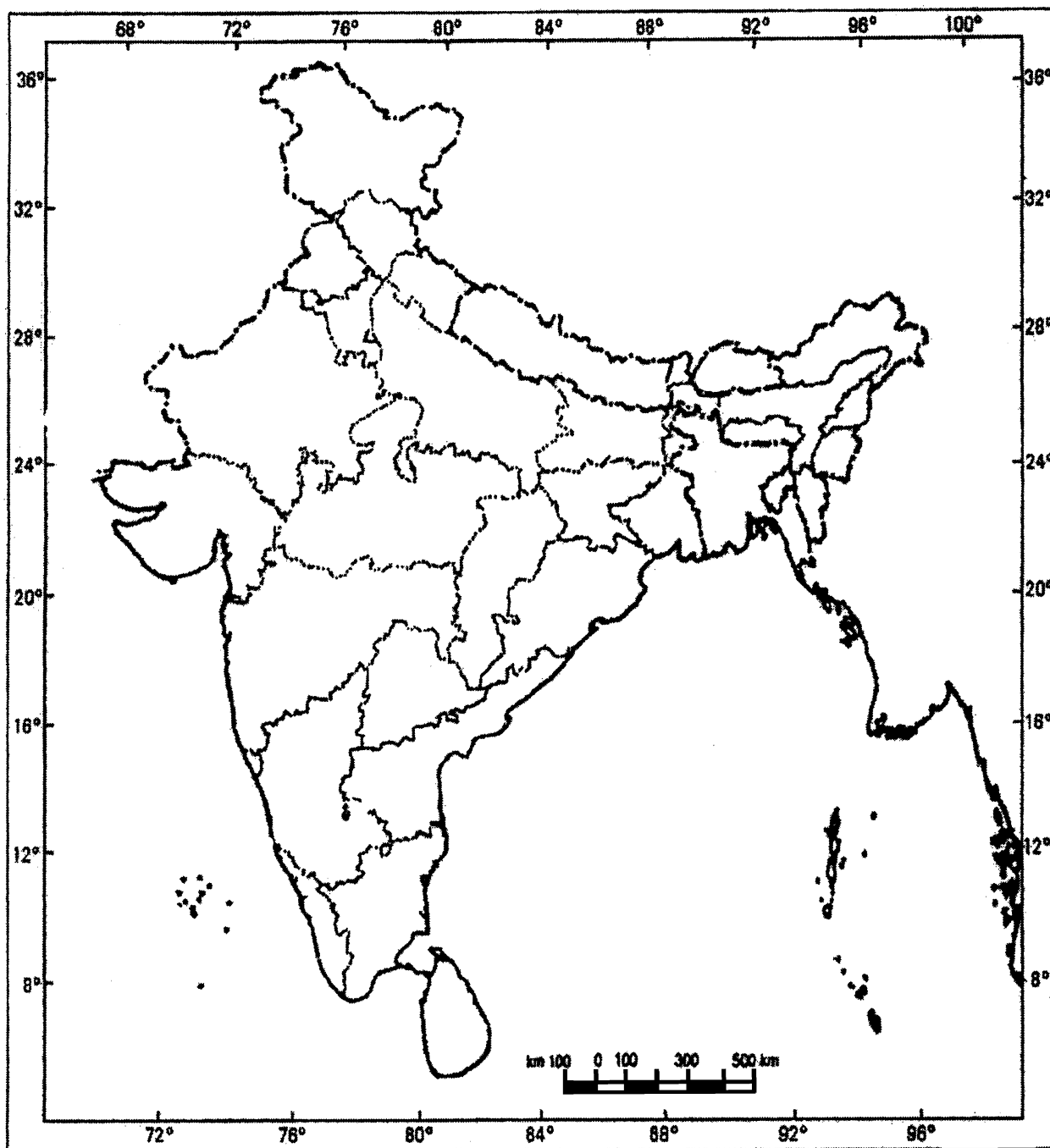


Roll No.

--	--	--	--	--	--	--	--	--	--	--	--

Q. No. 28

**Outline Map of India (Political)**



This question paper consists of 29 questions and 10 printed pages + map.

இந்த வினாத்தாளில் 29 வினாக்களும், 10 அச்சிடப்பட்ட பக்கங்களும் உள்ளன + வரைபடம்.

Roll No.

பதிவெண் :

--	--	--	--	--	--	--	--	--	--	--	--

Code No. 60/S/A/TM

குறியீடு எண் :

Set - **A**

## SOCIAL SCIENCE

(சமூக அறிவியல்)

(213-TM)

Day and Date of Examination

(தேர்வு நாள்) :

\_\_\_\_\_

Signature of Invigilators

1.

\_\_\_\_\_

(தேர்வு மேற்பார்வையாளர்களின்

கையொப்பங்கள்) :

2.

\_\_\_\_\_

### General Instructions :

- 1 Candidate must write his/her Roll Number on the first page of the Question Paper.
- 2 Please check the Question Paper to verify that the total pages and the total number of questions contained in the Question Paper are the same as those printed on the top of the first page. Also check to see that the questions are in sequential order.
- 3 For the objective type of questions, you have to choose any **one** of the four alternatives given in the question i.e. (A), (B), (C) or (D) and indicate your correct answer in the Answer-Book given to you.
- 4 All the questions including objective type questions are to be answered within the allotted time and no separate time limit is fixed for answering objective type questions.
- 5 Making any identification mark in the Answer-Book or writing Roll Number anywhere other than the specified places will lead to disqualification of the candidate.
- 6 Write your Question Paper code No. **60/S/A/TM-A** on the Answer-Book.
- 7 The Question Paper is bilingual. In case of doubt, the English version should be considered as authentic.



### யொதுவான அறிவுரைகள் :

- 1 தேர்வர் தனது வினாத்தாளின் முதற்பக்கத்தில் தனது பதிவெண்ணை எழுதிட வேண்டும்.
- 2 முதற்பக்கத்தின் மேற்பகுதியில் குறிப்பிட்டுள்ளவாறு மொத்த பக்கங்கள், வினாக்களின் மொத்த எண்ணிக்கை ஆகியவை வினாத்தாளில் உள்ளனவா என்பதை தயவு செய்து சரிபார்த்துக் கொள்க.
- 3 பலவுள் தெரிவு (objective type) வினாக்களில் கொடுக்கப்பட்டுள்ள (A), (B), (C) மற்றும் (D) ஆகிய நான்கு மாற்று விடைகளில் உங்களுடைய விடையைக் கொடுக்கப்பட்டுள்ள விடைப்புத்தகத்தில் குறிப்பிடுக.
- 4 பலவுள் தெரிவு வினாக்கள் உள்ளிட்ட அனைத்து வினாக்களுக்கும் அனுமதிக்கப்பட்ட காலவரம்புக்குள் விடையளித்திட வேண்டும். பலவுள் தெரிவு வினாக்களுக்கென தனியாக கூடுதல் நேரம் அனுமதிக்கப்படவில்லை.
- 5 விடைப்புத்தகத்தில் பதிவெண்ணுக்கென ஒதுக்கப்பட்டுள்ள இடத்தைத் தவிர வேறு எந்த இடத்திலும் பதிவெண்ணைக் குறிப்பதோ, வேறு அடையாளக் குறிகளிடவதோ கூடாது. அவ்வாறு செய்தால் உங்கள் தேர்வு செல்லத்தக்கதாகாது.
- 6 உங்களது வினாத்தாளின் பதிவு எண் **60/S/A/TM-A** ஐ விடைத்தாளில் எழுதவும்.
- 7 ஏதேனும் சந்தேகங்கள் ஏற்பட்டால் ஆங்கிலத்தில் கொடுத்துள்ளதை சரிபார்த்து விடையளிக்கவும்.



**SOCIAL SCIENCE**  
**(சமூக அறிவியல்)**  
**(213-TM)**

Time : 3 Hours]

[Maximum Marks : 100

நேரம் : 3 மணி]

[மொத்த மதிப்பெண்கள் : 100

- Note :** (1) All questions are **compulsory** and carry marks as indicated against each question.
- (2) For Multiple Choice Questions **four** options are given. You have to choose right option and indicate it in your answer book.
- (3) Attach the map with answer script.

- குறிப்பு :** (1) அனைத்து வினாக்களுக்கும் கட்டாயம் விடையளிக்கவும். ஒவ்வொரு வினாவுக்கு எதிரிலேயே அதற்குரிய மதிப்பெண் குறிப்பிடப்பட்டுள்ளது.
- (2) பலவுள் தெரிவு வினாக்களுக்கு நான்கு மாற்று விடைகள் கொடுக்கப்பட்டுள்ளன. சரியான விடையைத் தேர்ந்தெடுத்து அதனை உங்களது விடைத்தாளில் எழுதவும்.
- (3) விடைத்தாளுடன் வரைபடத்தையும் இணைத்திடுக.

1 Hieroglyphics, the ancient script was related to which one of the following civilizations ? 1

- (A) Indian (B) Egyptian  
(C) Chinese (D) Mesopotamian

ஹெரோகிளிபிக்ஸ் எனும் முற்கால கையெழுத்து கீழ்க்காணும் எந்த நாகரிகத்துடன் தொடர்புடையதாகும்.

- (A) இந்திய (B) எகிப்திய  
(C) சீன (D) மெசாபோட்டோமிய



2 Which one of the following statements denotes the term 'Socialism' ? 1

- (A) Freedom to profess, preach and practise any religion.
- (B) Promoting social change to end all forms of inequalities.
- (C) Equal treatment without any discrimination.
- (D) Complete political freedom and supreme authority.

பின்வரும் கூற்றுக்களில் சமதருமத்தைக் குறிப்பிடுவது எது ?

- (A) எந்தவொரு சமயத்தை / மதத்தைப் பின்பற்றவோ, பாப்பிடவோ உள்ள உரிமை.
- (B) அனைத்து வகையான ஏற்றத் தாழ்வுகளையும் ஒழித்திட சமூக மாற்றங்களை வளர்த்தல்.
- (C) எந்தப் பாகுபாட்டில்லாமல் சமமாக நடத்துதல்.
- (D) முழுமையான அரசியல் சுதந்திரமும் அதிகமாக அதிகாரமும்.

3 Which one of the following is related to man-made component of environment ? 1

- (A) Biosphere
- (B) Lithosphere
- (C) Hydrosphere
- (D) Agricultural fields

பின்வருவனவற்றில் மனிதனால் உருவாக்கப்பட்டச் சுற்றுச் சூழல் பகுதி எது ?

- (A) உயிர்க்கோளம்
- (B) லிக்தோகோளம்
- (C) நீர்க்கோளம்
- (D) வேளாண்மை நிலங்கள்

4 Identify among the following 'Abiotic' component of environment. 1

- (A) Plants
- (B) Animals
- (C) Land
- (D) Humans

பின்வருவனவற்றில் சுற்றுச் சூழல் பகுதிகளின் உயிரற்றவை எவையென அடையாளம் காண்க.

- (A) தாவரங்கள்
- (B) விலங்குகள்
- (C) நிலம்
- (D) மனிதர்கள்

5 Explain any two jewels of Jainism. 1×2=2

உயர்வாக மதிக்கப்படும் சமணகோட்பாடுகள் எவையெனும் இரண்டினை விளக்குக.



- 6 Explain with examples, any two causes that are responsible for the loss of bio-diversity. 2

உயிர் சுழற்சி இழப்பின் காரணங்கள் இரண்டினைக் கூறி எடுத்துக்காட்டுகள் தருக.

- 7 Explain the two provisions that have been made under the 'Cultural and Educational Rights'. 2

பண்பாடு மற்றும் கல்வி உரிமைகள் வழங்கிடும் இரண்டு பிரிவுகளை (ஊரத்துகளை) க் குறிப்பிடுக.

- 8 Why is illiteracy still considered a major challenge to Indian democracy ? Explain. 2

இந்திய ஜனநாயகத்துக்கு கல்வியின்மை என்பது ஏன் இன்னமும் ஒரு பெரிய சவாலாகக் கருதப்படுகிறது ? விளக்குக.

- 9 Describe the features of 'Arab Civilization' during the medieval period. 1×4=4

இடைக்கால அரேபிய நாகரிகத்தின் சிறப்பியல்புகளை விளக்குக.

- 10 Describe the strategies used by the German leaders for the unification of Germany. 1×4=4

ஜெர்மனியை ஒன்றுபடுத்த, ஜெர்மானிய தலைவர்கள் பயன்படுத்திய அணுகுமுறைகள் பற்றி விவரிக்க.

- 11 Describe the innovations and technological changes that took place during the 'Industrial Revolution'. 2+2=4

தொழிற் புரட்சியின் போது ஏற்பட்ட புதிய கண்டுபிடிப்புகள், தொழில்நுட்ப மாறுதல்கள் ஆகியவை பற்றி விவரிக்க.



- 12 Who introduced the 'Permanent Settlement' in Bengal and Bihar in 1793 ? 1+3=4  
Describe any three features of the 'Permanent Settlement'.

1793 ஆம் ஆண்டில் வங்காளத்திலும், பீகாரிலும் நிரந்தரக் குடியிருப்புச் சட்டத்தை அறிமுகப்படுத்தியவர் யார் ? நிரந்தர குடியிருப்புச் சட்டத்தின் சிறப்பியல்புகள் எவையேனும் மூன்றினை விவரிக்க.

- 13 Explain the role of Swami Dayanand Saraswati as a socio-religious reformer. 1×4=4

ஒரு சமூக சமய சீர்திருத்தவாதியாக சுவாமி தயானந்த சரசுவதியின் பங்கினைப் பற்றி விளக்குக.

- 14 Why did some Tribal groups revolt against the British ? Explain. 1×4=4

பிரிட்டிஷாரை எதிர்த்து ஏன் சில மலை ஜாதி குழுவினர் கலகம் செய்தனர் ? விளக்குக.

- 15 Classify the Deccan Plateau in two parts. Explain three features of each part. 1+3=4

தக்காண பீடபூமியை இரு பகுதிகளாக வகைப்படுத்துக. ஒவ்வொரு பகுதியின் சிறப்பியல்புகள் மூன்றினை விளக்குக.

- 16 "Indian Agriculture is facing challenges". Support the statement. 4

"இந்திய விவசாயம் பெரிய சவால்களை நோக்கியுள்ளது." - இக்கூற்றுக்கு ஆதரவாக விளக்கம் கூறுக.

- 17 How are human activities responsible for global warming ? 1×4=4  
Explain with examples.

உலக வெப்ப மயமாதலுக்கு மனித நடவடிக்கைகள் எவ்வாறு காரணமாகின்றன ? எடுத்துக் காட்டுகளுடன் விளக்குக.



18 Mention the Directive Principles related to International Peace and Security. 1×4=4

சர்வதேச அமைதி மற்றும் பாதுகாப்பு தொடர்பான அரசமைப்புச் சட்ட வழிகாட்டு நெறிகளைக் குறிப்பிடுக.

19 State the main features of the composition of Zila Parishad. 1×4=4

ஜில்லா பரிஷத் அமைப்பின் முக்கியமான இயல்புகளைக் கூறுக.

20 Explain the discretionary powers of the Governor. 1×4=4

ஆளுநரின் விருப்பப்படி செய்யும் அதிகாரங்களை விளக்குக.

21 Explain the 'Legislative' and 'Executive' functions of Parliament. 2+2=4

நாடாளுமன்றத்தின் சட்டபூர்வ நடவடிக்கைகளையும், நிருவாக நடவடிக்கைகளையும் விளக்குக.

22 How is the ideology of Bhartiya Janta Party different from that of Indian National Congress Party ? Explain with examples. 4

பாரதிய ஜனதா கட்சியின் கொள்கை இந்திய தேசிய காங்கிரசின் கொள்கையிலிருந்து எவ்வாறு வேறுபட்டது. எடுத்துக் காட்டுகளுடன் விளக்குக.

23 How are 'Linguism' and 'Extremism' challenges to national integration ? Explain with examples. 2+2=4

மொழியுணர்வும் தீவிரவாதமும் தேசிய ஒருமைப் பாட்டிற்கு எவ்வாறு சவால்களாக அமைகின்றன ?

24 Describe the main features of the elaborate programme laid down by Gandhiji during the Nonco-operation Movement against the British Government. 1×5=5

ஆங்கிலேய அரசுக்கு எதிராக ஒத்துழையாமை இயக்கத்தின் போது காந்தியடிகள் வகுத்தளித்தத் திட்டங்களின் சிறப்பியல்புகளை விவரிக்க.



- 25 Define the term 'Sex Ratio'. Why is sex ratio unfavourable to women in India ? Explain. 1+4=5

‘பாலின வீதம்’ என்பதன் வரையறை தருக. இந்தியாவில் பெண்களுக்கு பாலின வீதமானது ஏன் மிகவும் பாதகமாக இருக்கிறது ?

- 26 Explain the importance of different agencies and institutions that have been contributing to the formulation of Public Opinion. 1×5=5

பொதுக் கருத்தை உருவாக்குவதற்குப் பங்களிக்கும் பல்வேறு முகமைகள் (ஏஜன்சி) பற்றியும், நிறுவனங்கள் பற்றியும் அவற்றின் முக்கியத்துவம் பற்றியும் விளக்குக.

- 27 “There are very wide regional disparities in India”. Support the statement. 1×5=5

“இந்தியாவில் மாநிலங்களிடையே பெருத்த வேறுபாடுகள் உள்ளன.” இக்கவற்றுக்கு ஆதரவாக விளக்கமளிக்க.

- 28 In the given political outline map of India, locate and label the following with appropriate symbols. 4×1=4

(28.1) Aravalli Mountain range

(28.2) Kaveri River

(28.3) The Leading Coffee producing state

(28.4) Dudwa Wildlife Sanctuary.

கொடுக்கப்பட்டுள்ள இந்திய அரசியல் வரைபடத்தில் கீழ்க்காணும் இடங்களைக் குறிப்பிட்டு, அவற்றின் அமைவிடங்களையும் குறித்துக் காட்டுக.

(28.1) ஆரவல்லி மலைத் தொடர்கள்

(28.2) காவேரி ஆறு

(28.3) காபி உற்பத்தி செய்யும் முன்னணி மாநிலம்

(28.4) துவா வனவிலங்குகள் சரணாலயம்.

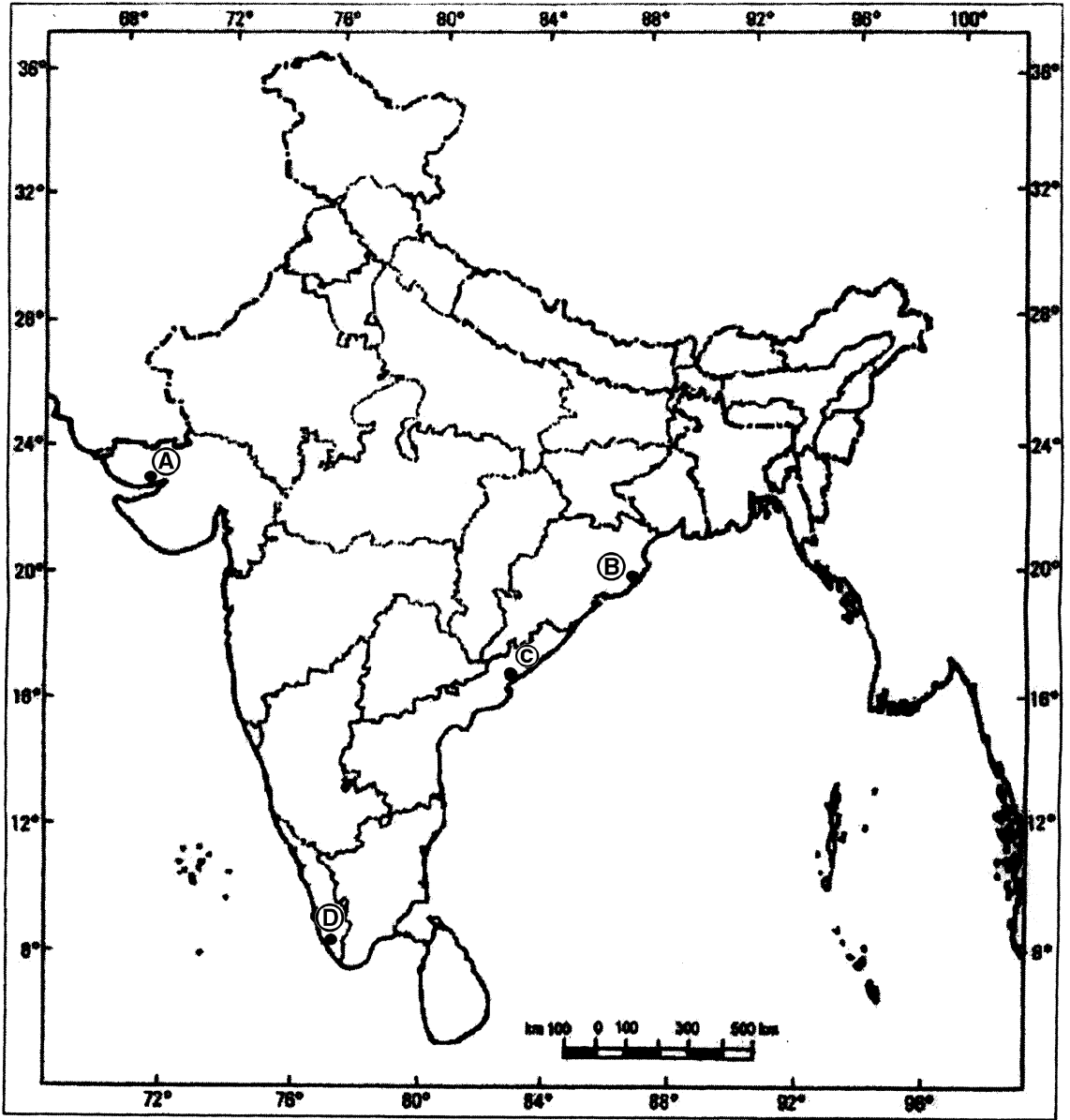


- 29 Identify the four major sea-ports shown as A, B, C and D on the given political outline map of India and write their correct names in your answer book.

4×1=4

கொடுக்கப்பட்ட இந்திய அரசியல் வரைபடத்தில் A, B, C மற்றும் D எனக் குறிப்பிடப்பட்டுள்ள முக்கியமான துறைமுகங்களை அடையாளம் கண்டு, அவற்றுக்கான சரியான பெயர்களை உங்களுடைய விடைப் புத்தகத்தில் எழுதுக.

### Outline Map of India (Political)



**Note :** The following questions are for the Visually Impaired Candidates only, in lieu of **Q. No. 28 and 29.**

- (29.1) Name the highest peak of the world and highest peak of Himalayas in India. **1+1=2**
- (29.2) Name the two major rivers that form deltas in Andhra Pradesh. **1+1=2**
- (29.3) Name any two major plantation crops. **1+1=2**
- (29.4) Name the two major sea-ports located in West Bengal. **1+1=2**

**குறிப்பு :** வினா எண் 28 க்கும், 29 க்கும் பதிலாகக் கொடுக்கப்பட்டுள்ள பின்வரும் வினாக்கள் கண்பார்வைக் குறைபாடு உடையோருக்கு மட்டுமானவை யாகும்.

- (29.1) உலகின் மிக உயரமான மலை உச்சியை (கிகரம்) யும் இந்தியாவில் இமய மலையின் மிக உயரமான மலை உச்சியையும் பெயரிட்டுக் குறிப்பிடுக.
- (29.2) ஆந்திர மாநிலத்தில் டெல்லா பகுதிகளை உருவாக்கும் இரண்டு பெரிய ஆறுகளின் பெயர்களைக் குறிப்பிடுக.
- (29.3) ஏதேனும் இரண்டு தோட்டப் பயிர்களின் பெயர்களைக் குறிப்பிடுக.
- (29.4) மேற்கு வங்காளத்தில் அமைந்துள்ள இரண்டு பெரிய துறைமுகங்களின் பெயர்களைக் குறிப்பிடுக.



Roll No.

--	--	--	--	--	--	--	--	--	--	--	--

Q. No. 28

### Outline Map of India (Political)

